

# Cahier d'entraînement en physique-chimie

MPI/MPI\*

Page web du *Cahier d'entraînement*,  
dernières versions



Ce cahier d'entraînement a été écrit collectivement par des professeurs en classes préparatoires scientifiques.

### **Coordination**

Colas BARDAVID et Catherine LAVAINNE

### **Équipe des participants**

Steve ARNEFAUX  
Stéphane BARGOT  
Chloé BARRAUD  
Fabien BAUDRIBOS  
Laurent BEAU  
Julien BELLIER  
Lionel BELUZE  
Marc BEUTIER  
Ariane BEYRATH  
Allan BILDÉ  
Guillaume BLOT-TEYSSÉDRE  
Olivier BOINOT-TURPAULT  
Cécile BONNAND  
Alexis BRÈS

Frédéric BRUNEAU  
Geoffroy BURGUNDER  
Erwan CAPITAINE  
Vincent COMBETTE  
Guillaume DAVIEAU  
Jean-Marie DELORME  
Frédéric DESFORGES  
Alexis DROUARD  
Hervé GEORGE  
Florence GOUTVERG  
Mathieu HEBDING  
Lucas HENRY  
Didier HÉRISSON  
Fanny JOSPITRE

Joris LALEQUE  
Catherine LAVAINNE  
Alain LOMBARD  
Louis PÉAULT  
Gwenaël RAILLET  
Mathieu RIGAUT  
Alain ROBICHON  
Renaud RUAMPS  
Pierre-Simon SAULUE  
Théo TASSIN  
Étienne THIBIERGE  
Delphine VIANDIER  
Anthony YIP

Le pictogramme de l'horloge a été créé par Ralf SCHMITZER (The Noun Project).

Le pictogramme du bulldozer a été créé par Ayub IRAWAN (The Noun Project).

Le pictogramme de la calculatrice a été créé par Sita RAISITA (The Noun Project).

L'illustration de la couverture a été réalisée par Regolo BIZZI.

# Sommaire

*Mode d'emploi du cahier d'entraînement* ..... v

---

## Généralités

fiche 1. Opérateurs vectoriels ..... 3

---

## Mécanique

fiche 2. Changements de référentiel ..... 13

fiche 3. Loi du frottement solide ..... 23

---

## Électromagnétisme en régime permanent

fiche 4. Électrostatique ..... 31

fiche 5. Magnétostatique ..... 44

---

## Électromagnétisme en régime variable

fiche 6. Équations de Maxwell ..... 55

fiche 7. Induction ..... 67

fiche 8. Ondes électromagnétiques I ..... 82

fiche 9. Ondes électromagnétiques II ..... 93

---

## Optique

fiche 10. Modèle scalaire de la lumière ..... 101

fiche 11. Interférences à deux ondes ..... 109

---

## Thermodynamique

fiche 12. Outils mathématiques pour la diffusion ..... 121

fiche 13. Diffusion thermique ..... 125

fiche 14. Transferts thermiques ..... 142

fiche 15. Tables et diagrammes thermodynamiques ..... 151

---

---

## Électronique

- fiche 16. Signaux ..... 164
- fiche 17. Circuits logiques ..... 176

---

## Physique moderne

- fiche 18. Physique quantique ..... 183

---

## Électrochimie

- fiche 19. Courbes intensité-potentiel ..... 192
- fiche 20. Phénomène de corrosion ..... 199

# Mode d'emploi

## Qu'est-ce que le cahier d'entraînement ?

Le *cahier d'entraînement en physique-chimie* est un outil destiné à renforcer l'acquisition de **réflexes utiles en physique et en chimie**.

*Il ne se substitue en aucun cas aux TD donnés par votre professeur* ; travailler avec ce cahier d'entraînement vous permettra en revanche d'aborder avec plus d'aisance les exercices de physique-chimie.

Pour donner une analogie, on pourrait dire que ce cahier d'entraînement est comparable aux **exercices de musculation** d'un athlète : ils sont nécessaires pour mieux réussir le jour J lors de la compétition, mais ils ne sont pas suffisants : un coureur de sprint fait de la musculation, mais il fait également tout un tas d'autres exercices.

Ce cahier a été conçu par une large équipe de professeurs en classes préparatoires, tous soucieux de vous apporter l'aide et les outils pour réussir.

## Comment est-il organisé ?

Le cahier est organisé en *fiches d'entraînement*, chacune correspondant à un thème issu de votre programme de deuxième année.

Chaque fiche est composée d'une suite de petits exercices, appelés *entraînements*, dont le temps de résolution estimé est indiqué par une (🕒🕒🕒🕒), deux (🕒🕒🕒), trois (🕒🕒🕒) ou quatre (🕒🕒🕒🕒) horloges.

# Les pictogrammes

Certains entraînements sont accompagnés d'un pictogramme.



Ces entraînements sont **basiques et transversaux**.

Les compétences qu'ils mettent en jeu ne sont pas forcément spécifiques au thème de la fiche et peuvent être transversales.

*Ce pictogramme a été choisi car le bulldozer permet de construire les fondations, et que c'est sur des fondations solides que l'on bâtit les plus beaux édifices. Ces entraînements sont donc le gage pour vous d'acquérir un socle solide de savoir-faire.*



Ces entraînements vous entraînent au **calcul à la main**.

Dans ces entraînements, les calculs doivent être faits **sans calculatrice**.

## Comment utiliser ce cahier ?

Le cahier d'entraînement ne doit pas remplacer vos TD. Il s'agit d'un outil à utiliser en complément de votre travail « normal » en physique (apprentissage du cours, recherche de TD, recherche des DM).

### Un travail personnalisé.

Le cahier d'entraînement est prévu pour être **utilisé en autonomie**.

Choisissez vos entraînements en fonction des difficultés que vous rencontrez, des chapitres que vous étudiez, ou bien en fonction des conseils de votre professeur.

Ne cherchez pas à faire linéairement ce cahier : les fiches ne sont pas à faire dans l'ordre, mais en fonction des points que vous souhaitez travailler.

### Un travail régulier.

Pratiquez l'entraînement à un rythme régulier : **une dizaine de minutes par jour** par exemple. Privilégiez un travail régulier sur le long terme plutôt qu'un objectif du type « faire dix fiches par jour pendant les vacances ».

### Un travail efficace.

Utilisez les réponses et les corrigés de façon appropriée : il est important de chercher suffisamment par vous-même avant d'aller les regarder. Il faut vraiment **persévérer** dans votre raisonnement et vos calculs avant d'aller voir le corrigé si vous voulez que ces entraînements soient efficaces.

## Une erreur ? Une remarque ?

Si jamais vous voyez une erreur d'énoncé ou de corrigé, ou bien si vous avez une remarque à faire, n'hésitez pas à écrire à l'adresse [cahier.entrainement@gmail.com](mailto:cahier.entrainement@gmail.com).

Si vous pensez avoir décelé une erreur, merci de donner aussi l'identifiant de la fiche, écrit en gris en haut à gauche de chaque fiche.

# Énoncés





# Opérateurs vectoriels

## Prérequis

Notation avec et sans le symbole nabla  $\vec{\nabla}$  des opérateurs :

- gradient :  $\overrightarrow{\text{grad}}(f) = \vec{\nabla}f$
- divergence :  $\text{div}(\vec{A}) = \vec{\nabla} \cdot \vec{A}$
- rotationnel :  $\overrightarrow{\text{rot}}(f) = \vec{\nabla} \wedge \vec{A}$

Expressions de ces opérateurs vectoriels en coordonnées cartésiennes.

Dans toute cette fiche, les grandeurs  $a$ ,  $b$  et  $c$  sont des constantes ayant la dimension d'une longueur.

## Sur l'opérateur gradient

### Entraînement 1.1 — Quelle écriture pour le gradient ?



Le gradient est un opérateur vectoriel qui s'applique à des fonctions scalaires. Pour un système de coordonnées cartésiennes  $(x, y, z)$  décrivant l'espace, la définition du gradient d'une fonction  $f(x, y, z)$  est :

$$\overrightarrow{\text{grad}}(f) = \vec{\nabla}(f) = \begin{pmatrix} \frac{\partial f}{\partial x} \\ \frac{\partial f}{\partial y} \\ \frac{\partial f}{\partial z} \end{pmatrix} = \frac{\partial f}{\partial x} \vec{e}_x + \frac{\partial f}{\partial y} \vec{e}_y + \frac{\partial f}{\partial z} \vec{e}_z$$

On considère la fonction  $V(x, y, z) = xyz$ . Quelle est la bonne expression du gradient de  $V$  ?

Ⓐ  $\nabla(V) = zy \vec{e}_x + zx \vec{e}_y + yx \vec{e}_z$

Ⓒ  $\overrightarrow{\text{grad}}(V) = zy \vec{e}_y + zx \vec{e}_x + yx \vec{e}_z$

Ⓑ  $\text{grad}(\vec{V}) = \begin{pmatrix} yz \\ xz \\ yz \end{pmatrix}$

Ⓓ  $\vec{\nabla}(V) = \begin{pmatrix} yz \\ xz \\ xy \end{pmatrix}$

.....



### Entraînement 1.2 — Calcul de gradients en coordonnées cartésiennes.



On munit l'espace d'un repère cartésien dont le système de coordonnées est noté  $(x, y, z)$ .

On rappelle l'expression de l'opérateur gradient dans ce système de coordonnées :

$$\overrightarrow{\text{grad}}(f(x, y, z)) = \frac{\partial f}{\partial x} \vec{e}_x + \frac{\partial f}{\partial y} \vec{e}_y + \frac{\partial f}{\partial z} \vec{e}_z.$$

Développer les expressions suivantes :

a)  $\overrightarrow{\text{grad}}\left(xy + yz + zx + \frac{xyz}{a}\right) \dots\dots\dots$

b)  $\overrightarrow{\text{grad}}(3x^2 + 2a(y - z) + b^2) \dots\dots\dots$

- c)  $\overrightarrow{\text{grad}}(x^2y + y^2z + z^2x + a^3)$  .....
- d)  $\overrightarrow{\text{grad}}(2xy + 8a^2e^{z/(2b)} - 6c^2)$  .....
- e)  $\overrightarrow{\text{grad}}\left(8x^2y + \frac{6a^4}{y} - 5b^2z\right)$  .....



**Entraînement 1.3 — Calcul de gradients en coordonnées cylindriques.**



On munit l'espace d'un repère cylindrique dont le système de coordonnées est noté  $(r, \theta, z)$ .

On donne l'expression de l'opérateur gradient dans ce système de coordonnées :

$$\overrightarrow{\text{grad}}(f(r, \theta, z)) = \frac{\partial f}{\partial r} \vec{e}_r + \frac{1}{r} \frac{\partial f}{\partial \theta} \vec{e}_\theta + \frac{\partial f}{\partial z} \vec{e}_z.$$

Développer les expressions suivantes :

- a)  $\overrightarrow{\text{grad}}\left(3z - \frac{r^2}{a} - 2r\theta\right)$  .....
- b)  $\overrightarrow{\text{grad}}\left(\frac{a^2}{r^2} e^{5\theta}\right)$  .....
- c)  $\overrightarrow{\text{grad}}(\sqrt{r^2 - a^2})$  .....
- d)  $\overrightarrow{\text{grad}}\left(7\theta\left(\frac{r}{a}\right)^4 + \ln(z/b)\right)$  .....
- e)  $\overrightarrow{\text{grad}}\left(\frac{z}{r} \sin(\theta)\right)$  .....

**Entraînement 1.4 — La bonne formule.**



On introduit deux systèmes de coordonnées pour décrire un plan : des coordonnées cartésiennes  $(x_1, x_2)$  et des coordonnées polaires  $(\rho, \alpha)$ .

Parmi les formules suivantes de gradient à deux dimensions d'une fonction scalaire  $g$  du plan, identifier la seule écriture valable :

(a)  $\overrightarrow{\text{grad}}(g(x_1, x_2)) = \frac{\partial g}{\partial x_1} \vec{e}_{x_1} + \frac{\partial g}{\partial x_2} \vec{e}_{x_2}$

(c)  $\overrightarrow{\text{grad}}(g(r, \alpha)) = \frac{\partial g}{\partial \rho} \vec{e}_\rho + \frac{1}{r} \frac{\partial g}{\partial \alpha} \vec{e}_\alpha$

(b)  $\vec{\nabla}g(x_1, x_2) = \frac{\partial g}{\partial x_2} \vec{e}_{x_1} + \frac{\partial g}{\partial x_1} \vec{e}_{x_2}$

(d)  $\vec{\nabla} \cdot g(r, \rho) = \frac{\partial g}{\partial \rho} \vec{e}_\rho + \frac{1}{\rho} \frac{\partial g}{\partial \alpha} \vec{e}_\alpha$

.....

 **Entraînement 1.5 — Valeurs et projections d'un gradient.**



On munit l'espace d'un repère cartésien dont le système de coordonnées est noté  $(x, y, z)$ .

On donne l'expression de l'opérateur gradient dans ce système de coordonnées :

$$\vec{\nabla}(f(x, y, z)) = \frac{\partial f}{\partial x} \vec{e}_x + \frac{\partial f}{\partial y} \vec{e}_y + \frac{\partial f}{\partial z} \vec{e}_z.$$

On considère la fonction  $g(x, y, z) = (x - 2)^2 + (y + 1)^2 + z^2 - 1$ , on note  $M(x, y, z)$  un point quelconque de l'espace et  $A$  le point de coordonnées  $(-1, 1, 2)$ .

a) Calculer  $g(A)$  .....

b) La quantité  $2z$  correspond à :

(a)  $\vec{\text{grad}}(g) \cdot \vec{e}_x$

(c)  $\vec{\text{grad}}(g) \cdot \vec{e}_z$

(b)  $\vec{\text{grad}}(g) \cdot \vec{e}_y$

.....

c) La quantité  $2y + 2$  correspond à :

(a)  $\vec{\text{grad}}(g) \cdot \vec{e}_x$

(c)  $\vec{\text{grad}}(g) \cdot \vec{e}_z$

(b)  $\vec{\text{grad}}(g) \cdot \vec{e}_y$

.....

d) La quantité  $2x - 4$  correspond à :

(a)  $\vec{\text{grad}}(g) \cdot \vec{e}_x$

(c)  $\vec{\text{grad}}(g) \cdot \vec{e}_z$

(b)  $\vec{\text{grad}}(g) \cdot \vec{e}_y$

.....

e) La quantité  $\vec{\nabla}g(M)$  correspond au vecteur :


(a)  $\begin{pmatrix} 2(x - 2) \\ 2(y - 1) \\ 2z \end{pmatrix}$

(b)  $\begin{pmatrix} 2(y - 1) \\ 2(x + 2) \\ 2z \end{pmatrix}$

(c)  $\begin{pmatrix} 2(x - 2) \\ 2(y + 1) \\ 2z \end{pmatrix}$

.....

f) Calculer  $\|\vec{\nabla}g(A)\|$  .....

 **Entraînement 1.6 — Enquête sur une fonction.**



On considère une fonction  $f(x, y, z)$  inconnue telle que  $\vec{\text{grad}}(f) = 2xy\vec{e}_x + x^2\vec{e}_y + a^2\vec{e}_z$ .

a) Quelle est l'unique relation valable ?

(a)  $\frac{\partial f(x, y, z)}{\partial x} = 2xy$

(b)  $\frac{\partial f(x, y, z)}{\partial z} = x^2$

(c)  $\frac{\partial f(x, y, z)}{\partial x} = y$

.....

b) Quelle primitive est solution de la réponse précédente ?

(a)  $f(x, y, z) = xy^2 + g(x, y)$

(c)  $f(x, y, z) = x^2y + yx^2$

(b)  $f(x, y, z) = x^2y + g(y, z)$

.....

c) Que vérifie la dérivée partielle par rapport à  $y$  de la réponse précédente ?

(a)  $\frac{\partial g}{\partial y} = 0$

(b)  $\frac{\partial g}{\partial y} = x^2$

(c)  $\frac{\partial g}{\partial y} = 1$

.....

d) En s'appuyant sur les réponses précédentes, quelle est la bonne expression de  $g$ ?

- (a)  $g = a^2y + \text{Cste}$       (b)  $g = a^2z + \text{Cste}$       (c)  $g = a^2 + \text{Cste}$

e) Quelle est l'expression de la fonction  $f(x, y, z)$  telle que  $f(0, 0, 0) = 0$ ?

- (a)  $f = x^2y + a^2z$       (b)  $f = y^2z + a^2x$       (c)  $f = x^2z + a^2y$

## Sur l'opérateur divergence

### Entraînement 1.7 — Calcul de divergences en coordonnées cartésiennes.



On munit l'espace d'un repère cartésien dont le système de coordonnées est noté  $(x, y, z)$ .

On donne l'expression de l'opérateur divergence dans ce système de coordonnées :

$$\text{div}(\vec{A}) = \frac{\partial A_x}{\partial x} + \frac{\partial A_y}{\partial y} + \frac{\partial A_z}{\partial z}.$$

Développer les expressions suivantes :

a)  $\text{div}(3x^2\vec{e}_x + 2ay\vec{e}_y - 2bz\vec{e}_z)$  .....

b)  $\text{div}(2xy\vec{e}_y + 8a^2e^{\frac{x}{2b}}\vec{e}_z - 6b^2\vec{e}_x)$  .....

c)  $\text{div}\left(8x^2y\vec{e}_x + \frac{6x^4}{y}\vec{e}_y\right)$  .....

d)  $\text{div}(x\vec{e}_z + z\vec{e}_x)$  .....

e)  $\text{div}(x^2y\vec{e}_x - yx^2(\vec{e}_y - \vec{e}_z))$  .....

### Entraînement 1.8 — Calcul de divergences en coordonnées cylindriques.



On munit l'espace d'un repère cylindrique dont le système de coordonnées est noté  $(r, \theta, z)$ .

On donne l'expression de l'opérateur divergence dans ce système de coordonnées :

$$\text{div}(\vec{A}) = \frac{1}{r} \frac{\partial(rA_r)}{\partial r} + \frac{1}{r} \frac{\partial A_\theta}{\partial \theta} + \frac{\partial A_z}{\partial z}.$$

Développer les expressions suivantes :

a)  $\text{div}\left(-\frac{r^2}{a}\vec{e}_r - 2r\theta\vec{e}_\theta + 3z\vec{e}_z\right)$  .....

b)  $\text{div}(r\vec{e}_\theta)$  .....

**Entraînement 1.9 — Bataille de divergences.**



Quel est le champ dont la divergence au point A(-1, -1, 1) est maximale ?

- (a)  $x^2\vec{e}_x + y^2\vec{e}_y + z^2\vec{e}_z$                       (c)  $z^2\vec{e}_x + x^2\vec{e}_y + y^2\vec{e}_z$   
 (b)  $y^2\vec{e}_x + x^2\vec{e}_y + z^2\vec{e}_z$                       (d)  $y^2\vec{e}_x + x^2\vec{e}_z + z^2\vec{e}_y$

**Entraînement 1.10 — Choix du système de coordonnées.**



On munit l'espace d'un système de coordonnées cartésiennes  $(x, y, z)$  et d'un système de coordonnées sphériques  $(r, \theta, \varphi)$ . On s'intéresse au champ vectoriel  $\vec{OM} = x\vec{e}_x + y\vec{e}_y + z\vec{e}_z = r\vec{e}_r$  et on donne l'expression de l'opérateur divergence en coordonnées sphériques :

$$\text{div}(\vec{A}) = \frac{1}{r^2} \frac{\partial r^2 A_r}{\partial r} + \frac{1}{r \sin \theta} \frac{\partial (\sin \theta A_\theta)}{\partial \theta} + \frac{1}{r \sin \theta} \frac{\partial A_\varphi}{\partial \varphi}.$$

Développer les expressions suivantes :

- a)  $\text{div}(x\vec{e}_x + y\vec{e}_y + z\vec{e}_z)$  .....       b)  $\text{div}(r\vec{e}_r)$  .....

On munit l'espace de dimension 2 d'un système de coordonnées cylindro-polaires  $(r, \theta)$ .

On s'intéresse au champ vectoriel  $\vec{OM} = x\vec{e}_x + y\vec{e}_y = r\vec{e}_r$ .

c) La divergence de ce champ en tout point vaut :

- (a) 1                      (b) 2                      (c) 3                      (d) 4

## Sur l'opérateur rotationnel

**Entraînement 1.11 — Calcul de rotationnels en coordonnées cartésiennes.**



On munit l'espace d'un repère cartésien dont le système de coordonnées est noté  $(x, y, z)$ .

On donne l'expression de l'opérateur rotationnel dans ce système de coordonnées :

$$\vec{\text{rot}}(\vec{A}) = \left( \frac{\partial A_z}{\partial y} - \frac{\partial A_y}{\partial z} \right) \vec{e}_x + \left( \frac{\partial A_x}{\partial z} - \frac{\partial A_z}{\partial x} \right) \vec{e}_y + \left( \frac{\partial A_y}{\partial x} - \frac{\partial A_x}{\partial y} \right) \vec{e}_z.$$

Développer les expressions suivantes :

- a)  $\vec{\text{rot}}(3x^2\vec{e}_x + 2by\vec{e}_y - 2cz\vec{e}_z)$  .....
- b)  $\vec{\text{rot}}(2xy\vec{e}_x + 8c^2e^{\frac{z}{2c}}\vec{e}_y - 6c^2\vec{e}_z)$  .....
- c)  $\vec{\text{rot}}\left(8x^2y\vec{e}_x + \frac{6x^4}{y}\vec{e}_y\right)$  .....
- d)  $\vec{\text{rot}}(-x\vec{e}_z + z\vec{e}_x)$  .....
- e)  $\vec{\text{rot}}(x^2y\vec{e}_x - yx^2(\vec{e}_y - \vec{e}_z))$  .....



### Entraînement 1.12 — Calcul de rotationnels en coordonnées cylindriques.



On munit l'espace d'un repère cylindrique dont le système de coordonnées est noté  $(r, \theta, z)$ .

On donne l'expression de l'opérateur divergence dans ce système de coordonnées :

$$\text{rot}(\vec{A}) = \left( \frac{1}{r} \frac{\partial A_z}{\partial \theta} - \frac{\partial A_\theta}{\partial z} \right) \vec{e}_r + \left( \frac{\partial A_r}{\partial z} - \frac{\partial A_z}{\partial r} \right) \vec{e}_\theta + \left( \frac{1}{r} \frac{\partial r A_\theta}{\partial r} - \frac{\partial A_r}{\partial \theta} \right) \vec{e}_z.$$

Développer les expressions suivantes :

a)  $\text{rot}\left(-\frac{r^2}{a}\vec{e}_r - 2r\theta\vec{e}_\theta + 3z\vec{e}_z\right)$  .....

b)  $\text{rot}(r\vec{e}_\theta)$  .....

## Sur la représentation graphique



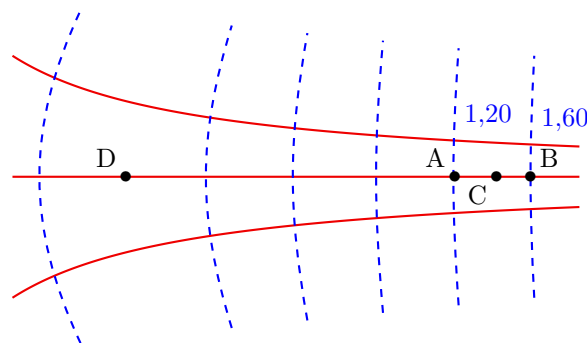
### Entraînement 1.13 — Exploiter une carte de champ.



On considère un champ  $\vec{v}(M)$  dérivant d'un gradient de potentiel  $\Phi$ , c'est-à-dire tel qu'en tout point M :

$$\vec{v}(M) = \overrightarrow{\text{grad}} \Phi(M)$$

La figure dessous représente les lignes de champ (en traits pleins) et les équipotentielles (en tirets). Le système est invariant par translation orthogonalement au plan de la figure. Les valeurs du potentiel  $\Phi(M)$  sont données pour chaque équipotentielle en UA (unité arbitraire).



On admet que le champ est tel que  $\text{div } \vec{v} = \vec{0}$ , c'est-à-dire à flux conservatif. Autrement dit, le long d'un tube de champ de section  $S$  la quantité  $vS$  est conservée.

a) Par rapport aux équipotentielles, les lignes de champ sont orientées :

(a) parallèlement

(b) orthogonalement

(c) aléatoirement

.....

b) Estimer graphiquement  $v(C)$  en UA/m sachant que  $AB \approx 50 \text{ cm}$  .....

c) Le vecteur  $\vec{v}(C)$  est orienté dans le sens du vecteur :

(a)  $\overrightarrow{AB}$

(b)  $\overrightarrow{BA}$

.....

d) Estimer graphiquement  $\frac{v(C)}{v(D)}$  en calculant un rapport de longueurs .....

## Sur les opérateurs Laplaciens



### Entraînement 1.14 — Opérateur Laplacien scalaire en coordonnées cartésiennes.



On munit l'espace d'un repère cartésien dont le système de coordonnées est noté  $(x, y, z)$ .

On donne l'expression de l'opérateur laplacien (scalaire) dans ce système de coordonnées :

$$\Delta(f(x, y, z)) = \frac{\partial^2 f}{\partial x^2} + \frac{\partial^2 f}{\partial y^2} + \frac{\partial^2 f}{\partial z^2}.$$

Développer les expressions suivantes :

a)  $\Delta\left(\frac{x^2 y}{a} + bz + c^2\right)$  .....

b)  $\Delta(y^2 - 5az)$  .....

c)  $\Delta\left(b^2 \ln\left(\frac{z}{a}\right) + 3x^2\right)$  .....



### Entraînement 1.15 — Opérateur Laplacien vectoriel en coordonnées cartésiennes.



On munit l'espace d'un repère cartésien dont le système de coordonnées est noté  $(x, y, z)$ .

On donne l'expression de l'opérateur laplacien (vectoriel) dans ce système de coordonnées :

$$\Delta(\vec{A}(x, y, z)) = \Delta A_x \vec{e}_x + \Delta A_y \vec{e}_y + \Delta A_z \vec{e}_z$$

On dispose d'un vecteur  $\vec{A}$  dont les coordonnées cartésiennes sont les suivantes :

$$\begin{pmatrix} \frac{x^2 y}{a} + bz + c^2 \\ y^2 - 5az \\ b^2 \ln\left(\frac{z}{a}\right) + 3x^2 \end{pmatrix}$$


Développer  $\Delta\vec{A}$  .....

# Bilan sur les opérateurs



## Entraînement 1.16 — scalaire ou vecteur ?



Les différents opérateurs rencontrés peuvent être des opérateurs :

- (a) scalaires s'appliquant à des scalaires                      (c) vectoriels s'appliquant à des scalaires  
 (b) scalaires s'appliquant à des vecteurs                      (d) vectoriels s'appliquant à des vecteurs

- a) Quel cas correspond à l'opérateur « gradient » ? .....
- b) Quel cas correspond à l'opérateur « divergence » ? .....
- c) Quel cas correspond à l'opérateur « rotationnel » ? .....
- d) Quel cas correspond à l'opérateur « laplacien » appliqué à un champ scalaire ? .....
- e) Quel cas correspond à l'opérateur « laplacien » appliqué à un champ vectoriel ? .....

## Autres entraînements



## Entraînement 1.17 — Calcul de gradients en coordonnées sphériques.



On munit l'espace d'un repère cylindrique dont le système de coordonnées est noté  $(r, \theta, \varphi)$ .

On donne l'expression de l'opérateur gradient dans ce système de coordonnées :

$$\vec{\text{grad}}(f(r, \theta, \varphi)) = \frac{\partial f}{\partial r} \vec{e}_r + \frac{1}{r} \frac{\partial f}{\partial \theta} \vec{e}_\theta + \frac{1}{r \sin \theta} \frac{\partial f}{\partial \varphi} \vec{e}_\varphi.$$

Développer les expressions suivantes :

- a)  $\vec{\text{grad}}\left(r + 2a\theta + \frac{6b}{\varphi}\right)$  .....
- b)  $\vec{\text{grad}}((r \sin(\theta - \varphi))^3)$  .....
- c)  $\vec{\text{grad}}(r^2 \sqrt{\varphi} \sin \theta)$  .....
- d)  $\vec{\text{grad}}(\tan(\theta))$  .....



**Entraînement 1.18 — Calcul de divergences en coordonnées sphériques.**

On munit l'espace d'un repère sphérique dont le système de coordonnées est noté  $(r, \theta, \varphi)$ .

On donne l'expression de l'opérateur divergence dans ce système de coordonnées :

$$\operatorname{div}(\vec{A}) = \frac{1}{r^2} \frac{\partial(r^2 A_r)}{\partial r} + \frac{1}{r \sin(\theta)} \frac{\partial(\sin(\theta) A_\theta)}{\partial \theta} + \frac{1}{r \sin(\theta)} \frac{\partial A_\varphi}{\partial \varphi}.$$

Développer les expressions suivantes :

a)  $\operatorname{div}\left(r\vec{e}_r + 2a \sin \theta \vec{e}_\theta + \frac{6a}{\varphi} \vec{e}_\varphi\right) \dots\dots$

b)  $\operatorname{div}(r^2 \sin(\theta) \sqrt{\varphi} (\vec{e}_r + \vec{e}_\theta + \vec{e}_\varphi)) \dots\dots$

c)  $\operatorname{div}(r\vec{e}_\theta) \dots\dots\dots$

**Entraînement 1.19 — Calcul de rotationnels en coordonnées sphériques.**

On munit l'espace d'un repère sphérique dont le système de coordonnées est noté  $(r, \theta, \varphi)$ .

On donne l'expression de l'opérateur rotationnel dans ce système de coordonnées :

$$\vec{\operatorname{rot}}(\vec{A}) = \frac{1}{r \sin(\theta)} \left( \frac{\partial(\sin(\theta) A_\varphi)}{\partial \theta} - \frac{\partial A_\theta}{\partial \varphi} \right) \vec{e}_r + \left( \frac{1}{r \sin(\theta)} \frac{\partial A_r}{\partial \varphi} - \frac{1}{r} \frac{\partial(r A_\varphi)}{\partial r} \right) \vec{e}_\theta + \frac{1}{r} \left( \frac{\partial(r A_\theta)}{\partial r} - \frac{\partial A_r}{\partial \theta} \right) \vec{e}_\varphi.$$

Développer les expressions suivantes :

a)  $\vec{\operatorname{rot}}\left(r\vec{e}_r + 2a\theta\vec{e}_\theta + \frac{6b}{\varphi}\vec{e}_\varphi\right) \dots\dots\dots$

b)  $\vec{\operatorname{rot}}(r^2 \sin(\theta) \sqrt{\varphi} \vec{e}_r) \dots\dots\dots$

c)  $\vec{\operatorname{rot}}(r\vec{e}_\theta) \dots\dots\dots$

Réponses mélangées

$$\begin{array}{llll}
 -4ce^{\frac{z}{c}}\vec{e}_x - 2x\vec{e}_z & \textcircled{a} & \left(-\frac{2r}{a} - 2\theta\right)\vec{e}_r - 2\vec{e}_\theta + 3\vec{e}_z & \textcircled{b} \quad \textcircled{a} \\
 -\frac{2a^2}{r^3}e^{5\theta}\vec{e}_r + \frac{5a^2}{r^3}e^{5\theta}\vec{e}_\theta & \frac{2y}{a} & 4r\sin\theta\sqrt{\varphi} + 2r\cos\theta\sqrt{\varphi} + \frac{r}{2\sqrt{\varphi}} & 2x + 4\frac{a^2}{b}e^{\frac{z}{b}} \\
 \vec{e}_r + \frac{2a}{r}\vec{e}_\theta + \frac{-6b}{r\sin\theta\varphi^2}\vec{e}_\varphi & 0,80 \text{ UA/m} & \frac{6b}{r\varphi\tan\theta}\vec{e}_r - \frac{6b}{r\varphi}\vec{e}_\theta + \frac{2a\theta}{r}\vec{e}_\varphi & \\
 28\frac{\theta r^3}{a^4}\vec{e}_r + 7\frac{r^3}{a^4}\vec{e}_\theta + \frac{1}{z}\vec{e}_z & \textcircled{a} & \left(z+y+\frac{yz}{a}\right)\vec{e}_x + \left(x+z+\frac{xz}{a}\right)\vec{e}_y & \vec{0} \quad 2\vec{e}_\varphi \\
 & & + \left(x+y+\frac{yx}{a}\right)\vec{e}_z & \\
 -4\theta\vec{e}_z & 3r^2 \begin{pmatrix} \sin^3(\theta-\varphi) \\ \cos(\theta-\varphi)\sin^2(\theta-\varphi) \\ 1 \\ -\frac{1}{\sin\theta}\cos(\theta-\varphi)\sin^2(\theta-\varphi) \end{pmatrix} & 2 \quad \textcircled{b} \quad \textcircled{c} & -3\frac{r}{a} + 1 \\
 \textcircled{b} \quad \textcircled{c} & 6x\vec{e}_x + 2a\vec{e}_y - 2a\vec{e}_z & 0 & r\sqrt{\varphi} \begin{pmatrix} 2\sin\theta \\ \cos\theta \\ 1 \\ \frac{1}{2\varphi} \end{pmatrix} \quad \textcircled{b} \quad \frac{8x^2}{y}(3x-y)\vec{e}_z \\
 \begin{pmatrix} \frac{2y}{2} \\ \frac{a}{2} \\ 6 - \frac{b^2}{z^2} \end{pmatrix} & \textcircled{b} \quad \textcircled{a} & -\frac{z\sin\theta}{r^2}\vec{e}_r + \frac{z\cos\theta}{r^2}\vec{e}_\theta + \frac{\sin\theta}{r}\vec{e}_z & \textcircled{a} \quad 0 \\
 2\vec{e}_y & \textcircled{b} & 6 - \frac{b^2}{z^2} & \textcircled{a} \quad 1/\tan(\theta) & \frac{r}{\sqrt{r^2-a^2}}\vec{e}_r & 6x+2a-2b & 3 \\
 2\vec{e}_z & x^2\vec{e}_x - 2xy(\vec{e}_y + \vec{e}_z) - x^2\vec{e}_z & 2 & 16xy\vec{e}_x + \left(8x^2 - \frac{6a^4}{y^2}\right)\vec{e}_y - 5b^2\vec{e}_z \\
 & (2xy+z^2)\vec{e}_x + (2yz+x^2)\vec{e}_y & \textcircled{d} & 3 & 2\sqrt{17} & \textcircled{d} & x(2y-x) \\
 & + (2xz+y^2)\vec{e}_z & & & & & \\
 \textcircled{d} & \textcircled{b} & \textcircled{c} & \frac{r}{2\sqrt{\varphi}}\vec{e}_\theta - r\sqrt{\varphi}\cos(\theta)\vec{e}_\varphi & 3 + \frac{4a\cos\theta}{r} - \frac{6}{\varphi^2}\frac{a}{\sin\theta}\frac{1}{r} \\
 \frac{1}{r\cos^2\theta}\vec{e}_\theta & \textcircled{a} & 2y\vec{e}_x + 2x\vec{e}_y + 4\frac{a^2}{b}e^{z/(2b)}\vec{e}_z & 16 & 16xy - \frac{6x^4}{y^2}
 \end{array}$$

► Réponses et corrigés page 210

## Changements de référentiel

### Prérequis

Principe fondamental. Mouvement relatif de référentiels. Forces d'inertie.

### Constantes utiles

→ Accélération de la pesanteur :  $g = 9,81 \text{ m/s}^2$

## Avant toute chose

### 🖨️ Entraînement 2.1 — Trajectoires et référentiels.

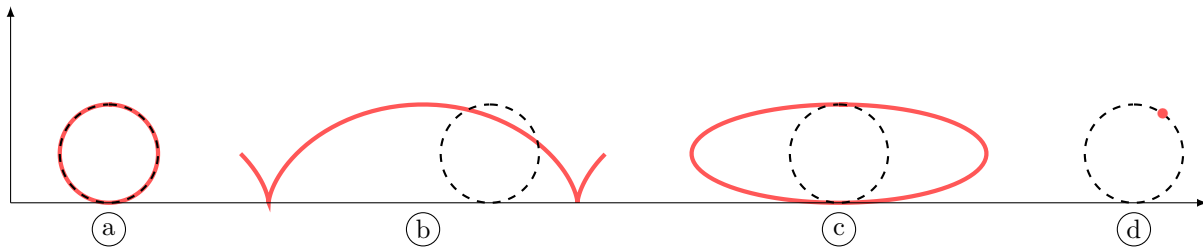


On s'intéresse ici au mouvement de la valve V d'une roue de vélo. En changeant de référentiel, la trajectoire de ce point peut être perçue de manière différente.

On définit trois référentiels :

- le référentiel  $\mathcal{R}_1$  lié à la Terre,
- le référentiel  $\mathcal{R}_2$  lié au cadre du vélo,
- le référentiel  $\mathcal{R}_3$  lié à la roue du vélo.

Voici différentes trajectoires pour le point V.



Parmi les quatre trajectoires présentées ci-dessus, quelle est celle qui peut correspondre à un mouvement décrit dans :

a) le référentiel  $\mathcal{R}_1$  ? .....

b) le référentiel  $\mathcal{R}_2$  ? .....

c) le référentiel  $\mathcal{R}_3$  ? .....

**Entraînement 2.2 — Référentiel galiléen... ou pas (I) ?**



Un référentiel galiléen est un référentiel dans lequel tout solide ne subissant aucune force extérieure est immobile ou animé d'un mouvement rectiligne uniforme. Tout référentiel en translation rectiligne uniforme par rapport à un référentiel galiléen est lui-même galiléen.

On considère un référentiel  $\mathcal{R}_0(O, \vec{e}_x, \vec{e}_y, \vec{e}_z)$  galiléen ainsi que les trois référentiels suivants :

- $\mathcal{R}_1(O', \vec{e}_x, \vec{e}_y, \vec{e}_z)$ , en translation rectiligne uniforme par rapport à  $\mathcal{R}_0$ .
- $\mathcal{R}_2(O, \vec{e}_r, \vec{e}_\theta, \vec{e}_z)$ , animé d'un mouvement de rotation uniforme par rapport à  $\mathcal{R}_0$ .
- $\mathcal{R}_3(A, \vec{e}_x, \vec{e}_y, \vec{e}_z)$ , en translation non uniforme par rapport à  $\mathcal{R}_0$ .

a)  $\mathcal{R}_1$  est un référentiel galiléen : vrai ou faux ? .....

b)  $\mathcal{R}_2$  est un référentiel galiléen : vrai ou faux ? .....

c)  $\mathcal{R}_3$  est un référentiel galiléen : vrai ou faux ? .....

**Entraînement 2.3 — Référentiel galiléen... ou pas (II) ?**



Un référentiel galiléen est un référentiel dans lequel tout solide ne subissant aucune force extérieure est animé d'un mouvement rectiligne uniforme. Tout référentiel en translation rectiligne uniforme par rapport à un référentiel galiléen est lui-même galiléen.

Dans le référentiel terrestre, supposé galiléen, on s'intéresse aux mouvements d'un train et de l'un des passagers à bord. On note  $\mathcal{R}_t$  le référentiel lié au train et  $\mathcal{R}_p$  le référentiel lié au passager à bord du train.

Dans chacune des situations proposées, indiquez quel(s) est (sont) le(s) référentiel(s) galiléen(s) parmi les options suivantes :

- (a)  $\mathcal{R}_t$  et  $\mathcal{R}_p$
- (b) ni  $\mathcal{R}_t$  ni  $\mathcal{R}_p$
- (c) uniquement  $\mathcal{R}_t$
- (d) uniquement  $\mathcal{R}_p$

a) Le train suit une ligne droite à vitesse constante ; le passager est assis sur son siège.

.....

b) Le train suit une courbe à vitesse constante ; le passager est assis sur son siège.

.....

c) Le train freîne sur une ligne droite ; le passager marche le long du train à vitesse constante.

.....

d) Le train suit une courbe à vitesse constante ; le passager marche le long du train.

.....

# Composition de mouvements

## Entraînement 2.4 — Autour de l'accélération.



On considère un référentiel  $\mathcal{R}$  galiléen lié au repère  $(O, \vec{e}_x, \vec{e}_y, \vec{e}_z)$  et un référentiel  $\mathcal{R}'$ , lié au repère cylindrique  $(O, \vec{e}_r, \vec{e}_\theta, \vec{e}_z)$ . Un point M, en mouvement dans ces deux référentiels, est repéré par ses coordonnées cylindriques habituelles  $r, \theta$  et  $z = 0$ . L'angle  $\theta$  suit la loi :  $\theta = \omega t$  où  $\omega$  est une constante.

### • Caractérisation du mouvement de $\mathcal{R}'$ par rapport au référentiel $\mathcal{R}$

a) Le vecteur rotation du référentiel  $\mathcal{R}'$  par rapport au référentiel  $\mathcal{R}$ ,  $\vec{\Omega}$ , vaut :

- a)  $\theta \vec{e}_z$                      
  b)  $-\dot{\theta} \vec{e}_x$                      
  c)  $\omega \vec{e}_z$                      
  d)  $\dot{\omega} \vec{e}_z$

.....

b) Le référentiel  $\mathcal{R}'$  est galiléen.

- a) Vrai   
  b) Faux

.....

### • Composantes de l'accélération de M dans le référentiel $\mathcal{R}$

c) Par homogénéité, identifier l'expression de l'accélération radiale  $a_r$  de M dans  $\mathcal{R}$  en coordonnées cylindriques.

- a)  $\ddot{r} - r\dot{\theta}^2$                      
  b)  $\dot{r} - r^2\dot{\theta}$                      
  c)  $\ddot{r} - r^2\dot{\theta}^2$                      
  d)  $\ddot{r} - r^2\dot{\theta}$

.....

d) Par homogénéité, identifier l'expression de l'accélération orthoradiale  $a_\theta$  de M dans  $\mathcal{R}$  en coordonnées cylindriques.

- a)  $2\dot{r}\dot{\theta} + r\ddot{\theta}$                      
  b)  $2\dot{r}\ddot{\theta} + r\ddot{\theta}$                      
  c)  $2\dot{r}\ddot{\theta} + r\ddot{\theta}$                      
  d)  $2\dot{r}\ddot{\theta}$

.....

### • Composition des accélérations

La loi de composition des accélérations assure que :

$$\vec{a}_{\mathcal{R}}(M) = \vec{a}_{\mathcal{R}'}(M) + \vec{a}_e + \vec{a}_C$$

avec  $\vec{a}_{\mathcal{R}}(M) = \left. \frac{d^2 \overrightarrow{OM}}{dt^2} \right|_{\mathcal{R}}$ ,  $\vec{a}_{\mathcal{R}'}(M) = \left. \frac{d^2 \overrightarrow{OM}}{dt^2} \right|_{\mathcal{R}'}$ , et comme  $\mathcal{R}'$  est en rotation uniforme autour d'un axe fixe par rapport à  $\mathcal{R}$ ,

$$\vec{a}_e = \vec{\Omega} \wedge (\vec{\Omega} \wedge \overrightarrow{OM}) \quad \text{et} \quad \vec{a}_C = 2\vec{\Omega} \wedge \left. \frac{d\overrightarrow{OM}}{dt} \right|_{\mathcal{R}'}$$

e) Exprimer  $\vec{a}_e$  en fonction de  $r, \omega$  et d'un vecteur unitaire de la base cylindrique ..

f) Exprimer  $\vec{a}_C$  en fonction de  $\dot{r}, \omega$  et d'un vecteur unitaire de la base cylindrique ..

g) En déduire l'accélération  $\vec{a}_{\mathcal{R}'}(M)$  .....

# Forces d'inertie

## Entraînement 2.5 — Forces d'inertie à prendre en compte.



Le référentiel terrestre  $\mathcal{R}_t$  est considéré galiléen. On considère l'étude d'une masse ponctuelle M dont on observe le mouvement dans différents référentiels  $\mathcal{R}_i$  en mouvement par rapport à  $\mathcal{R}_t$ .

On définit les quatre référentiels suivants :

- $\mathcal{R}_1$  lié à un manège en rotation uniforme autour d'un axe fixe dans  $\mathcal{R}_t$ ,
- $\mathcal{R}_2$  lié à un paquebot en mouvement rectiligne uniforme dans  $\mathcal{R}_t$ ,
- $\mathcal{R}_3$  lié à un train en phase de décélération uniforme en ligne droite dans  $\mathcal{R}_t$ .
- $\mathcal{R}_4$  lié à une caisse en chute libre dans  $\mathcal{R}_t$ .

L'étude du mouvement de M dans ces référentiels  $\mathcal{R}_i$  amène à envisager de prendre en compte des forces d'inertie :

- |  |   |
|--|---|
| (a) force d'inertie d'entraînement centrifuge quand $\mathcal{R}_i$ est en rotation dans $\mathcal{R}_t$ | (c) force d'inertie d'entraînement quand $\mathcal{R}_i$ est en translation rectiligne dans $\mathcal{R}_t$ |
| (b) force d'inertie de Coriolis  | (d) aucune force d'inertie  |

Déterminer les forces d'inertie à prendre en compte dans les situations suivantes :

- |   |                      |   |                      |
|---|----------------------|---|----------------------|
| a) M est immobile dans $\mathcal{R}_1$ .....  | <input type="text"/> | d) M est en mouvement dans $\mathcal{R}_3$ .. | <input type="text"/> |
| b) M est en mouvement dans $\mathcal{R}_1$ .. | <input type="text"/> | e) M est fixe dans $\mathcal{R}_3$ .....      | <input type="text"/> |
| c) M est en mouvement dans $\mathcal{R}_2$ .. | <input type="text"/> | f) M est en mouvement dans $\mathcal{R}_4$ .. | <input type="text"/> |

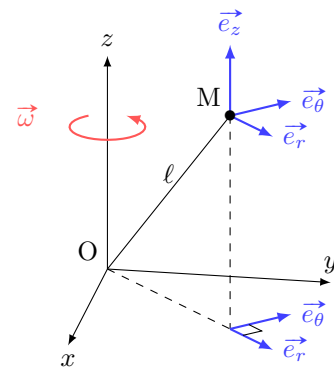
## Entraînement 2.6 — Force d'inertie centrifuge.




Un point M de masse  $m$  est animé d'une vitesse  $\vec{v}(M) = v\vec{e}_\theta$  dans un référentiel galiléen  $\mathcal{R}_0$  lié au repère  $(O, \vec{e}_x, \vec{e}_y, \vec{e}_z)$ . On étudie le mouvement de M dans le référentiel non galiléen  $\mathcal{R}_1$  en rotation par rapport à  $\mathcal{R}_0$  caractérisée par le vecteur rotation instantanée  $\vec{\omega}$ .

Une force d'inertie d'entraînement, ici centrifuge, s'exerce sur le point M :  $\vec{f}_{ie} = m\omega^2\overrightarrow{HM}$ , où H est le projeté orthogonal de M sur l'axe de rotation. La distance OM vaut  $\ell$ .

Déterminer, dans la base  $(\vec{e}_r, \vec{e}_\theta, \vec{e}_z)$ , l'expression de la force d'inertie centrifuge dans les situations suivantes.



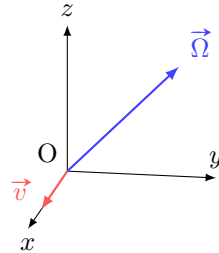
- |   |                      |
|---|----------------------|
| a) $\vec{\omega} = \omega_0\vec{e}_z$ et le point M est placé sur l'axe (Oz) .....                                      | <input type="text"/> |
| b) $\vec{\omega} = \omega_0\vec{e}_z$ et le point M possède les coordonnées cylindriques $(\ell, 0, 0)$ ...             | <input type="text"/> |
| c) $\vec{\omega} = \omega_0\vec{e}_z$ et $\overrightarrow{OM}$ est incliné de $\frac{\pi}{3}$ par rapport à (Oz). ..... | <input type="text"/> |

 **Entraînement 2.7 — Force de Coriolis.**



L'étude du mouvement d'un point M est réalisée dans un référentiel non galiléen  $\mathcal{R}_1$ , en rotation uniforme autour d'un axe fixe dans un référentiel galiléen  $\mathcal{R}_0$ .

Ce point matériel M de masse  $m$  possède un vecteur vitesse  $\vec{v} = v_1 \vec{e}_x$  dans  $\mathcal{R}_1$ , quand il passe en O. Le vecteur rotation de  $\mathcal{R}_1$  par rapport à  $\mathcal{R}_0$  vaut  $\vec{\Omega} = \Omega_0(\vec{e}_y + \vec{e}_z)$ .



On rappelle l'expression de la force d'inertie de Coriolis :  $\vec{f}_{iC} = -2m\vec{\Omega} \wedge \vec{v}$ .

La force de Coriolis subie par le point M en O vaut :

- (a)  $\vec{f}_{iC} = 2mv_1\Omega_0(-\vec{e}_y - \vec{e}_z)$                       (c)  $\vec{f}_{iC} = 2mv_1\Omega_0(-\vec{e}_y + \vec{e}_z)$   
 (b)  $\vec{f}_{iC} = 2mv_1\Omega_0(\vec{e}_y + \vec{e}_z)$                       (d)  $\vec{f}_{iC} = 2mv_1\Omega_0(\vec{e}_y - \vec{e}_z)$

.....

 **Entraînement 2.8 — Forces de Coriolis (II).**



Un point M de masse  $m$  est animé d'une vitesse  $\vec{v}(M)$  dans un référentiel non galiléen  $\mathcal{R}$  en rotation par rapport à un référentiel galiléen  $\mathcal{R}_0$ . Le vecteur rotation de  $\mathcal{R}$  dans  $\mathcal{R}_0$  est noté  $\vec{\omega}$ .

Dans chacun des cas suivants, déterminer l'expression de la force de Coriolis définie par  $\vec{f}_{iC} = -2m\vec{\omega} \wedge \vec{v}(M)$ .

• **Premier cas : on étudie le mouvement de M dans la base cartésienne.**

a)  $\vec{v}(M) = v_1 \vec{e}_y$  et  $\vec{\omega} = \omega_0 \vec{e}_z$  .....

b)  $\vec{v}(M) = v_1 \vec{e}_y + v_2 \vec{e}_z$  et  $\vec{\omega} = \omega_0 \vec{e}_x$  .....

• **Deuxième cas : on étudie le mouvement de M dans la base cylindrique.**

c)  $\vec{v}(M) = v_1 \vec{e}_r$  et  $\vec{\omega} = \omega_0 \vec{e}_z$  .....

d)  $\vec{v}(M) = v_1 \vec{e}_\theta + v_2 \vec{e}_z$  et  $\vec{\omega} = \omega_0 \vec{e}_z$  .....



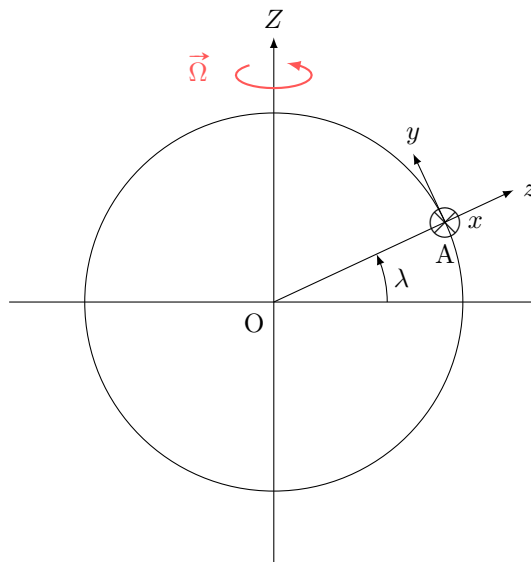
### Entraînement 2.9 — Force de Coriolis dans le référentiel terrestre.



On s'intéresse au référentiel terrestre  $\mathcal{R}_t$ , lié au repère  $(A, \vec{e}_x, \vec{e}_y, \vec{e}_z)$ . Ce référentiel est en rotation autour de l'axe  $(O, Z)$  par rapport au référentiel géocentrique  $\mathcal{R}_g$ , supposé galiléen. Le mouvement de rotation de  $\mathcal{R}_t$  par rapport à  $\mathcal{R}_g$  est caractérisé par le vecteur rotation  $\vec{\Omega} = \Omega \vec{e}_z$ .

Le point A est repéré par sa latitude  $\lambda$ .

Ces référentiels sont représentés ci-dessous.



a) Quelle est la valeur numérique de  $\Omega$  ?

- (a)  $2,6 \times 10^{-2} \text{ rad} \cdot \text{s}^{-1}$
- (b)  $1,7 \times 10^{-3} \text{ rad} \cdot \text{s}^{-1}$
- (c)  $7,3 \times 10^{-5} \text{ rad} \cdot \text{s}^{-1}$

.....

b) Parmi les projections du vecteur  $\vec{\Omega}$  dans la base  $(\vec{e}_x, \vec{e}_y, \vec{e}_z)$ , laquelle est correcte ?

- (a)  $\Omega \begin{pmatrix} 0 \\ \sin \lambda \\ \cos \lambda \end{pmatrix}$
- (b)  $\Omega \begin{pmatrix} \cos \lambda \\ 0 \\ \sin \lambda \end{pmatrix}$
- (c)  $\Omega \begin{pmatrix} 0 \\ \cos \lambda \\ \sin \lambda \end{pmatrix}$

.....

On s'intéresse au mouvement d'un point M de masse  $m$  dans le référentiel terrestre  $\mathcal{R}_t$ ; on suppose qu'il est animé d'une vitesse  $\vec{v}(M) = \dot{z} \vec{e}_z$ .

On rappelle l'expression de la force de Coriolis subie par M dans  $\mathcal{R}_t$  :

$$\vec{f}_{iC} = -2m\vec{\Omega} \wedge \vec{v}(M).$$

c) Exprimer  $\vec{f}_{iC}$  en fonction de  $m$ ,  $\Omega$ ,  $\dot{z}$  et d'un vecteur de la base  $(\vec{e}_x, \vec{e}_y, \vec{e}_z)$ .

.....



# Dynamique

## Entraînement 2.10 — Pendule en rotation.

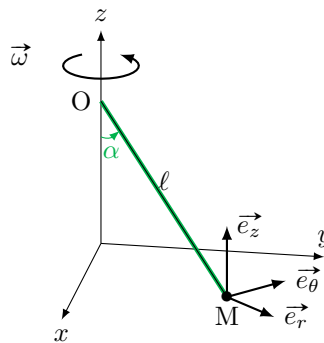


On s'intéresse à un pendule composé d'une tige (masse négligeable, longueur  $\ell = 1,0$  m) et d'une bille placée en M de masse  $m$ . Ce pendule est fixé en O à un axe vertical en rotation uniforme à la vitesse angulaire  $\vec{\omega} = \omega \vec{e}_z$ . Sous l'action de la rotation, le pendule s'incline d'un angle  $\alpha$  par rapport à la verticale tout en restant dans le plan  $(O, \vec{e}_r, \vec{e}_z)$ .

On rappelle que la force d'inertie centrifuge vaut

$$\vec{f}_{ie} = m\omega^2 \overline{HM},$$

où H est le projeté orthogonal de M sur l'axe de rotation.



a) La force centrifuge subie par le M vaut :

- (a)  $\vec{f}_{ie} = -m\omega^2 \overline{OM}$
- (b)  $\vec{f}_{ie} = m\omega^2 \ell \sin(\alpha) \vec{e}_z$
- (c)  $\vec{f}_{ie} = m\omega^2 \ell \sin(\alpha) \vec{e}_r$
- (d)  $\vec{f}_{ie} = -m\omega^2 \ell \vec{e}_\theta$

.....

b) Par homogénéité, déterminer la relation qui lie  $\omega$  et  $\alpha$  :

- (a)  $\omega = \frac{\ell}{g\sqrt{\cos \alpha}}$
- (b)  $\omega = \sqrt{\frac{g}{\ell \cos \alpha}}$
- (c)  $\omega = \frac{g}{\ell} \sqrt{\cos \alpha}$
- (d)  $\omega = \sqrt{\frac{\ell}{g} \cos \alpha}$

.....

c) Déterminer pour quelle valeur de la vitesse angulaire  $\omega$  l'angle  $\alpha$  vaut  $45^\circ$  .....

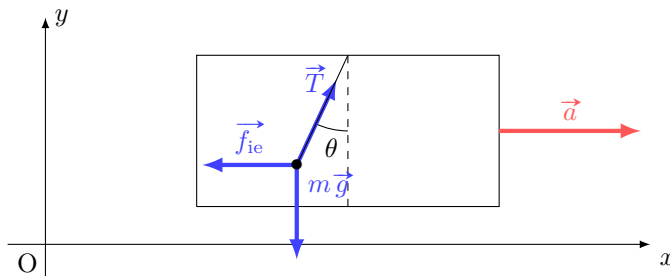
**Entraînement 2.11 — Un pendule sur une voiture.**



On s'intéresse à un pendule de masse  $m = 5 \text{ g}$  suspendu au rétroviseur d'une voiture animée pour  $t < 0$  d'une vitesse  $\vec{v} = v_0 \vec{e}_x$  constante dans le référentiel terrestre (galiléen)  $\mathcal{R}_0(O, \vec{e}_x, \vec{e}_y, \vec{e}_z)$ .

À  $t = 0$ , le véhicule accélère avec une accélération  $\vec{a} = a \vec{e}_x$  constante, avec  $a = 5 \text{ m} \cdot \text{s}^{-2}$ .

L'étude du mouvement du pendule est menée dans le référentiel  $\mathcal{R}_1$  lié à la voiture.



On rappelle que la force d'inertie d'entraînement vaut  $\vec{f}_{ie} = -m\vec{a}$ . Sous l'action de cette force, le pendule se stabilise pour une valeur particulière de l'angle  $\theta$  notée  $\theta_e$ .

a) Déterminer  $\frac{f_{ie}}{P}$ , le rapport de la norme de  $\vec{f}_{ie}$  sur celle du poids .....

b) La force d'inertie d'entraînement est négligeable devant le poids.

(a) vrai

(b) faux

.....

c) Décomposer le vecteur  $\vec{P}$  dans la base  $(\vec{e}_x, \vec{e}_y)$  .....

d) Décomposer le vecteur  $\vec{T}$  dans la base  $(\vec{e}_x, \vec{e}_y)$  .....

e) Décomposer le vecteur  $\vec{f}_{ie}$  dans la base  $(\vec{e}_x, \vec{e}_y)$  .....

f) Parmi les quatre expressions du principe fondamental appliqué à la bille, dans le référentiel de la voiture, laquelle est juste ?

(a)  $m \frac{d\vec{v}}{dt} \Big|_{\mathcal{R}_1} = \vec{P} + \vec{T}$

(c)  $m \frac{d\vec{v}}{dt} \Big|_{\mathcal{R}_1} = \vec{P} + \vec{T} + m\vec{a}$

(b)  $m \frac{d\vec{v}}{dt} \Big|_{\mathcal{R}_1} + \vec{f}_{ie} = \vec{P} + \vec{T}$

(d)  $m \frac{d\vec{v}}{dt} \Big|_{\mathcal{R}_1} = \vec{P} + \vec{T} + \vec{f}_{ie}$

.....

g) L'application du principe fondamental permet d'exprimer la position d'équilibre du pendule. Parmi les trois propositions, laquelle est homogène ?

(a)  $\tan(\theta_e) = \frac{g}{ma}$

(b)  $\tan(\theta_e) = \frac{a}{g}$

(c)  $\tan(\theta_e) = mag$

.....

h) Grâce à la relation trouvée à la question précédente, calculer  $\theta_e$  en degrés .....

**Entraînement 2.12 — Palet sur un disque en rotation.**



Un disque horizontal de centre O tourne autour de son axe (Oz) à vitesse angulaire constante  $\vec{\omega} = \omega \vec{e}_z$ .

Un palet (assimilable à un point matériel de masse  $m$ ) est posé en un point A du disque, à une distance  $OA = d$ . On rappelle la force d'inertie centrifuge :  $m\omega^2 \vec{OA}$ .

a) Quelle est l'orientation de la force centrifuge ?

- (a)  $-\vec{e}_\theta$       (b)  $\vec{e}_r$       (c)  $-\vec{e}_r$       (d)  $\vec{e}_\theta$

.....

b) Sans frottement entre le disque et le palet, quel mouvement du palet peut-on prévoir ?

- (a) Le palet se rapproche inexorablement du centre du disque.  
 (b) Le palet reste immobile dans le référentiel du disque.  
 (c) Le palet est expulsé radialement du disque.

.....

Il existe une force de frottement telle que le palet reste immobile tant que la norme de la force d'inertie centrifuge est inférieure à  $\mu mg$ .

c) Déterminer l'expression de la valeur limite  $\omega_{\max}$  de la vitesse angulaire en-deçà de laquelle le palet reste immobile.

.....

d) Calculer  $\omega_{\max}$  sachant que  $d = 5$  cm,  $m = 150$  g et  $\mu = 0,5$  .....

**Entraînement 2.13 — Anneau sur tige en rotation.**



On s'intéresse dans cet entraînement au mouvement d'un anneau de masse  $m$  placé sur une tige en rotation à la vitesse angulaire  $\omega$ . Cet anneau subit aussi une force de rappel exercée par un ressort de raideur  $k$  fixé sur l'axe de rotation. L'abscisse  $x$  de l'anneau sur la tige satisfait l'équation différentielle suivante :

$$\ddot{x} + \left( \frac{k}{m} - \omega^2 \right) x = 0$$

a) Quelle est la dimension du terme  $\frac{k}{m}$  ? .....

On propose les solutions suivantes pour  $x(t)$ , dans lesquelles  $A$ ,  $\Omega$ ,  $\varphi$  et  $\beta$  sont des constantes.

- (a)  $x(t) = A \cos(\Omega t + \varphi)$   
 (b)  $x(t) = A \cosh(\Omega t + \varphi)$   
 (c)  $x(t) = Ae^{-\beta t} \cos(\Omega t + \varphi)$

b) Quelle est la forme des solutions si  $\omega^2 > \frac{k}{m}$  ? .....

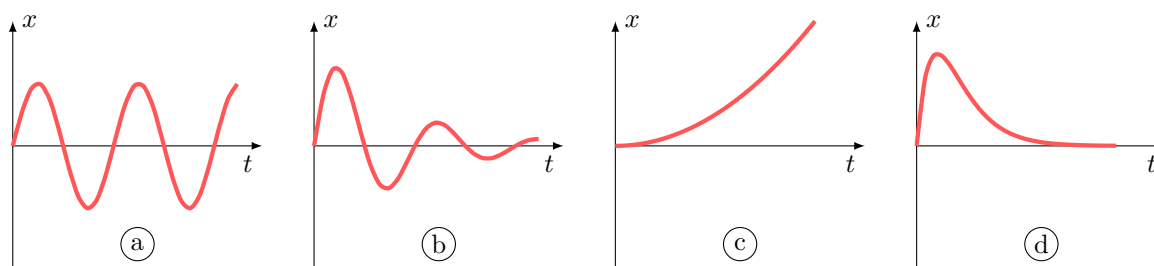
c) Quelle est la forme des solutions si  $\omega^2 < \frac{k}{m}$  ? .....

d) On pose  $\Omega^2 = \frac{k}{m} - \omega^2 > 0$ . Expliciter la solution dans le cas où  $x(0) = 0$  et  $\dot{x}(0) = v_0$ .

.....

e) Parmi les trois solutions représentées sur les graphiques ci-dessous, laquelle correspond à la situation de la question b).

.....



Réponses mélangées

(c)	$\sqrt{\frac{\mu g}{d}}$	(d)	$\frac{m\omega_0^2 \ell \vec{e}_r}{2}$	(b)	(b)	(a)	(d)	$T^{-2}$	(d)
(c)	(a)	$10 \text{ rad} \cdot \text{s}^{-1}$	$T \sin(\theta_e) \vec{e}_x + T \cos(\theta_e) \vec{e}_y$	$-ma \vec{e}_x$	$2m\omega_0 v_1 \vec{e}_r$	$\ddot{r} \vec{e}_r$			
(b)	(c)	(d)	(b)	(c)	(c)	$-mg \vec{e}_y$	(c)	$-\omega^2 r \vec{e}_r$	(c)
$-2m\omega_0 v_1 \vec{e}_\theta$	(b)	$2\omega r \vec{e}_\theta$	(b)	$-2m\Omega \dot{z} \cos \lambda \vec{e}_x$	(c)	(a)	$m\omega_0^2 \ell \vec{e}_r$		
(b)	$2m\omega_0(v_2 \vec{e}_y - v_1 \vec{e}_z)$	(c)	$\frac{v_0}{\Omega} \sin(\Omega t)$	(b)	(a) et (b)	(b)	$27^\circ$	(a)	
(b)	0,5	(c)	Faux	$\vec{0}$	(a)	Faux	$2m\omega_0 v_1 \vec{e}_x$	Vrai	$3,8 \text{ rad} \cdot \text{s}^{-1}$

► Réponses et corrigés page 219

## Loi du frottement solide

### Avant toute chose

#### Entraînement 3.1 — Les mots justes.



Pour chacune des situations exposées, indiquer si entre les deux solides en jeu il y a :

- (a) adhérence                      (b) roulement                      (c) glissement

a) Une brosse est frottée contre un tableau à feutre pour l'effacer .....

b) Une roue d'un vélo qui se déplace en ligne droite sur une route .....

c) Une roue d'une voiture qui dérape dans un virage sur lequel elle s'engage trop vite .....

d) Un livre est posé sur le tapis roulant d'une caisse de supermarché .....

### Vitesse de glissement



#### Entraînement 3.2 — Bagages sur un tapis roulant.



Étudions l'évolution de différents bagages placés sur un tapis roulant dans le référentiel  $\mathcal{R}_0$  lié au sol. La vitesse du tapis roulant s'écrit :

$$\vec{v}(\text{tapis})_{\mathcal{R}_0} = v_0 \vec{u}_x \quad \text{avec} \quad v_0 = 3,6 \text{ km} \cdot \text{h}^{-1}.$$

La vitesse et la quantité de mouvement des différents bagages en translation sur ce tapis s'écrivent :

$$\vec{v}(\text{bagage})_{\mathcal{R}_0} = v_1 \vec{u}_x ;$$

$$\vec{p}(\text{bagage})_{\mathcal{R}_0} = p_1 \vec{u}_x.$$

Rappelons la définition de la vitesse de glissement à l'instant  $t$  d'un bagage sur le tapis :

$$\vec{v}_{\text{glissement}}(\text{bagage/tapis}) = (v_1 - v_0) \vec{u}_x.$$

Les affirmations suivantes sont-elles « vraies » ou « fausses » ?

a) La valise de Sam ( $m = 20 \text{ kg}$  et  $v_1 = 1 \text{ m} \cdot \text{s}^{-1}$ ) glisse sur le tapis roulant .....

b) La valise de Paul ( $m = 15 \text{ kg}$  et  $p_1 = 8,0 \text{ N} \cdot \text{s}$ ) glisse sur le tapis roulant .....

c) Le sac d'Assia ( $m = 8 \text{ kg}$  et  $v_1 = -1,0 \text{ m} \cdot \text{s}^{-1}$ ) ne glisse pas sur le tapis roulant .....

## Phase d'adhérence et limite de glissement

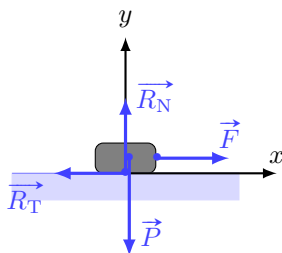
### Entraînement 3.3 — La bonne relation.



Un solide immobile sur le sol parfaitement horizontal subit une force de tangentielle (colinéaire à l'axe  $(Ox)$ ) lui permettant d'être à la limite de glissement. Ainsi, nous pouvons écrire la relation suivante :

$$\|\vec{R}_T\| = \mu_s \|\vec{R}_N\|.$$

Le bilan des forces sur ce solide conduit à considérer le poids du solide  $\vec{P}$ , la réaction normale du sol sur le solide  $\vec{R}_N$ , la réaction tangentielle du sol sur le solide  $\vec{R}_T$  et la force de tangentielle  $\vec{F}$ . La situation est représentée sur le schéma ci-dessous.



Sachant que le solide est de masse  $m = 1 \text{ kg}$ , que l'intensité de pesanteur vaut  $g = 10 \text{ m} \cdot \text{s}^{-2}$ , que le coefficient de frottement statique vaut  $\mu_s = 0,5$ , identifier la seule relation correcte.

(a)  $\vec{R}_T \cdot \vec{e}_x = -5 \text{ N}$

(c)  $\vec{F} \cdot \vec{e}_y = 10 \text{ N}$

(b)  $\vec{R}_N \cdot \vec{e}_y = 5 \text{ N}$

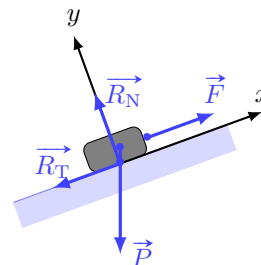
(d)  $\vec{R}_T \cdot \vec{e}_x = -10 \text{ N}$

### Entraînement 3.4 — Quelle force appliquer ?



Un solide de masse  $m = 350 \text{ g}$  est placé sur un plan incliné faisant un angle  $\alpha = 20^\circ$  par rapport au plan horizontal. La force  $\vec{F} = F \cdot \vec{e}_x$  permet de maintenir le solide à la limite de glissement vers le haut. Ainsi, nous pouvons écrire la relation suivante :

$$\|\vec{R}_T\| = \mu_s \|\vec{R}_N\|$$



avec le coefficient de frottement statique  $\mu_s = 0,5$  et  $\vec{R} = -R_T \vec{e}_x + R_N \vec{e}_y$  ( $R_T > 0$  et  $R_N > 0$ ).

On prend  $g = 10 \text{ m} \cdot \text{s}^{-2}$ .

a) Quelle est l'expression de  $F$  ?

(a)  $mg \cos(\alpha)(1 - \mu_s \tan(\alpha))$

(c)  $mg \cos(\alpha)(1 + \mu_s \tan(\alpha))$

(b)  $mg \cos(\alpha)(\tan(\alpha) - \mu_s)$

(d)  $mg \cos(\alpha)(\mu_s + \tan(\alpha))$

b) Calculer  $F$  .....

**Entraînement 3.5 — Fixe ou mobile ?**

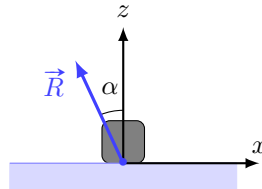


Un cube de masse  $m = 200\text{ g}$  est posé sur un table fixe dans le référentiel d'étude. Un opérateur exerce une action mécanique sur ce dernier afin de le mettre en mouvement.

Y parviendra-t-il ?

Afin de répondre à cette question, nous allons seulement exprimer la force de réaction modélisant l'action de la table sur le cube :

$$\vec{R} = \vec{T} + \vec{N} = T \vec{e}_x + N \vec{e}_z$$



D'après la loi de Coulomb, le cube ne glissera pas sur son support si :

$$\|\vec{T}\| < \mu_s \|\vec{N}\|$$

avec  $\mu_s = 0,6$  le coefficient statique de frottement.

Des mesures donnent  $\|\vec{R}\| = 3,5\text{ N}$  avec  $\alpha = 25^\circ$ .

a) Calculer la composante tangentielle  $T$  de  $\vec{R}$  .....

b) Calculer la composante normale  $N$  de  $\vec{R}$  .....

c) Vrai ou Faux : Le cube glisse sur la table .....

**Entraînement 3.6 — Cône de frottement.**



L'ouverture du cône de frottement d'un contact solide/solide, noté  $\alpha$ , dépend du coefficient de frottement statique  $\mu_s$  et des normes maximales  $R_N$  et  $R_T$  des réactions normale et tangentielle où aucun glissement ne se produit. La relation exacte est la suivante :

$$\mu_s = \tan(\alpha) = \frac{R_T}{R_N}$$

On considère différents couples de solides et pour chaque couple on mesure une grandeur différente. Quelle est la situation de plus grande ouverture de cône de frottement ?

(a)  $R_N = 2R_T$

(c)  $\mu_s = 0,8$

(b)  $\alpha = 30^\circ$

(d)  $2\alpha = \frac{\pi}{4}$

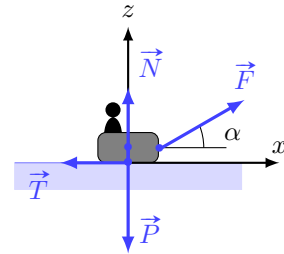
.....

# Phase de glissement

## Entraînement 3.7 — Une luge tractée (I).



Un enfant assis dans une luge est tracté par un adulte. L'ensemble {enfant + luge} de masse  $m$  évolue suivant la direction  $(Ox)$  et est soumis à l'ensemble des forces représentées sur le schéma ci-contre.



Comment écrire la réaction  $\vec{R}$  totale du sol sur la luge ?

- (a)  $\vec{R} = \vec{N}$
- (b)  $\vec{R} = \vec{T}$

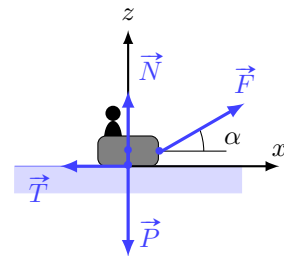
- (c)  $\vec{R} = \vec{N} - \vec{T}$
- (d)  $\vec{R} = \vec{N} + \vec{T}$

.....

## Entraînement 3.8 — Une luge tractée (II).



Un enfant assis dans une luge est tracté par un adulte. L'ensemble {enfant + luge} de masse  $m$  évolue suivant la direction  $(Ox)$  et est soumis à l'ensemble des forces représentées sur le schéma ci-contre.



Comme la luge glisse sur la neige, la loi de Coulomb impose :

$$\|\vec{T}\| = f_d \|\vec{N}\|$$

avec  $f_d$  le coefficient de frottement dynamique neige/luge.

Le bilan mécanique permet d'écrire les deux relations suivantes :

$$\begin{cases} N = mg - F \sin(\alpha) & (1) \\ m\ddot{x} = T + F \cos(\alpha) & (2) \end{cases}$$

avec  $T = \vec{R} \cdot \vec{e}_x$  et  $N = \vec{R} \cdot \vec{e}_z$ .

a) Exprimer  $T$  en fonction de  $f_d$ ,  $m$ ,  $g$ ,  $F$  et  $\alpha$  .....

b) Quelle est alors l'équation différentielle régissant le mouvement ?

- (a)  $\ddot{x} = -f_d g + \frac{F}{m} (\cos(\alpha) + f_d \sin(\alpha))$
- (b)  $\ddot{x} = f_d g + \frac{F}{m} (\cos(\alpha) + f_d \sin(\alpha))$

- (c)  $\ddot{x} = f_d g + \frac{F}{m} (\cos(\alpha) - f_d \sin(\alpha))$
- (d)  $\ddot{x} = -f_d g + \frac{F}{m} (\cos(\alpha) - f_d \sin(\alpha))$

.....

c) Que devient l'équation du mouvement pour  $\alpha = 0$  ? .....



**Entraînement 3.9 — Fin de la phase de glissement.**



Un solide de masse  $m$ , lié à un ressort, glisse sur un support horizontal et fixe dans le référentiel d'étude. L'équation différentielle régissant l'évolution de ce solide lorsque ce dernier se déplace suivant les  $x$  croissants, s'écrit :

$$\ddot{x} + \frac{k}{m}x = -fg$$

avec  $m = 300 \text{ g}$ ,  $k = 20 \text{ N} \cdot \text{m}^{-1}$ ,  $f = 0,2$  et  $g = 10 \text{ m} \cdot \text{s}^{-2}$ .

À l'instant initial, le solide n'a pas de vitesse initiale et sa position est repérée par  $x(t = 0) = x_0 = -9,0 \text{ cm}$ .

Nous pourrions poser  $\omega_0 = \sqrt{\frac{k}{m}}$ .

a) Quelle expression de  $x(t)$  est correcte ?

- (a)  $\left(x_0 + \frac{fmg}{k}\right) \cos(\omega_0 t) - \frac{fmg}{k}$
- (b)  $\left(x_0 - \frac{fmg}{k}\right) \cos(\omega_0 t) + \frac{fmg}{k}$

- (c)  $x_0 \cos(\omega_0 t)$
- (d)  $-\frac{fmg}{k} + x_0 \cos(\omega_0 t)$

b) Quelle est la vitesse du solide ?

- (a)  $-\left(x_0 + \frac{fmg}{k}\right) \omega_0 \sin(\omega_0 t) \vec{u}_x$
- (b)  $-\left(x_0 - \frac{fmg}{k}\right) \omega_0 \sin(\omega_0 t) \vec{u}_x$

- (c)  $-x_0 \omega_0 \sin(\omega_0 t) \vec{u}_x$
- (d)  $x_0 \omega_0 \sin(\omega_0 t) \vec{u}_x$

c) Déterminer l'expression littérale la vitesse de glissement du solide sur son support.

d) À quel instant  $t_1$  (en ms) la phase de glissement s'arrête-t-elle ? .....

e) Déterminer la position  $x_1$  (en cm) du solide à l'instant  $t_1$  .....

**Entraînement 3.10 — Calcul du coefficient de frottement.**

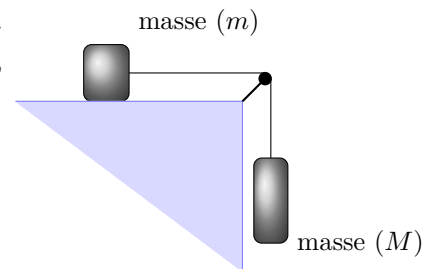


La masse  $m$  glisse sur une table, entraînée par la masse  $M = \frac{4}{3}m$ . Lorsque les deux masses se sont déplacées d'une distance  $h = 15 \text{ cm}$ , leur vitesse est  $v = 82 \text{ cm} \cdot \text{s}^{-1}$ .

Une étude énergétique conduit à la relation suivante :

$$\frac{1}{2}mv^2 + \frac{1}{2}Mv^2 = Mgh - f_d mgh$$

avec  $g = 10 \text{ m} \cdot \text{s}^{-2}$ .



a) Déterminer l'expression de  $f_d$  en fonction de  $g$ ,  $h$  et  $v$  .....

b) Déterminer la valeur numérique de  $f_d$  .....

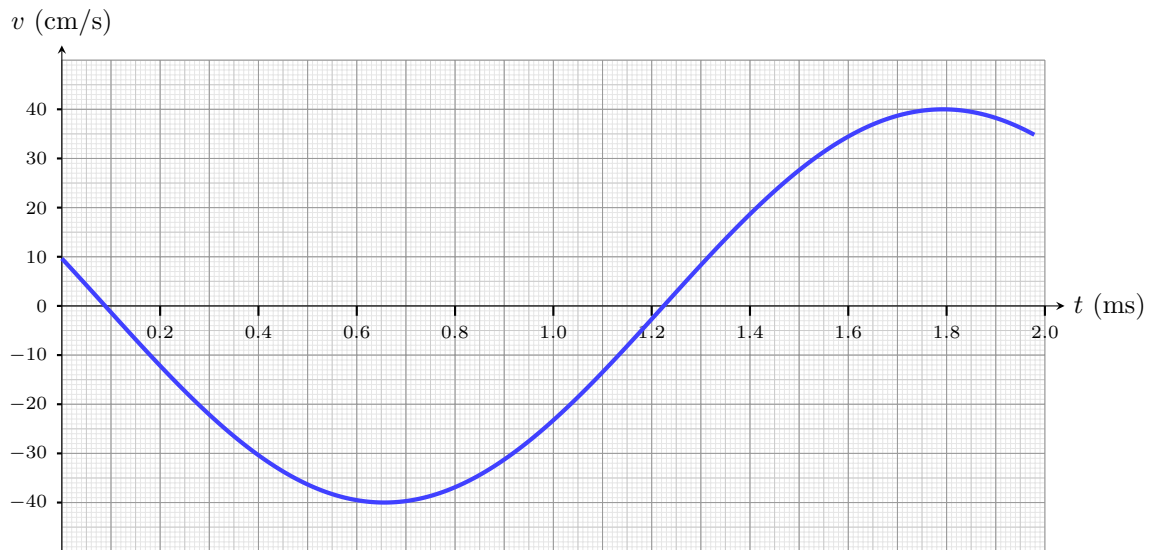
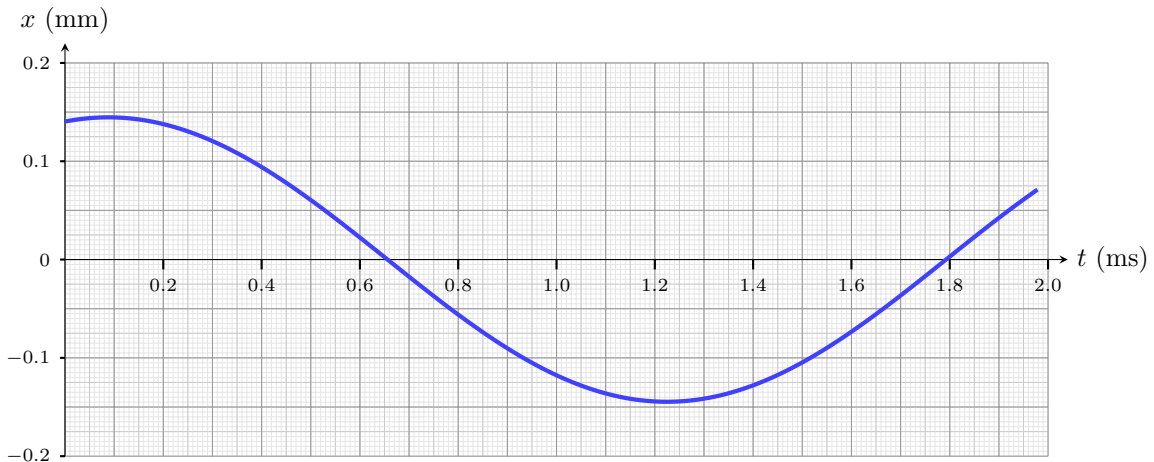
**Entraînement 3.11 — Palet glissant sur un tapis roulant.**



Un palet de centre d'inertie  $G$  et de masse  $m$  glisse sur un tapis roulant. La position et la vitesse de ce palet par rapport au sol fixe sont données respectivement par  $\overrightarrow{OG} = x(t)\vec{e}_x$  et  $\vec{v}(G, t) = v(t)\vec{e}_x$

La vitesse du tapis par rapport au sol est  $\vec{v}_{\text{tapis}} = v_0\vec{e}_x$  tel que  $v_0 = 1\,260\text{ m} \cdot \text{h}^{-1}$ .

Les courbes suivantes donnent l'évolution de la position et de la vitesse du palet au cours du temps.



a) Quelle est l'expression de la vitesse de glissement du palet sur le tapis ?

(a)  $(v(t) - v_0)\vec{e}_x$

(c)  $(v_0 - v(t))\vec{e}_x$

(b)  $(v(t) + v_0)\vec{e}_x$

.....

b) Déterminer la date  $t_1$  pour laquelle le glissement s'arrête .....

c) Déterminer la position du palet  $x_1$  en  $\mu\text{m}$  à la date  $t_1$  .....

# De l'adhérence au glissement

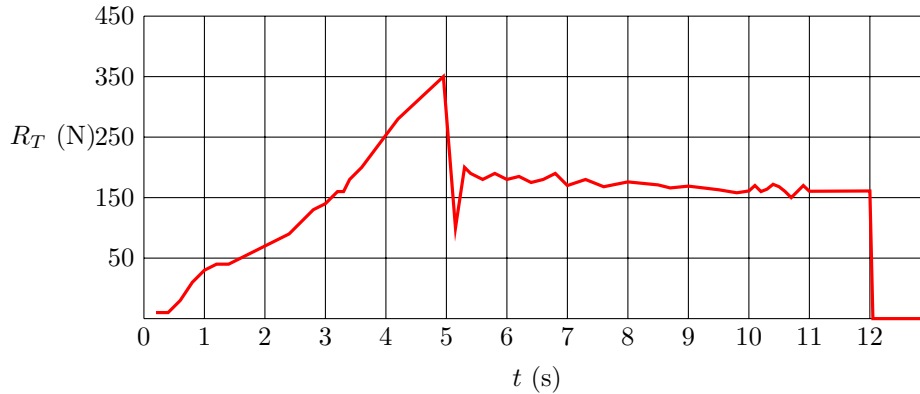
## Entraînement 3.12 — Déplacement d'une armoire.



Une armoire, trop lourde pour être portée, est déplacée dans une pièce par glissement sur le sol qui est parfaitement horizontal.

Au cours de la manœuvre, on enregistre l'évolution au cours du temps, de la norme de  $\vec{R}_T$ .

Le vecteur  $\vec{R}_T$  est la composante tangentielle de la force exercée par le sol sur l'armoire. Nous noterons  $R_T$  sa norme.



Déterminer par exploitation graphique :

- a) L'instant où démarre la phase de glissement .....
- b) La durée pendant laquelle l'armoire glisse .....
- c) La force tangentielle maximale en phase statique .....
- d) La force tangentielle en phase dynamique .....

On cherche à exploiter ces données pour évaluer le coefficient de frottement statique et dynamique sol/armoire que l'on note respectivement  $\mu_s$  et  $\mu_d$ . On estime que l'armoire pèse entre 70 kg et 90 kg et on rappelle les lois de Coulomb :  $R_T \leq \mu_s R_N$  en phase d'adhérence ;  $R_T = \mu_d R_N$  en phase de glissement.

- e) Quel est l'ordre de grandeur de  $\mu_s$  le plus probable ?
  - (a) 0,2
  - (b) 0,5
  - (c) 0,9
 .....

- f) Quel est l'ordre de grandeur de  $\mu_d$  le plus probable ?
  - (a) 0,2
  - (b) 0,5
  - (c) 0,9
 .....

Réponses mélangées

Faux (a) Faux (c)  $f_d(F \sin(\alpha) - mg)$  (a) (a) 384 ms  
 $-\left(x_0 + \frac{fmg}{k}\right)\omega_0 \sin(\omega_0 t)\vec{u}_x$  -1,5 N Vrai  $\frac{1}{6}\left(8 - 7\frac{v^2}{gh}\right)$  (a) 1,6 ms  
 (c) (c) (b)  $\ddot{x} = -f_d g + \frac{F}{m}$  7 s Faux (b) 3,2 N 3,0 cm (a)  
 5 s 2,8 N (a) 350 N (d) 0,8 (d) 175 N -70  $\mu\text{m}$  (a)

► Réponses et corrigés page 315

# Électrostatique

**Prérequis**

Repérages cartésien, cylindrique et sphérique.  
 Intégrales curvilignes, de surface et de volume.  
 Champs scalaires et vectoriels. Gradient. Théorème de Gauss.

**Constantes utiles**

- Charge élémentaire :  $e = 1,60 \times 10^{-19} \text{ C}$  ;
- Permittivité diélectrique du vide :  $\epsilon_0 = 8,85 \times 10^{-12} \text{ F} \cdot \text{m}^{-1}$ .

## Distributions de charge : symétries, invariances, charge totale



**Entraînement 4.1 — Calculs intégraux de longueurs, surfaces et volumes.**



On rappelle les déplacements élémentaires dans chacun des trois systèmes de coordonnées :

- en coordonnées cartésiennes :  $d\vec{\ell} = dx \vec{e}_x + dy \vec{e}_y + dz \vec{e}_z$
- en coordonnées cylindriques (ou cylindro-polaires) :  $d\vec{\ell} = dr \vec{e}_r + r d\theta \vec{e}_\theta + dz \vec{e}_z$
- en coordonnées sphériques :  $d\vec{\ell} = dr \vec{e}_r + r d\theta \vec{e}_\theta + r \sin(\theta) d\varphi \vec{e}_\varphi$

a) Exprimer l'élément de circonférence  $d\mathcal{C}$  d'un disque de rayon  $R$  .....

b) Grâce à un calcul intégral, retrouver la circonférence d'un cercle de rayon  $R$ .

.....

c) En coordonnées cylindriques, exprimer l'aire  $dS$  de l'élément de surface orthogonal à  $\vec{e}_z$ .

.....

d) Grâce à un calcul d'intégrale, retrouver la surface d'un disque de rayon  $R$  .

e) Grâce à un calcul d'intégrale, retrouver le volume d'une boule de rayon  $R$  .

**Entraînement 4.2 — Charge totale d'une distribution linéique.**



Dans chacun des cas suivants, déterminer la charge totale des distributions linéiques suivantes à l'aide de la relation :  $Q = \int \lambda(M) d\ell_M$ .

a) Pour une tige de longueur  $\ell$  chargée avec une densité linéique de charge uniforme  $\lambda_0$ .

.....

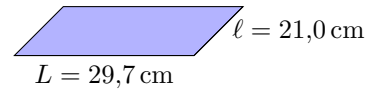
b) Pour un anneau de rayon  $a$  dont la densité linéique de charge, non uniforme, est  $\lambda(M) = q_0\theta/a$  avec  $q_0$  une constante et  $\theta$  l'angle qui repère le point  $M$  sur l'anneau.

.....


 **Entraînement 4.3 — Feuille d'aluminium chargée.**



Soit une feuille d'aluminium de format A4 à laquelle 1 000 électrons ont été arrachés. La feuille porte alors la charge électrique  $Q$ .

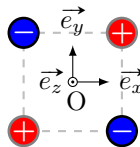


- a) Exprimer la charge  $Q$  en fonction de la charge électrique élémentaire  $e$  .....
- b) Exprimer la surface  $S$  de la feuille en fonction des longueurs  $L$  et  $l$  .....
- c) En déduire la valeur de la charge surfacique moyenne  $\sigma = Q/S$  portée par la feuille ....

 **Entraînement 4.4 — Quadrupôle électrostatique.**



On considère la distribution de charges ci-dessous.



- a) Quels sont les trois plans de symétrie de la distribution ?  
.....
- b) Quels sont les deux plans d'antisymétrie de la distribution ?  
.....

 **Entraînement 4.5 — Autour d'une sphère chargée.**



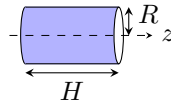
Tous les résultats devront être donnés en écriture scientifique.

- a) Quel est le volume en  $\text{m}^3$  d'une sphère de rayon  $R = 25 \text{ cm}$  ? .....
- b) Que vaut la charge totale de la sphère, en coulomb, si celle-ci est chargée avec une densité volumique uniforme de  $\rho_0 = 50,0 \text{ nC} \cdot \text{m}^{-3}$  ?  
.....
- c) Quelle est l'aire de la surface de la sphère en  $\text{m}^2$  ? .....
- d) Que vaut la charge totale de la sphère, en coulomb, si celle-ci est chargée avec une densité surfacique uniforme  $\sigma = 8 \mu\text{C} \cdot \text{m}^{-2}$  ?  
.....

**Entraînement 4.6 — Tube chargé localement.**



Un tube conducteur d'axe (Oz) possède une densité surfacique de charge  $\sigma(\theta) = \sigma_0 \cos(\theta)$ , avec  $\sigma_0$  une constante et  $\theta$  l'angle des coordonnées cylindriques  $(r, \theta, z)$ .



a) Comment s'exprime l'aire d'un élément de surface  $dS$  du tube ?

- (a)  $dr dz$                       (b)  $R d\theta dz$                       (c)  $R \sin(\theta) d\theta dz$                       (d)  $R dr d\theta$

.....

b) Comment s'exprime la charge totale  $Q$  portée par le tube ?

- (a)  $Q = \int_{r=0}^R \int_{z=0}^H \sigma(\theta) dr dz$                       (c)  $Q = \int_{\theta=0}^{2\pi} \int_{z=0}^H \sigma(\theta) R d\theta dz$   
 (b)  $Q = \int_{\theta=0}^{2\pi} \int_{z=0}^H \sigma(\theta) R \sin(\theta) d\theta dz$                       (d)  $Q = \int_{r=0}^R \int_{\theta=0}^{2\pi} \sigma(\theta) R dr d\theta$

.....

c) À l'aide du calcul d'une intégrale, déterminer la charge totale  $Q$  .....



**Entraînement 4.7 — Autour d'un cylindre chargé.**

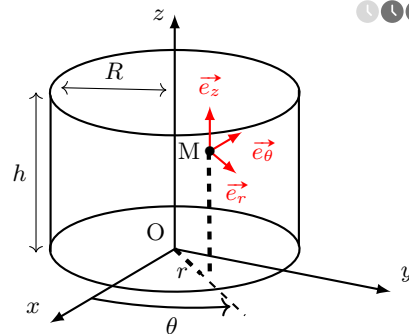


Soit un câble cylindrique d'axe (Oz), de hauteur  $h$  et de rayon  $R$ , doté d'une densité volumique de charge  $\rho$ .

a) Laquelle de ces formules permet de calculer l'aire de la surface latérale du cylindre ?

- (a)  $\pi R^2 h$                       (c)  $4\pi R^2 h$   
 (b)  $2\pi R h$                       (d)  $4\pi R h$

.....



b) Sans négliger les effets de bords, déterminer les invariances de cette distribution de charge si,

$$\text{pour } 0 \leq z \leq h, \rho = \rho_0 \left(\frac{r}{R}\right)^3,$$

avec  $\rho_0$  une constante homogène à une charge volumique.

- (a) invariance par translation parallèlement à  $\vec{e}_x$                       (c) invariance par translation parallèlement à  $\vec{e}_z$   
 (b) invariance par rotation autour de l'axe (Oz)                      (d) aucune invariance

.....

c) Même question si, pour  $0 \leq z \leq h, \rho = \rho_0 \left(\frac{r}{R}\right)^3 \sin\left(\frac{\theta}{2}\right)$  .....

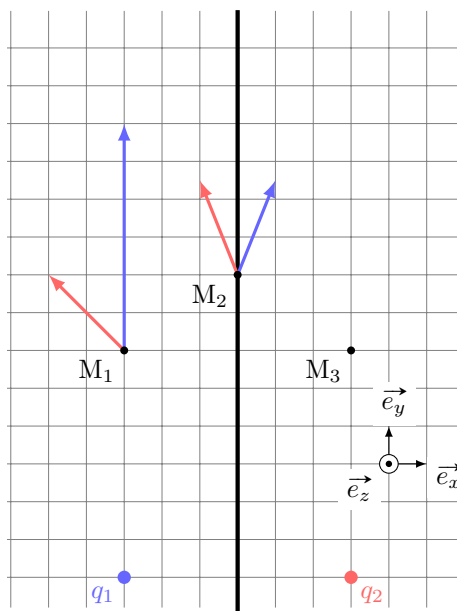
d) Même question si le cylindre est de hauteur infinie avec  $\rho = \rho_0 \left(\frac{r}{R}\right)^3$  .....

# De la distribution de charge au champ électrostatique

## Entraînement 4.8 — Superpositions et symétries.



Sur le schéma ci-contre figurent, en  $M_1$  et  $M_2$ , les champs électrostatiques  $\vec{E}_1$  et  $\vec{E}_2$  respectivement générés par les deux charges  $q_1 = +e$  et  $q_2 = +e$ .



a) Exprimer le champ électrostatique total  $\vec{E}$  au point  $M_1$  en fonction des vecteurs de la base.

.....

b) Exprimer le champ électrostatique total  $\vec{E}$  au point  $M_2$  en fonction des vecteurs de la base.

.....

Le plan  $(M_2, \vec{e}_y, \vec{e}_z)$ , nommé  $\mathcal{P}$ , est un plan de symétrie de la distribution de charge.

c) Quelles propositions sont correctes ?

- (a)  $\vec{E}(M_3) = -2\vec{e}_x + 8\vec{e}_y$        (c)  $\vec{E}(M_2) \in \mathcal{P}$   
 (b)  $\vec{E}(M_3) = 2\vec{e}_x + 8\vec{e}_y$        (d)  $\vec{E}(M_2) \perp \mathcal{P}$

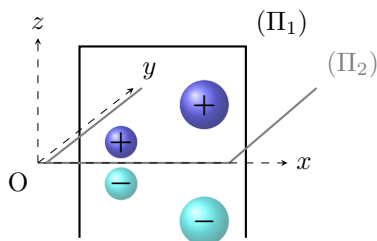
.....



## Entraînement 4.9 — Symétrie d'une distribution volumique de charge.



Le champ électrostatique créé par la distribution volumique ci-contre est noté  $\vec{E}$ . Le plan  $(\Pi_1)$  est un plan de symétrie de la distribution. Le plan  $(\Pi_2)$  est un plan d'antisymétrie de la distribution.



On rappelle qu'en tout point d'un plan de symétrie (resp. antisymétrie) de la distribution, le champ électrostatique appartient (resp. est perpendiculaire) à ce plan.

a) Quel vecteur unitaire est normal au plan  $(\Pi_1)$ ? .....

b) Quel vecteur unitaire est normal au plan  $(\Pi_2)$ ? .....

c) En un point  $M(x, 0, 0)$  de l'axe  $(Ox)$ , identifier l'expression correcte parmi celles proposées.

- (a)  $\vec{E}(M) = \vec{0}$        (b)  $\vec{E}(M) = E(M)\vec{e}_x$        (c)  $\vec{E}(M) = E(M)\vec{e}_y$        (d)  $\vec{E}(M) = E(M)\vec{e}_z$

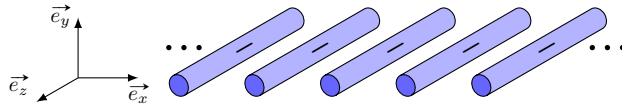
.....



**Entraînement 4.10 — Invariances d'une distribution volumique de charge.**



La grille infinie représentée ci-dessous est constituée de tiges infinies selon  $\vec{e}_z$  et est chargée uniformément négativement.



Soit M un point de l'espace repéré par  $(x, y, z)$ .

Sachant que les composantes du champ électrique  $\vec{E}$  possèdent les mêmes invariances que celles de la distribution de charges, lesquelles de ces expressions sont valides si l'étude des symétries a déjà été menée ?

- (a)  $\vec{E}(x, y, z) = E_x(y)\vec{e}_x + E_y(y)\vec{e}_y$
- (c)  $\vec{E}(x, y, z) = E_x(x, y) + E_y(x, y)$
- (b)  $\vec{E}(x, y, z) = E_x(x, y)\vec{e}_x + E_y(x, y)\vec{e}_y$
- (d)  $\|\vec{E}\|(x, y, z) = \|\vec{E}\|(x, y, 0)$

**Entraînement 4.11 — Homogénéités.**



Dans les expressions suivantes,  $\rho$ ,  $\sigma$  et  $\lambda$  sont des densités de charge volumique, surfacique et linéique. Le potentiel électrostatique est noté  $V$  et  $a$ ,  $\ell$ ,  $h$  et  $r$  sont des longueurs.

a) Parmi les expressions suivantes, identifier celles qui sont homogènes à une charge électrique.

- (a)  $4\pi a^2 \rho$
- (b)  $\lambda \pi a^2$
- (c)  $\rho \pi a^2 h$
- (d)  $\frac{\sigma \ell^3}{a}$

b) Parmi les expressions suivantes, identifier celles qui sont homogènes à un champ électrostatique.

- (a)  $\frac{\sigma}{\epsilon_0}$
- (b)  $(V_2 - V_1)e$
- (c)  $\frac{q^2}{4\pi\epsilon_0 r}$
- (d)  $\frac{\rho r}{\epsilon_0}$

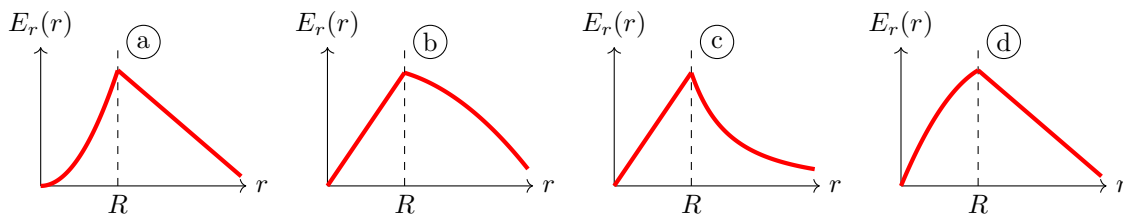
**Entraînement 4.12 — Tracé d'une composante du champ.**



La composante radiale du champ électrostatique créé au point M par une sphère de centre O, de rayon  $R$ , dotée d'une densité volumique de charge  $\rho_0$ , est donnée en fonction de la distance  $r = OM$  par

$$E_r(r < R) = \frac{\rho_0 r}{3\epsilon_0} \quad \text{et} \quad E_r(r > R) = \frac{3\rho_0 R^3}{\epsilon_0 r^2}.$$

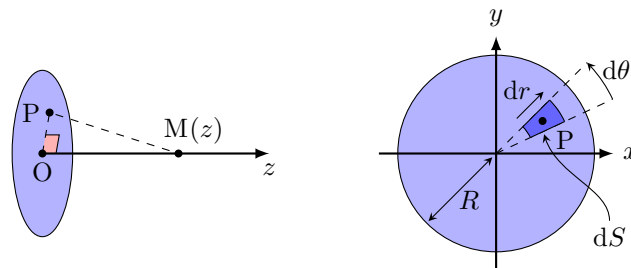
Laquelle de ces courbes décrit l'évolution de  $E_r$  en fonction de  $r$  ?



**Entraînement 4.13 — Calcul d'un champ électrostatique par intégration.**



Un disque, d'axe  $(Oz)$  et de rayon  $R$ , possède une charge surfacique uniforme  $\sigma$ . On note  $P$  un point du disque tandis que  $M$  est un point de l'espace qui appartient à l'axe  $(Oz)$ .



a) Comment s'exprime l'aire élémentaire  $dS$  centrée sur  $P(r, \theta)$  ?

- (a)  $dS = r \, dr \, dz$  (c)  $dS = dx \, dz$   
 (b)  $dS = r \sin(\theta) \, dr \, d\theta$  (d)  $dS = r \, dr \, d\theta$

b) Quelle est l'expression du produit scalaire  $\vec{PM} \cdot \vec{e}_z$  ?

- (a)  $\vec{PM} \cdot \vec{e}_z = PM$  (c)  $\vec{PM} \cdot \vec{e}_z = z$   
 (b)  $\vec{PM} \cdot \vec{e}_z = dz$  (d)  $\vec{PM} \cdot \vec{e}_z = r$

c) Quelle est l'expression de la distance  $PM = \|\vec{PM}\|$  ?

- (a)  $PM = z^2 + r^2$  (c)  $PM = \sqrt{dz^2 + dr^2}$   
 (b)  $PM = \sqrt{z^2 + r^2}$  (d)  $PM = dr + dz$

Le principe de superposition énonce que le champ électrostatique en  $M$  est la somme des champs électrostatiques créés par chaque élément de surface d'aire  $dS$  et de charge  $dQ = \sigma \, dS$ . L'expression du champ créé par une source ponctuelle permet alors d'exprimer la composante axiale  $E_z = \vec{E} \cdot \vec{e}_z$  du champ créé par le disque sur l'axe  $(Oz)$  par :

$$E_z = \iint_P \frac{\sigma \, dS \, \vec{PM} \cdot \vec{e}_z}{4\pi\epsilon_0 \, PM^3} = \int_{r=0}^{r=R} \int_{\theta=0}^{\theta=2\pi} \frac{\sigma \, r \, dr \, d\theta}{4\pi\epsilon_0} \frac{z}{(r^2 + z^2)^{3/2}}$$

d) Calculer l'intégrale précédente à l'aide du changement de variable  $u = r^2$ .

e) Simplifier l'expression obtenue en d) si  $z \ll R$  afin de retrouver l'expression du champ créé par un plan infini uniformément chargé.

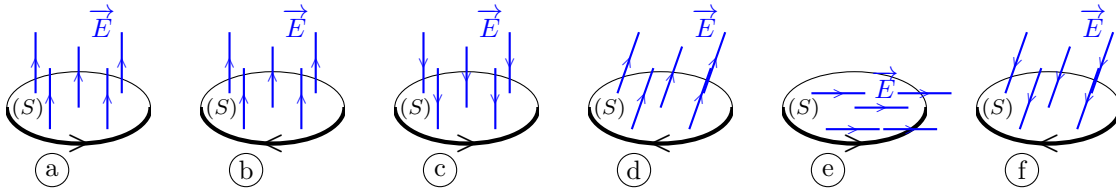
f) Sachant que  $(1 + \varepsilon)^\alpha = 1 + \alpha\varepsilon$  à l'ordre 1 en  $\varepsilon$  quand  $\varepsilon \rightarrow 0$ , simplifier l'expression obtenue en d) si  $z \gg R$  afin de retrouver l'expression du champ créé par une charge ponctuelle  $Q_0 = \pi R^2 \sigma$ .

# Flux électrostatique

## Entraînement 4.14 — Signe d'un flux électrostatique à travers une surface.



Le flux  $\phi = \iint \vec{E} \cdot d\vec{S}$  du champ électrostatique  $\vec{E}$  à travers une surface orientée  $(S)$  dépend de l'orientation de cette surface (voir ci-dessous la flèche sur chaque contour).



a) Quels sont les cas pour lesquels  $\phi > 0$ ? .....

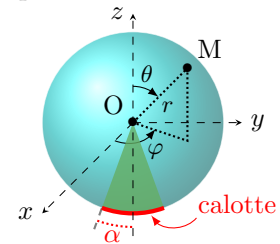
b) Que vaut  $\phi$  dans le cas (e)? .....

## Entraînement 4.15 — Flux électrostatique à travers une calotte sphérique.



Une charge ponctuelle  $q$ , placée au centre  $O$  d'un repère sphérique, crée le champ électrostatique  $\vec{E} = \frac{1}{4\pi\epsilon_0} \frac{q}{r^2} \vec{e}_r$  avec  $(r, \theta, \varphi)$  les coordonnées sphériques du point  $M$ .

La calotte sphérique représentée ci-contre (en deux dimensions) est la portion de sphère de rayon  $R$  qui intersecte le demi-cône d'axe de révolution  $(Oz)$  et de demi-angle  $\alpha > 0$ .



a) Comment s'exprime un élément de surface  $dS$  de la calotte sphérique ?

- (a)  $dS = R^2 \cos(\varphi) d\varphi d\theta$
- (b)  $dS = R \sin(\varphi) d\varphi d\theta$
- (c)  $dS = R \cos(\theta) d\theta d\varphi$
- (d)  $dS = R^2 \sin(\theta) d\theta d\varphi$

.....

b) Comment s'exprime le flux  $\phi$  du champ électrostatique  $\vec{E}$  à travers la calotte sphérique ?

- (a)  $\phi = \int_{\varphi=\pi-\alpha}^{\pi+\alpha} \int_{\theta=0}^{2\pi} \vec{E} \cdot R^2 \cos(\varphi) d\varphi d\theta \vec{e}_r$
- (b)  $\phi = \int_{\varphi=-\alpha}^{\alpha} \int_{\theta=0}^{\pi} \vec{E} \cdot R^2 \cos(\varphi) d\varphi d\theta \vec{e}_r$
- (c)  $\phi = \int_{\theta=\pi-\alpha}^{\pi} \int_{\varphi=0}^{2\pi} \vec{E} \cdot R^2 \sin(\theta) d\theta d\varphi \vec{e}_r$
- (d)  $\phi = \int_{\theta=-\alpha}^{\alpha} \int_{\varphi=0}^{2\pi} \vec{E} \cdot R^2 \sin(\theta) d\theta d\varphi \vec{e}_r$

.....

c) Calculer la double intégrale. Écrire le résultat obtenu sous la forme  $\phi = K(1 - \cos \alpha)$ , avec  $K$  une constante à exprimer en fonction de  $q$  et  $\epsilon_0$ . .....

d) Réaliser l'application numérique de  $\phi$  dans le cas où  $\alpha = \pi$  et  $q = e$ . .....

**Entraînement 4.16 — Avec le théorème de Gauss.**



Une distribution volumique, de charge volumique inconnue, crée un champ électrostatique dont l'expression en repérage sphérique est  $\vec{E}(M) = E_r \vec{e}_r = \frac{q}{4\pi\epsilon_0} \frac{1}{r^2} \left(1 + \frac{r}{a}\right) e^{-r/a} \vec{e}_r$ , où  $q$  et  $a$  sont des constantes positives.

a) Exprimer le flux électrostatique  $\phi(\vec{E})$  à travers une sphère de rayon  $r$  en fonction de  $E(r)$  et  $r$ .

.....

b) Exprimer la charge  $Q = \epsilon_0 \phi(\vec{E})$  (théorème de Gauss) située à l'intérieur de la sphère de rayon  $r$ .

(a)  $\frac{q}{\epsilon_0} \left(1 + \frac{r}{a}\right) e^{-r/a}$

(c)  $q \left(1 + \frac{r}{a}\right) e^{-r/a}$

(b)  $q \left(a + \frac{r}{a}\right) e^{-r/a}$

(d)  $-q e^{-r/a}$

.....

c) Quelles sont les valeurs limites de  $Q$  pour  $r \rightarrow 0$  et  $r \rightarrow +\infty$ ? .....

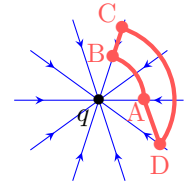
## Circulation du champ électrostatique – Potentiel électrostatique



**Entraînement 4.17 — Signe d'une circulation électrostatique le long d'un chemin.**



Les lignes du champ électrostatique  $\vec{E}$  produit par une charge ponctuelle  $q$  négative convergent vers cette charge. La circulation  $\mathcal{C} = \int \vec{E} \cdot d\vec{\ell}$  le long d'un chemin orienté dépend de l'orientation de ce chemin.



Pour chaque chemin orienté, indiquer si la circulation  $\mathcal{C}$  est positive, négative ou nulle.

a) A→B .       b) B→C .       c) C→D .       d) D→A .

**Entraînement 4.18 — Orientation du champ au sein d'un condensateur plan.**



Le schéma ci-contre représente un condensateur plan dont les armatures sont portées aux potentiels  $V_1 = -6\text{ V}$  et  $V_2 = 3\text{ V}$ . Deux surfaces équipotentielles sont représentées en pointillés.

a) Donner l'orientation du vecteur  $\vec{\text{grad}} V$  ?

(a)  $\vec{e}_x$

(b)  $-\vec{e}_y$

(c)  $-\vec{e}_x$

(d)  $\vec{e}_z$

.....

b) Donner l'orientation du vecteur champ électrostatique  $\vec{E}$  ?

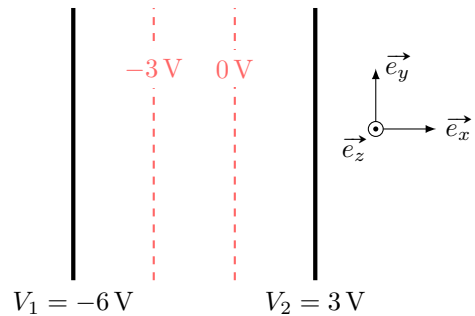
(a)  $\vec{e}_x$

(b)  $-\vec{e}_y$

(c)  $-\vec{e}_x$

(d)  $\vec{e}_z$

.....



**Entraînement 4.19 — Circulation et différence de potentiel.**



Soit un segment orienté allant d'un point A à un point B de coordonnées cartésiennes respectives  $(a, 0)$  et  $(2a, 2a)$ . Le vecteur-déplacement élémentaire en repérage cartésien s'exprime comme  $\vec{d\ell} = dx\vec{e}_x + dy\vec{e}_y$ .

a) Laquelle des relations suivantes est valable le long du segment AB ?

- (a)  $dy = dx$      
  (b)  $dy = 2 dx$      
  (c)  $dx = 0$      
  (d)  $dy = 0$

Soit un champ  $\vec{E} = E_0(1 - e^{-x/a})\vec{e}_x$ , avec  $a > 0$ .

b) Sachant que le champ électrostatique est orienté dans le sens des potentiels électriques  $V$  décroissants, déterminer sans calcul lequel de  $V(x = a)$  ou  $V(x = 2a)$  est le potentiel le plus élevé . . . . .

c) La circulation électrostatique sur le segment AB est reliée à la différence de potentiel électrique par

$$V(A) - V(B) = \int_A^B \vec{E} \cdot \vec{d\ell}.$$

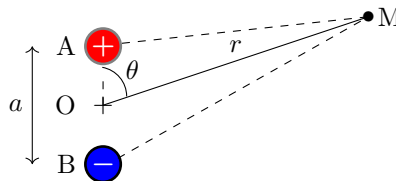
Exprimer  $V(A) - V(B)$  en fonction de  $E_0$  et  $a$  . . . . .

**Entraînement 4.20 — Approximation dipolaire.**



Soit un dipôle électrostatique constitué de deux charges ponctuelles opposées  $+q$  et  $-q$ , séparées par une distance  $AB = a$ . D'après le principe de superposition, le potentiel créé par ce doublet en un point M s'écrit

$$V(M) = \frac{q}{4\pi\epsilon_0} \left( \frac{1}{AM} - \frac{1}{BM} \right).$$



a) Laquelle de ces propositions donne l'expression de  $AM = \|\vec{AM}\|$  au carré en fonction de  $a$  et  $\theta$  ?

- (a)  $AM^2 = r^2 + \left(\frac{a}{2}\right)^2 - ar \sin(\theta)$      
  (c)  $AM^2 = r^2 + \left(\frac{a}{2}\right)^2 - ar \cos(\theta)$   
 (b)  $AM^2 = r^2 + \left(\frac{a}{2}\right)^2 + ar \cos(\theta)$

On se place dans l'approximation dipolaire, c'est-à-dire loin du doublet de charges :  $r \gg a$ .

b) Réaliser un développement limité de  $1/AM$  à l'ordre 1 en  $a/r$  . . . . .

c) Même question pour  $1/BM$  . . . . .

d) En déduire l'expression du potentiel  $V(M)$  dans l'approximation dipolaire.

**Entraînement 4.21 — Effet de pointe.**



Un individu porte une charge négative, ce qui modifie localement les propriétés du champ électrostatique. La figure ci-dessous représente qualitativement les lignes de champ en trait plein tandis que les (surfaces) équipotentielles sont illustrées en pontillés. L'échelle du schéma est 1 division  $\leftrightarrow$  40 cm.

a) Comment sont orientées les lignes de champ électrostatique ?

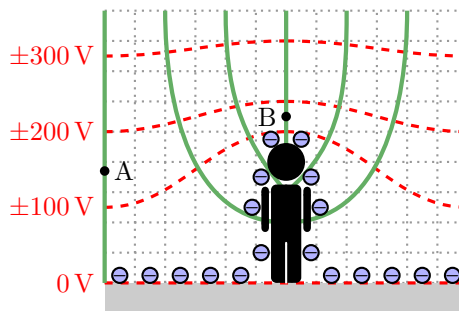
- (a) vers l'individu
- (b) sortant de l'individu

b) Quel est le signe des valeurs de potentiel électrostatique des équipotentielles représentées ?

c) Évaluer l'ordre de grandeur du champ en A .

d) Indiquer par une analyse de la carte de champ, et sans aucun calcul, laquelle de ces propositions est vraisemblable :

- (a)  $\vec{E}(B) > \vec{E}(A)$
- (b)  $\|\vec{E}(B)\| > \|\vec{E}(A)\|$
- (c)  $\vec{E}(B) = \vec{E}(A)$
- (d)  $\|\vec{E}(B)\| < \|\vec{E}(A)\|$



## Toujours plus d'électrostatique

**Entraînement 4.22 — Charge totale et charge moyenne.**



La charge totale d'une distribution occupant un volume  $V$  s'exprime comme  $Q = \iiint_{(V)} \rho dV$  avec  $\rho$  la charge volumique et  $dV$  le volume élémentaire dont les expressions en repérages cartésien, cylindrique et sphérique sont respectivement  $dV = dx dy dz$ ,  $dV = r dr d\theta dz$  et  $dV = r^2 \sin(\theta) dr d\theta d\varphi$ .

Déterminer la charge totale et la charge volumique moyenne  $\rho_m = Q/V$  des distributions ci-dessous.

*On notera que  $\rho_0$  est une constante homogène à une charge volumique.*

a) Un pavé, d'épaisseur  $2H$  selon la direction  $\vec{e}_z$  ( $-H \leq z \leq +H$ ) et de base d'aire  $\mathcal{A}$  a une charge volumique  $\rho(x, y, z) = \rho_0 \left(1 - \frac{z^2}{H^2}\right)$ .

b) Un cylindre, de rayon  $R$  et de hauteur  $H$ , a une charge volumique  $\rho(r, \theta, z) = \rho_0 \left(1 - \frac{r^2}{R^2}\right)$ .

c) L'espace (infini) a une charge volumique  $\rho(r, \theta, \varphi) = \rho_0 \frac{R^2}{r^2} \exp\left(-\frac{r}{R}\right)$  où  $R$  est une constante homogène à une distance.

**Entraînement 4.23 — Analyse dimensionnelle.**



Laquelle de ces expressions n'est pas homogène à un potentiel électrostatique  $V$  (ou une tension  $U$ ) si  $C$  est une capacité de condensateur,  $q$  une charge électrique,  $T$  une température,  $R$  la constante des gaz parfaits,  $N_A$  la constante d'Avogadro,  $E_z$  un champ électrostatique et  $d$  une distance ?

(a)  $U = Cq$

(b)  $V = RT/qN_A$

(c)  $U = E_z d$

**Entraînement 4.24 — Calcul de divergence de champ électrostatique.**



Le champ électrostatique et sa divergence en repérage cylindrique sont respectivement

$$\vec{E} = E_r \vec{e}_r + E_\theta \vec{e}_\theta + E_z \vec{e}_z \quad \text{et} \quad \text{div} \vec{E} = \frac{1}{r} \frac{\partial(rE_r)}{\partial r} + \frac{1}{r} \frac{\partial E_\theta}{\partial \theta} + \frac{\partial E_z}{\partial z}.$$

Exprimer la divergence du champ  $\vec{E}_1 = \frac{\alpha}{r} \vec{e}_r$  avec  $\alpha$  une constante .....



**Entraînement 4.25 — Tracé d'une composante du champ – Bis repetita.**

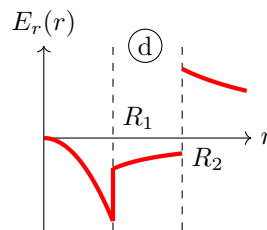
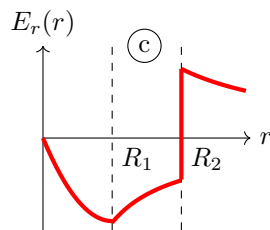
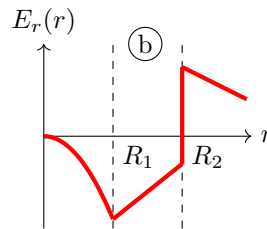
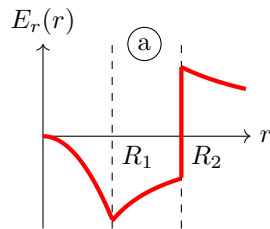


Une distribution de charge à symétrie cylindrique, d'axe ( $Oz$ ), de rayons caractéristiques  $R_1$  et  $R_2$ , produit en un point de coordonnée radiale  $r$  un champ électrostatique de composante radiale donnée par

$$\begin{cases} E_r(r < R_1) = -\frac{\alpha r^2}{3\epsilon_0} \\ E_r(R_1 < r < R_2) = -\frac{\alpha R_1^3}{3\epsilon_0 r} \\ E_r(r > R_2) = \frac{1}{\epsilon_0 r} \left( -\frac{\alpha R_1^3}{3} + \sigma R_2 \right) \end{cases}$$

avec  $\alpha$  et  $\sigma$  deux constantes positives.

Laquelle de ces courbes décrit l'évolution de  $E_r$  en fonction de  $r$  ? .....



**Entraînement 4.26 — Orientation du champ créé par une charge ponctuelle.**



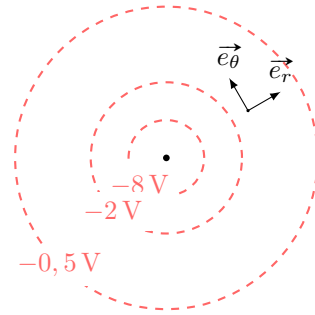
Sur le schéma ci-contre, on trouve 3 surfaces équipotentielles générées par une charge ponctuelle placée au centre.

a) Donner l'orientation du vecteur  $\vec{\text{grad}} V$  ?

- (a)  $\vec{e}_\theta$     (b)  $-\vec{e}_r$     (c)  $-\vec{e}_\theta$     (d)  $\vec{e}_r$

b) Donner l'orientation du vecteur champ électrostatique  $\vec{E}$  ?

- (a)  $\vec{e}_\theta$     (b)  $-\vec{e}_r$     (c)  $-\vec{e}_\theta$     (d)  $\vec{e}_r$

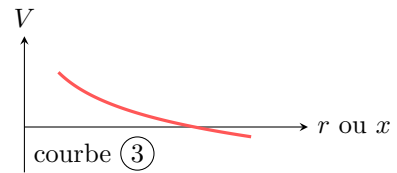
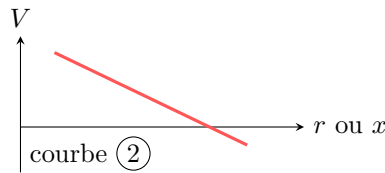
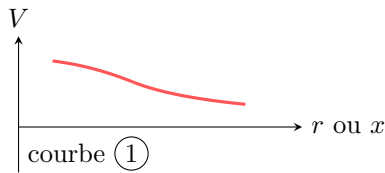


**Entraînement 4.27 — Un potentiel, une courbe.**



Les expressions des potentiels électrostatiques  $V_a$ ,  $V_b$  et  $V_c$  données ci-après rendent compte de situations physiques volontairement non détaillées ici. Les fonctions  $V_a$ ,  $V_b$  et  $V_c$  sont définies pour des valeurs de  $r$  strictement positives. Enfin,  $\lambda$ ,  $\sigma$  et  $\rho$  sont des constantes positives.

$$V_a(r) = \frac{-\lambda}{2\pi\epsilon_0} \ln\left(\frac{r}{r_0}\right) \quad , \quad V_b(r) = \begin{cases} \frac{\rho}{6\epsilon_0}(3R^2 - r^2) & \text{si } r \leq R \\ \frac{\rho}{3\epsilon_0} \frac{R^3}{r} & \text{si } r \geq R \end{cases} \quad \text{et} \quad V_c(x) = V_0 - \frac{\sigma}{\epsilon_0} x$$



Attribuer à chaque potentiel électrostatique une courbe.

- a)  $V_a$  .....     b)  $V_b$  .....     c)  $V_c$  .....

**Entraînement 4.28 — Énergie électrostatique au sein d'un condensateur.**



Soit un condensateur sphérique dont l'armature interne est une sphère de rayon  $R$  et l'armature externe une sphère de rayon  $R + h$ . Le champ électrostatique entre les deux armatures est  $\vec{E} = -\frac{Q}{4\pi\epsilon_0 r^2} \vec{e}_r$ , avec  $-Q$  la charge portée par l'armature interne.

L'énergie électrostatique stockée entre les armatures du condensateur est

$$\mathcal{E} = \int_{r=R}^{R+h} \int_{\theta=0}^{\pi} \int_{\varphi=0}^{2\pi} \frac{\epsilon_0 \vec{E}^2}{2} r^2 \sin \theta \, dr \, d\theta \, d\varphi.$$

Exprimer  $\mathcal{E}$  en fonction de  $R$ ,  $h$ ,  $Q$  et  $\epsilon_0$  .....



### Réponses mélangées

nulle	(b) et (c)	(d)	$\frac{1}{r} \left( 1 + \frac{a \cos(\theta)}{2r} \right)$	0	Courbe (3)	(d)		
$\frac{\sigma}{2\epsilon_0}$	$+1000 \times e$	(d)	$\pi R^2$	(b)	$1 \times 10^2 \text{ V} \cdot \text{m}^{-1}$	(a)	$\frac{Q_0}{4\pi\epsilon_0 z^2}$	
$2\pi R$	(c)	$\frac{\sigma}{2\epsilon_0} \left( 1 - \sqrt{\frac{z^2}{z^2 + R^2}} \right)$	(a)	$1,8 \times 10^{-8} \text{ V} \cdot \text{m}$	(c)	$V(a)$		
$\frac{1}{r} \left( 1 - \frac{a \cos(\theta)}{2r} \right)$	$(\text{O}, \vec{e}_x, \vec{e}_z)$ et $(\text{O}, \vec{e}_y, \vec{e}_z)$	(b)	$2\pi^2 q_0$	positif	Courbe (1)			
$6 \times 10^{-6} \text{ C}$	(c)	négative	(c)	(b)	$5\vec{e}_y$	(c) et (d)	$\frac{Q^2}{8\pi\epsilon_0} \frac{h}{R(R+h)}$	
$\underbrace{\frac{q}{2\epsilon_0}}_K (1 - \cos \alpha)$	$6,5 \times 10^{-2} \text{ m}^3$	(c)	$Q = \rho_0 \pi R^2 H/2, \rho_m = \rho_0/2$	0	(b) et (d)			
(b)	$4\pi r^2 E(r)$	nulle	(a) et (f)	$E_0 a(1 + e^{-2} - e^{-1})$	(b)	$R d\theta$		
(c)	$Q = \rho_0 4\pi R^3, \rho_m = 0$	$\vec{e}_y$	(c)	(a)	$\frac{qa \cos(\theta)}{4\pi\epsilon_0 r^2}$	$\vec{e}_z$	positive	
$(\text{O}, \vec{e}_x + \vec{e}_y, \vec{e}_z), (\text{O}, \vec{e}_x - \vec{e}_y, \vec{e}_z)$ et $(\text{O}, \vec{e}_x, \vec{e}_y)$	$L \times \ell$	$3,3 \times 10^{-9} \text{ C}$	$2,57 \times 10^{-15} \text{ C} \cdot \text{m}^{-2}$	(b)				
$r dr d\theta$	0	$q$ et 0	$\frac{4}{3}\pi R^3$	(b)	Courbe (2)	$-2\vec{e}_x + 8\vec{e}_y$	$\lambda_0 \ell$	(d)
(b) et (c)	$7,9 \times 10^{-1} \text{ m}^2$	$Q = 4\rho_0 \mathcal{A}H/3, \rho_m = 2\rho_0/3$	(d)	(a)	(a) et (d)			

► Réponses et corrigés page 228

# Magnétostatique

**Prérequis**

Repérages cartésien, cylindrique et sphérique. Intégrales curvilignes, de surface et de volume. Champs scalaire et vectoriel. Théorème d'Ampère.

**Constantes utiles**

- Charge électrique élémentaire :  $e = 1,602 \times 10^{-19}$  C
- Masse de l'électron :  $m_e = 9,11 \times 10^{-31}$  kg
- Perméabilité magnétique du vide :  $\mu_0 = 4\pi \times 10^{-7}$  H · m<sup>-1</sup>

## Distributions de courant et densités de courant

**Entraînement 5.1 — Dimension de densités de courant.**



La dimension d'une intensité électrique est notée I, celle d'un temps T, et celle d'une longueur L.

a) On note  $\vec{j}$  une densité volumique de courant,  $\vec{j}_s$  une densité surfacique de courant et  $I$  l'intensité d'un courant. Quelles sont les relations correctes ?

- (a)  $I = \iint \vec{j} \cdot d\vec{S}$     
  (b)  $\vec{j} = \iint I d\vec{S}$     
  (c)  $I = \iiint \vec{j} \cdot d\vec{V}$     
  (d)  $I = \int \vec{j}_s \cdot d\vec{\ell}$

b) Comment s'écrit la dimension de la norme d'une densité volumique de courant  $\vec{j}$  ?

- (a) I · L<sup>-3</sup>    
  (b) I · T · L<sup>-2</sup>    
  (c) I · T · L<sup>-3</sup>    
  (d) I · L<sup>-2</sup>

c) Comment s'écrit la dimension de la norme d'une densité surfacique de courant  $\vec{j}_s$  ?

- (a) I · L<sup>-1</sup>    
  (b) I · T · L<sup>-1</sup>    
  (c) I · L<sup>2</sup>    
  (d) I · L<sup>-2</sup>

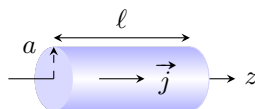
**Entraînement 5.2 — Densité volumique de courant en coordonnées cylindriques.**



Soit un conducteur cylindrique (rayon  $a$  et longueur  $\ell$ ) d'axe (Oz) parcouru par un courant d'intensité

$$I = \iint \vec{j} \cdot d\vec{S},$$

où  $\vec{j} = j_0 \frac{b}{r} \vec{e}_z$  est le vecteur densité volumique de courant, avec  $j_0$  et  $b$  constants, et  $d\vec{S} = dS \vec{e}_z$  un élément de section orientée.



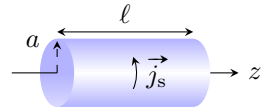
Exprimer  $I$  en fonction de la section  $S$  du conducteur, du rayon  $a$  et des constantes  $j_0$  et  $b$ .

.....

**Entraînement 5.3 — Densité surfacique de courant en coordonnées cylindriques.** ⓪ Ⓛ Ⓛ Ⓛ Ⓛ

Soit un conducteur cylindrique (rayon  $a$  et longueur  $\ell$ ) d'axe ( $Oz$ ) parcouru par un courant d'intensité

$$I = \int \vec{j}_s \cdot d\vec{\ell},$$



où  $\vec{j}_s = j_{s,0} \vec{e}_\theta$  est un vecteur densité surfacique de courant constant et  $d\vec{\ell} = dz \vec{e}_z$  un élément de longueur orientée.

Exprimer  $I$  en fonction de la longueur  $\ell$  du conducteur et de la constante  $j_{s,0}$ .

.....

## Symétries et invariances

**Entraînement 5.4 — Vent solaire.** ⓪ Ⓛ Ⓛ Ⓛ Ⓛ

Le vent solaire est un flux de particules chargées, majoritairement constitué de protons et de noyaux d'hélium. Le Soleil est considéré comme ponctuel et placé à l'origine  $O$  d'un repère sphérique. En première approximation, le vent solaire est assimilé à un courant de particules radial et stationnaire.

a) Si l'émission est isotrope, quelle est l'expression simplifiée du vecteur densité de courant en  $M(r, \theta, \varphi)$  ?

- (a)  $\vec{j}(M) = j_r(r, \theta) \vec{e}_\theta$                        (c)  $\vec{j}(M) = j_r(r, \theta) \vec{e}_r$   
 (b)  $\vec{j}(M) = j_\theta(r) \vec{e}_\theta$                        (d)  $\vec{j}(M) = j_r(r) \vec{e}_r$

.....

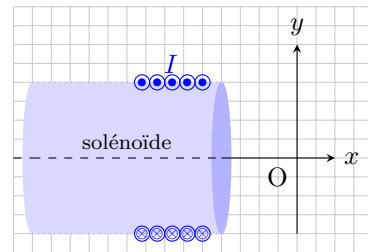
b) Exprimer alors l'intensité  $I_R$  du courant électrique traversant une sphère de rayon  $R$ .

.....

**Entraînement 5.5 — Propriétés de symétrie d'une distribution de courant (I).** ⓪ Ⓛ Ⓛ Ⓛ Ⓛ

Soit un solénoïde d'axe ( $Ox$ ), parcouru par un courant stationnaire d'intensité  $I$ .

On rappelle qu'un plan de symétrie (resp. antisymétrie) d'une distribution de courant est un plan pour lequel les courants de la distribution sont répartis de manière strictement identique (resp. opposée) de part et d'autre du plan.



Parmi les propositions ci-dessous, quelles sont celles qui sont correctes ?

- (a) Le plan ( $xOy$ ) est un plan de symétrie de la distribution.  
 (b) Le plan ( $xOy$ ) est un plan d'antisymétrie de la distribution même si le solénoïde n'est pas infiniment long.  
 (c) Le plan ( $xOz$ ) est un plan d'antisymétrie de la distribution.  
 (d) Le plan ( $xOz$ ) est un plan de symétrie de la distribution seulement si le solénoïde est infiniment long.

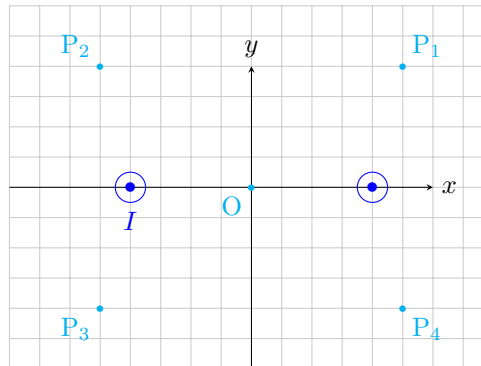
.....



**Entraînement 5.6 — Propriétés de symétrie d'une distribution de courant (II).**



On considère la situation suivante, où deux fils infinis sont parcourus par des courants de même intensité  $I$  et de même sens (de l'arrière vers l'avant).



On rappelle qu'en tout point d'un plan de symétrie (respectivement d'antisymétrie) de la distribution, le champ magnétostatique est perpendiculaire (respectivement appartient) à ce plan.

a) Le plan  $(xOy)$  est un plan d'antisymétrie pour la distribution.

Quelles sont les propositions correctes ?

- (a) Le vecteur  $\vec{e}_z$  est normal à ce plan.
- (b) Au point O, le champ  $\vec{B}$  est selon  $\pm\vec{e}_z$ .
- (c) Au point  $P_1$ , le champ  $\vec{B}$  appartient à ce plan.
- (d) Au point  $P_3$ , le champ  $\vec{B}$  appartient à ce plan.

.....

b) Le plan  $(yOz)$  est un plan de symétrie pour la distribution.

Quelles sont les propositions incorrectes ?

- (a) Le vecteur  $\vec{e}_x$  est normal à ce plan.
- (b)  $\vec{B}(P_4) = B_y(P_4)\vec{e}_y + B_z(P_4)\vec{e}_z$
- (c) Au point  $P_2$ , le champ  $\vec{B}$  est selon  $\pm\vec{e}_y$ .
- (d)  $\vec{B}(O) = B(O)\vec{e}_z$

.....


c) Quelles sont les propositions incomplètes ou incorrectes ?

- (a) Le plan  $(xOz)$  est un plan d'antisymétrie pour la distribution.
- (b)  $\vec{B}(O) = \vec{0}$
- (c) Le champ  $\vec{B}$  est toujours perpendiculaire au plan  $(xOz)$ .
- (d)  $\vec{B}(P_2) = -\vec{B}(P_1)$

.....

**Entraînement 5.7 — Couche épaisse infinie parcourue par un courant.** ⏪ ⏩ ⏴ ⏵

Soit une couche infinie suivant les axes  $(Ox)$  et  $(Oy)$ , située entre les plans d'équations  $z = d$  et  $z = -d$ , parcourue par un courant de densité volumique uniforme  $\vec{j} = j_0 \vec{e}_x$ .



a) Exprimer l'intensité  $I$  du courant qui traverse la surface  $\Sigma$  orientée suivant  $\vec{e}_x$  ...

b) Quelles sont les invariances de cette distribution de courant ?

- (a) invariance par translation parallèlement à l'axe  $(Ox)$
- (b) invariance par rotation autour de l'axe  $(Oz)$
- (c) invariance par translation parallèlement à l'axe  $(Oy)$
- (d) aucune invariance

.....

c) Le champ magnétostatique au point M est suivant le vecteur  $\vec{e}_y$ .

Sachant que les composantes du champ magnétostatique possèdent les mêmes invariances que la distribution, déterminer l'expression correcte.

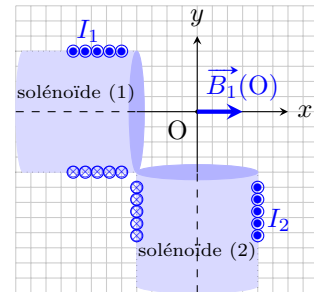
- (a)  $\vec{B}(M) = B_y(y) \vec{e}_y$
- (b)  $\vec{B}(M) = B_y(z) \vec{e}_y$
- (c)  $\vec{B}(M) = B_y(y, z) \vec{e}_y$

.....

## Champs magnétostatiques

**Entraînement 5.8 — Théorème de superposition.** ⏪ ⏩ ⏴ ⏵

Deux solénoïdes longs, parcourus par des courants stationnaires d'intensités  $I_1$  et  $I_2$ , sont positionnés perpendiculairement entre eux et à égale distance d'un point O. En ce point, le champ magnétostatique produit par le solénoïde (1) est supposé s'écrire  $\vec{B}_1(O) = \mu_0 n_1 I_1 \vec{e}_x$ , avec  $n_1$  le nombre de spires par unité de longueur du solénoïde (1).



a) Par analogie avec l'expression fournie pour le solénoïde (1), écrire le champ magnétostatique produit par le solénoïde (2) au point O.

.....

b) D'après le théorème de superposition, comment s'écrit alors le champ total produit au point O ?

- (a)  $\vec{B}(O) = \mu_0 (n_1 I_1 + n_2 I_2) \vec{e}_z$
- (b)  $\vec{B}(O) = \mu_0 (n_1 I_1 - n_2 I_2) \vec{e}_z$
- (c)  $\vec{B}(O) = \mu_0 (n_1 I_1 - n_2 I_2) (\vec{e}_x + \vec{e}_y)$
- (d)  $\vec{B}(O) = \mu_0 (n_1 I_1 \vec{e}_x - n_2 I_2 \vec{e}_y)$

.....

**Entraînement 5.9 — Analyse dimensionnelle et champ magnétique.** Ⓛ Ⓛ Ⓛ Ⓛ

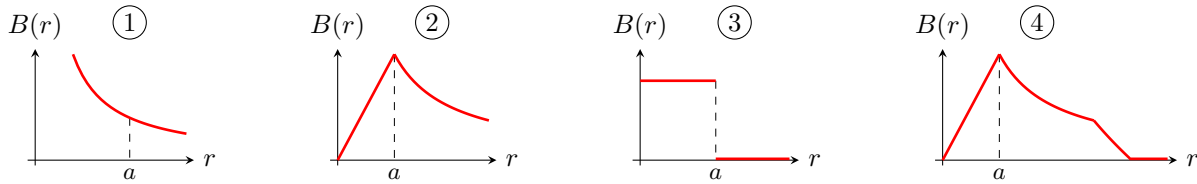
Sachant que la force magnétique s'exprime comme  $\vec{F} = q\vec{v} \wedge \vec{B}$ , avec  $\vec{v}$  une vitesse,  $q$  une charge électrique et  $\vec{B}$  un champ magnétique, déterminer laquelle des expressions ci-dessous est homogène à la norme  $B$  d'un champ magnétique si  $m$  est une masse et  $R$  un rayon.

- (a)  $\frac{qv}{mR}$       (b)  $\frac{mR}{qv}$       (c)  $\frac{qR}{mv}$       (d)  $\frac{mv}{qR}$

.....

**Entraînement 5.10 — Graphes et expressions d'un champ magnétique.** Ⓛ Ⓛ Ⓛ Ⓛ

On donne les graphes associés aux champs magnétiques créés par divers dispositifs, chacun étant parcouru par un courant d'intensité  $I$ .



Le champ magnétique d'un conducteur cylindrique de rayon  $a$  parcouru par un courant volumique uniforme est donné par

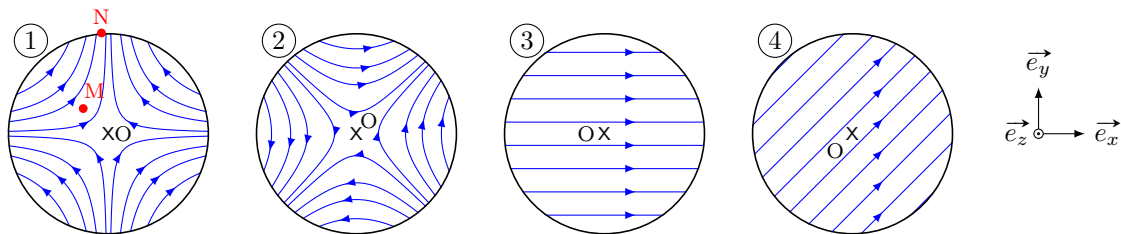
$$B = \frac{\mu_0 I r}{2\pi a^2} \text{ pour } 0 < r < a \quad \text{et} \quad B = \frac{\mu_0 I}{2\pi r} \text{ pour } r > a.$$

Quel graphe correspond au champ magnétique créé par ce conducteur cylindrique? .....

**Entraînement 5.11 — Champ magnétostatique quadrupolaire.** Ⓛ Ⓛ Ⓛ Ⓛ

En repérage cartésien et dans le plan d'équation  $z = 0$ , les composantes du champ magnétostatique créé par un quadrupôle sont  $B_x = ky$ ,  $B_y = kx$  et  $B_z = 0$ , avec  $k$  une constante non nulle.

a) Quelle carte de champ correspond à l'expression du champ donnée ci-dessus? .....



b) En ce qui concerne la carte de champ (1), quelle est la proposition valide ?

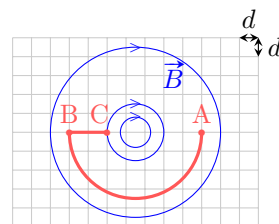
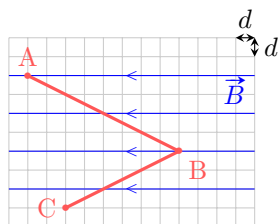
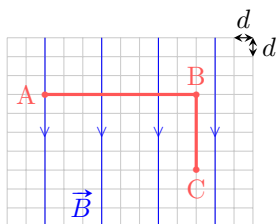
- (a)  $\vec{B}(M) = \vec{B}(N)$       (b)  $B(M) < B(N)$       (c)  $B(M) > B(N)$

.....

# Circulation et flux magnétostatiques

## Entraînement 5.12 — Circulation d'un champ magnétostatique sur un chemin.

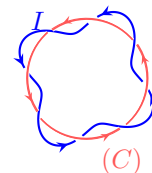
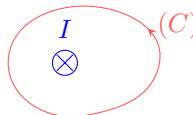

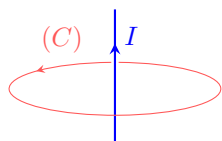
La circulation  $\mathcal{C} = \int_{(\Gamma)} \vec{B} \cdot d\vec{\ell}$  du champ magnétostatique  $\vec{B}$  le long d'un chemin orienté ( $\Gamma$ ) dépend de l'orientation de ce chemin. Pour chaque cas, exprimer  $\mathcal{C}$  le long du chemin  $\widehat{ABC}$  en fonction du pas  $d$  du quadrillage. Sur chaque ligne de champ, la norme  $B$  du champ est supposée uniforme.



- a) .....       b) .....       c) .....

## Entraînement 5.13 — Courants enlacés.

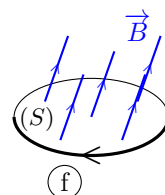
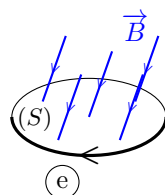
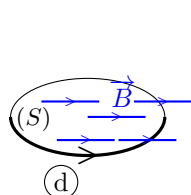
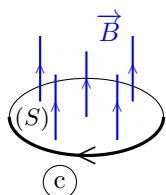
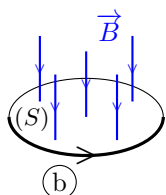
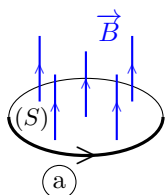
Pour chaque cas, exprimer l'intensité  $I_{\text{enl}}$  des courants enlacés par le contour ( $C$ ) en fonction de l'intensité du courant  $I$ . Attention aux signes!



- a) .....       b) .....       c) .....       d) .....

## Entraînement 5.14 — Signe d'un flux magnétostatique à travers une surface.

On sait que le flux  $\phi = \iint \vec{B} \cdot d\vec{S}$  du champ magnétostatique  $\vec{B}$  à travers une surface orientée ( $S$ ) dépend de l'orientation de cette surface (voir ci-dessous la flèche sur chaque contour).

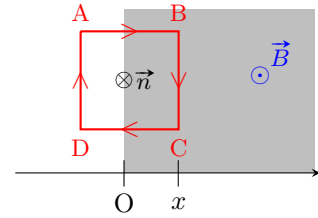


- a) Quels sont les cas pour lesquels  $\phi > 0$ ? .....
- b) Que vaut  $\phi$  dans le cas (d)? .....

**Entraînement 5.15 — Flux à travers une spire carrée.**



Soit une spire carrée de côté  $a$ , orientée dans le sens ABCD. On note  $x$  l'abscisse du côté BC. Dans le demi-espace tel que  $x \geq 0$ , règne un champ magnétostatique  $\vec{B}$  uniforme perpendiculaire au plan de la spire.



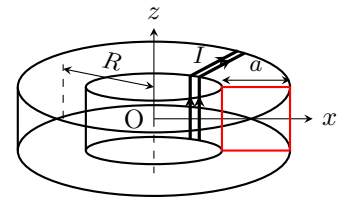
Exprimer le flux magnétostatique à travers la spire orientée, de normale  $\vec{n}$ , défini par  $\phi(\vec{B}) = \iint \vec{B} \cdot \vec{n} dS$ .

- a) Pour  $x < 0$  ...       b) Pour  $x \in [0, a]$        c) Pour  $x > a$  ...

**Entraînement 5.16 — Théorème d'Ampère et flux d'un champ non-uniforme.**



Un fil conducteur est bobiné en  $N$  spires jointives sur un tore circulaire de rayon moyen  $R$  à section carrée de côté  $a$ . La normale de chaque spire est orientée suivant le vecteur  $\vec{e}_\theta$  de la base cylindrique. L'intensité du courant parcourant la bobine est notée  $I$ .



Le champ magnétostatique créé par cette bobine à l'intérieur du tore s'écrit :  $\vec{B} = B(r)\vec{e}_\theta$ .

- a) Soit un cercle de centre O, de rayon  $R - \frac{a}{2} < r < R + \frac{a}{2}$  et orienté suivant le vecteur  $\vec{e}_\theta$ . Quelle est l'intensité du courant enlacé par ce cercle ?

- (a)  $I$                       (b)  $NI$                       (c)  $\frac{a}{R}I$                       (d)  $\frac{a}{R}NI$

.....

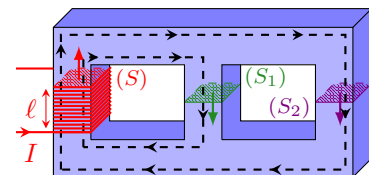
- b) Le théorème d'Ampère s'écrit :  $\oint \vec{B} \cdot d\vec{l} = \mu_0 I_{\text{enl}}$ , avec  $I_{\text{enl}}$  l'intensité du courant enlacé par le contour fermé choisi. En déduire l'expression de la composante  $B(r)$  du champ .....

- c) Exprimer le flux  $\phi(\vec{B}) = \iint \vec{B} \cdot dS\vec{e}_\theta$  à travers la surface d'une spire .....

**(📊) Entraînement 5.17 — Flux magnétostatique au sein d'un circuit magnétique.**



Dans le circuit magnétique représenté ci-contre, de perméabilité relative  $\mu_r = 4000$ , chaque colonne possède une section carrée de côté  $a = 20$  cm. Celle de gauche est bobinée, formant un solénoïde de  $N = 1000$  spires jointives et de longueur  $\ell = 10$  cm.



Le circuit est alimenté par un courant d'intensité  $I = 200$  mA. Le champ magnétostatique produit est guidé dans le circuit selon les lignes fléchées en pointillés et a pour intensité  $B = \mu_0 \mu_r NI / \ell$ .

- a) Calculer avec un chiffre significatif la valeur du champ magnétostatique au sein du solénoïde.

.....

- b) Le flux magnétostatique à travers  $(S)$  s'exprime comme  $\phi = NBS$ . Calculer  $\phi$  .....

- c) Sachant que le flux  $\phi_2$  traversant  $(S_2)$  vérifie  $4\phi_2 = \phi$ , calculer le flux  $\phi_1$  traversant  $(S_1)$ .



# Dipôle magnétostatique

## Entraînement 5.18 — Spire circulaire et développement dipolaire. Ⓛ Ⓛ Ⓛ Ⓛ

Le champ magnétostatique créé en un point  $M(0, 0, z)$  par un courant d'intensité  $I$  parcourant une spire de rayon  $R$  et d'axe  $(Oz)$  est  $\vec{B}(M) = \frac{\mu_0 I R^2}{2(R^2 + z^2)^{3/2}} \vec{e}_z$ .

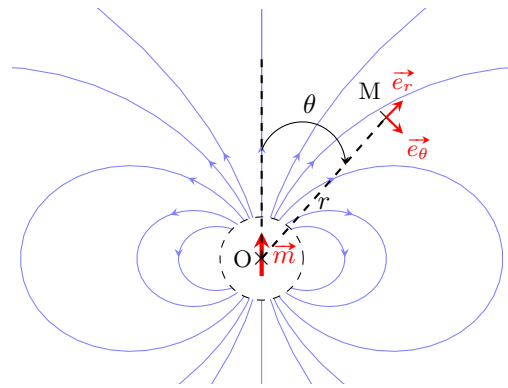
a) Quel est le moment magnétique associé à cette source de champ magnétostatique ?

- (a)  $\vec{M} = \pi R^2 I$       (b)  $\vec{M} = \mu_0 \pi R^2 I \vec{e}_z$       (c)  $\vec{M} = \pi R^2 I \vec{e}_z$

b) Simplifier l'expression du champ magnétostatique dans l'approximation dipolaire  $z \gg R$ .

## Entraînement 5.19 — Champ créé par un dipôle. Ⓛ Ⓛ Ⓛ Ⓛ

La carte de champ d'un dipôle magnétique de centre  $O$  et de moment magnétique  $\vec{m}$  est représentée ci-contre. Le champ magnétostatique est noté  $\vec{B}$ .

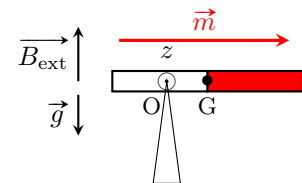


En s'aidant de la carte fournie et en étudiant la situation pour certains angles particuliers, identifier l'expression correcte de  $\vec{B}$  en un point  $M$  quelconque loin du dipôle.

- (a)  $\vec{B}(M) = \frac{\mu_0 m}{4\pi r^3} (2 \sin(\theta) \vec{e}_r - \cos(\theta) \vec{e}_\theta)$       (c)  $\vec{B}(M) = \frac{\mu_0 m}{4\pi r^3} (2 \cos(\theta) \vec{e}_r - \sin(\theta) \vec{e}_\theta)$   
 (b)  $\vec{B}(M) = \frac{\mu_0 m}{4\pi r^3} (2 \sin(\theta) \vec{e}_r + \cos(\theta) \vec{e}_\theta)$       (d)  $\vec{B}(M) = \frac{\mu_0 m}{4\pi r^3} (2 \cos(\theta) \vec{e}_r + \sin(\theta) \vec{e}_\theta)$

## Entraînement 5.20 — Équilibre d'un aimant. Ⓛ Ⓛ Ⓛ Ⓛ

Un aimant très fin, de moment magnétique  $\vec{m}$ , est posé sur une pointe en un point  $O$  différent de son centre de gravité  $G$ . L'ensemble est plongé dans un champ magnétostatique  $\vec{B}_{\text{ext}}$  vertical uniforme. L'aimant subit le couple magnétique de moment  $\vec{\Gamma} = \vec{m} \wedge \vec{B}_{\text{ext}}$ . À l'équilibre, il est à l'horizontale.



a) Exprimer la projection du moment  $\vec{\Gamma}$  suivant l'axe  $(Oz)$  .....

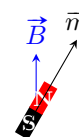
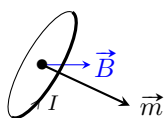
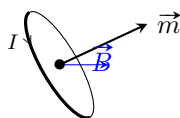
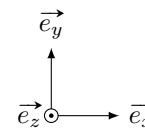
b) Le moment du poids par rapport à l'axe  $(Oz)$  s'écrit  $-dMg$ , avec  $M$  la masse de l'aimant et  $d = OG$ . En supposant qu'il n'y a pas d'autre moment, exprimer la distance  $d$  à l'équilibre.

**Entraînement 5.21 — Moment de force magnétique.**



On rappelle qu'un dipôle de moment magnétique  $\vec{m}$ , baignant dans un champ magnétostatique extérieur uniforme  $\vec{B}$ , subit des forces magnétiques de moment  $\vec{\Gamma} = \vec{m} \wedge \vec{B}$ .

Pour chaque situation suivante (boucle de courant ou aimant droit), les vecteurs  $\vec{m}$  et  $\vec{B}$  sont dans le plan  $(Oxy)$ . Indiquer la direction et le sens du moment  $\vec{\Gamma}$ .



- a) .....       b) .....       c) .....       d) .....

**Entraînement 5.22 — Force exercée sur un dipôle.**



Un dipôle de moment magnétique  $\vec{m}$  dans un champ magnétostatique  $\vec{B}_{\text{ext}}$  non uniforme subit la force  $\vec{F} = -\text{grad}(E_p)$ , avec  $E_p = -\vec{m} \cdot \vec{B}_{\text{ext}}$ . En coordonnées cylindriques, on a  $\text{grad}(f(r)) = \frac{df}{dr} \vec{e}_r$ .

- a) Déterminer l'expression de  $\vec{F}$  pour un dipôle qui serait de même direction et de même sens qu'un champ d'expression  $\vec{B}_{\text{ext}} = \frac{\mu_0 I}{2\pi r} \vec{e}_\theta$  (fil rectiligne infini d'axe  $(Oz)$ ).

.....

- b) Vers quelles zones le dipôle est-il alors attiré ?

- (a) celles de champ plus faible      (b) celles de champ plus intense

.....

## Toujours plus de magnétostatique

**Entraînement 5.23 — Encore une analyse dimensionnelle (I).**



Quelle expression est homogène à la norme  $B$  d'un champ magnétique si  $I$  est une intensité électrique,  $\mu_0$  la perméabilité magnétique du vide et  $R$  un rayon ?

- (a)  $\frac{I}{2\pi R}$       (b)  $\frac{2\pi R \mu_0}{I}$       (c)  $\frac{\mu_0 I}{2\pi R}$       (d)  $\frac{2\pi \mu_0}{IR}$

.....

**Entraînement 5.24 — Encore une analyse dimensionnelle (II).**



Quelle expression est homogène à une norme  $B$  de champ magnétique si  $I$  est une intensité électrique,  $N$  un nombre de spires,  $S$  une surface et  $L$  une inductance ?

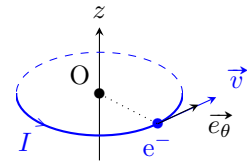
- (a)  $B = \frac{LI}{NS}$       (b)  $B = \frac{LS}{NI}$       (c)  $B = \frac{NS}{LI}$       (d)  $B = \frac{NL}{IS}$

.....

**Entraînement 5.25 — Moment magnétique élémentaire : magnéton de Bohr.**



Dans le cadre du modèle classique de Bohr, l'électron (charge  $-e$ , masse  $m_e$ ) de l'atome d'hydrogène décrit un cercle (rayon  $r$ , période de révolution  $T$ ) centré sur le noyau atomique (origine O du repère). L'orbite est supposée dans le plan  $z = 0$ . Le vecteur vitesse  $\vec{v}$  indique le sens de rotation de l'électron. La constante de Planck est  $h = 6,63 \times 10^{-34} \text{ J} \cdot \text{s}$ .



a) En considérant que l'électron définit une boucle de courant circulaire (une spire), comment s'exprime l'intensité  $I$  correspondante (voir schéma pour l'orientation) ?

- a)  $I = eT$      
  b)  $I = e/T$      
  c)  $I = -eT$      
  d)  $I = -e/T$

b) De loin, le système est équivalent à un dipôle magnétique de moment magnétique  $\vec{m} = I\vec{S}$ , avec  $\vec{S}$  le vecteur surface de la spire. Donner l'expression de  $\vec{m}$  en fonction de  $e$ ,  $T$ ,  $r$  et  $\vec{e}_z$ .

c) Le moment cinétique de l'électron par rapport au noyau (point O) est  $\vec{\sigma} = \frac{2m_e}{T}\vec{S}$ . Montrer alors que  $\vec{m} = \gamma\vec{\sigma}$ , avec  $\gamma$  le rapport gyromagnétique de l'électron à exprimer en fonction de  $e$  et  $m_e$ .

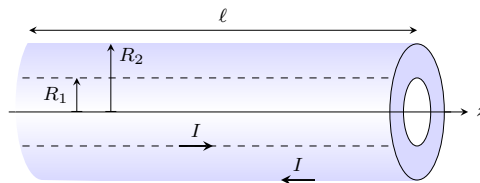
d) La quantification du moment cinétique  $\|\vec{\sigma}\| = n\hbar$ , avec  $n \in \mathbb{N}^*$  et  $\hbar = \frac{h}{2\pi}$ , conduit à définir un moment magnétique élémentaire  $\mu_B$  (magnéton de Bohr). Indiquer alors la ou les propositions correctes.

- a)  $\mu_B = \hbar\gamma$      
  b)  $\mu_B = \frac{e\hbar}{2m_e}$      
  c)  $\mu_B = 9,28 \times 10^{-24} \text{ N} \cdot \text{m}$

**Entraînement 5.26 — Énergie magnétique d'un câble coaxial.**



Un cylindre long et creux de rayon  $R_1$  est parcouru en surface par un courant d'intensité  $I$ . Ce courant « revient » par un cylindre de rayon  $R_2 > R_1$ , coaxial au premier et d'épaisseur négligeable. Cet ensemble forme un câble coaxial de longueur  $\ell$  et d'axe (Oz).



Le champ magnétostatique produit est, en coordonnées cylindriques :

$$\vec{B} = \begin{cases} \vec{0} & \text{pour } r < R_1 \\ \frac{\mu_0 I}{2\pi r} \vec{e}_\theta & \text{pour } R_1 \leq r \leq R_2 \\ \vec{0} & \text{pour } r > R_2 \end{cases}$$

a) Exprimer le flux propre  $\Phi_p$ , c'est-à-dire le flux du champ magnétostatique à travers une tranche du câble de surface  $S = \ell R_2$ , en fonction de  $I$ ,  $\ell$ ,  $R_1$  et  $R_2$ .

.....

b) En déduire l'expression de l'inductance propre par unité de longueur  $\Lambda = \frac{L}{\ell} = \frac{\Phi_p}{\ell I}$  du câble en fonction de  $R_1$  et  $R_2$ .

.....

On rappelle que la densité volumique d'énergie magnétique a pour expression  $w_m = \frac{B^2}{2\mu_0}$  et que l'énergie magnétique s'exprime alors comme  $W_m = \iiint w_m d\tau$ .

c) Déterminer l'expression de l'énergie magnétique  $W_m$  correspondant à une portion de longueur  $\ell$  du câble ainsi formé en fonction de  $I$ ,  $\ell$ ,  $R_1$  et  $R_2$ .

.....

d) En déduire l'expression de l'inductance propre par unité de longueur  $\Lambda = \frac{L}{\ell} = \frac{2W_m}{\ell I^2}$  du câble en fonction de  $R_1$  et  $R_2$ .

.....

### Réponses mélangées

$-\vec{e}_z$	$\frac{\mu_0 \vec{M}}{2\pi z^3}$	②	$\frac{\mu_0 N I a}{2\pi} \ln\left(\frac{R+a/2}{R-a/2}\right)$	①	$j_{s,0} \ell$	$\frac{\mu_0}{2\pi} \ln \frac{R_2}{R_1}$	$-I$
$I$	$4Bd$	①	① et ②	①, ② et ③	②	$-\frac{e}{2m_e}$	$+\vec{e}_z$
$4d\ell j_0$	$4 \times 10^2 \text{ Wb}$	$-\frac{\mu_0 I m}{2\pi r^2} \vec{e}_r$	$3 \times 10^2 \text{ Wb}$	$+\vec{e}_z$	①	$\frac{\mu_0}{2\pi} \ln \frac{R_2}{R_1}$	$-Bax$
①, ② et ③	①	$\frac{\mu_0 N I}{2\pi r}$	①	① et ②	①, ② et ③	①	$mB_{\text{ext}}$
① et ②	①	① et ②	$-\frac{e}{T} \underbrace{\pi r^2 \vec{e}_z}_{\vec{s}}$	0	①	0	$\frac{7\pi}{2} Bd$
$\frac{\mu_0 I^2 \ell}{4\pi} \ln \frac{R_2}{R_1}$	$-2Bd$	①	①	$-Ba^2$	$2j_0 S \frac{b}{a}$	①	$\frac{\mu_0 I \ell}{2\pi} \ln \frac{R_2}{R_1}$
$4\pi R^2 j_r(R)$	$-\mu_0 n_2 I_2 \vec{e}_y$	①	$+\vec{e}_z$	①	$4I$	$1 \times 10^1 \text{ T}$	$\frac{mB_{\text{ext}}}{Mg}$
							0

► Réponses et corrigés page 235

# Équations de Maxwell

**Prérequis**

Équations de Maxwell. Opérateurs différentiels.

**Constantes utiles**

→ Permittivité du vide :  $\epsilon_0 = 8,85 \times 10^{-12} \text{ F} \cdot \text{m}^{-1}$

→ Perméabilité magnétique du vide :  $\mu_0 = 1,26 \times 10^{-6} \text{ T} \cdot \text{m} \cdot \text{A}^{-1}$

→ dans le vide :  $\epsilon_0 \mu_0 = \frac{1}{c^2}$ , où  $c$  est la célérité de la lumière dans le vide

## Pour commencer

**Entraînement 6.1 — Équations de Maxwell et dimensions.**



On munit l'espace d'un repère cartésien  $(x, y, z)$  et on note  $t$  la dépendance temporelle.

On s'intéresse aux équations de Maxwell auxquelles obéissent les champs électrique  $\vec{E}$  et magnétique  $\vec{B}$  dans un milieu caractérisé par une densité volumique de charge  $\rho$  et une densité volumique de courant  $\vec{j}$ .

a) Parmi les quatre équations suivantes, laquelle n'est pas une équation de Maxwell ?

(a)  $\text{div}(\vec{E}) = \frac{\rho}{\epsilon_0}$

(c)  $\text{rot}(\vec{B}) = \mu_0 \vec{j} + \epsilon_0 \mu_0 \frac{\partial \vec{E}}{\partial t}$

(b)  $\text{rot}(\vec{E}) = -\frac{\partial \vec{B}}{\partial t}$

(d)  $\frac{\partial \rho}{\partial t} + \text{div}(\vec{j}) = 0$

.....

On s'intéresse aux relations entre les dimensions qui découlent des équations de Maxwell.

On considère les dimensions suivantes :  $L$  pour une longueur,  $T$  pour un temps,  $M$  pour une masse et  $I$  pour une intensité du courant électrique.

On rappelle l'expression de la force de Lorentz :  $\vec{F} = q\vec{E} + q\vec{v} \wedge \vec{B}$ .

b) Donner la dimension d'une charge électrique  $q$  .....

c) Donner la dimension d'un champ magnétique à l'aide de l'expression de la force de Lorentz.

.....

d) Donner la dimension d'un champ électrique à l'aide de l'expression de la force de Lorentz.

.....

e) Retrouver la dimension d'un champ électrique, à l'aide de l'équation de Maxwell-Faraday.

.....

**Entraînement 6.2 — Courants et ordres de grandeurs.**



L'équation de Maxwell-Ampère s'écrit aussi, en introduisant le courant de conduction  $\vec{j}_{\text{cond}}$  et le courant de déplacement  $\vec{j}_{\text{dépl}}$  :

$$\text{rot}(\vec{B}) = \mu_0(\vec{j}_{\text{cond}} + \vec{j}_{\text{dépl}}), \quad \text{qui est équivalente à} \quad \text{rot}(\vec{B}) = \mu_0 \vec{j}_{\text{cond}} + \varepsilon_0 \mu_0 \frac{\partial \vec{E}}{\partial t}.$$

On admet la loi d'Ohm  $\vec{j}_{\text{cond}} = \sigma \vec{E}$  et on considère un champ électrique  $\vec{E} = E_0 \cos(\omega t + \varphi) \vec{e}_x$ .

a) Comment s'exprime l'ordre de grandeur de la quantité  $\alpha = \frac{\|\vec{j}_{\text{cond}}\|}{\|\vec{j}_{\text{dépl}}\|}$  ?

(a)  $\frac{\sigma}{2\varepsilon_0}$

(c)  $\frac{\sigma}{2\varepsilon_0 \omega}$

(b)  $\frac{\sigma}{\varepsilon_0 \omega}$

.....

b) Laquelle des conditions suivantes permet d'obtenir  $\alpha \gg 1$  dans un conducteur (où  $\sigma$  a pour ordre de grandeur  $10^7 \text{ S} \cdot \text{m}^{-1}$ ) ?

(a)  $f \gg 10^3 \text{ Hz}$

(c)  $f \gg 10^{17} \text{ Hz}$

(b)  $f \gg 10^9 \text{ Hz}$

.....

On considère une onde électromagnétique de pulsation  $\omega = 1,0 \text{ rad} \cdot \text{MHz}$ .

c) Calculer  $\alpha$  si cette onde se propage dans un métal de conductivité  $\sigma = 1,0 \times 10^7 \text{ S} \cdot \text{m}^{-1}$ .

d) Calculer  $\alpha$  si cette onde se propage dans de l'eau de mer avec  $\sigma = 1,0 \times 10^{-4} \text{ S} \cdot \text{m}^{-1}$  ....

e) Calculer  $\alpha$  si cette onde se propage dans du verre avec  $\sigma = 1,0 \times 10^{-13} \text{ S} \cdot \text{m}^{-1}$  .....



**Entraînement 6.3 — Transposition réels  $\longleftrightarrow$  complexes.**



On considère les deux champs électriques suivants :

$$\begin{aligned} \vec{E}_1 &= E_0 \exp[i(\omega t - kx)] \vec{e}_y - iE_0 \exp[i(\omega t - kx)] \vec{e}_z \\ \text{et } \vec{E}_2 &= -E_0 \cos[\omega t + kz] \vec{e}_x - E_0 \sin[\omega t + kz] \vec{e}_y. \end{aligned}$$

a) Exprimer le champ  $\vec{E}_1$  associé à  $\underline{E}_1$ .

.....

b) Exprimer le champ  $\vec{E}_2$  associé à  $\underline{E}_2$ .

.....

# Champs et opérateurs

## Entraînement 6.4 — Voir la divergence.



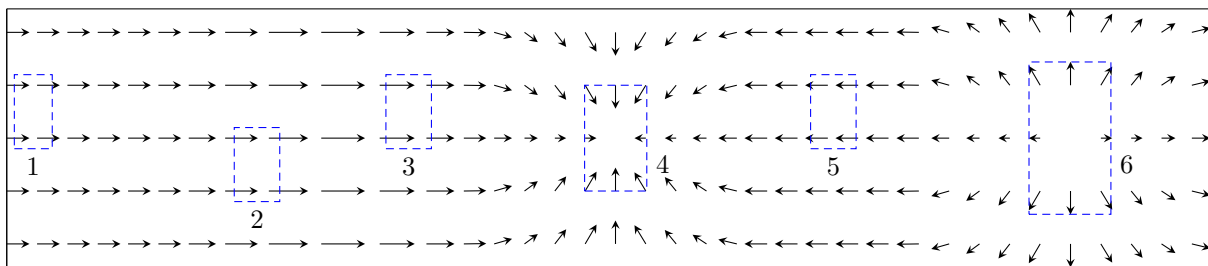
Le théorème de Green-Ostrogradski affirme que pour un champ de vecteurs  $\vec{A}$ , on a

$$\iiint_{\mathcal{V}} \text{div}(\vec{A}) \cdot d\tau = \oiint_{\mathcal{S}} \vec{A} \cdot d\vec{S}$$

où  $\mathcal{V}$  est le volume délimité par la surface  $\mathcal{S}$  fermée.

Ce théorème indique que si le flux élémentaire  $d\phi$  du champ de vecteurs  $\vec{A}$  à travers une surface infinitésimale fermée  $d\mathcal{S}$  autour d'un point M est non nul, alors la divergence de ce même champ de vecteurs au point M est non nulle. En particulier, si  $d\phi > 0$  (flux sortant) alors  $\text{div} \vec{A}(M) > 0$ .

On considère le champ de vecteurs suivant :



Dans chacune des zones, en estimant le flux du champ de vecteurs à travers chacune d'entre elles, indiquer si la divergence du champ de vecteurs est nulle, positive ou négative.

- a) Zone 1 .....
- b) Zone 2 .....
- c) Zone 3 .....
- d) Zone 4 .....
- e) Zone 5 .....
- f) Zone 6 .....

**Entraînement 6.5 — Voir le rotationnel.**



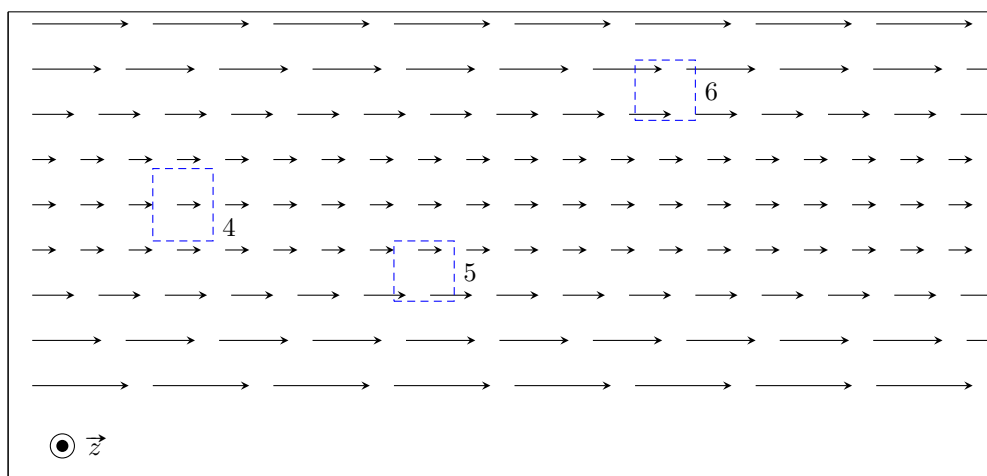
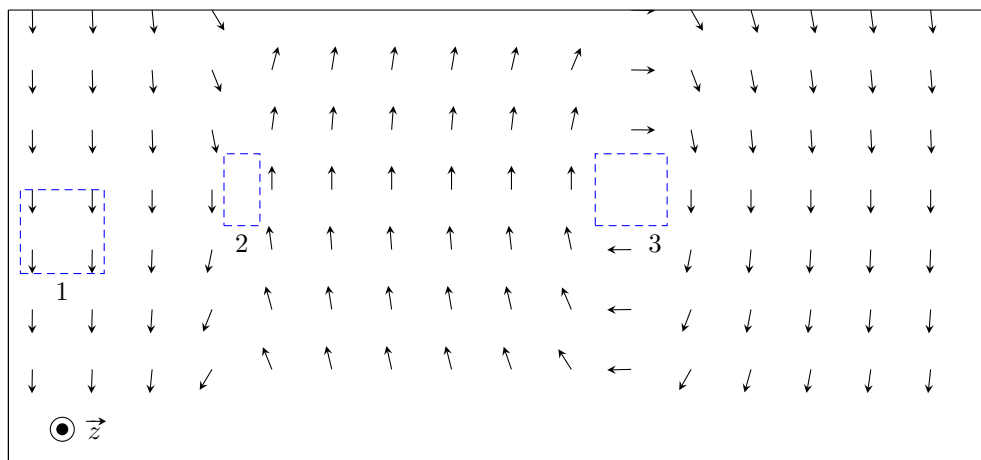
Le théorème de Stokes affirme que pour un champ de vecteurs  $\vec{A}$ , on a

$$\iint_S \text{rot } \vec{A} \cdot \vec{dS} = \oint_{\Gamma} \vec{A} \cdot \vec{dl}$$

où  $S$  est la surface délimitée par le contour  $\Gamma$  fermé.

Ce théorème indique que si la circulation élémentaire  $dC$  du champ de vecteurs  $\vec{A}$  à travers un contour fermé  $\Gamma$  délimitant une surface infinitésimale  $dS$  est non nulle, alors le rotationnel de ce même champ de vecteurs au point  $M$  est non nul. En particulier, si  $dC > 0$  alors  $\text{rot } \vec{A}(M) > 0$ .

On considère les champs de vecteurs suivants :



Dans chacune des zones, en estimant la circulation du champ de vecteurs sur chacune d'entre elles, indiquer si la composante du rotationnel selon  $\vec{e}_z$  du champ de vecteurs est nulle, positive ou négative.

- |                 |                      |                 |                      |                 |                      |
|-----------------|----------------------|-----------------|----------------------|-----------------|----------------------|
| a) Zone 1 ..... | <input type="text"/> | c) Zone 3 ..... | <input type="text"/> | e) Zone 5 ..... | <input type="text"/> |
| b) Zone 2 ..... | <input type="text"/> | d) Zone 4 ..... | <input type="text"/> | f) Zone 6 ..... | <input type="text"/> |



# Conservation de la charge et potentiel électrique

## Entraînement 6.6 — Conservation de la charge.



On note  $\rho$  la densité volumique de charge et  $\vec{j}$  le vecteur densité volumique de courant.

On rappelle les équations de Maxwell-Ampère :  $\text{rot } \vec{B} = \mu_0 \vec{j} + \mu_0 \epsilon_0 \frac{\partial \vec{E}}{\partial t}$  et de Maxwell-Gauss :  $\text{div } \vec{E} = \frac{\rho}{\epsilon_0}$ .

On rappelle aussi le théorème de Schwarz : pour tout champ  $\vec{A}$ , on a  $\text{div} \left( \frac{\partial \vec{A}}{\partial t} \right) = \frac{\partial (\text{div } \vec{A})}{\partial t}$ .

a) Développer  $\text{div}(\text{rot } \vec{B})$  à l'aide de l'équation de Maxwell-Ampère.

.....

b) Exprimer  $\text{div}(\text{rot } \vec{B})$  en injectant l'équation de Maxwell-Gauss.

.....

c) On rappelle que pour tout vecteur  $\vec{A}$ ,  $\text{div}(\text{rot } \vec{A}) = 0$ . Quelle équation obtient-on ?

- (a)  $\text{div } \vec{j} - \frac{\partial \rho}{\partial t} = 0$      
  (b)  $\text{div } \vec{j} + \frac{\partial \rho}{\partial t} = 0$      
  (c)  $\mu_0 \text{div } \vec{j} + \frac{\partial \rho}{\partial t} = 0$      
  (d)  $\mu_0 \text{div } \vec{j} - \frac{\partial \rho}{\partial t} = 0$

.....

## Entraînement 6.7 — Piège électrostatique.



On considère une région de l'espace, vide de charges, dans laquelle règne un potentiel :

$$V(x, y, z) = \frac{V_0}{a^2} (x^2 + 2y^2 - 3z^2),$$

où  $V_0$  (en V) et  $a$  sont des constantes positives.

a) Donner l'unité de  $a$  .....

L'opérateur laplacien en coordonnées cartésiennes est donné par  $\Delta V = \frac{\partial^2 V}{\partial x^2} + \frac{\partial^2 V}{\partial y^2} + \frac{\partial^2 V}{\partial z^2}$ .

b) Déterminer l'expression de  $\Delta V$  .....

c) L'équation de Poisson  $\Delta V = -\frac{\rho}{\epsilon_0}$  est-elle vérifiée? .....

d) L'allure de  $V(x, 0, 0)$  en fonction de l'abscisse  $x$  est une portion :

- (a) de cercle     
  (b) d'hyperbole     
  (c) d'exponentielle     
  (d) de parabole

.....

L'opérateur gradient en coordonnées cartésiennes est donné par  $\overrightarrow{\text{grad}} V = \frac{\partial V}{\partial x} \vec{e}_x + \frac{\partial V}{\partial y} \vec{e}_y + \frac{\partial V}{\partial z} \vec{e}_z$ .

e) Calculer le champ électrique  $\vec{E} = -\overrightarrow{\text{grad}} V$  en O, origine du repère .....

# Théorèmes de Stokes-Ampère et Green-Ostrogradski



## Entraînement 6.8 — Théorème de Stokes-Ampère.



Dans le repère  $(O, \vec{e}_x, \vec{e}_y, \vec{e}_z)$ , considérons le vecteur fixe

$$\vec{\omega} = \omega \vec{e}_z.$$

Rappelons que, pour tout point M de l'espace, on a

- $\vec{OM} = r\vec{e}_r + z\vec{e}_z$  dans la base cylindrique  $(\vec{e}_r, \vec{e}_\theta, \vec{e}_z)$  ;
- $\vec{OM} = x\vec{e}_x + y\vec{e}_y + z\vec{e}_z$  dans la base cartésienne.

On considère par ailleurs un cylindre infini d'axe Oz et de rayon  $a$ .

On considère le champ de vecteurs défini par :

$$\begin{cases} \vec{v} = \vec{\omega} \wedge \vec{OM} & \text{pour } r < a ; \\ \text{rot } \vec{v} = \vec{0} & \text{pour } r > a . \end{cases}$$

a) Déterminer l'expression de  $\vec{v} = \omega \vec{e}_z \wedge (r\vec{e}_r + z\vec{e}_z)$  .....

b) Déterminer l'expression de  $\vec{v} = \omega \vec{e}_z \wedge (x\vec{e}_x + y\vec{e}_y + z\vec{e}_z)$  .....

En coordonnées cartésiennes, l'opérateur rotationnel est défini par :

$$\text{rot } \vec{v} = \left( \frac{\partial v_z}{\partial y} - \frac{\partial v_y}{\partial z} \right) \vec{e}_x + \left( \frac{\partial v_x}{\partial z} - \frac{\partial v_z}{\partial x} \right) \vec{e}_y + \left( \frac{\partial v_y}{\partial x} - \frac{\partial v_x}{\partial y} \right) \vec{e}_z.$$

c) Calculer  $\text{rot } \vec{v}$  pour  $r < a$  en coordonnées cartésiennes .....

Le théorème de Stokes s'énonce de la façon suivante.

Soit  $\Gamma$  est un contour fermé et orienté, et soit  $\Sigma$  une surface quelconque s'appuyant sur  $\Gamma$  et orientée avec la règle du tire-bouchon de Maxwell ou la règle de la main droite. Pour un champ de vecteur  $\vec{A}$  défini en tout point, on a :

$$\oint_{\Gamma} \vec{A}_{(M)} \cdot d\vec{\ell}_{(M)} = \iint_{\Sigma} \text{rot}(\vec{A})_{(M)} \cdot \vec{n} \, dS_{(M)}.$$

En appliquant ce théorème sur un contour fermé circulaire  $\Gamma$  de rayon  $r$ , calculer  $v(r)$  dans les deux cas suivants :

d) Pour  $r < a$  .....

e) Pour  $r > a$  .....



### Entraînement 6.9 — Application du théorème de Green-Ostrogradski.



On considère le champ suivant :

$$\vec{A}(r, \theta, \varphi) = (ar - br^3)\vec{e}_r,$$

en coordonnées sphériques, où  $a$  et  $b$  sont des constantes.

En coordonnées sphériques, l'opérateur divergence est défini par :

$$\operatorname{div} \vec{A} = \frac{1}{r^2} \frac{\partial(r^2 A_r)}{\partial r} + \frac{1}{r \sin \theta} \frac{\partial(\sin \theta A_\theta)}{\partial \theta} + \frac{1}{r \sin \theta} \frac{\partial A_\varphi}{\partial \varphi}.$$

a) Calculer  $\operatorname{div}(\vec{A})$  .....

b) Quelle est l'expression de l'élément de volume d'une boule en coordonnées sphériques ?

- (a)  $d\tau = r \sin \theta \, dr \, d\theta \, d\varphi$
- (b)  $d\tau = r^2 \sin \theta \, dr \, d\theta \, d\varphi$
- (c)  $d\tau = r \sin \theta \sin \varphi \, dr \, d\theta \, d\varphi$
- (d)  $d\tau = r^2 \sin \theta \sin \varphi \, dr \, d\theta \, d\varphi$

.....

On rappelle le théorème de Green-Ostrogradski.

Soit  $\mathcal{S}$  une surface fermée de volume intérieur  $\mathcal{V}$ , orientée vers l'extérieur par convention. Pour un champ de vecteur  $\vec{A}$  défini en tout point, on a :

$$\oint_{\mathcal{S}} \vec{A} \cdot d\vec{S} = \iiint_{\mathcal{V}} \operatorname{div}(\vec{A}) \, d\tau.$$

c) À l'aide de ce théorème, exprimer le flux  $\oint_{\text{sphère}} \vec{A} \cdot d\vec{S}$  du champ à travers une sphère de centre  $O$  de rayon  $R$ .

.....

d) Quelle est l'expression de l'élément de surface d'une sphère en coordonnées sphériques ?

- (a)  $dS = \sin \theta \, d\theta \, d\varphi$
- (b)  $dS = r \sin \theta \, d\theta \, d\varphi$
- (c)  $dS = r^2 \sin \theta \, d\theta \, d\varphi$

.....

e) Calculer directement le flux du champ à travers la sphère de centre  $O$  et de rayon  $R$  à partir de l'expression du champ  $\vec{A}$ .

.....

# Jouons avec les équations de Maxwell

On donne pour les quatre prochains exercices les expressions du rotationnel en coordonnées cartésiennes :

$$\text{rot } \vec{A} = \left( \frac{\partial A_z}{\partial y} - \frac{\partial A_y}{\partial z} \right) \vec{e}_x + \left( \frac{\partial A_x}{\partial z} - \frac{\partial A_z}{\partial x} \right) \vec{e}_y + \left( \frac{\partial A_y}{\partial x} - \frac{\partial A_x}{\partial y} \right) \vec{e}_z$$

et en coordonnées cylindriques :

$$\text{rot } \vec{A} = \left( \frac{1}{r} \frac{\partial A_z}{\partial \theta} - \frac{\partial A_\theta}{\partial z} \right) \vec{e}_r + \left( \frac{\partial A_r}{\partial z} - \frac{\partial A_z}{\partial r} \right) \vec{e}_\theta + \frac{1}{r} \left( \frac{\partial r A_\theta}{\partial r} - \frac{\partial A_r}{\partial \theta} \right) \vec{e}_z.$$



## Entraînement 6.10 — Existence ou non d'un champ électromagnétique.



Vérifier à l'aide des équations de Maxwell si les champs électromagnétiques suivants existent ou non.

Répondre par « oui » par « non ».

On se place dans le vide donc on rappelle que  $\varepsilon_0 \mu_0 = \frac{1}{c^2} = \frac{\omega^2}{k^2}$

a)  $\vec{E} = E_0 \cos(\omega t - kx + \varphi_0) \vec{e}_y$  et  $\vec{B} = \frac{E_0 k}{\omega} \cos(\omega t - kx + \varphi_0) \vec{e}_z$  .....

b)  $\vec{E} = E_0 \cos(\omega t + ky) \vec{e}_y$  et  $\vec{B} = \frac{E_0 k}{\omega} \cos(\omega t + ky) \vec{e}_y$  .....

c) 
$$\begin{cases} \vec{E} = E_1 \cos(\omega t + kz + \varphi_1) \vec{e}_x + E_2 \cos(\omega t + kz + \varphi_2) \vec{e}_y \\ \vec{B} = \frac{E_2 k}{\omega} \cos(\omega t + kz + \varphi_2) \vec{e}_x - \frac{E_1 k}{\omega} \cos(\omega t + kz + \varphi_1) \vec{e}_y \end{cases}$$
 .....



## Entraînement 6.11 — Utilisation de l'équation de Maxwell-Faraday.



On rappelle l'équation de Maxwell-Faraday :

$$\text{rot}(\vec{E}) = -\frac{\partial \vec{B}}{\partial t}.$$

On se place dans un milieu vide de charge et de courant (sans champ statique).

Déterminer l'expression du champ magnétique  $\vec{B}$  associé à chacun des champs électriques  $\vec{E}$  suivants.

a) En coordonnées cartésiennes :  $E_0 \cos(\omega t - kz + \varphi) \vec{e}_x$   
.....

b) En coordonnées cartésiennes :  $E_0 \cosh(\sqrt{\varepsilon_0 \mu_0} \alpha z) \exp(-\alpha t) \vec{e}_x$   
.....

c) En coordonnées cylindriques :  $\frac{E_0}{(kr)^2} \cos(\omega t) \vec{e}_z$   
.....

**Entraînement 6.12 — Utilisation de l'équation de Maxwell-Ampère.**



On rappelle l'équation de Maxwell-Ampère :  $\text{rot}(\vec{B}) = \mu_0 \vec{j} + \varepsilon_0 \mu_0 \frac{\partial \vec{E}}{\partial t}$ .

On se place dans un milieu vide de charge et de courant (pas de champs statiques).

Déterminer l'expression du champ électrique  $\vec{E}$  associé à chacun des champs magnétiques  $\vec{B}$  suivants.

a) En coordonnées cartésiennes :  $B_0 \sin(\omega t - kz + \varphi) \vec{e}_y$

.....

b) En coordonnées cartésiennes :  $B_0 \sinh(\sqrt{\varepsilon_0 \mu_0} \alpha z) \exp(-\alpha t) \vec{e}_y$

.....

c) En coordonnées cylindriques :  $\frac{cB_0}{(kr)^2} \sin(\omega t) \vec{e}_\theta$

.....

**Entraînement 6.13 — Détermination de  $\vec{E}$  à partir de  $\vec{B}$ .**



Le champ magnétique créé dans un solénoïde infini de rayon  $R$ , d'axe  $(Oz)$ , comportant  $n$  spires par unité de longueur et parcouru par un courant d'intensité électrique  $i(t)$  dépendant du temps est

$$\vec{B} = \mu_0 n i(t) \vec{e}_z.$$

On rappelle que le champ magnétique à l'extérieur d'un solénoïde est nul.

On rappelle les expressions de l'équation de Maxwell-Faraday sous forme locale et intégrale :

$$\text{rot} \vec{E} = -\frac{\partial \vec{B}}{\partial t} \quad \text{et} \quad \oint_{\Gamma} \vec{E} \cdot d\vec{\ell} = -\iint_{\Sigma} \frac{\partial \vec{B}}{\partial t} \cdot d\vec{S}.$$

a) Par analyse des invariances, déterminer la ou les variable(s) dont dépend(ent) le champ électrique. On adoptera les coordonnées cylindriques.

- a)  $r$                      
  b)  $\theta$                      
  c)  $z$                      
  d)  $r$  et  $\theta$

.....

Le champ électrique  $\vec{E}$  est dirigé selon  $\vec{e}_\theta$ .

En utilisant l'équation locale de Maxwell-Faraday, déterminer l'expression du champ électrique créé par le solénoïde dans les deux cas suivants :

b) pour  $r < R$  .....

c) pour  $r > R$  sachant que le champ est continu .....

On souhaite retrouver ces résultats en passant par la forme intégrale de l'équation de Maxwell-Faraday. Cette méthode nécessite de choisir une surface sur laquelle nous allons calculer le flux et la circulation.

d) En tenant compte de la direction du champ  $\vec{B}$  et des dépendances spatiales du champ  $\vec{E}$ , quelle surface pouvons nous choisir ?

- (a) Une sphère de rayon  $r$
- (b) Un cylindre de hauteur  $h$  et de rayon  $r$
- (c) Un plan rectangulaire de dimension  $r \times z$
- (d) Un disque d'axe  $(Oz)$  et de rayon  $r$

En utilisant la forme intégrale de l'équation de Maxwell-Faraday sur cette surface, déterminer l'expression du champ électrique créé par le solénoïde dans les deux cas suivants :

e) pour  $r < a$  .....

f) pour  $r > a$  .....

## Vecteur de Poynting



### Entraînement 6.14 — Vecteur de Poynting.



La forme générale du vecteur de Poynting vérifie :  $\vec{\Pi} = \frac{1}{\mu_0} \vec{E} \wedge \vec{B}$

Développer les vecteurs de Poynting pour les champs électromagnétiques suivants :

a)  $\vec{E} = E_0 \cos(\omega t - kz + \varphi) \vec{e}_x$  et  $\vec{B} = B_0 \sin(\omega t - kz + \varphi) \vec{e}_y$  ....

b)  $\vec{E} = E_0 \cosh(\beta z) \exp(-\alpha t) \vec{e}_z$  et  $\vec{B} = B_0 \sinh(\beta z) \exp(-\alpha t) \vec{e}_y$  .



### Entraînement 6.15 — Vecteur de Poynting complexe.



Une onde électromagnétique plane monochromatique se propage suivant l'axe  $(Oz)$ . Les expressions des composantes du champ électrique sont :

$$\vec{E} \begin{cases} E_x = E_{0x} \cos(kz - \omega t + \psi_1) \\ E_y = E_{0y} \cos(kz - \omega t + \psi_2) \\ E_z = 0 \end{cases}$$

Le vecteur d'onde est noté  $\vec{k} = k \vec{e}_z$  avec  $\omega = kc$ .

*On travaille tout d'abord en notation réelle :*

a) Déterminer l'expression du champ magnétique  $\vec{B} = \frac{\vec{k} \wedge \vec{E}}{\omega}$  .....

b) Déterminer l'expression du vecteur du Poynting  $\vec{\Pi} = \frac{\vec{E} \wedge \vec{B}}{\mu_0}$  .....

On travaille maintenant en notation complexe :

c) Déterminer l'expression du champ électrique  $\vec{E}$  .....

d) Déterminer l'expression du champ magnétique  $\vec{B}$  .....

e) Déterminer l'expression du conjugué du champ magnétique  $\vec{B}^*$  ..

f) Calculer les composantes du vecteur complexe  $\frac{\vec{E} \wedge \vec{B}^*}{2\mu_0}$  .....

**Conclusion :**

g) On en déduit que  $\langle \vec{\Pi} \rangle = \left\langle \frac{\vec{E} \wedge \vec{B}}{\mu_0} \right\rangle$  vaut : (a)  $\left\langle \frac{\vec{E} \wedge \vec{B}^*}{2\mu_0} \right\rangle$  (b)  $\left\langle \frac{2\vec{E} \wedge \vec{B}^*}{2\mu_0} \right\rangle$  (c)  $\left\langle \frac{\vec{E} \wedge \vec{B}^*}{\mu_0} \right\rangle$  ?

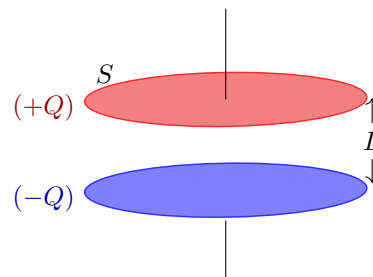
.....

**Entraînement 6.16 — Un bilan d'énergie.**



On considère un condensateur composé de deux disques métalliques de surface  $S$ , de rayon  $R$ , distants de  $L \ll R$  et séparés par du vide. Lors de la charge, on suppose que, dans le système de coordonnées cylindriques, les champs électrique et magnétique régnant entre les deux armatures sont :

$$\vec{E}(t) = \frac{Q(t)}{\epsilon_0 S} \vec{e}_z \quad \text{et} \quad \vec{B}(r, t) = \frac{\mu_0}{2S} \frac{dQ}{dt} r \vec{e}_\theta.$$



On ne considère aucun courant de conduction dans cet exercice.

On considère que l'énergie stockée dans le condensateur est essentiellement sous forme électrique. La densité volumique d'énergie électromagnétique s'écrit alors  $e = \frac{\epsilon_0 E^2}{2}$ .

a) Calculer l'énergie stockée  $\mathcal{E} = \iiint_V e d\tau$  dans le condensateur sachant que l'élément de volume  $d\tau$ , en coordonnées cylindriques, vaut  $d\tau = r dr d\theta dz$ .

.....

b) Calculer le vecteur de Poynting  $\vec{\Pi} = \frac{\vec{E} \wedge \vec{B}}{\mu_0}$  en  $r = R$  .....

c) Calculer le flux sortant  $\phi = \iint_{\text{cylindre}} \vec{\Pi} \cdot d\vec{S}$  à travers la surface cylindrique délimitant le volume entre les deux armatures.

.....

d) Les résultats précédents permettent de déduire que :

- (a)  $\mathcal{E} + \phi = 0$       (b)  $\mathcal{E} + \frac{\partial \phi}{\partial t} = 0$       (c)  $\frac{\partial \mathcal{E}}{\partial t} + \phi = 0$       (d)  $\frac{\partial \mathcal{E}}{\partial t} + \frac{\partial \phi}{\partial t} = 0$

.....

e) On rappelle le théorème de Green-Ostrogradski.

Soit  $\Sigma$  une surface fermée de volume intérieur  $\mathcal{V}$ , orientée vers l'extérieur par convention. Pour un champ de vecteur  $\vec{A}$  défini en tout point, on a :

$$\oiint_{\Sigma} \vec{A} \cdot d\vec{S} = \iiint_{\mathcal{V}} \text{div}(\vec{A}) d\tau.$$

En utilisant ce théorème, quelle relation (appelée théorème de Poynting) obtient-on ?

- (a)  $\frac{\partial e}{\partial t} + \frac{\partial(\text{div } \vec{\Pi})}{\partial t} = 0$       (c)  $e + \frac{\partial(\text{div } \vec{\Pi})}{\partial t} = 0$   
 (b)  $\frac{\partial e}{\partial t} + \text{div } \vec{\Pi} = 0$       (d)  $e + \text{div } \vec{\Pi} = 0$



### Réponses mélangées

Oui	(d)	$\frac{1}{c} \left( E_{0x} e^{i(kz - \omega t + \psi_1)} \vec{e}_y - E_{0y} e^{i(kz - \omega t + \psi_2)} \vec{e}_x \right)$	$\frac{M \cdot L}{I \cdot T^3}$	Nulle	Négative	$\frac{E_{0x}^2 + E_{0y}^2}{2 \mu_0 c} \vec{e}_z$	
		$E_0 \cos[\omega t - kz] \vec{e}_y + E_0 \sin[\omega t - kz] \vec{e}_z$	$r \omega \vec{e}_\theta$			$-E_0 \exp[i(\omega t + kz)] \vec{e}_x + i E_0 \exp[i(\omega t + kz)] \vec{e}_y$ m	
Positive		$-\frac{E_0 B_0}{\mu_0} \cosh(\beta z) \sinh(\beta z) \exp(-2\alpha t) \vec{e}_x$		Négative	Positive	Positive	
	(c)	$r \omega$ $1,1 \times 10^1$	$-\frac{L}{\varepsilon_0 S} Q \frac{dQ}{dt}$	$\frac{c^3 B_0}{k^2 \omega r^3} \cos(\omega t) \vec{e}_z$		$-\omega y \vec{e}_x + \omega x \vec{e}_y$	
		$\frac{E_0 B_0}{\mu_0} \cos(\omega t - kz + \varphi) \sin(\omega t - kz + \varphi) \vec{e}_z$		Nulle	$\frac{E_x^2 + E_y^2}{\mu_0 c} \vec{e}_z$	Positive	
		$\frac{M}{I \cdot T^2}$	(d) (c)	Nulle	$4\pi R^3(a - bR^2)$	Négative	(b) $\frac{a^2}{r} \omega$
		$\mu_0 \text{div } \vec{j} + \mu_0 \frac{\partial \rho}{\partial t}$	$1,1 \times 10^{-8}$	$-\mu_0 n \frac{di}{dt} \frac{R^2}{2r} \vec{e}_\theta$	oui	$-\frac{R}{2\varepsilon_0 S^2} Q \frac{dQ}{dt} \vec{e}_r$	
	(a)	$E_0 \sqrt{\varepsilon_0 \mu_0} \sinh(\sqrt{\varepsilon_0 \mu_0} \alpha z) \exp(-\alpha t) \vec{e}_y$		$\frac{LQ^2}{2\varepsilon_0 S}$	(c) (d) (b)		
		$\frac{B_0}{\sqrt{\varepsilon_0 \mu_0}} \cosh(\sqrt{\varepsilon_0 \mu_0} \alpha z) \exp(-\alpha t) \vec{e}_x$	$\frac{M \cdot L}{I \cdot T^3}$	$B_0 \frac{k}{\varepsilon_0 \mu_0 \omega} \sin(\omega t - kz + \varphi) \vec{e}_x$	(a)	0	
		$-\mu_0 n \frac{di}{dt} \frac{r}{2} \vec{e}_\theta$	$-\frac{E_{0y}}{c} \cos(kz - \omega t + \psi_2) \vec{e}_x + \frac{E_{0x}}{c} \cos(kz - \omega t + \psi_1) \vec{e}_y$	$4\pi R^3(a - bR^2)$	Nulle	$3a - 5br^2$	
		$-\frac{2E_0}{k^2 r^3} \int \cos(\omega t) \vec{e}_\theta dt$	$-\mu_0 n \frac{di}{dt} \frac{r}{2} \vec{e}_\theta$	(b) $2\omega \vec{e}_z$		$\frac{1}{c} \left( E_{0x} e^{-i(kz - \omega t + \psi_1)} \vec{e}_y - E_{0y} e^{-i(kz - \omega t + \psi_2)} \vec{e}_x \right)$	
(b)		$E_0 \frac{k}{\omega} \cos(\omega t - kz + \varphi) \vec{e}_y + E_{0x} e^{i(kz - \omega t + \psi_1)} \vec{e}_x + E_{0y} e^{i(kz - \omega t + \psi_2)} \vec{e}_y$	$I \cdot T$	$\mu_0 \text{div } \vec{j} + \varepsilon_0 \mu_0 \frac{\partial \text{div } \vec{E}}{\partial t}$	oui Negative non	$-\mu_0 n \frac{di}{dt} \frac{R^2}{2r} \vec{e}_\theta$ $\vec{0}$ $1,1 \times 10^{12}$	

► Réponses et corrigés page 242



# Induction

Fiche du « Cahier d'entraînement 1<sup>re</sup> année » pour se préparer  
→ *Champ magnétique, Induction*

## Prérequis

Champ magnétique. Loi de Faraday. Orientation d'une surface à l'aide de la règle de la main droite (règle du tire-bouchon).

Flux du champ magnétique  $\Phi = \iint_S \vec{B} \cdot d\vec{S}$ .

Force élémentaire de Laplace  $d\vec{F}_L = i d\vec{\ell} \wedge \vec{B}$ . Loi des mailles.

## Pour commencer

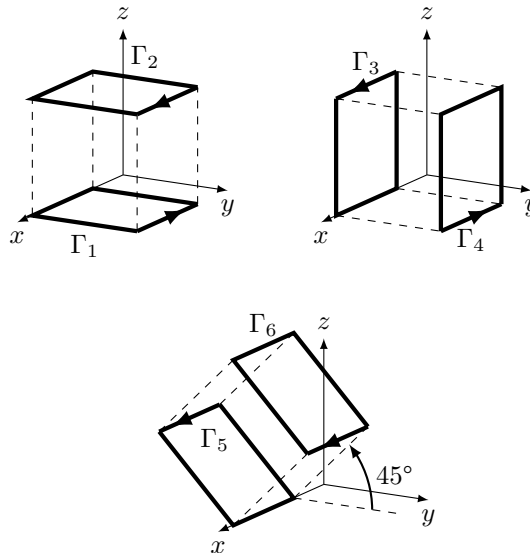


### Entraînement 7.1 — Orientation d'une surface.



On associe à un contour orienté son vecteur normal en utilisant la règle dite de la main droite ou du tire-bouchon.

Pour chaque contour  $\Gamma_i$  orienté suivant, exprimer le vecteur normal unitaire  $\vec{n}_i$  de la surface qu'il délimite en fonction des vecteurs  $\vec{e}_x, \vec{e}_y, \vec{e}_z$ .



a)  $\vec{n}_1$  .....


d)  $\vec{n}_4$  .....

b)  $\vec{n}_2$  .....

e)  $\vec{n}_5$  .....

c)  $\vec{n}_3$  .....

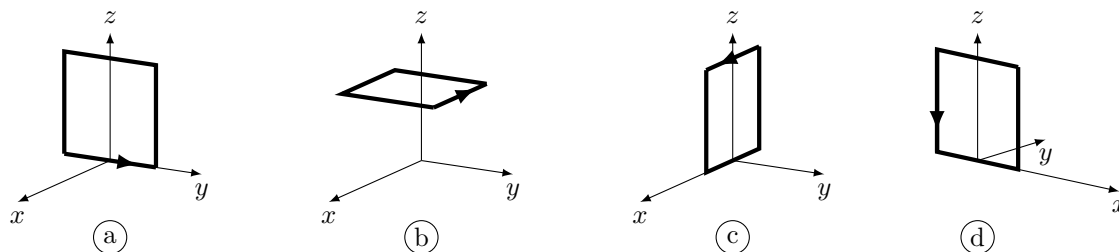
f)  $\vec{n}_6$  .....

 **Entraînement 7.2 — Orientation d'un contour.**




On associe à un contour orienté son vecteur normal en utilisant la règle dite de la main droite ou du tire-bouchon. Quelle représentation du contour pourrait correspondre aux vecteurs suivants ?

La réponse peut être « aucune » !



- |                       |                      |                      |                      |
|-----------------------|----------------------|----------------------|----------------------|
| a) $-\vec{e}_y$ ..... | <input type="text"/> | c) $\vec{e}_z$ ..... | <input type="text"/> |
| b) $-\vec{e}_x$ ..... | <input type="text"/> | d) $\vec{e}_x$ ..... | <input type="text"/> |

 **Entraînement 7.3 — Varie ou ne varie pas ? Telle est la question.**



Soit un cadre de vecteur normal  $\vec{n}$  et un champ magnétique  $\vec{B}$ .

Dans les situations suivantes, le flux de  $\vec{B}$  à travers le cadre varie-t-il au cours du temps ?

Répondre par « oui » ou « non ».

On rappelle que le flux est défini par  $\Phi = \iint_S \vec{B} \cdot d\vec{S}$ .

- |   |                      |
|---|----------------------|
| a) $\vec{B}$ est uniforme et initialement $\vec{B} \wedge \vec{n} = \vec{0}$ . Le cadre tourne autour d'un de ses cotés ... | <input type="text"/> |
| b) Le cadre pénètre dans une zone où règne $\vec{B}$ uniforme. $\vec{B}$ et $\vec{n}$ sont colinéaires .....                | <input type="text"/> |
| c) Le champ $\vec{B}(t)$ dépend du temps et est perpendiculaire à $\vec{n}$ . Le cadre est fixe et indéformable.<br>.....   | <input type="text"/> |
| d) Le cadre est animé d'un mouvement de translation rectiligne dans $\vec{B}$ uniforme et constant.<br>.....                | <input type="text"/> |
| e) La surface du cadre diminue. Le champ $\vec{B}$ est uniforme, colinéaire de sens opposé à $\vec{n}$ .<br>.....           | <input type="text"/> |
| f) Le cadre est fixe. Le champ $\vec{B}$ est colinéaire à $\vec{n}$ , non uniforme et indépendant du temps.<br>.....        | <input type="text"/> |

# Flux du champ magnétique

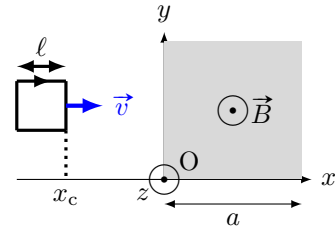
## Entraînement 7.4 — Flux à travers un circuit mobile (I).



On considère un circuit carré de côté  $\ell$  se déplaçant à la vitesse  $\vec{v} = v\vec{e}_x$  et dont le côté droit est repéré par l'abscisse  $x_c$ .

Un champ magnétique uniforme  $\vec{B} = B\vec{e}_z$  règne dans la zone comprise entre  $x = 0$  et  $x = a > \ell$ .

On oriente le circuit tel que  $\vec{n} = -\vec{e}_z$ .



Exprimer le flux du champ magnétique  $\Phi = \iint_S \vec{B} \cdot d\vec{S}$  en fonction de  $B$ ,  $x_c$ ,  $\ell$  et  $a$  si :

a)  $x_c < 0$  .....       c)  $\ell < x_c < a$  .....

b)  $0 < x_c < \ell$  .....       d)  $a < x_c < a + \ell$  .....

En déduire la dérivée du flux par rapport au temps en fonction de  $B$ ,  $v$  et  $\ell$  si :

e)  $x_c < 0$  .....       g)  $\ell < x_c < a$  .....

f)  $0 < x_c < \ell$  .....       h)  $a < x_c < a + \ell$  .....

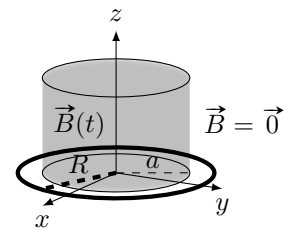
## Entraînement 7.5 — Flux à travers un disque.



On considère le système de coordonnées cylindriques  $(r, \theta, z)$  de base  $(\vec{e}_r, \vec{e}_\theta, \vec{e}_z)$ . Soit un champ magnétique uniforme

$$\vec{B} = B_m \cos(\omega t)\vec{e}_z \text{ si } r < a \text{ et } \vec{B} = \vec{0} \text{ si } r > a.$$

Déterminer le flux  $\Phi$  du champ magnétique à travers un disque de rayon  $R$  d'axe  $z$  et de vecteur normal  $\vec{e}_z$  si :



a)  $R < a$  .....       b)  $R > a$  .....

On considère maintenant un champ magnétique  $\vec{B}'$  défini par

$$\vec{B}'(M) = B_0 \left(1 - \frac{r}{a}\right)\vec{e}_z \text{ si } r < a \text{ et } \vec{B}' = \vec{0} \text{ si } r > a.$$

On désire exprimer son flux  $\Phi'$  aussi à travers le disque de rayon  $R$  d'axe  $z$  et de vecteur normal  $\vec{e}_z$ .

c) Quelle sera l'expression de l'élément de surface  $dS$  du disque à considérer pour calculer le flux de  $\vec{B}'$  ?

.....

Déterminer  $\Phi'$  si :

d)  $R < a$  .....       e)  $R > a$  .....

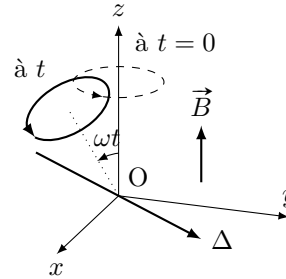
**Entraînement 7.6 — Flux à travers un circuit mobile (II).**



Dans une zone de champ magnétique uniforme

$$\vec{B} = B\vec{e}_z,$$

on considère une spire orientée de rayon  $R$  en rotation autour d'un axe  $\Delta$  perpendiculaire à l'axe  $(Oz)$  avec une vitesse angulaire constante  $\omega$ .



a) Quelle est l'expression du flux de  $\vec{B}$  à travers la spire à  $t$  quelconque? .....

Exprimer le flux en fonction de  $B$  et  $R$  pour les différentes valeurs de  $\omega t$  suivantes :

b)  $\frac{\pi}{2}$  ....       c)  $\frac{2\pi}{3}$  ...       d)  $\frac{11\pi}{6}$  ..       e)  $2\pi$  ...

**Entraînement 7.7 — Flux propre d'un tore.**

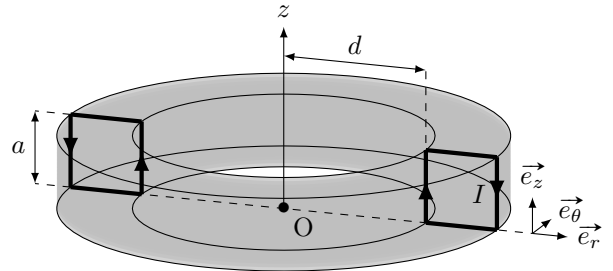


Soit un tore d'axe  $(Oz)$ , constitué de  $N$  spires carrées de côté  $a$ . Le champ magnétique créé par ce dispositif est tel que

$$\vec{B}(M) = \frac{\mu_0 N I}{2\pi r} \vec{e}_\theta$$

pour  $0 < z < a$  ou  $d < r < d + a$ , et nul sinon.

On désire, dans un premier temps, calculer le flux de ce champ à travers une seule des spires. Le vecteur normal à la spire est le vecteur  $\vec{e}_\theta$ .



a) Quelle sera la surface élémentaire  $dS$  à utiliser pour le calcul du flux  $\Phi = \iint_S \vec{B} \cdot dS \vec{e}_\theta$ ?

- (a)  $dS = dr dz$      
  (b)  $dS = r d\theta dr$      
  (c)  $dS = r d\theta dz$      
  (d)  $dS = d\theta dz$

b) Quelle sera l'expression du flux à travers une spire ?

- (a)  $\Phi = \int_{r=d}^{a+d} \int_{z=0}^a \frac{\mu_0 N I}{2\pi r} dr \times dz$      
  (c)  $\Phi = \int_{\theta=0}^{2\pi} \int_{z=0}^a \frac{\mu_0 N I}{2\pi r} r d\theta \times dz$
- (b)  $\Phi = \int_{r=0}^a \int_{z=0}^a \frac{\mu_0 N I}{2\pi r} dr \times dz$      
  (d)  $\Phi = \int_{r=d}^{a+d} \int_{z=0}^a \frac{\mu_0 N I}{2\pi r} r d\theta \times dz$

c) En réalisant le calcul intégral, calculer  $\Phi$  .....

d) En déduire l'expression du coefficient d'auto-induction  $L$  défini par  $\Phi_{\text{tore}} = LI$ , où  $\Phi_{\text{tore}}$  désigne le flux du champ créé par le tore à travers ses  $N$  spires (aussi appelé flux propre).

.....

## Lien avec l'équation de Maxwell-Faraday

### Entraînement 7.8



Soient un champ électrique  $\vec{E} = E(r)\vec{e}_\theta$  et un champ magnétique  $\vec{B} = B_0 \cos(\omega t)\vec{e}_z$ . Ils sont reliés par l'équation de Maxwell-Faraday  $\text{rot } \vec{E} = -\frac{\partial \vec{B}}{\partial t}$ .

On rappelle l'expression du rotationnel en coordonnées cylindriques :

$$\text{rot } \vec{A} = \left( \frac{1}{r} \frac{\partial A_z}{\partial \theta} - \frac{\partial A_\theta}{\partial z} \right) \vec{e}_r + \left( \frac{\partial A_r}{\partial z} - \frac{\partial A_z}{\partial r} \right) \vec{e}_\theta + \frac{1}{r} \left( \frac{\partial(rA_\theta)}{\partial r} - \frac{\partial A_r}{\partial \theta} \right) \vec{e}_z.$$

a) Quelle est l'équation vérifiée par  $E(r)$  ?

(a)  $\frac{1}{r} \frac{d(rE(r))}{dr} = -B_0 \sin(\omega t)$

(c)  $\frac{1}{r} \frac{d(rE(r))}{dr} = B_0 \omega \sin(\omega t)$

(b)  $-\frac{d(E(r))}{dr} = B_0 \omega \sin(\omega t)$

(d)  $\frac{1}{r} \frac{dE(r)}{d\theta} = B_0 \omega \cos(\omega t)$

.....

b) En déduire  $E(r)$ .

On prendra  $E(r=0) = 0$ .

.....

## Systèmes d'équations couplées

### Entraînement 7.9



Après écriture de la loi des mailles et de la relation fondamentale de la dynamique, un étudiant obtient ce système d'équations à résoudre :

$$\begin{cases} Ri + aBv = 0 \\ m \frac{dv}{dt} - iBa = mg. \end{cases}$$

a) Quelle est l'équation différentielle vérifiée par  $v$  ?

(a)  $\frac{dv}{dt} - \frac{a^2 B^2 v}{Rm} = g$

(c)  $\frac{dv}{dt} + \frac{a^2 B^2 v}{Rm} = g$

(b)  $\frac{dv}{dt} + \frac{a^2 B^2 v}{R} = g$

.....

b) La dimension temps est notée T, la masse par M. Quelle est la dimension du coefficient  $\frac{a^2 B^2}{Rm}$  ?

(a)  $T^{-1}$

(c) T

(b) 1

(d)  $T \cdot M^{-1}$

.....

**Entraînement 7.10 — Passage en complexe.**



On considère un dispositif dont les équations mécaniques et électriques permettent d'établir le système suivant, où  $u$  est une tension :

$$\begin{cases} Ri + L \frac{di}{dt} - \alpha Bv = u \\ m \frac{dv}{dt} = -iB\alpha - kz - hv \\ v = \frac{dz}{dt} \end{cases}$$

Les grandeurs  $i$ ,  $u$  et  $v$  sont sinusoïdales donc du type  $x(t) = X_m \cos(\omega t + \varphi)$ .

Leur grandeur complexe associée est du type  $\underline{x}(t) = X_m \exp(j\omega t + \varphi)$  et leur amplitude complexe associée  $\underline{X} = X_m \exp(j\varphi)$  (où  $j^2 = -1$ )

a) Comment s'écrit le système après passage en complexe ?

(a) 
$$\begin{cases} R\underline{I} + \frac{L}{j\omega} \underline{I} - \alpha B\underline{V} = \underline{U} \\ jm\omega \underline{V} = -B\alpha \underline{I} - jk\omega \underline{V} - h\underline{V} \\ \underline{V} = j\omega \underline{Z} \end{cases}$$

(b) 
$$\begin{cases} R\underline{I} + jL\omega \underline{I} - \alpha B\underline{V} = U_m \cos(\omega t) \\ \frac{m}{j\omega} \underline{V} = -B\alpha \underline{I} - k \frac{1}{j\omega} \underline{V} - h\underline{V} \\ \underline{V} = j\omega \underline{Z} \end{cases}$$

(c) 
$$\begin{cases} R\underline{I} + jL\omega \underline{I} - \alpha B\underline{V} = \underline{U} \\ jm\omega \underline{V} = -B\alpha \underline{I} - k \frac{1}{j\omega} \underline{V} - h\underline{V} \\ \underline{V} = j\omega \underline{Z} \end{cases}$$

b) Exprimer l'amplitude complexe  $\underline{V}$  en fonction de  $\underline{I}$ .

c) Quelle est l'impédance complexe  $\underline{Z}_{\text{eq}} = \frac{\underline{U}}{\underline{I}}$  en éliminant  $\underline{V}$  dans les deux premières équations du système ?

(a) 
$$\underline{Z}_{\text{eq}} = R + \frac{L}{j\omega} + \frac{\alpha^2 B^2}{h + j(k\omega - \frac{m}{\omega})}$$

(b) 
$$\underline{Z}_{\text{eq}} = R + jL\omega + \alpha^2 B^2 \left( h + j \left( m\omega - \frac{k}{\omega} \right) \right)$$

(c) 
$$\underline{Z}_{\text{eq}} = R + jL\omega + \frac{\alpha^2 B^2}{h + j(m\omega - \frac{k}{\omega})}$$

(d) 
$$\underline{Z}_{\text{eq}} = \frac{R + jL\omega + \alpha^2 B^2}{(h + j(m\omega - \frac{k}{\omega}))}$$

**Entraînement 7.11 — Bilan de puissance.**



On considère le système d'équations électrique (EE) et mécanique (EM) suivant avec la force électromotrice induite  $e = -Bav$ , la force de Laplace de valeur  $f_L = Bai$  et  $f$  une force exercée par un opérateur extérieur

$$\begin{cases} e = Ri & \text{(EE)} \\ m \frac{dv}{dt} = f + f_L & \text{(EM)} \end{cases}$$

On rappelle que l'énergie cinétique de la barre est  $E_c = \frac{1}{2}mv^2$  et que la puissance dissipée par effet Joule est  $\mathcal{P}_J = Ri^2$ .

a) Exprimer, en fonction de  $R$  et  $i$ , le terme  $Bavi$  à partir de  $e$  dans (EE).

.....

b) Exprimer, en fonction de  $m, v$  et  $f$ , le terme  $Bavi$  à partir de  $f_L$  dans (EM).

.....

c) Égaliser les expressions obtenues en a) et b) pour exprimer la puissance fournie par l'opérateur  $fv$  en fonction de  $E_c$  et  $\mathcal{P}_J$ .

On rappelle que  $(f^2(x))' = 2f'(x)f(x)$ .

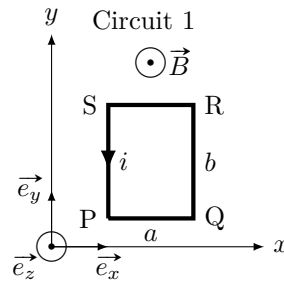
.....

## Force de Laplace

**Entraînement 7.12 — Force de Laplace sur une spire rectangulaire.**



Soit un champ magnétique  $\vec{B}$  uniforme, et un circuit 1 rectangulaire parcouru par un courant  $i$ .



Quelle est l'expression de la force de Laplace s'exerçant sur chaque portion du circuit 1 en fonction de  $B$ ,  $a$ ,  $i$  et des vecteurs unitaires du repère ?

a) PQ .....       c) RS .....

b) QR .....       d) SP .....

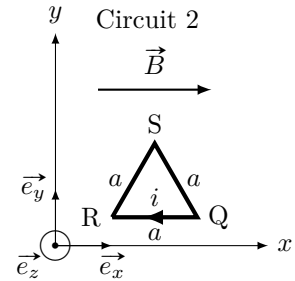
e) Quelle est la résultante des forces de Laplace exercées sur le circuit 1? ....

**Entraînement 7.13 — Force de Laplace sur une spire triangulaire.**



On considère un champ magnétique  $\vec{B}$  uniforme et un circuit 2, triangulaire, parcouru par un courant  $i$ .

Quelle est l'expression de la force de Laplace s'exerçant sur chaque portion du circuit 2 en fonction de  $B$ ,  $a$ ,  $i$  et des vecteurs unitaires du repère?



- a) QR. ...       b) RS ....       c) SQ ....

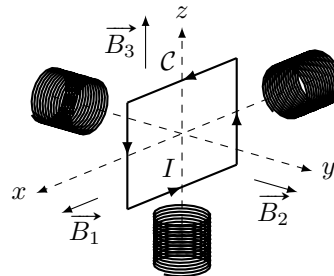


**Entraînement 7.14 — Couple des forces de Laplace sur une spire.**



Un circuit mobile  $C$  de surface  $S$  dans lequel circule un courant d'intensité  $I$  est soumis à différents champs magnétiques uniformes et constants produits par trois bobines tels que :

$$\vec{B}_1 = B\vec{e}_x \quad ; \quad \vec{B}_2 = B\vec{e}_y \quad ; \quad \vec{B}_3 = B\vec{e}_z.$$



On rappelle que le moment magnétique d'une spire  $\vec{M}$  est défini par  $\vec{M} = I\vec{S}$  avec  $\vec{S}$  son vecteur surface.

- a) Exprimer le vecteur surface  $\vec{S}$  en fonction de  $S$  et de la base  $(\vec{e}_x, \vec{e}_y, \vec{e}_z)$ . .....

Exprimer le couple des forces de Laplace  $\vec{\Gamma}_L = \vec{M} \wedge \vec{B}$  que subit la spire  $C$  en fonction de  $S$ ,  $I$  et  $B$  pour :

- b)  $\vec{B}_1$  ...       c)  $\vec{B}_2$  ...       d)  $\vec{B}_3$  ...

Les couples des forces de Laplace mettent la spire en rotation. Parmi les champs produits par les bobines, déterminer à l'aide de la règle de la main droite celui qui provoque les rotations du circuit  $C$  données ci-dessous.

- e) La rotation de la spire autour de l'axe  $(Ox)$  dans le sens direct.

- (a)  $\vec{B}_1$       (b)  $\vec{B}_2$       (c)  $\vec{B}_3$       (d) aucun

- f) La rotation de la spire autour de l'axe  $(Oy)$  dans le sens direct?

- (a)  $\vec{B}_1$       (b)  $\vec{B}_2$       (c)  $\vec{B}_3$       (d) aucun

- g) La rotation de la spire autour de l'axe  $(Oz)$  dans le sens direct?

- (a)  $\vec{B}_1$       (b)  $\vec{B}_2$       (c)  $\vec{B}_3$       (d) aucun



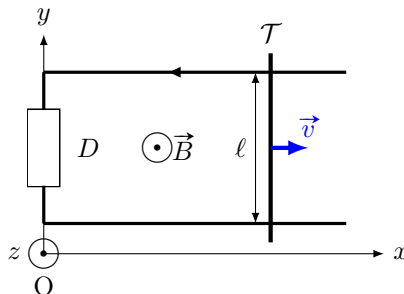
# Around the Laplace rail

The Laplace rail is a circuit consisting of two parallel horizontal conductive rails spaced a distance  $\ell = 10 \text{ cm}$  on which rests a conductive rod  $\mathcal{T}$  of mass  $m = 10 \text{ g}$ .

This one slides without friction on the rails while remaining perpendicular.

We refer to the position  $x$  of the rod on the axis  $(Ox)$ . We suppose that the rails and the rod have a null resistance.

The ensemble is subjected to a uniform permanent magnetic field  $\vec{B} = B\vec{e}_z$ , with  $B = 1 \text{ T}$ . At the initial instant, the rod is launched with a velocity  $\vec{v}(t=0) = v_0\vec{e}_x$ .



The component  $D$  is a dipole whose nature will be indicated in the following exercises.

## Entraînement 7.15 — Rail de Laplace (I).



In this training, the dipole  $D$  is a resistance  $R$ . We can establish the electrical equation (EE) and the mechanical equation (EM) as follows :

$$\begin{cases} B\ell v = Ri & \text{(EE)} \\ m \frac{dv}{dt} = -B\ell i & \text{(EM)} \end{cases}$$

a) Determine the differential equation verified by  $v(t)$  .....

b) What is the expression of the velocity  $v(t)$ ?

Ⓐ  $v_0 \exp\left(-\frac{mR}{B^2\ell^2}t\right)$

Ⓒ  $v_0 \exp\left(-\frac{B^2\ell^2}{mR}t\right)$

Ⓑ  $v_0 \exp\left(-\frac{B\ell}{mR}t\right)$

Ⓓ  $v_0 \exp\left(-\frac{B^2\ell^2}{R}t\right)$

.....

## Entraînement 7.16 — Rail de Laplace (II).



In this training, the dipole  $D$  is a non-ideal voltage generator (consisting of an ideal voltage generator of electromotive force  $E$  in series with its internal resistance  $r$ ). We can establish the electrical equation (EE) and the mechanical equation (EM) as follows :

$$\begin{cases} B\ell v(t) + E = ri & \text{(EE)} \\ m \frac{dv(t)}{dt} = -B\ell i & \text{(EM)} \end{cases}$$

a) Determine the differential equation verified by  $v(t)$  .....

b) What is the expression of the limit velocity  $v_{\text{lim}}$  reached by the rod? .....

**Entraînement 7.17 — Rail de Laplace (III).**



Dans cet entraînement, le dipôle  $D$  est une bobine d'inductance  $L = 0,5 \text{ H}$  et de résistance  $r = 1 \Omega$ .

On peut établir l'équation électrique (EE) et l'équation mécanique (EM) suivantes :

$$\begin{cases} Blv = L \frac{di(t)}{dt} + ri(t) & \text{(EE)} \\ m \frac{dv}{dt} = -Bli(t) & \text{(EM)} \end{cases}$$

a) Déterminer l'équation différentielle vérifiée par  $i(t)$  .....

b) Quelle est l'équation caractéristique associée à l'équation différentielle vérifiée par  $i(t)$  ?

(a)  $x^2 + \frac{r}{L}x + \frac{B^2\ell^2}{mL} = 0$

(b)  $x^2 + \frac{L}{r}x + \frac{B^2\ell^2}{mL} = 0$

(c)  $x^2 + \frac{L}{r}x + \frac{B^2\ell^2}{mL}x = 0$

.....

c) Comment peut-on qualifier le discriminant associé à l'équation caractéristique ?

(a) Il est strictement positif.

(b) Il est nul.

(c) Il est strictement négatif.

.....

d) Quelle est l'expression de  $i(t)$  ?

Les nombres  $\alpha$  et  $\beta$  sont réels.

(a)  $\alpha e^{\left(-\frac{r}{2L} + \frac{1}{2}\sqrt{\frac{r^2}{L^2} - 4\frac{B^2\ell^2}{mL}}\right)t} + \beta e^{\left(-\frac{r}{2L} - \frac{1}{2}\sqrt{\frac{r^2}{L^2} - 4\frac{B^2\ell^2}{mL}}\right)t}$

(b)  $e^{-\frac{r}{2L}t} \left( \alpha \cos\left(\frac{1}{2}\sqrt{\frac{r^2}{L^2} - 4\frac{B^2\ell^2}{mL}}t\right) + \beta \sin\left(\frac{1}{2}\sqrt{\frac{r^2}{L^2} - 4\frac{B^2\ell^2}{mL}}t\right) \right)$

(c)  $(\alpha + \beta t)e^{-\frac{r}{2L}t}$

(d)  $e^{-\frac{r}{2L}t} \left( \alpha \cos\left(\frac{1}{2}\sqrt{4\frac{B^2\ell^2}{mL} - \frac{r^2}{L^2}}t\right) + \beta \sin\left(\frac{1}{2}\sqrt{4\frac{B^2\ell^2}{mL} - \frac{r^2}{L^2}}t\right) \right)$

.....

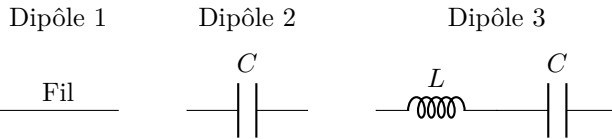
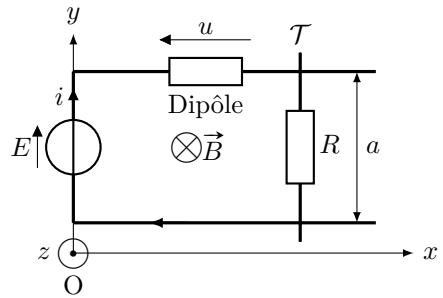
**Entraînement 7.18 — Équations différentielles.**



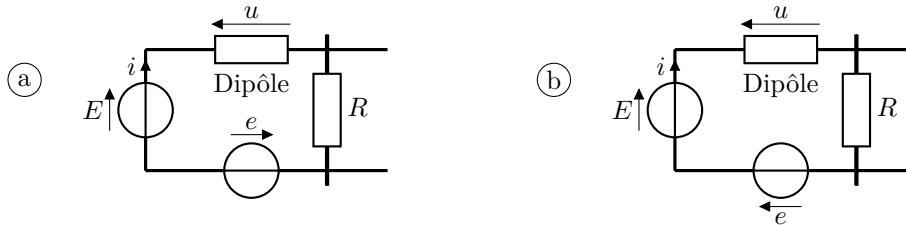
On considère un circuit constitué d'un générateur de force électromotrice constante  $E$ , d'un dipôle et d'une tige mobile  $\mathcal{T}$  de résistance  $R$  repérée par la coordonnée  $x$  sur l'axe  $(Ox)$ , plongé dans un champ magnétique  $\vec{B}$ . On oriente le circuit dans le sens horaire.

On admet que le principe fondamental de la dynamique appliqué à la tige  $\mathcal{T}$  selon l'axe  $(Ox)$  permet d'écrire la relation  $m\ddot{x} = iaB$ . De plus, la force électromotrice induite est  $e = -Ba\dot{x}$ .

On étudie les cas où le dipôle correspond à ces trois montages suivants.



a) Quel sera le montage complet en tenant compte de la force électromotrice induite  $e$ ?



.....

b) Exprimer la tension  $u$  à partir de la loi des mailles en fonction de  $E, i, R, B, a$  et  $\dot{x}$ .

.....

c) Exprimer  $\frac{du}{dt}$  en fonction de  $B, a, m, R, i$  et de  $\frac{di}{dt}$  .....

d) Donner l'équation différentielle vérifiée par  $i$  pour le dipôle 1.

.....

e) Donner l'équation différentielle vérifiée par  $i$  pour le dipôle 2.

.....

f) Donner l'équation différentielle vérifiée par  $i$  pour le dipôle 3.

.....

## Autres entraînements

### Entraînement 7.19 — Vitesse limite.



L'expression de la vitesse  $v(t)$  d'une tige sur des rails de Laplace a pour expression

$$v(t) = \frac{dx(t)}{dt} = \frac{e}{Ba} \left(1 - e^{-\frac{t}{\tau}}\right).$$

a) La dimension temps est notée T, la longueur par L. Comment s'écrit la dimension du coefficient  $\tau$  ?

(a) 1

(c)  $T^{-1}$

(b) T

(d)  $L \cdot T^{-1}$

b) En supposant qu'à  $t = 0$ ,  $x(t = 0) = x_0$ , déterminer  $x(t)$ .

### Entraînement 7.20 — Un système couplé.



Après écriture de la loi des mailles et de la relation fondamentale de la dynamique, on obtient le système suivant :

$$\begin{cases} Ri + L \frac{di}{dt} + aBv = 0 \\ m \frac{dv}{dt} - iBa = mg. \end{cases}$$

a) Quelle est l'équation différentielle vérifiée par  $v(t)$  ?

(a)  $\frac{d^2v}{dt^2} + \frac{R}{L} \frac{dv}{dt} + \frac{aBv}{Lm} = \frac{Rg}{L}$

(b)  $\frac{d^2v}{dt^2} + \frac{R}{L} \frac{dv}{dt} + \frac{a^2B^2v}{Lm} = \frac{Rg}{L}$

(c)  $\frac{d^2v}{dt^2} + \frac{R}{L} \frac{dv}{dt} - \frac{a^2B^2v}{Lm} = \frac{Rg}{L}$

b) La dimension temps est notée T, la longueur par L. Quelle est la dimension du coefficient  $\frac{Rg}{L}$  ?

(a) 1

(c)  $L^{-1} \cdot T^3$

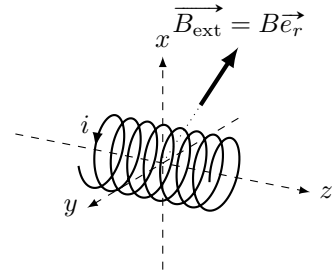
(b)  $L \cdot T^{-3}$

(d)  $L \cdot T^{-2}$

**Entraînement 7.21 — Force de Laplace.**



Soit une bobine de  $N$  spires de rayon  $R$  d'axe  $(Oz)$  et soumise à un champ magnétique extérieur radial  $\vec{B}_{\text{ext}} = B\vec{e}_r$  dans le système de coordonnées cylindriques.



a) Donner l'expression d'un élément de longueur  $d\ell$  de la bobine.

- (a)  $dr$                       (b)  $dz$                       (c)  $dx$                       (d)  $R d\theta$

.....

b) Déterminer l'expression de la force de Laplace s'exerçant sur la bobine.

.....

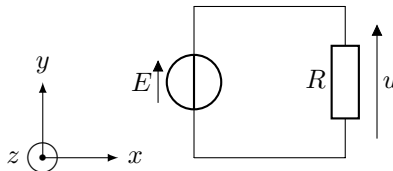
**(🧮) Entraînement 7.22 — Choix du sens du courant induit.**



Soit un circuit électrique de surface  $S = 500 \text{ cm}^2$ , composé d'un générateur idéal délivrant une tension  $E = 200 \text{ mV}$  et un résistor de résistance  $R = 5 \text{ k}\Omega$ .

Il est plongé dans un champ magnétique tel que  $\vec{B} = B \frac{t}{\tau} \vec{e}_z$  avec  $B = 2 \text{ T}$ .

On prendra  $\tau = 1 \text{ s}$ .



On choisit d'orienter le courant induit  $i_{\text{ind}}$  dans le sens horaire.

a) Dans quel sens est orientée la flèche de tension de la fém  $e$  induite par rapport à  $E$ ?

- (a) dans le même sens                      (b) dans le sens opposé

.....

b) À partir de la règle de la main droite, exprimer le vecteur surface du circuit  $\vec{S}$  en fonction de  $S$  et des vecteur de la base  $(\vec{e}_x, \vec{e}_y, \vec{e}_z)$ .

.....

c) Exprimer le flux magnétique  $\phi$  traversant le circuit en fonction de  $B$ ,  $t$ ,  $\tau$  et  $S$ .

.....

d) Exprimer la fém  $e$  apparaissant dans le circuit en fonction de  $B$ ,  $\tau$  et  $S$  .....

.....

e) Quelle est la valeur de la tension  $u$  aux bornes du résistor ? .....

On choisit d'orienter le courant induit  $i_{\text{ind}}$  dans le sens anti-horaire.

f) Dans quel sens est orientée la flèche de tension de la fém  $e$  induite par rapport à  $E$  ?

(a) dans le même sens

(b) dans le sens opposé

.....

g) À partir de la règle de la main droite, exprimer le vecteur surface du circuit  $\vec{S}$  en fonction de  $S$  et des vecteur de la base  $(\vec{e}_x, \vec{e}_y, \vec{e}_z)$ .

.....

h) Exprimer le flux magnétique  $\phi$  traversant le circuit en fonction de  $B$ ,  $t$ ,  $\tau$  et  $S$ .

.....

i) Exprimer la fém  $e$  apparaissant dans le circuit en fonction de  $B$ ,  $\tau$  et  $S$  .....

j) Calculer la valeur de la tension  $u$  aux bornes du résistor .....

**Entraînement 7.23 — Un bilan de puissance.**



On considère le système d'équations électrique (EE) et mécanique (EM) suivant, avec la force électromotrice induite  $e = -Bav$ , la force de Laplace de valeur  $f_L = Bai$ , la force de rappel d'un ressort de valeur  $-kx$  et une force de frottement fluide de valeur  $-\alpha v$  :

$$\begin{cases} E + e = Ri & \text{(EE)} \\ m \frac{dv}{dt} = f_L - kx - \alpha v & \text{(EM)} \end{cases}$$

On rappelle que l'énergie cinétique de la barre est  $E_c = \frac{1}{2}mv^2$  ; que la puissance dissipée par effet Joule est  $\mathcal{P}_J = Ri^2$  ; que l'énergie potentielle de la barre est  $E_p = \frac{1}{2}kx^2$  ; enfin, que la puissance dissipée par frottements est  $\mathcal{P}_f = \alpha v^2$ .

a) Exprimer, en fonction de  $E$ ,  $R$  et  $i$ , le terme  $Bavi$  à partir de  $e$  dans (EE).

.....

b) Exprimer, en fonction de  $m$ ,  $v$ ,  $k$ ,  $x$  et  $\alpha$  le terme  $Bavi$  à partir de  $f_L$  dans (EM).

.....

c) Égaliser les expressions obtenues en a) et b) pour exprimer la puissance fournie  $Ei$  en fonction des grandeurs  $E_c$ ,  $\mathcal{P}_J$ ,  $E_p$  et  $\mathcal{P}_f$ .

On rappelle que  $v = \dot{x}$ .

.....

Réponses mélangées

(a)  $-iaB\vec{e}_y$   $IBS\vec{e}_x$   $\vec{0}$   $mv\frac{dv}{dt} - fv$  (b)  $-\frac{(Ba)^2}{m}i - R\frac{di}{dt}$  (a)  
 (d)  $-S\vec{e}_z$  (a) (a)  $\vec{e}_z$  oui  $\vec{e}_y$   $\vec{e}_y$  (d)  $\frac{dv}{dt} + \frac{B^2\ell^2}{mR}v = 0$   
 (c)  $0$   $-\frac{E}{Bl}$  (b)  $x_0 + \frac{e}{Ba}\left(t + \tau e^{-\frac{t}{\tau}} - \tau\right)$   $E - Ba\dot{x} - Ri$   
 $\frac{d^2i(t)}{dt^2} + \frac{r}{L}\frac{di(t)}{dt} + \frac{B^2\ell^2}{mL}i(t) = 0$  (c)  $L\frac{d^2i}{dt^2} + R\frac{di}{dt} + \left(\frac{(Ba)^2}{m} + \frac{1}{C}\right)i = 0$   
 $2\pi B_0\frac{a^2}{6}$   $ibB\vec{e}_x$   $\frac{BS}{\tau}$   $0$  non  $-B\frac{t}{\tau}S$  (b)  $-Bv\ell$   $\vec{0}$   
 oui  $B\pi R^2$   $-ibB\vec{e}_x$   $-IBS\vec{e}_z$   $\frac{BS t}{\tau}$  (d) (b)  $-Bl^2$   $-Ri^2$   
 $mv\frac{dv}{dt} + kxv + \alpha v^2$  oui  $-i\frac{\sqrt{3}}{2}aB\vec{e}_z$   $-\alpha B\vec{I}$   $Bv\ell$   $\frac{\sqrt{3}}{2}B\pi R^2$  (b)  
 $-\frac{BS}{\tau}$   $\frac{dv(t)}{dt} + \frac{B^2\ell^2}{mr}v(t) = -\frac{BlE}{mr}$   $S\vec{e}_z$   $iaB\vec{e}_y$  (c)  $\frac{\mu_0 N^2 a}{2\pi} \ln\left(\frac{d+a}{d}\right)$   
 $300\text{ mV}$   $-\frac{B\pi R^2}{2}$   $dS = r d\theta dr$  non  $2\pi B_0\left(\frac{R^2}{2} - \frac{R^3}{3a}\right)$   $B_0\omega \sin(\omega t)\frac{r}{2}$   
 $R\frac{di}{dt} + \frac{(Ba)^2}{m}i = 0$  (c)  $i\frac{\sqrt{3}}{2}aB\vec{e}_x$  (c) (d)  $0$   $-\frac{\sqrt{2}}{2}(\vec{e}_y + \vec{e}_z)$   
 $\frac{dE_c}{dt} + \frac{dE_p}{dt} + \mathcal{P}_f + \mathcal{P}_J$  (d) (b) (a) (c)  $\frac{dE_c}{dt} + \mathcal{P}_J$   $-Bx_c\ell$   
 $\frac{\mu_0 N I a}{2\pi} \ln\left(\frac{d+a}{d}\right)$   $-\vec{e}_z$  non  $\pi R^2 B_m \cos(\omega t)$   $-B(a - (x_c - \ell))\ell$   
 aucune (a)  $B\pi R^2 \cos(\omega t)$   $0$   $300\text{ mV}$   $\vec{0}$   $R\frac{di}{dt} + \left(\frac{(Ba)^2}{m} + \frac{1}{C}\right)i = 0$   
 $\frac{\sqrt{2}}{2}(\vec{e}_y + \vec{e}_z)$  (c)  $\pi a^2 B_m \cos(\omega t)$   $S\vec{e}_y$   $Ei - Ri^2$   $-iB2\pi RN\vec{e}_z$

► Réponses et corrigés page 252

## Ondes électromagnétiques I

### Prérequis

Pour une onde plane progressive monochromatique :  $\lambda = c/f$  et  $f = 1/T$ .  
Équations de Maxwell dans le vide :

$$\operatorname{div} \vec{E} = 0 \quad (\text{Maxwell-Gauss})$$

$$\operatorname{div} \vec{B} = 0 \quad (\text{Maxwell-Thomson})$$

$$\operatorname{rot} \vec{E} = -\frac{\partial \vec{B}}{\partial t} \quad (\text{Maxwell-Faraday})$$

$$\operatorname{rot} \vec{B} = \mu_0 \varepsilon_0 \frac{\partial \vec{E}}{\partial t} \quad (\text{Maxwell-Ampère})$$

Formules d'analyse vectorielle, en coordonnées cartésiennes :

$$\operatorname{div} \vec{A} = \frac{\partial A_x}{\partial x} + \frac{\partial A_y}{\partial y} + \frac{\partial A_z}{\partial z}$$

$$\operatorname{rot} \vec{A} = \left( \frac{\partial A_z}{\partial y} - \frac{\partial A_y}{\partial z} \right) \vec{e}_x + \left( \frac{\partial A_x}{\partial z} - \frac{\partial A_z}{\partial x} \right) \vec{e}_y + \left( \frac{\partial A_y}{\partial x} - \frac{\partial A_x}{\partial y} \right) \vec{e}_z$$

$$\Delta \vec{A} = \Delta A_x \vec{e}_x + \Delta A_y \vec{e}_y + \Delta A_z \vec{e}_z$$

$$\Delta v = \frac{\partial^2 v}{\partial x^2} + \frac{\partial^2 v}{\partial y^2} + \frac{\partial^2 v}{\partial z^2}$$

### Constantes utiles

→ Célérité de la lumière dans le vide :  $c = 3,00 \times 10^8 \text{ m} \cdot \text{s}^{-1}$

→ Perméabilité magnétique du vide :  $\mu_0 = 4\pi \times 10^{-7} \text{ H} \cdot \text{m}^{-1}$

→ Permittivité du vide :  $\varepsilon_0 = 9 \times 10^{-12} \text{ F} \cdot \text{m}^{-1}$

## Calculs numériques

### Entraînement 8.1 — Fréquence, longueur d'onde, vitesse de propagation. Ⓛ Ⓛ Ⓛ Ⓛ

Calculer, avec un chiffre significatif, les grandeurs suivantes :

a) la vitesse de propagation des ondes électromagnétique dans le vide  $c = \frac{1}{\sqrt{\mu_0 \varepsilon_0}} \dots$

b) La fréquence  $f$  d'une onde de longueur d'onde dans le vide  $\lambda = 600 \text{ nm} \dots$

c) La longueur d'onde dans le vide d'une onde de fréquence  $f = 3 \text{ GHz} \dots$

d) La période d'une onde de longueur d'onde dans le vide  $\lambda = 3 \text{ pm} \dots$



**(🧮) Entraînement 8.2 — Combat de grandeurs (I).**



On considère un pointeur LASER émettant une onde représentée par son champ électromagnétique

$$\vec{E}(M, t) = E_0 \cos(\omega t - kx) \vec{e}_z \quad \text{et} \quad \vec{B}(M, t) = -\frac{E_0}{c} \cos(\omega t - kx) \vec{e}_y,$$

avec  $E_0 = 100 \text{ V} \cdot \text{m}^{-1}$  et une ampoule classique à filament de puissance lumineuse égale à 100 W.

Le faisceau LASER est un cylindre de section  $S = 1,0 \text{ mm}^2$ .

a) Expliciter la puissance moyenne surfacique  $\langle P \rangle = \left\langle \iint \vec{\Pi} \cdot d\vec{S} \right\rangle$ , avec  $\vec{\Pi} = \frac{\vec{E} \wedge \vec{B}}{\mu_0}$ .

On rappelle que  $\langle \cos^2(\alpha) \rangle = 1/2$  si  $\alpha$  dépend du temps .....

b) Calculer numériquement la puissance moyenne du LASER .....

c) Qui de l'ampoule classique ou du LASER est le plus puissant en moyenne? .....

**(🧮) Entraînement 8.3 — Combat de grandeurs (II).**



On souhaite comparer le champ magnétique terrestre égal à  $5 \times 10^{-5} \text{ T}$  à une onde radiofréquence représentée par son champ magnétique  $\vec{B}(M, t) = B_0 \cos(\omega t - kx) \vec{e}_z$ , de puissance moyenne 1 W.

Le faisceau a une section  $S = 1 \text{ m}^2$ . On rappelle que dans ce cas  $B_0 = \frac{E_0}{c}$  où  $E_0$  est la norme du champ électrique de l'onde plane.

a) Exprimer  $B_0$  en fonction de la puissance moyenne rayonnée  $\langle P \rangle = \frac{E_0^2 S}{2\mu_0 c}$  .....

b) Que dire du champ magnétique de l'onde radiofréquence?

a) Il est plus intense que le champ terrestre.

c) Il est du même ordre de grandeur que le champ terrestre.

b) Il est moins intense que le champ terrestre.

.....

## Dérivées partielles et opérateurs

**(🧮) Entraînement 8.4 — Calculs de dérivées partielles (I).**



On considère le champ électrique suivant :  $\vec{E}(M, t) = E_0 \cos(\omega t - kx) \vec{e}_z$ . Calculer

a)  $\frac{\partial \vec{E}}{\partial t}$  .....

d)  $\frac{\partial^2 \vec{E}}{\partial x^2}$  .....

b)  $\frac{\partial \vec{E}}{\partial x}$  .....

e)  $\frac{\partial^2 \vec{E}}{\partial t^2}$  .....

c)  $\frac{\partial \vec{E}}{\partial z}$  .....

**Entraînement 8.5 — Calculs de dérivées partielles (II).**



On considère le champ magnétique suivant :  $\vec{B}(M, t) = B_0 \sin\left(\frac{\pi y}{a}\right) \cos(\omega t - kx) \vec{e}_z$ . Calculer

- a)  $\frac{\partial \vec{B}}{\partial t}$  .....
- b)  $\frac{\partial \vec{B}}{\partial x}$  .....
- c)  $\frac{\partial \vec{B}}{\partial y}$  .....
- d)  $\frac{\partial^2 \vec{B}}{\partial t^2}$  .....
- e)  $\frac{\partial^2 \vec{B}}{\partial x^2}$  .....
- f)  $\frac{\partial^2 \vec{B}}{\partial y^2}$  .....

**Entraînement 8.6 — Calculs d'opérateurs vectoriels (I).**



On considère le champ électrique suivant :  $\vec{E}(M, t) = E_0 \cos(\omega t - kx) \vec{e}_z$ . Calculer

- a)  $\text{div } \vec{E}$  .....
- b)  $\vec{\text{rot}} \vec{E}$  .....
- c)  $\vec{\Delta} \vec{E}$  .....

**Entraînement 8.7 — Calculs d'opérateurs vectoriels (I).**



On considère le champ électrique  $\vec{E}(M, t)$  dont les composantes sont données par

$$E_x = 0$$

$$E_y = E_0 \cos\left(\frac{\pi y}{a}\right) \cos(\omega t - kz)$$

$$E_z = \alpha E_0 \sin\left(\frac{\pi y}{a}\right) \cos(\omega t - kz).$$

Calculer :

- a)  $\text{div } \vec{E}$  .....
- b)  $\vec{\text{rot}} \vec{E}$  .....
- c)  $\vec{\Delta} \vec{E}$  .....

**Entraînement 8.8 — Équation de propagation.**



On cherche dans cet entraînement à démontrer l'équation de propagation des ondes électromagnétiques dans le vide. On rappelle pour cela la formule du double rotationnel d'un vecteur  $\vec{A}$  :

$$\vec{\text{rot}}(\vec{\text{rot}} \vec{A}) = \vec{\text{grad}}(\text{div} \vec{A}) - \Delta \vec{A}.$$

a) En utilisant l'équation de Maxwell-Faraday puis celle de Maxwell-Ampère, on montre que

$$\vec{\text{rot}}(\vec{\text{rot}} \vec{E}) = \alpha \frac{\partial^2 \vec{E}}{\partial t^2}.$$

Quelle est l'expression de  $\alpha$  ?

(a)  $\alpha = \mu_0 \varepsilon_0$

(b)  $\alpha = \frac{1}{\mu_0 \varepsilon_0}$

(c)  $\alpha = -\mu_0 \varepsilon_0$

.....

b) En utilisant l'équation de Maxwell-Gauss et la formule du double rotationnel, établir une seconde expression de  $\vec{\text{rot}}(\vec{\text{rot}} \vec{E})$  .....

c) En égalisant les expressions de  $\vec{\text{rot}}(\vec{\text{rot}} \vec{E})$  obtenues aux questions précédentes, on obtient l'équation de d'Alembert  $\Delta \vec{E} = \frac{1}{c^2} \frac{\partial^2 \vec{E}}{\partial t^2}$ .

Exprimer  $c$  en fonction de  $\varepsilon_0$  et  $\mu_0$  .....

## Solutions de l'équation de propagation

**Entraînement 8.9 — Représentation d'un signal.**



On considère trois signaux :

- signal n° 1 :

$$E(x_0, t) = 2 + \cos\left(2\pi \frac{t}{T_1}\right) \text{ avec } T_1 = 5 \text{ s}$$

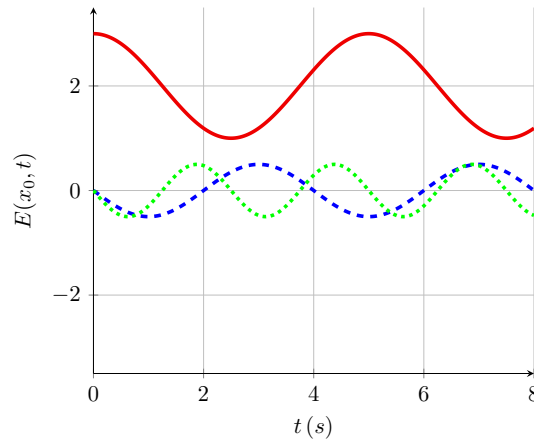
- signal n° 2 :

$$E(x_0, t) = 0,5 \cos\left(2\pi \frac{t}{T_2} + \frac{\pi}{2}\right) \text{ avec } T_2 = 4 \text{ s}$$

- signal n° 3 :

$$E(x_0, t) = 0,5 \cos\left(2\pi \frac{t}{T_3} + \frac{\pi}{2}\right) \text{ avec } T_3 = 2,5 \text{ s}$$

On donne ci-contre leurs représentations graphiques (à  $x_0$  fixé, en fonction du temps).



a) À quel signal la courbe en traits pleins est-elle associée? .....

b) À quel signal la courbe en tirets est-elle associée? .....

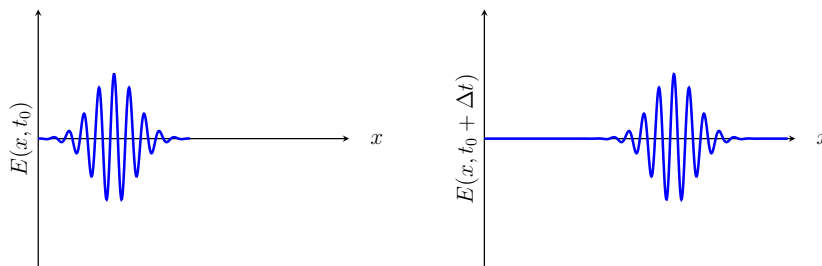
c) À quel signal la courbe en pointillés est-elle associée? .....

**Entraînement 8.10 — Caractérisation d'une onde.**



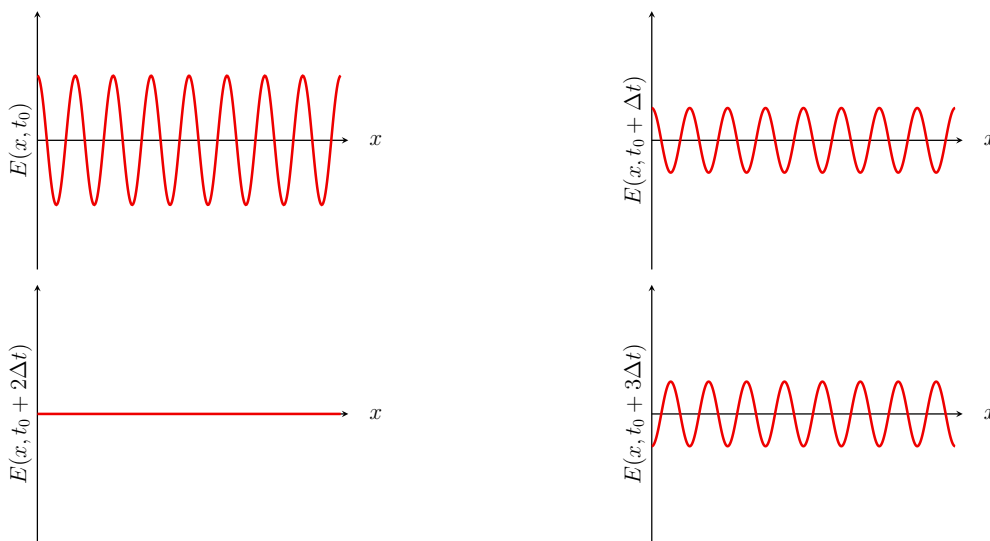
Dans chaque cas, dire si l'onde représentée est progressive (c'est-à-dire de la forme  $f(x - ct)$  ou  $g(x + ct)$ ) et/ou harmonique (dont la dépendance temporelle sinusoidale).

a)



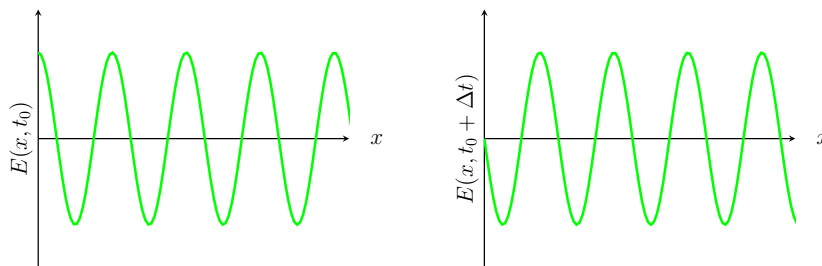
.....

b)



.....

c)



.....

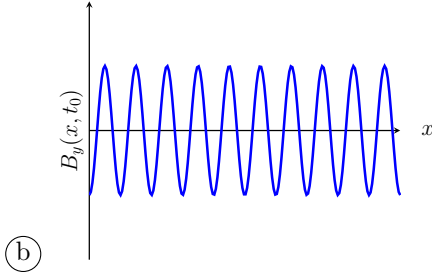
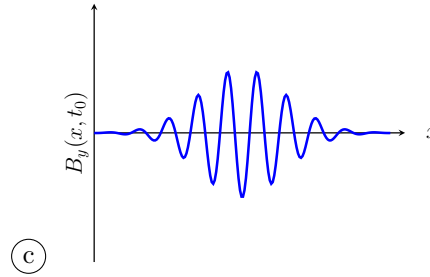
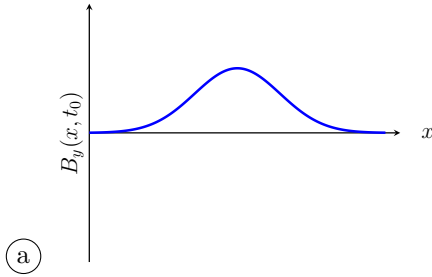
**Entraînement 8.11 — Onde représentée par son champ magnétique.**



On étudie une onde électromagnétique dont le champ magnétique s'écrit :

$$\vec{B}(M, t) = B_0 \exp(-(t/\tau - x/\delta)^2) \vec{u}_y$$

Choisir la représentation qui convient :



**Entraînement 8.12 — Onde électromagnétique dans un guide d'ondes.**



Soit une onde électromagnétique, dont le champ électrique est donné par :

$$\vec{E} = E_0 \cos(\alpha z) \sin(\omega t - kx) \vec{e}_y$$

où  $E_0$  et  $\alpha$  sont des constantes. On rappelle l'équation de propagation d'une onde électromagnétique dans le vide, aussi appelée équation de d'Alembert :

$$\vec{\Delta} \vec{E} = \frac{1}{c^2} \frac{\partial^2 \vec{E}}{\partial t^2}$$

a) Calculer  $\vec{\Delta} \vec{E}$  .....

b) Calculer  $\frac{\partial^2 \vec{E}}{\partial t^2}$ , sans utiliser l'équation de d'Alembert .....

c) En utilisant l'équation de d'Alembert, exprimer  $k$  en fonction de  $\omega$ ,  $\alpha$  et  $c$  .....

On rappelle qu'il y a dispersion si la vitesse de phase  $v_\varphi = \frac{\omega}{k}$  de l'onde dépend de  $\omega$ .

d) Y a-t-il dispersion ici? .....

**Entraînement 8.13 — Onde sphérique progressive.**



On considère le champ électrique sphérique suivant :  $\vec{E}(r, t) = \frac{a}{r} \cos(\omega t - kr) \vec{e}_\theta$ .

On rappelle l'expression du rotationnel en coordonnées sphériques :

$$\text{rot } \vec{A} = \frac{1}{r} \left( \frac{\partial(\sin \theta A_\varphi)}{\partial \theta} - \frac{\partial A_\theta}{\partial \varphi} \right) \vec{e}_r + \frac{1}{r} \left( \frac{1}{\sin(\theta)} \frac{\partial A_r}{\partial \varphi} - \frac{\partial(r A_\varphi)}{\partial r} \right) \vec{e}_\theta + \frac{1}{r} \left( \frac{\partial(r A_\theta)}{\partial r} - \frac{\partial A_r}{\partial \theta} \right) \vec{e}_\varphi.$$

a) Calculer le rotationnel du champ  $\vec{E}$ .

.....

b) En déduire le champ  $\vec{B}$  associé à l'aide de l'équation de Maxwell-Faraday.

.....

c) Indiquer les caractéristiques de la structure de ce champ électromagnétique :

- (a) L'onde est transverse.
- (b) L'onde est longitudinale.
- (c) Les vecteurs  $(\vec{k}, \vec{E}, \vec{B})$  forment un trièdre direct.
- (d) Les vecteurs  $(\vec{k}, \vec{E}, \vec{B})$  forment un trièdre indirect.
- (e) Les vecteurs  $(\vec{B}, \vec{k}, \vec{E})$  forment un trièdre direct.

.....

*On attend plusieurs réponses.*

**Entraînement 8.14 — Onde dans un guide d'ondes.**



On considère le champ électrique suivant :

$$\vec{E}(x, z, t) = E_0 \sin\left(\frac{\pi x}{a}\right) \cos(\omega t - kz) \vec{e}_y.$$

a) Exprimer les valeurs de  $z$  pour lesquelles le champ  $\vec{E}$  s'annule.

.....

b) Exprimer les valeurs de  $x$  pour lesquelles le champ  $\vec{E}$  s'annule.

.....

**Entraînement 8.15 — Onde plane en notation complexe.**



On considère le champ électrique complexe polarisé rectilignement suivant :

$$\vec{E} = E_0 \exp(j(\omega t - k_x x - k_y y - k_z z)) \vec{e}_x \quad \text{et} \quad \vec{k} = k_x \vec{e}_x + k_y \vec{e}_y + k_z \vec{e}_z.$$

Calculer :

- a) la dérivée temporelle de  $\vec{E}$  .....
- b) la divergence de  $\vec{E}$  .....
- c) le rotationnel de  $\vec{E}$  .....
- d) le laplacien vectoriel de  $\vec{E}$  .....

Attribuer alors à chaque opération de dérivation ci-dessous l'expression qui lui est associée.

- (a)  $-j\vec{k} \cdot \vec{E}$                       (b)  $-k^2 \vec{E}$                       (c)  $-j\vec{k} \wedge \vec{E}$                       (d)  $j\omega \vec{E}$
- e)  $\frac{\partial \vec{E}}{\partial t}$  .....                       g)  $\text{rot } \vec{E}$  .....
- f)  $\text{div } \vec{E}$  .....                       h)  $\Delta \vec{E}$  .....

**Entraînement 8.16 — Vitesse de phase et vitesse de groupe.**



On considère une onde plane progressive harmonique pour laquelle la pulsation  $\omega$  et le vecteur d'onde  $k$  vérifient la relation de dispersion  $k^2 = \frac{\omega^2 - \omega_0^2}{c^2}$  où  $\omega_0 < \omega$  une constante positive.

- a) Exprimer la vitesse de phase  $v_\varphi = \frac{\omega}{k}$  de cette onde.  
.....
- b) En différentiant l'expression de  $k^2$ , exprimer la vitesse de groupe  $v_g = \frac{d\omega}{dk}$  de cette onde.  
.....

# Puissance et énergie des ondes électromagnétiques

Le vecteur de Poynting  $\vec{\Pi}$  et l'énergie volumique du champ  $w_{em}$  sont respectivement définis par :

$$\vec{\Pi} = \frac{\vec{E} \wedge \vec{B}}{\mu_0} \quad \text{et} \quad w_{em} = \frac{\epsilon_0 E^2}{2} + \frac{B^2}{2\mu_0}.$$



## Entraînement 8.17 — Puissance d'une onde plane progressive.



On considère le champ électromagnétique plan progressif monochromatique suivant :

$$\vec{E}(y, t) = E_0 \cos(\omega t - ky) \vec{e}_z \quad \text{et} \quad \vec{B}(y, t) = \frac{E_0}{c} \cos(\omega t - ky) \vec{e}_x.$$

a) Calculer le vecteur de Poynting .....

b) Calculer l'énergie volumique électromagnétique .....

## Entraînement 8.18 — Puissance d'une onde sphérique progressive.



On considère le champ électromagnétique sphérique suivant :

$$\vec{E}(r, t) = \frac{a}{r} \cos(\omega t - kr) \vec{e}_\theta \quad \text{et} \quad \vec{B}(r, t) = \frac{a}{cr} \cos(\omega t - kr) \vec{e}_\varphi.$$

a) Calculer le vecteur de Poynting .....

b) Calculer l'énergie volumique électromagnétique .....

c) Calculer la puissance rayonnée  $P = \iint \vec{\Pi} \cdot d\vec{S}$  à travers une sphère de centre O et de rayon  $r$ .

.....

## Entraînement 8.19 — Puissance d'une onde dans un guide d'ondes.



On considère le champ électromagnétique dans le vide suivant :  $\vec{E}(x, z, t) = E_0 \sin\left(\frac{\pi x}{a}\right) \cos(\omega t - kz) \vec{e}_y$ .

a) Calculer le champ  $\vec{B}$  associé à l'aide de l'équation de Maxwell-Faraday.

.....

b) Calculer le vecteur de Poynting. ....

c) Donner la moyenne temporelle du vecteur de Poynting.

On rappelle que  $\langle \cos^2(\alpha) \rangle = \frac{1}{2}$  si  $\alpha$  dépend du temps. ....



# Around of the polarization

## Entraînement 8.20 — Polarisation rectiligne et circulaire.



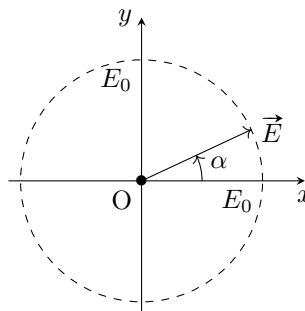
On considère les champs électriques, de période  $T$ , en représentation réelle ou complexe, suivants :

$$\vec{E}_1 = \begin{cases} E_0 \cos \alpha \cos(\omega t - kz) \vec{e}_x \\ E_0 \sin \alpha \cos(\omega t - kz) \vec{e}_y \end{cases}$$

$$\vec{E}_2 = \begin{cases} E_0 \cos(\omega t + kz + \alpha) \vec{e}_x \\ E_0 \sin(\omega t + kz + \alpha) \vec{e}_y \end{cases}$$

$$\vec{E}_3 = E_0 \exp[j(\omega t - kz + \alpha)] (\vec{e}_x - j\vec{e}_y)$$

$$\vec{E}_4 = \begin{cases} E_0 \cos(\omega t + kz + \alpha) \vec{e}_x \\ -E_0 \sin(\omega t + kz - \alpha) \vec{e}_y \end{cases}$$



Ces champs sont tous représentés à  $t = 0$  et  $z = 0$  par la figure ci-dessus.

où  $E_0$  est un réel positif.

Indiquer, pour chaque champ, le type de polarisation et la direction de propagation parmi les cas suivants :

- (a) Rectiligne se propageant selon  $+z$
- (b) Rectiligne se propageant selon  $-z$
- (c) Circulaire gauche se propageant selon  $+z$
- (d) Circulaire gauche se propageant selon  $-z$
- (e) Circulaire droite se propageant selon  $+z$
- (f) Circulaire droite se propageant selon  $-z$

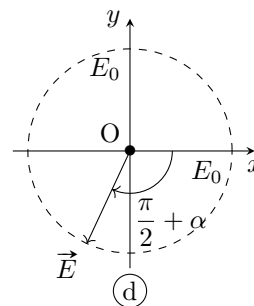
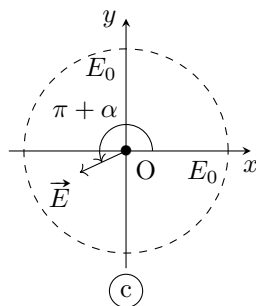
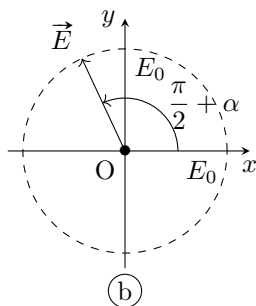
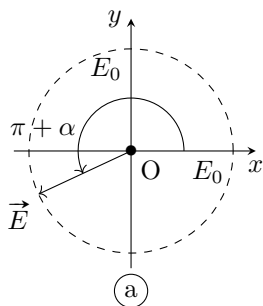
a) Pour  $\vec{E}_1$  .....

c) Pour  $\vec{E}_3$  .....

b) Pour  $\vec{E}_2$  .....

d) Pour  $\vec{E}_4$  .....

Parmi les représentations suivantes, en  $z = 0$ , laquelle représente :



e) le champ  $\vec{E}_1\left(t = \frac{T}{3}, z = 0\right)$  ....

g) le champ  $\vec{E}_3\left(t = \frac{T}{4}, z = 0\right)$  ....

f) le champ  $\vec{E}_2\left(t = \frac{T}{2}, z = 0\right)$  ....

h) le champ  $\vec{E}_4\left(t = \frac{T}{4}, z = 0\right)$  ....

Réponses mélangées

$k^2 E_0 \cos(\omega t - kx) \vec{e}_z$  (c) Ampoule classique  $-\omega^2 \vec{E}$  (a) (c)  
 $-\left(\frac{\pi}{a}\right)^2 B_0 \sin\left(\frac{\pi y}{a}\right) \cos(\omega t - kx) \vec{e}_z$   $E_0 \sin\left(\frac{\pi y}{a}\right) \left(-\frac{\pi}{a} \cos(\omega t - kz) + k\alpha \sin(\omega t - kz)\right)$   
 $\frac{E_0}{\omega} \left[ -k \sin\left(\frac{\pi x}{a}\right) \cos(\omega t - kz) \vec{e}_x - \frac{\pi}{a} \cos\left(\frac{\pi x}{a}\right) \sin(\omega t - kz) \vec{e}_z \right]$  (a), (c) et (e) (f) signal n° 3  
 (d)  $-E_0 \cos(\omega t - kz) \left( \left(\frac{\pi}{a}\right)^2 + k^2 \right) \times \left( \cos\left(\frac{\pi y}{a}\right) + \alpha \sin\left(\frac{\pi y}{a}\right) \right) \vec{e}_x$  Progressive et harmonique  
 $0 \quad 1 \times 10^{-1} \text{ m} \quad (\text{a}) \quad 1 \times 10^{-5} \text{ W} \quad \varepsilon_0 c E_0^2 \cos^2(\omega t - ky) \vec{e}_y$  (b)  
 $\frac{\varepsilon_0 a^2}{r^2} \cos^2(\omega t - kr) \quad x = qa \quad 1 \times 10^{-20} \text{ s} \quad -\omega^2 B_0 \sin\left(\frac{\pi y}{a}\right) \cos(\omega t - kx) \vec{e}_z$   
 $3 \times 10^8 \text{ m} \cdot \text{s}^{-1}$  (c)  $-k^2 B_0 \sin\left(\frac{\pi y}{a}\right) \cos(\omega t - kx) \vec{e}_z \quad j\omega \vec{E} \quad c = \frac{1}{\sqrt{\mu_0 \varepsilon_0}}$   
 (b)  $\frac{\varepsilon_0 c E_0^2}{2} \sin^2\left(\frac{\pi x}{a}\right) \vec{e}_z \quad \varepsilon_0 E_0^2 \cos^2(\omega t - ky) \quad -jk_x \underline{E}_x \quad -(\alpha^2 + k^2) \vec{E}$  (c)  
 $-\omega B_0 \sin\left(\frac{\pi y}{a}\right) \sin(\omega t - kx) \vec{e}_z$  signal n° 2 Progressive  $k E_0 \sin(\omega t - kx) \vec{e}_z \quad -\vec{\Delta} \vec{E}$   
 $\frac{E_0^2}{\mu_0} \sin\left(\frac{\pi x}{a}\right) \left[ \frac{1}{c} \sin\left(\frac{\pi x}{a}\right) \cos^2(\omega t - kz) \vec{e}_z - \frac{\pi}{a\omega} \cos\left(\frac{\pi x}{a}\right) \cos(\omega t - kz) \sin(\omega t - kz) \vec{e}_x \right]$   $v_\varphi = \frac{c}{\sqrt{1 - \left(\frac{\omega_0}{\omega}\right)^2}}$  (d)  $\frac{ak}{r} \sin(\omega t - kr) \vec{e}_\varphi$   
 $\frac{E_0^2 S}{2\mu_0 c}$  signal n° 1  $\frac{\varepsilon_0 c a^2}{r^2} \cos^2(\omega t - kr) \vec{e}_r$  (b)  $-\omega^2 E_0 \cos(\omega t - kx) \vec{e}_z$   
 $\frac{ak}{\omega r} \cos(\omega t - kr) \vec{e}_\varphi \quad 5 \times 10^{14} \text{ Hz} \quad -k^2 E_0 \cos(\omega t - kx) \vec{e}_z \quad B_0 = \sqrt{\frac{2\mu_0 \langle P \rangle}{cS}}$   
 $v_g = c \sqrt{1 - \left(\frac{\omega_0}{\omega}\right)^2} \quad z = ct - (2p + 1) \frac{\lambda}{4} \quad kB_0 \sin\left(\frac{\pi y}{a}\right) \sin(\omega t - kx) \vec{e}_z \quad k^2 = \frac{\omega^2}{c^2} - \alpha^2$   
 $-k E_0 \sin(\omega t - kx) \vec{e}_y$  Oui (d)  $\vec{0} \quad E_0 \cos\left(\frac{\pi y}{a}\right) \left( \frac{\pi}{a} \alpha \cos(\omega t - kz) - k \sin(\omega t - kz) \right) \vec{e}_x$   
 $4\pi \varepsilon_0 c a^2 \cos^2(\omega t - kr) \quad \frac{\pi}{a} B_0 \cos\left(\frac{\pi y}{a}\right) \cos(\omega t - kx) \vec{e}_z \quad -jk_z \underline{E}_x \vec{e}_y + jk_y \underline{E}_x \vec{e}_z$   
 $-k^2 \vec{E}$  (a) Stationnaire, donc non progressive et harmonique  $-\omega E_0 \sin(\omega t - kx) \vec{e}_z$  (a)

► Réponses et corrigés page 260

## Ondes électromagnétiques II

### Prérequis

Maxwell-Gauss (M-G)

$$\text{div } \vec{E} = \frac{\rho}{\epsilon_0}$$

Maxwell-Thomson (M-T)

$$\text{div } \vec{B} = 0$$

Maxwell-Faraday (M-F)

$$\text{rot } \vec{E} = -\frac{\partial \vec{B}}{\partial t}$$

Maxwell-Ampère (M-A)

$$\text{rot } \vec{B} = \mu_0 \vec{j} + \epsilon_0 \mu_0 \frac{\partial \vec{E}}{\partial t}$$

Relation entre  $c$ ,  $\mu_0$  et  $\epsilon_0$

$$\epsilon_0 \mu_0 c^2 = 1$$

Loi d'Ohm locale

$$\vec{j} = \gamma \vec{E}$$

### Pour bien commencer



#### Entraînement 9.1 — Vecteurs orthogonaux ou colinéaires.



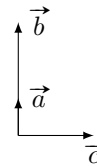
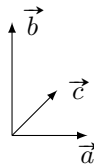
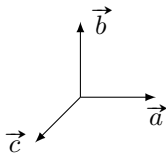
Dans chaque cas, déterminer si les vecteurs  $\vec{a}$ ,  $\vec{b}$  et  $\vec{c}$  sont cohérents avec les équations fournies.

Répondre simplement par « oui » ou « non ».

a)  $\vec{a} \cdot \vec{b} = 0$  et  $\vec{a} \cdot \vec{c} = 0$

b)  $\vec{a} \wedge \vec{b} = \vec{c}$

c)  $\vec{a} \wedge \vec{b} = \vec{0}$  et  $\vec{a} \cdot \vec{c} = 0$



.....

.....

.....



#### Entraînement 9.2 — Dériver des exponentielles complexes.



Établir une relation de dispersion liant  $k$  à  $\omega$  pour chaque équation différentielle.

On s'appuiera sur un champ électrique de la forme :

$$\vec{E}(z, t) = E_0 \exp[i(\omega t - kz)] \vec{e}_x.$$

a)  $\frac{\partial \vec{E}}{\partial t} + \alpha \frac{\partial^2 \vec{E}}{\partial z^2} = \vec{0}$  .....

b)  $\frac{\partial^3 \vec{E}}{\partial t^3} + \alpha \frac{\partial^3 \vec{E}}{\partial z^3} + \beta \frac{\partial \vec{E}}{\partial t} = \vec{0}$  .....

c)  $\frac{\partial^2 \vec{E}}{\partial t^2} + \alpha \frac{\partial \vec{E}}{\partial z} + \beta \vec{E} = \vec{0}$  .....

**Entraînement 9.3 — Conservation de la charge.**



On considère dans un plasma « dilué » une onde électromagnétique de fréquence suffisamment élevée, ce qui simplifie l'écriture de la densité volumique de courant en notation complexe  $\vec{j} = \underline{\alpha}(\omega) \vec{E}$ .

En régime sinusoïdal forcé, l'équation de conservation de la charge s'écrit  $i\omega\rho + \text{div } \vec{j} = 0$ .

- a) Établir une relation entre  $\underline{\rho}$ ,  $\underline{\alpha}$  et  $\omega$  .....
- b) En tenant compte de l'expression de la conductivité complexe  $\underline{\alpha} = \frac{N e^2}{i m \omega}$  et en introduisant la pulsation plasma  $\omega_p = \sqrt{\frac{N e^2}{m \epsilon_0}}$ , établir une relation liant  $\omega$ ,  $\omega_p$  et  $\underline{\rho}$  .....

**Entraînement 9.4 — Expression du vecteur d'onde.**



On considère une onde plane progressive monochromatique polarisée rectilignement et caractérisée par le champ électrique complexe :  $\vec{E} = E_0 \exp[i(\omega t - \underline{k}z)] \vec{e}_x$ . On pose  $\alpha_0 = \omega_p^2 \tau \epsilon_0 = \frac{\omega_p^2 \tau}{\mu_0 c^2}$ .

Cette onde se propage dans un métal réel de conductivité  $\alpha$ . On admet que la relation de dispersion est

$$\underline{k}^2 = \frac{\omega^2}{c^2} \left[ 1 + i \frac{\omega_p^2 \tau^2}{\omega \tau (1 - i \omega \tau)} \right].$$

Dans les différents cas, déterminer l'expression de  $\underline{k}$ .

- a)  $\omega \ll \frac{1}{\tau} \ll \omega_p$  .....       c)  $\frac{1}{\tau} \ll \omega_p < \omega$  .....
- b)  $\frac{1}{\tau} \ll \omega < \omega_p$  .....       d)  $\frac{1}{\tau} \ll \omega_p \ll \omega$  .....



**Entraînement 9.5 — Vitesse de phase.**



Dans un milieu de propagation, les vitesses de phase  $v_\varphi$  et de groupe  $v_g$  d'une onde sont définies par

$$v_\varphi = \frac{\omega}{k'} \quad \text{et} \quad v_g = \frac{d\omega}{dk'},$$

où  $k'$  est la partie réelle du vecteur d'onde  $\underline{k}$ . Dans un plasma, la relation de dispersion s'écrit

$$\underline{k}^2 = \frac{\omega^2 - \omega_p^2}{c^2},$$

où  $\omega_p$  est une constante.

- a) Exprimer la vitesse de phase  $v_\varphi$  lorsque  $\omega > \omega_p$  .....
- b) Exprimer la vitesse de groupe  $v_g$  lorsque  $\omega > \omega_p$  .....

# Énergie et puissance



## Entraînement 9.6 — Vecteur de Poynting et énergie du champ.



On considère un champ électromagnétique dans un milieu d'indice réel  $n$  défini par

$$\vec{E} = E_0 \cos(\omega t - kz) \vec{e}_x$$

et  $\vec{B} = \frac{n}{c} E_0 \cos(\omega t - kz) \vec{e}_y.$

Le vecteur de Poynting  $\vec{\Pi}$  et l'énergie volumique du champ  $w_{em}$  sont définis par

$$\vec{\Pi} = \frac{\vec{E} \wedge \vec{B}}{\mu_0} \quad \text{et} \quad w_{em} = \frac{\varepsilon_0 E^2}{2} + \frac{B^2}{2\mu_0}.$$

- a) Exprimer le vecteur de Poynting .....
- b) Exprimer la moyenne temporelle du vecteur de Poynting .....
- c) Déterminer l'énergie volumique associée à l'onde .....
- d) Exprimer la moyenne temporelle de l'énergie .....



## Entraînement 9.7 — Puissance dans un conducteur.



On considère une onde dans un conducteur d'épaisseur de peau  $\delta$ , de conductivité réelle  $\gamma$ , vérifiant

$$\vec{E} = E_0 e^{-\frac{x}{\delta}} \cos\left(\omega t - \frac{x}{\delta}\right) \vec{e}_y$$

et  $\vec{B} = \frac{E_0}{\omega \delta} \exp\left(-\frac{x}{\delta}\right) \left[ \sin\left(\omega t - \frac{x}{\delta}\right) + \cos\left(\omega t - \frac{x}{\delta}\right) \right] \vec{e}_z.$

Le vecteur de Poynting  $\vec{\Pi}$  et la puissance volumique perdue par effet Joule  $p_J$  sont définis par

$$\vec{\Pi} = \frac{\vec{E} \wedge \vec{B}}{\mu_0} \quad \text{et} \quad p_J = \vec{j} \cdot \vec{E}.$$

- a) Exprimer la moyenne du vecteur de Poynting.  
.....
- b) Exprimer la puissance moyenne perdue par effet Joule.  
.....

**Entraînement 9.8 — Vecteur de Poynting en notation complexe.**



En notation complexe, la moyenne temporelle du vecteur de Poynting pour des ondes planes progressives monochromatiques est donnée par

$$\langle \vec{\Pi} \rangle = \frac{\text{Re}(\vec{E}^* \wedge \vec{B})}{2\mu_0},$$

où le symbole \* désigne la conjugaison complexe. On considère un champ électromagnétique dans un milieu d'indice complexe  $\underline{n}$  défini par

$$\vec{E} = E_0 \exp[i(\omega t - kz)]\vec{e}_x \text{ et } \vec{B} = \frac{n E_0}{c} \exp[i(\omega t - kz)]\vec{e}_y.$$

Déterminer la moyenne du vecteur de Poynting .....

## Manipuler les équations de Maxwell



**Entraînement 9.9 — Relation de dispersion.**



On considère l'équation de propagation complexe dans un plasma

$$\Delta \vec{E} - \frac{1}{c^2} \frac{\partial^2 \vec{E}}{\partial t^2} = \mu_0 \frac{\partial \vec{j}}{\partial t}.$$

Le champ électrique qui se propage dans le plasma vaut :  $\vec{E} = E_0 \exp[i(\omega t - \underline{k}z)]\vec{e}_x$  avec  $\underline{k} = k\vec{e}_z$ .

En tenant compte de l'expression du vecteur densité de courant  $\vec{j} = \alpha \vec{E} = \frac{ne^2}{i\omega m} \vec{E}$ , établir l'équation de dispersion, liant  $k$ ,  $\omega$ ,  $c$  et  $\omega_p^2 = \frac{ne^2}{m\epsilon_0}$ .

.....

**Entraînement 9.10 — Établir une équation d'onde.**



On considère un milieu ohmique localement neutre tel que :  $\rho = 0$  et  $\vec{j} = \gamma \vec{E}$ . On pourra utiliser la relation

$$\overrightarrow{\text{rot}}(\overrightarrow{\text{rot}} \vec{E}) = \overrightarrow{\text{grad}}(\text{div} \vec{E}) - \Delta \vec{E}.$$

a) Exprimer l'équation de Maxwell-Gauss modifiée.

.....

b) Exprimer l'équation de Maxwell-Faraday modifiée.

.....

c) Déterminer l'équation différentielle à laquelle  $\vec{E}$  obéit.

.....

**Entraînement 9.11 — Vérification des équations de Maxwell (I).**



Nous nous plaçons dans le vide ( $\rho = 0$  et  $\vec{j} = \vec{0}$ ) et nous supposons que  $\vec{E}$  et  $\vec{B}$  s'écrivent

$$\vec{E}(z, t) = E_0 \cos(\omega t - kz) \vec{e}_z$$

et  $\vec{B}(z, t) = \frac{kE_0}{\omega} \cos(\omega t - kz) \vec{e}_x$  avec  $k = \omega/c$ .

- a) Le champ électrique vérifie-t-il l'équation de Maxwell-Gauss ? .....
- b) Les champs électrique et magnétique vérifient-ils l'équation de Maxwell-Faraday ? .....
- c) Les champs électrique et magnétique vérifient-ils l'équation de Maxwell-Ampère ? .....
- d) Le champ magnétique vérifie-t-il l'équation de Maxwell-Thomson ? .....

**Entraînement 9.12 — Vérification des équations de Maxwell (II).**



Nous nous plaçons dans un plasma avec

$$\vec{j}(z, t) = -i \frac{\varepsilon_0 \omega_p^2}{\omega} \vec{E}(z, t), \quad \rho(z, t) = 0 \quad \text{et} \quad \vec{k} = \frac{\omega}{c} \sqrt{1 - \frac{\omega_p^2}{\omega^2}} \vec{e}_z$$

avec  $\omega > \omega_p$  et nous supposons que

$$\vec{E}(z, t) = E_0 \exp[i(\omega t - kz)] \vec{e}_x$$

et  $\vec{B}(z, t) = \frac{kE_0}{\omega} \exp[i(\omega t - kz)] \vec{e}_y$  avec  $k = \omega/c$ .

- a) Le champ électrique vérifie-t-il l'équation de Maxwell-Gauss ? .....
- b) Les champs électrique et magnétique vérifient-ils l'équation de Maxwell-Faraday ? .....
- c) Les champs électrique et magnétique vérifient-ils l'équation de Maxwell-Ampère ? .....
- d) Le champ magnétique vérifie-t-il l'équation de Maxwell-Thomson ? .....

# Différentes familles d'ondes

## Entraînement 9.13 — Onde progressive ou onde évanescente.



Nous nous intéressons à un champ électrique de la forme

$$\vec{E}(x, t) = E_0 \exp[i(\omega t - \underline{k}x)]\vec{e}_z \quad \text{avec} \quad \underline{k} = k' + ik''$$

où  $k'' \leq 0$ .

Pour chaque relation de dispersion, déterminer si le champ électrique se présente sous la forme d'une onde

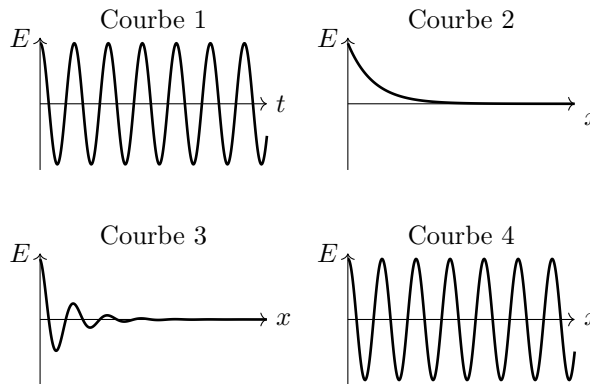
- (a) progressive  $\vec{E}(x, t) = E_0 \exp[i(\omega t - k'x)]\vec{e}_z$
- (b) évanescente  $\vec{E}(x, t) = E_0 \exp(k''x) \exp(i\omega t)\vec{e}_z$
- (c) progressive atténuée  $\vec{E}(x, t) = E_0 \exp(k''x) \exp[i(\omega t - k'x)]\vec{e}_z$

- a)  $\underline{k}^2 = -i\frac{\omega}{c}$  .....
- b)  $\underline{k}^2 = \frac{\omega^2 - \omega_p^2}{c^2}$  avec  $\omega > \omega_p$  .....
- c)  $\underline{k}^2 = \frac{\omega^2 - \omega_p^2}{c^2}$  avec  $\omega < \omega_p$  .....

## Entraînement 9.14 — Courbes et expressions.



Dans chaque cas, relier à l'expression de  $\vec{E}$  fournie, la ou les courbes qui lui correspondent.



- a)  $\vec{E}(x, t) = E_0 \cos(\omega t - kx)\vec{e}_z$  .....
- b)  $\vec{E}(x, t) = E_0 \cos(\omega t) \exp(-kx)\vec{e}_z$  avec  $k > 0$  .....
- c)  $\vec{E}(x, t) = E_0 \cos(\omega t - k'x) \exp(-k''x)\vec{e}_z$  avec  $k'' > 0$  .....



# Réflexion et transmission

## Entraînement 9.15 — Coefficients de réflexion et transmission en amplitude. 🕒🕒🕒🕒

On considère les champs  $\{\vec{E}_i, \vec{B}_i\}$  dans le milieu d'indice  $n_1$  en incidence normale sur un dioptre  $x = 0$  produisant les champs réfléchis  $\{\vec{E}_r, \vec{B}_r\}$  dans le milieu d'indice  $n_1$  et transmis  $\{\vec{E}_t, \vec{B}_t\}$  dans le milieu d'indice  $n_2$  tels que :

$$\begin{cases} \vec{E}_i = E_0 \cos(\omega t - k_1 x) \vec{e}_y \\ \vec{B}_i = \frac{n_1 E_0}{c} \cos(\omega t - k_1 x) \vec{e}_z \end{cases} \quad \begin{cases} \vec{E}_r = r E_0 \cos(\omega t + k_1 x) \vec{e}_y \\ \vec{B}_r = -\frac{n_1 r E_0}{c} \cos(\omega t + k_1 x) \vec{e}_z \end{cases} \quad \begin{cases} \vec{E}_t = t E_0 \cos(\omega t - k_2 x) \vec{e}_y \\ \vec{B}_t = \frac{n_2 t E_0}{c} \cos(\omega t - k_2 x) \vec{e}_z \end{cases}$$

a) Les relations de continuité des champs entre les milieux 1 et 2 imposent  $\vec{E}_1 = \vec{E}_2$  et  $\vec{B}_1 = \vec{B}_2$ .

En déduire deux relations entre  $r$ ,  $t$ ,  $n_1$  et  $n_2$  .....

b) En déduire l'expression des coefficients  $r$  et  $t$  .....

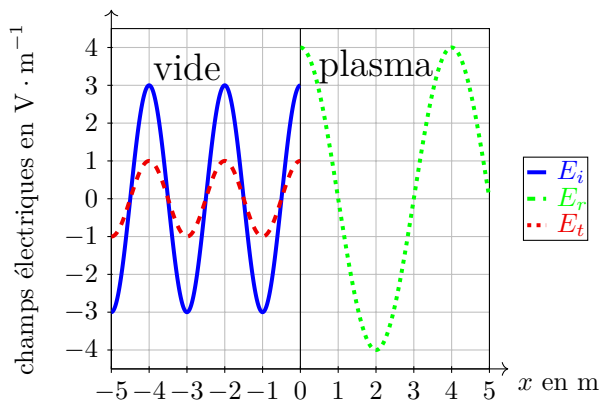
## Entraînement 9.16 — Coefficients de réflexion et transmission. 🕒🕒🕒🕒

Un dioptre en  $x = 0$  sépare du vide d'indice  $n_1 = 1$  pour  $x < 0$  d'un plasma d'indice réel  $n_2$  pour  $x > 0$ . On rappelle les coefficients de réflexion et de transmission en amplitude ( $r, t$ )

$$\begin{cases} r = \frac{E_r(x=0)}{E_i(x=0)} = \frac{n_1 - n_2}{n_1 + n_2}, \\ t = \frac{E_t(x=0)}{E_i(x=0)} = \frac{2n_1}{n_1 + n_2}, \end{cases}$$

et en puissance ( $R, T$ )

$$R = |r|^2 \quad \text{et} \quad T = |t|^2 \frac{n_2}{n_1}.$$



a) Donner la longueur d'onde dans chaque domaine .....

b) À l'aide du graphique, évaluer  $r$  et  $t$  .....

c) En déduire l'indice  $n_2$  du plasma .....

d) Calculer les coefficients  $R$  et  $T$  .....

**Entraînement 9.17 — Coefficients de réflexion et transmission en puissance.**



En notation complexe, pour des ondes planes progressives monochromatiques de vecteur d'onde  $\vec{k}_1$  perpendiculaire au champ électrique  $\vec{E}$ , le champ magnétique  $\vec{B}$  associé est

$$\vec{B} = \frac{\vec{k}_1 \wedge \vec{E}}{\omega},$$

et la moyenne temporelle du vecteur de Poynting est donnée par  $\langle \vec{\Pi} \rangle = \frac{\text{Re}(\vec{E}^* \wedge \vec{B})}{2\mu_0}$ .

On rappelle la relation d'analyse vectorielle  $\vec{u} \wedge (\vec{v} \wedge \vec{w}) = (\vec{u} \cdot \vec{w})\vec{v} - (\vec{u} \cdot \vec{v})\vec{w}$ .

a) Calculer la moyenne temporelle du vecteur de Poynting .....

Ce champ, en incidence normale sur un dioptre, donne lieu à un champ réfléchi de coefficient d'amplitude  $r$  de vecteur d'onde  $-\vec{k}_1$  ainsi qu'à un champ transmis de coefficient d'amplitude  $t$  de vecteur d'onde  $\vec{k}_2$ .

b) Exprimer les puissances réfléchie et transmise.

.....

c) En déduire l'expression de  $R = -\frac{\langle \Pi_r \rangle}{\langle \Pi \rangle}$  et  $T = \frac{\langle \Pi_t \rangle}{\langle \Pi \rangle}$  .....

**Réponses mélangées**

$\text{rot } \vec{B} = \mu_0 \gamma \vec{E} + \frac{1}{c^2} \frac{\partial \vec{E}}{\partial t}$	1 et 3	oui	oui	1 et 2	1 et 4	non
$\Delta \vec{E} - \frac{1}{c^2} \frac{\partial^2 \vec{E}}{\partial t^2} = \mu_0 \gamma \frac{\partial \vec{E}}{\partial t}$	oui	(b)	$\underline{k}^3 = \frac{\omega^3}{\alpha} - \frac{\beta}{\alpha} \omega$	$\frac{1}{3}$ et $\frac{4}{3}$	$\begin{cases} r + 1 = t \\ n_1 - r n_1 = t n_2 \end{cases}$	
$\frac{\varepsilon_0 E_0^2}{4} (1 + n^2)$	2 m et 4 m	$\pm \frac{\omega}{c}$	$\frac{1}{2}$	$\frac{ \underline{E} ^2}{2\mu_0 \omega} \text{Re}(\vec{k}_1)$	$-\frac{ \underline{E} ^2  r ^2}{2\mu_0 \omega} \text{Re}(\vec{k}_1)$ $-\frac{ \underline{E} ^2  t ^2}{2\mu_0 \omega} \text{Re}(\vec{k}_2)$	
non	$\pm i \frac{\omega}{c} \sqrt{\omega_p^2 - \omega^2}$	$\frac{\varepsilon_0 E_0^2}{2} (1 + n^2) \cos^2(\omega t - kz)$		non	$i \omega \rho \left( 1 - \frac{\omega_p^2}{\omega^2} \right) = 0$	
oui	$ r ^2$ et $ t ^2 \text{Re}\left(\frac{k_2}{k_1}\right)$		$\rho \left( \frac{\alpha}{\varepsilon_0} + i \omega \right)$	oui	non $\frac{E_0^2}{2\mu_0 \omega \delta} e^{-\frac{2x}{\delta}} e_x$	
$\pm \frac{\sqrt{\omega^2 - \omega_p^2}}{c}$	$\frac{ \underline{E}_0 ^2}{2\mu_0 c} \text{Re}(n) \vec{e}_z$		(c)	$\frac{\gamma E_0^2}{2} e^{-\frac{2x}{\delta}}$	$k^2 = \frac{i\omega}{\alpha}$	$\text{div } \vec{E} = 0$ oui
$\pm \frac{1+i}{\delta}$ avec $\delta = \sqrt{\frac{2}{\mu_0 \alpha \omega}}$	$\frac{n E_0^2}{2\mu_0 c} \vec{e}_z$		$\frac{1}{9}$ et $\frac{8}{9}$	$\begin{cases} r = \frac{n_1 - n_2}{n_1 + n_2} \\ t = \frac{2n_1}{n_1 + n_2} \end{cases}$		oui $k^2 = \frac{\omega^2 - \omega_p^2}{c^2}$
oui	(a)	$\underline{k} = \frac{\beta - \omega^2}{i\alpha}$	$\frac{n E_0^2}{\mu_0 c} \cos^2(\omega t - kz) \vec{e}_z$		$v_g = c \sqrt{1 - \frac{\omega_p^2}{\omega^2}}$	$v_\varphi = \frac{c}{\sqrt{1 - \frac{\omega_p^2}{\omega^2}}}$

► Réponses et corrigés page 267

# Modèle scalaire de la lumière

**Prérequis**

Optique géométrique (rayons, indice optique, lentilles, lois de Snell-Descartes). Trigonométrie. Longueurs d'onde dans le vide et dans un milieu, période, fréquence et pulsation.

**Constantes utiles**

→ Célérité de la lumière dans le vide :  $c = 3,00 \times 10^8 \text{ m} \cdot \text{s}^{-1}$

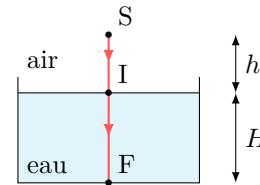
## Exprimer un chemin optique

Dans un milieu homogène, le chemin optique entre deux points A et B est défini comme le produit de l'indice optique  $n$  du milieu par la distance géométrique AB parcourue par un rayon lumineux :  $(AB) = n \times AB$ .

**Entraînement 10.1 — De l'eau dans un verre.**



Un rayon issu d'une source ponctuelle arrive sous incidence normale à la surface de l'eau contenue dans un verre. Les indices optiques de l'air et de l'eau sont respectivement notés  $n_{\text{air}}$  et  $n_{\text{eau}}$ .

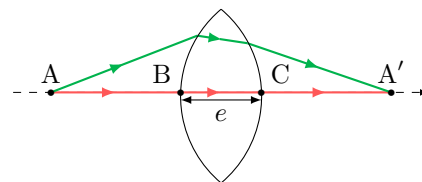


- a) Exprimer le chemin optique (SI) en fonction de  $n_{\text{air}}$  et  $h$  .....
- b) Exprimer le chemin optique (IF) en fonction de  $n_{\text{eau}}$  et  $H$  .....
- c) En déduire l'expression du chemin optique (SF) .....
- d) Comment se réexprime cette expression si l'air est assimilé au vide? .....

**Entraînement 10.2 — Points conjugués par une lentille.**



Deux points A et A' sont conjugués par une lentille convergente : tous les rayons issus de A et arrivant en A' ont des chemins optiques identiques. Pour simplifier, ces points sont choisis sur l'axe optique de la lentille. L'air est assimilé au vide.



On note  $e$  l'épaisseur maximale de la lentille et  $n$  l'indice optique du verre.

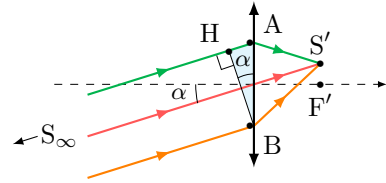
En travaillant avec le rayon confondu avec l'axe optique, exprimer :

- a) le chemin optique dans le verre (BC), en fonction de  $e$  et  $n$  .....
- b) le chemin optique dans l'air (AB) + (CA') en fonction de la distance AA' et  $e$  ...
- c) en déduire l'expression générale du chemin optique (AA') .....

**Entraînement 10.3 — Lentille éclairée avec un angle d'incidence non nul.**



Des rayons, provenant d'une source  $S$  à l'infini, éclairent une lentille sous un angle d'incidence  $\alpha$ . Ils convergent en un point  $S'$  du plan focal image de la lentille. Les points  $A$  et  $B$  sont situés à gauche, juste avant la lentille. L'indice optique du verre est  $n$ . L'air est assimilé au vide.



a) En sachant que le plan passant par  $H$  et  $B$  est une surface d'onde pour la source  $S$ , exprimer la différence de chemin optique  $(SA) - (SB)$  en fonction de la distance  $AB$  et de l'angle  $\alpha$ .

.....

b) Les points  $S$  et  $S'$  sont conjugués donc les chemins optiques  $(SAS')$  et  $(SBS')$  sont égaux.

En déduire la différence de chemin optique  $(AS') - (BS')$  en fonction de la distance  $AB$  et de l'angle  $\alpha$ .

.....

## Surfaces d'onde et théorème de Malus

D'après le théorème de Malus, les rayons lumineux issus d'un point source  $S$  sont perpendiculaires aux surfaces d'onde relatives à cette source. La surface d'onde étant le lieu des points d'égal chemin optique par rapport à la source.

**Entraînement 10.4 — Action d'une lentille inconnue sur des surfaces d'onde.**



On considère ici des surfaces d'onde issues d'un point objet (en tirets) et celles de son image (en pointillés) par une lentille inconnue. Pour chaque situation, déterminer si la lentille est « convergente » ou « divergente ».

a)

.....

c)

.....

b)

.....

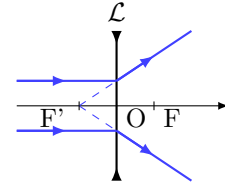
d)

.....

**Entraînement 10.5 — Action d'une lentille divergente sur des surfaces d'onde.**



On construit l'image par une lentille divergente  $\mathcal{L}$  d'une source lumineuse placée à l'infini sur l'axe optique.



Une ou plusieurs réponses sont possibles.

a) En amont de la lentille, les surfaces d'onde sont :

- (a) perpendiculaires à l'axe optique
- (b) des cercles concentriques centrés sur  $F$
- (c) des plans parallèles entre eux

.....

b) En aval de la lentille, les surfaces d'onde sont :

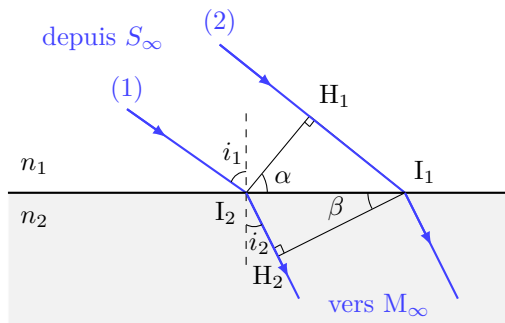
- (a) des cercles concentriques centrés sur  $F$
- (b) des plans perpendiculaires à l'axe optique
- (c) des cercles concentriques centrés sur  $F'$

.....

**Entraînement 10.6 — Une loi bien connue...**



Une onde plane arrive sur un dioptre plan séparant deux milieux d'indice  $n_1$  et  $n_2$ . On note  $H_1$  le projeté orthogonal de  $I_2$  sur le rayon (2). De même,  $H_2$  est le projeté orthogonal de  $I_1$  sur le rayon (1). On note  $I_1I_2 = a$ .



a) Quels couples de points appartiennent à la même surface d'onde ?

- (a)  $I_2$  et  $I_1$
- (b)  $I_2$  et  $H_1$
- (c)  $I_1$  et  $H_2$

.....

b) Que vaut l'angle  $\alpha$  ?

- (a)  $\frac{\pi}{2} - i_1$
- (b)  $i_1$
- (c)  $\frac{\pi}{2} + i_1$

.....

c) Exprimer le chemin optique ( $H_1I_1$ ) en fonction de  $n_1$ ,  $a$  et  $\alpha$ .

.....

d) Que vaut l'angle  $\beta$  ?

- (a)  $i_2$
- (b)  $\frac{\pi}{2} - i_2$
- (c)  $\frac{\pi}{2} + i_1$

.....

e) Exprimer le chemin optique ( $I_2H_2$ ) en fonction de  $n_2$ ,  $a$  et  $\beta$  .....

f) À partir des questions c) et e), déduire une relation entre  $n_1$ ,  $\sin(i_1)$ ,  $n_2$  et  $\sin(i_2)$ .

.....

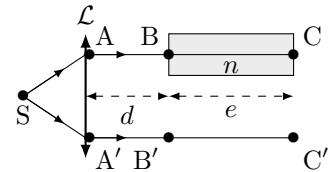
# Retard de phase

Le retard de phase, ou phase, d'un rayonnement en un point M par rapport à sa source au point S est défini par  $\phi(M) = \frac{2\pi}{\lambda_0}(SM)$ , où (SM) le chemin optique entre les deux points.

## Entraînement 10.7 — Surface d'onde et déphasage.



Un point source  $S$  émettant un rayonnement monochromatique de longueur d'onde  $\lambda_0$  est placé au foyer objet d'une lentille mince convergente. Une lame d'indice  $n$  et d'épaisseur  $e$  est placée à une distance  $d$  de la lentille et recouvre une partie du faisceau. On considère que les points A et A', à équidistance de S se situent juste après la lentille. On prendra l'indice de l'air égal à 1.



a) Quels couples de points appartiennent à la même surface d'onde ?

(a) A et A'

(b) B et B'

(c) C et C'

.....

b) Exprimer la phase  $\phi(C')$  en fonction de  $\lambda_0$ , (SA'),  $d$  et  $e$ .

.....

c) Exprimer la phase  $\phi(C)$  en fonction de  $\lambda_0$ , (SA),  $d$ ,  $n$  et  $e$ .

.....

d) En déduire le déphasage  $\Delta\phi = \phi(C) - \phi(C')$  en fonction de  $\lambda_0$ ,  $n$  et  $e$ .

.....

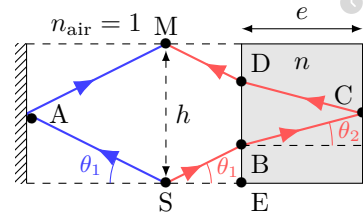


## Entraînement 10.8 — Phases et déphasage.



Un signal lumineux de longueur d'onde dans le vide  $\lambda_0$  est émis depuis une source en S. On considère que le point d'incidence A se situe juste avant le miroir, et on rappelle qu'une réflexion sur un miroir métallique produit un retard de phase de  $\pi$ .

Exprimer la phase  $\phi_1$  du rayon 1 réfléchi par le miroir de gauche en fonction de  $h$  et  $\theta_1$  aux points de l'espace suivant.



a)  $\phi_1(A)$  .....       b)  $\phi_1(M)$  .....

c) Exprimer la distance BD en fonction de  $e$  et  $\theta_2$  .....

d) Exprimer la distance EB en fonction de  $e$ ,  $h$  et  $\theta_2$  .....

e) Quelle est l'expression correcte de  $\phi_2(B)$ , la phase du rayon de droite au point B ?

(a)  $\frac{2\pi}{\lambda_0} \left( \frac{h}{2n \sin \theta_1} - \frac{e}{\cos \theta_2} \right)$

(b)  $\frac{2\pi}{\lambda_0} \left( \frac{h}{2 \sin \theta_1} - \frac{e}{n \cos \theta_2} \right)$

(c)  $\frac{2\pi}{\lambda_0} \left( \frac{e}{\cos \theta_2} - \frac{h}{2n \sin \theta_1} \right)$

.....

f) Exprimer la phase de ce rayon en M,  $\phi_2(M)$ , en fonction de  $h$ ,  $e$ ,  $n$ ,  $\theta_1$  et  $\cos \theta_2$ .

.....

g) Exprimer le déphasage  $\Delta\phi = \phi_2(M) - \phi_1(M)$  en fonction de  $e$ ,  $n$  et  $\cos \theta_2$ .

.....

h) Quelle est l'expression correcte de  $\Delta\phi$ ? On rappelle que  $\sin^2 a + \cos^2 a = 1$ .

Ⓐ  $\frac{4\pi}{\lambda_0} \frac{e(n^2 - 1)}{\sqrt{n^2 - \sin^2 \theta_1}} - \pi$

Ⓑ  $\frac{4\pi}{\lambda_0} \frac{e(n^2 - 1)}{\sqrt{n^2 - \sin^2 \theta_1}} + \pi$

Ⓒ  $\frac{2\pi}{\lambda_0} \frac{e(n^2 - 1)}{\sqrt{n^2 - \sin^2 \theta_1}} + \pi$

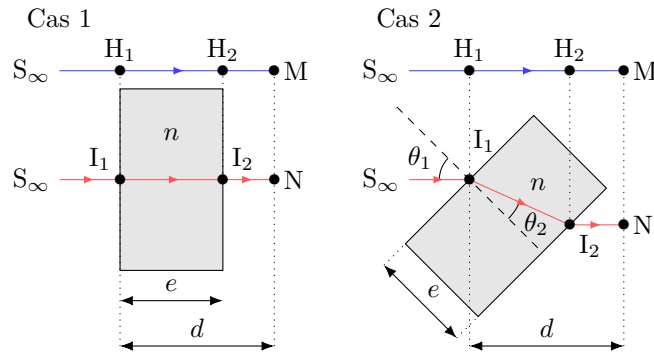
.....

**Entraînement 10.9 — Déphasage dû à une lame.**



On souhaite exprimer les différences de phases  $\Delta\phi = \phi(N) - \phi(M)$  entre le rayon passant par N et le rayon passant par M issus de la même source à l'infini S de longueur d'onde dans le vide  $\lambda_0$ .

L'indice de l'air est pris égal à 1.



a) Pour le cas 1, exprimer le déphasage  $\Delta\phi = \phi(N) - \phi(M)$  selon  $e$ ,  $\lambda_0$  et  $n$ .

.....

On considère maintenant le cas 2.

b) Exprimer la distance  $I_1I_2$  en fonction de  $e$  et  $\theta_2$  .....

c) Exprimer la distance  $H_1H_2$  en fonction de  $I_1I_2$  et  $\theta_1 - \theta_2$  .....

d) Exprimer le déphasage  $\Delta\phi = \phi(N) - \phi(M)$  en fonction de  $e$ ,  $\lambda_0$ ,  $n$ ,  $\theta_2$  et  $\theta_1 - \theta_2$ .

.....

e) Quelle est l'expression correcte de  $\cos(\theta_1 - \theta_2)$ ?

On rappelle que  $\cos(a - b) = \cos a \cos b + \sin a \sin b$  et que  $\sin^2 a + \cos^2 a = 1$ .

Ⓐ  $\cos \theta_1 \cos \theta_2 - n + n \sin^2 \theta_2$

Ⓒ  $\cos \theta_1 \cos \theta_2 + n - n \cos^2 \theta_2$

Ⓑ  $\sin \theta_1 \sin \theta_2 + n - n \sin^2 \theta_2$

.....

f) En déduire une expression de  $\Delta\phi$  fonction de  $e$ ,  $\lambda_0$ ,  $n$ ,  $\cos \theta_2$  et  $\cos \theta_1$ .

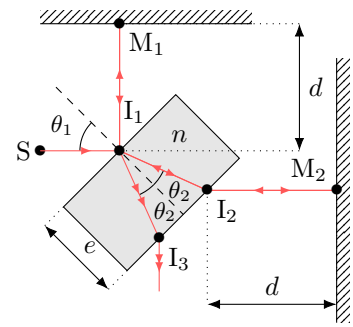
.....

**Entraînement 10.10 — lame séparatrice.**



Un signal lumineux de longueur d'onde dans le vide  $\lambda_0$  est émis depuis une source en S. Il est séparé en deux rayons par une lame semi-réfléchissante inclinée d'un angle  $\theta_1 = 45^\circ$ . On cherche à déterminer le déphasage  $\Delta\phi$  entre les deux rayons en sortie de la lame après réflexion sur les deux miroirs en  $M_1$  et  $M_2$ . On rappelle qu'un rayon subit un déphasage de  $\pi$  après réflexion sur un miroir métallique, ou sur un dioptre si le rayon incident se propage dans le milieu le moins réfringent : d'indice de réfraction le plus faible.

Cas 3



- a) Déterminer le déphasage du rayon réfléchi par  $M_1$  dû à la réflexion .....
- b) Déterminer le déphasage du rayon réfléchi par  $M_2$  dû à la réflexion .....
- c) Exprimer la distance  $I_1I_2$  en fonction de  $e$  et  $\theta_2$  .....
- d) Exprimer la différence de phase  $\Delta\phi$  entre le rayon réfléchi par  $M_2$  et le rayon réfléchi par  $M_1$  au point  $I_3$  en fonction  $e$ ,  $\lambda_0$ ,  $n$  et  $\theta_2$  .....

## Largeur spectrale et cohérence temporelle

**Entraînement 10.11 — Différentes sources.**



Une onde lumineuse est émise par des trains d'onde successifs de durée individuelle moyenne  $\tau_c$  (temps de cohérence) et de longueur individuelle moyenne  $\ell_c = c \times \tau_c$  (longueur de cohérence) dans le vide. D'après l'analyse de Fourier, à cette onde de durée finie correspond un spectre de largeur  $\Delta f \simeq \frac{1}{\tau_c}$  (en fréquence).

On considère trois sources :

- une lampe spectrale basse pression à vapeur de mercure telle que  $\tau_c \simeq 10$  ps (source ①),
- un laser de TP tel que  $\tau_c \simeq 0,1$   $\mu$ s (source ②)
- et une source de lumière blanche munie d'un filtre ayant une bande passante  $\Delta\lambda = 50$  nm autour de la longueur d'onde  $\lambda = 820$  nm (source ③).

On rappelle que la cohérence temporelle d'une source est d'autant meilleure que son temps de cohérence est important.

- a) Estimer  $\Delta f$  en hertz pour la source ① .....
- b) Estimer  $\Delta f$  en hertz pour la source ② .....
- c) En utilisant la relation  $\frac{\Delta\lambda}{\lambda} = \frac{\Delta f}{f}$ , estimer  $\tau_c$  en picoseconde pour la source ③ .....
- d) Classer les sources, de celle possédant la meilleure cohérence temporelle à la moins bonne.

.....



# Photométrie



## Entraînement 10.12 — Intensité lumineuse.



Un signal  $s(t) = S_0 \cos(\omega t)$  de période  $T$  est détecté par deux capteurs de temps de réponse  $\tau = 1 \text{ ns}$ .

Les capteurs A et B délivrent des signaux de tension  $u_1$  et  $u_2$  respectivement proportionnels à la moyenne de  $s$  et au carré de la moyenne de  $s^2$  : on a

$$u_1 = K_1 \langle s(t) \rangle \quad \text{et} \quad u_2 = K_2 \langle s^2(t) \rangle,$$

où  $K_1$  et  $K_2$  sont des constantes.

On considère que les signaux  $u_1$  et  $u_2$  émergent du bruit de mesure lorsque leur valeur absolue est respectivement supérieure à  $\frac{K_1 S_0}{2\pi \times 100}$  et  $\frac{K_2 S_0^2}{2}$ .

On indique que la moyenne temporelle d'un signal  $f(t)$  mesuré pendant une durée  $\tau$  est

$$\langle f(t) \rangle = \frac{1}{\tau} \int_0^\tau f(t) dt.$$

a) Exprimer  $u_1$  en fonction de  $K_1$ ,  $S_0$ ,  $\tau$  et  $T$ .

.....

b) Quelle est la valeur maximale de  $u_1$  fonction de  $\frac{\tau}{T}$  ?

Ⓐ  $2\pi K_1 S_0 \frac{T}{\tau}$

Ⓑ  $2\pi K_1 S_0 \frac{\tau}{T}$

Ⓒ  $K_1 S_0 \frac{\tau}{2\pi T}$

Ⓓ  $K_1 S_0 \frac{2\pi T}{\tau}$

.....

c) En déduire la fréquence maximale du signal exploitable par le capteur A.

.....

d) Exprimer  $u_2$  en fonction de  $K_2$ ,  $S_0$ ,  $\tau$  et  $T$ .

On rappelle que  $\cos^2 a = \frac{1 + \cos(2a)}{2}$ .

.....

e) Quelle est la valeur maximale de  $u_2$  fonction de  $\frac{\tau}{T}$  ?

Ⓐ  $\frac{K_2 S_0^2}{2\tau} \left( T + \frac{\tau}{4\pi} \right)$

Ⓑ  $\frac{K_2 S_0^2}{2\tau} \left( \tau + \frac{T}{4\pi} \right)$

Ⓒ  $\frac{K_2 S_0^2}{\tau} \left( \tau + \frac{T}{4\pi} \right)$

.....

f) Existe-t-il une fréquence maximale du signal exploitable par le capteur B ?

.....

 **Entraînement 10.13 — Choix d'une photodiode.**



La sensibilité d'une photodiode  $s$  est, au cours d'une mesure de durée  $\tau$ , le rapport de proportionnalité entre l'intensité du courant électrique produit  $I_{\text{mes}}$  et la puissance lumineuse mesurée  $\mathcal{P}_{\text{mes}}$  : on a

$$s = I_{\text{mes}} / \mathcal{P}_{\text{mes}}.$$

De plus, l'intensité du courant d'obscurité  $I_{\text{obs}}$  d'une photodiode correspond à l'intensité électrique minimale que doit dépasser le courant produit au cours d'une mesure.

On dispose de trois photodiodes détectant respectivement trois radiations de longueurs d'onde dans le vide différentes. Les caractéristiques des photodiodes et des radiations sont données ci-dessous.

photodiode 1	$\lambda_1 = 470 \text{ nm}$	$s_1 = 0,300 \text{ A} \cdot \text{W}^{-1}$	$I_{\text{obs } 1} = 3,00 \times 10^{-5} \text{ } \mu\text{A}$	$\tau_1 = 2,00 \times 10^{-4} \text{ ms}$
photodiode 2	$\lambda_2 = 550 \times 10^3 \text{ pm}$	$s_2 = 200 \text{ mA} \cdot \text{W}^{-1}$	$I_{\text{obs } 2} = 150 \text{ pA}$	$\tau_2 = 0,450 \text{ } \mu\text{s}$
photodiode 3	$\lambda_3 = 0,660 \text{ } \mu\text{m}$	$s_3 = 300 \text{ A} \cdot \text{kW}^{-1}$	$I_{\text{obs } 3} = 2,00 \text{ nA}$	$\tau_3 = 50,0 \text{ ns}$

Calculer en watt les puissances lumineuses minimales détectables par les photodiodes.

- a)  $\mathcal{P}_{\text{min } 1} \dots$        b)  $\mathcal{P}_{\text{min } 2} \dots$        c)  $\mathcal{P}_{\text{min } 3} \dots$

Calculer en joule les énergies minimales détectables au cours d'une durée  $\tau$  par les photodiodes.

- d)  $E_{\text{min } 1} \dots$        e)  $E_{\text{min } 2} \dots$        f)  $E_{\text{min } 3} \dots$

g) Sachant que l'énergie d'un photon est donnée par  $E = h\nu$ , où  $h = 6,63 \times 10^{-34} \text{ J} \cdot \text{s}$  est la constante de Planck, quelle photodiode permet de mesurer le plus petit nombre de photons ?

- (a) Photodiode 1      (b) Photodiode 2      (c) Photodiode 3  
 .....

**Réponses mélangées**

$\frac{2\pi}{\lambda_0} \frac{h}{\sin \theta_1} + \pi$        $1 \times h + n_{\text{eau}} \times H$        $\frac{h}{2} - e \tan \theta_2$        $n_{\text{air}} \times h$        $\frac{2\pi}{\lambda_0} \frac{e}{\cos \theta_2} (n - \cos(\theta_1 - \theta_2))$   
 (2), (1) puis (3)       $\frac{2\pi}{\lambda_0} e(n-1)$       100 GHz       $2 \times 10^{-17} \text{ J}$        $K_1 S_0 \frac{T}{2\pi\tau} \sin\left(2\pi \frac{\tau}{T}\right)$   
 (b)       $3,33 \times 10^{-16} \text{ J}$       (a) Divergente       $\tau_c = 45 \times 10^3 \text{ ps}$       (d)  $\frac{2\pi}{\lambda_0} (n-1)e$   
 $\Delta f = 1,0 \times 10^7 \text{ Hz}$       Convergente      (b)  $\frac{e}{\cos \theta_2}$        $\frac{2\pi}{\lambda_0} ((SA') + d + e)$   
 $\Delta f = 1,0 \times 10^{11} \text{ Hz}$       Convergente       $2e \tan \theta_2$        $AB \sin(\alpha)$       (b)  
 (c)       $\frac{2\pi}{\lambda_0} e(n \cos \theta_2 - \cos \theta_1)$        $n_{\text{eau}} \times H$        $\pi$       (c) non       $\frac{\pi}{\lambda_0} \frac{h}{\sin \theta_1}$   
 $\frac{4\pi}{\lambda_0} \left( \frac{h}{2 \sin \theta_1} + \left( n - \frac{1}{n} \right) \frac{e}{\cos \theta_2} \right)$        $n_2 a \sin \beta$        $n_1 a \sin \alpha$        $I_1 I_2 \cos(\theta_1 - \theta_2)$        $-AB \sin(\alpha)$   
 $AA' + (n-1)e$        $\frac{2\pi}{\lambda_0} ((SA) + d + ne)$       (a) et (c)       $7,50 \times 10^{-10} \text{ W}$        $1 \times (AA' - e)$   
 $3,38 \times 10^{-16} \text{ J}$        $n \times e$       Convergente       $6,67 \times 10^{-9} \text{ W}$        $\frac{4\pi}{\lambda_0} \frac{e}{\cos \theta_2} \left( n - \frac{1}{n} \right) - \pi$   
 $\frac{4\pi}{\lambda_0} \frac{ne}{\cos \theta_2} - \pi$        $\frac{K_2 S_0^2}{2\tau} \left( \tau + \frac{T}{4\pi} \sin\left(4\pi \frac{\tau}{T}\right) \right)$       (a) et (b)      (a)       $n_{\text{air}} \times h + n_{\text{eau}} \times H$   
 $2\pi$       (a)      (b) et (c)       $n_1 \sin i_1 = n_2 \sin i_2$        $1,00 \times 10^{-10} \text{ W}$        $\frac{e}{\cos \theta_2}$

► Réponses et corrigés page 273

# Interférences à deux ondes

**Prérequis**

Fonctions trigonométriques. Signaux (fréquence, période, pulsations temporelle et spatiale, nombre d'onde, longueur d'onde, phase).

**Constantes utiles**

→ Célérité de la lumière  $c = 3,00 \times 10^8 \text{ m} \cdot \text{s}^{-1}$ .

## Pour commencer

 **Entraînement 11.1 — Des relations trigonométriques.**



On donne les relations trigonométriques suivantes :

$$\cos(a - b) = \cos(a) \cos(b) + \sin(a) \sin(b) \quad (1) \quad \cos(a + b) = \cos(a) \cos(b) - \sin(a) \sin(b) \quad (2)$$

$$\sin(a - b) = \sin(a) \cos(b) - \cos(a) \sin(b) \quad (3) \quad \sin(a + b) = \sin(a) \cos(b) + \cos(a) \sin(b) \quad (4)$$

a) Sommer les relations (1) et (2) et isoler  $\cos(a) \cos(b)$  ...

b) Réécrire la relation précédente pour  $a = b$  .....

c) Soustraire les relations (1) et (2), isoler  $\sin(a) \sin(b)$  puis réécrire la relation obtenue pour  $a = b$ .  
.....

d) Sommer les relations (3) et (4), isoler  $\sin(a) \cos(b)$  puis réécrire la relation obtenue pour  $a = b$ .  
.....

 **Entraînement 11.2 — Somme de signaux périodiques.**



On définit deux signaux lumineux :  $s_1(x, t) = S_0 \cos(\omega t - kx)$  et  $s_2(x, t) = S_0 \cos(\omega t - kx + \varphi)$  avec  $\omega$  leur pulsation temporelle,  $k$  leur pulsation spatiale et  $\varphi$  une phase à l'origine. La superposition  $s(x, t)$  de ces deux vibrations peut se mettre sous la forme :

$$s(x, t) = s_1(x, t) + s_2(x, t) = S_0 \left( f(x, t) (1 + \cos(\varphi)) + g(x, t) \sin(\varphi) \right).$$

On utilisera la relation trigonométrique :  $\cos(a + b) = \cos(a) \cos(b) - \sin(a) \sin(b)$ .

Exprimer les fonctions suivantes :

a)  $f(x, t)$  .....       b)  $g(x, t)$  .....

c) Pour quelle valeur de phase  $\varphi$  le signal  $s(x, t)$  s'annule-t-il ?  
 a)  $\varphi = 0$        b)  $\varphi = \frac{\pi}{2}$        c)  $\varphi = \pi$   
 .....

**Entraînement 11.3 — Valeurs moyennes (I).**



Un détecteur mesure la moyenne temporelle d'un signal périodique  $s(t)$  de période  $T$ .

Cette moyenne, notée  $\langle s(t) \rangle$ , est définie par

$$\langle s(t) \rangle = \frac{1}{T} \int_0^T s(t) dt.$$

On donne les relations trigonométriques suivantes :

- $\cos(a) \cos(b) = \frac{\cos(a-b) + \cos(a+b)}{2}$
- $\sin(a) \cos(b) = \frac{\sin(a-b) - \sin(a+b)}{2}$
- $\sin(a) \sin(b) = \frac{\cos(a-b) - \cos(a+b)}{2}$

On étudie les signaux suivants :

$$s_1(t) = S_1 \cos(\omega_1 t - k_1 x) \quad \text{et} \quad s_2(t) = S_2 \sin(\omega_2 t - k_2 x + \varphi_2).$$

a) Exprimer la période  $T_1$  de  $s_1(t)$  en fonction de  $\omega_1$ .

.....

b) À partir de la définition fournie, calculer  $\langle s_1(t) \rangle$  sur  $T_1$ .

.....

c) Exprimer la période  $T_2$  de  $s_2(t)$  en fonction de  $\omega_2$ .

.....

d) À partir de la définition fournie, calculer  $\langle s_2(t) \rangle$  sur  $T_2$ .

.....

e) Exprimer la période  $T_3$  de  $f_1(t) = s_1^2(t)$  en fonction de  $\omega_1$ .

.....

f) À partir de la définition fournie, calculer  $\langle f_1(t) \rangle$  sur  $T_3$ .

.....

g) Exprimer la période  $T_4$  de  $f_2(t) = s_2^2(t)$  en fonction de  $\omega_2$ .

.....

h) À partir de la définition fournie, calculer  $\langle f_2(t) \rangle$  sur  $T_4$ .

.....

 **Entraînement 11.4 — Valeurs moyennes (II).**



Les moyennes temporelles des fonctions cosinus et sinus pour un nombre entier de périodes vérifient

$$\langle A \cos(a\omega t + b) \rangle = 0 \quad \text{et} \quad \langle A \sin(a\omega t + b) \rangle = 0$$

avec  $A$ ,  $a$ ,  $\omega$  et  $b$  des constantes.

On donne les relations trigonométriques suivantes :

- $\cos(a) \cos(b) = \frac{\cos(a - b) + \cos(a + b)}{2}$
- $\sin(a) \sin(b) = \frac{\cos(a - b) - \cos(a + b)}{2}$
- $\sin(a) \cos(b) = \frac{\sin(a - b) - \sin(a + b)}{2}$ .

Calculer la moyenne temporelle sur un nombre entier de périodes des fonctions ci-dessous.

a)  $\langle [\cos(\omega_0 t + \varphi_1) + \cos(\omega_0 t + \varphi_2)]^2 \rangle$

.....

b)  $\langle [A \cos(3\omega_0 t + \varphi_1) + A \cos(\omega_0 t + \varphi_2)]^2 \rangle$


.....

c)  $\langle [A \cos(42\omega_0 t + \varphi_1) + B \sin(43\omega_0 t + \varphi_2)]^2 \rangle$

.....

d)  $\langle \left[ \frac{A}{4} \sin\left(\frac{\omega_0}{2}t + \varphi_0\right) + \frac{A}{2} \sin\left(\frac{\omega_0}{2}t + 2\varphi_0\right) \right]^2 \rangle$

.....

 **Entraînement 11.5 — Bataille de contrastes.**



On mesure les maxima et les minima d'éclairements de différentes figures d'interférences.

Quelle est celle qui présente le plus fort contraste  $C = \frac{I_{\max} - I_{\min}}{I_{\max} + I_{\min}}$  ?

On rappelle que  $1 \text{ pW} = 1 \times 10^{-12} \text{ W}$ .

- (a)  $I_{\max} = 10,0 \times 10^6 \text{ W} \cdot \text{m}^{-2}$  et  $I_{\min} = 1,00 \text{ MW} \cdot \text{m}^{-2}$
- (b)  $I_{\max} = 660 \text{ mW} \cdot \text{mm}^{-2}$  et  $I_{\min} = 0,220 \text{ kW} \cdot \text{dm}^{-2}$
- (c)  $I_{\max} = 5,00 \text{ mW} \cdot \text{mm}^{-2}$  et  $I_{\min} = 2,00 \text{ mW} \cdot \text{cm}^{-2}$
- (d)  $I_{\max} = 72,0 \text{ pW} \cdot \mu\text{m}^{-2}$  et  $I_{\min} = 3,00 \text{ MW} \cdot \text{km}^{-2}$

.....

**Entraînement 11.6 — Signaux isophases.**



Une source émet deux vibrations lumineuses  $s(x, t) = S_0 \cos(\omega t - kx)$  et  $s'(x, t) = S_0 \cos(\omega t' - kx')$  de période temporelle  $T$  (associée à la pulsation  $\omega = \frac{2\pi}{T}$  et la fréquence  $f = \frac{1}{T}$ ) et de longueur d'onde  $\lambda$  (associée à la pulsation spatiale  $k = \frac{2\pi}{\lambda}$ ). On note  $n \in \mathbb{Z}$ .

a) Exprimer  $\Delta\varphi$  le retard de phase entre  $s$  et  $s'$  pour  $t = t' = t_0$  .....

b) Pour  $t = t' = t_0$ , comment s'expriment les écarts de positions  $\Delta x_n$  lorsque  $s$  et  $s'$  ont la même excitation lumineuse ?

Ⓐ  $\Delta x_n = n\lambda$

Ⓑ  $\Delta x_n = \left(n + \frac{1}{2}\right)\lambda$

Ⓒ  $\Delta x_n = n\frac{\lambda}{2}$

.....

c) Exprimer  $\Delta\varphi$  le retard de phase entre  $s$  et  $s'$  pour  $x = x' = x_0$  .....

d) Pour  $x = x' = x_0$ , comment s'expriment les écarts d'instant  $\Delta t_n$  lorsque  $s$  et  $s'$  ont la même excitation lumineuse ?

Ⓐ  $\Delta t_n = nT$

Ⓑ  $\Delta t_n = \left(n + \frac{1}{2}\right)T$

Ⓒ  $\Delta t_n = n\frac{T}{2}$

.....

## Études d'éclairéments

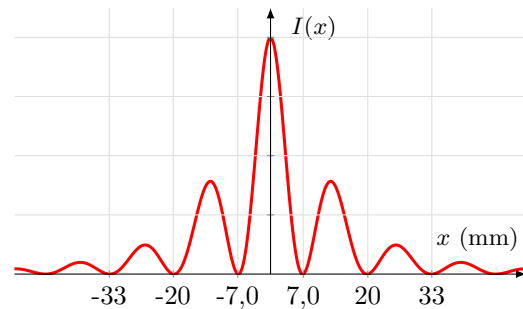
**Entraînement 11.7 — Fentes de Young.**



L'éclairement  $I(x)$  obtenu en un point M d'un écran à une distance  $D$  des fentes de Young est représenté sur la figure ci-contre. Il vérifie

$$I(x) = f(x) \left[ 1 + \cos\left(\frac{2\pi nax}{\lambda D}\right) \right]$$

où  $f(x)$  est une fonction dont nous ne tiendrons pas compte, où  $a$  est la distance entre les deux fentes et où  $n$  est l'indice du milieu et  $\lambda$  la longueur d'onde du signal.



a) Identifier, grâce à la formule fournie, l'interfrange  $i$  (c'est-à-dire la distance entre deux maxima d'éclairement consécutifs).

Ⓐ  $i = \frac{na}{\lambda D}$

Ⓑ  $i = \frac{2\pi na}{\lambda D}$

Ⓒ  $i = \frac{\lambda D}{na}$

Ⓓ  $i = \frac{\lambda D}{2\pi na}$

.....

b) Mesurer, à partir de la figure, l'interfrange  $i$  .....

c) En déduire  $a$ , sachant que  $n = 1,0$  que  $D = 1,0$  m et que  $\lambda = 630$  nm .....

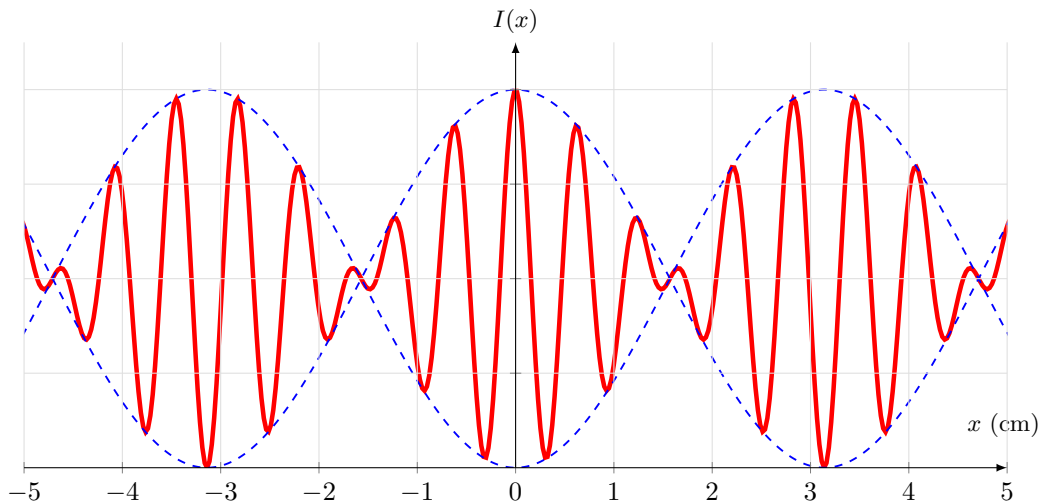
**Entraînement 11.8 — Doublet spectral.**



On éclaire des fentes de Young verticales espacées d'une distance  $a$ , avec un doublet spectral de longueurs d'onde  $\lambda_1$  et  $\lambda_2$  (on pose  $\Delta\lambda = \lambda_2 - \lambda_1$  et  $\lambda_{\text{moy}} = \frac{\lambda_2 + \lambda_1}{2}$ ). L'éclairement  $I(x)$ , obtenu en un point M d'un écran à une distance  $D$  des fentes, est représenté sur la figure ci-dessous. Il vérifie :

$$I(x) = I_{\text{moy}} \left[ 1 + C(x) \cos\left(\frac{2\pi n a x}{\lambda_{\text{moy}} D}\right) \right]$$

avec  $C(x) = \cos\left(\frac{\pi n a x \Delta\lambda}{\lambda_{\text{moy}}^2 D}\right)$ , qu'on appelle le terme de contraste.



a) Identifier, grâce à la formule fournie, la période  $X$  du terme de contraste.

Ⓐ  $X = \frac{\lambda_{\text{moy}}^2 D}{na\Delta\lambda}$

Ⓒ  $X = \frac{\lambda_{\text{moy}}^2 D}{2na\Delta\lambda}$

Ⓑ  $X = \frac{2\lambda_{\text{moy}}^2 D}{na\Delta\lambda}$

Ⓓ  $X = \frac{\lambda_{\text{moy}}^2 D}{2\pi na\Delta\lambda}$

.....

b) On rappelle que  $i = \frac{\lambda_{\text{moy}} D}{na}$ . Déterminer graphiquement l'interfrange  $i$ .

.....

c) En déduire  $\lambda_{\text{moy}}$ , sachant que  $n = 1,0$ , que  $D = 1,5$  m et  $a = 0,20$  mm.

.....

d) Déterminer graphiquement la période  $X$  du terme de contraste.

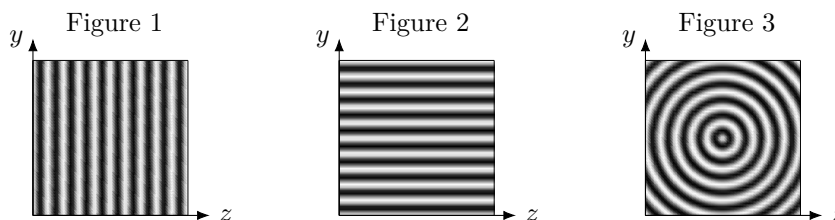
.....

e) En déduire l'écart spectral  $\Delta\lambda$  du doublet.

.....

# Interférométrie

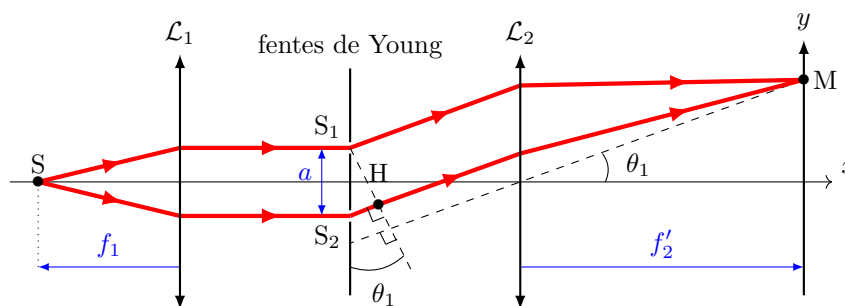
Dans cette section nous exploiterons les trois figures d'interférences suivantes.



## Entraînement 11.9 — Fentes « deux » Young.



On éclaire des fentes de Young en faisceau parallèle conformément au schéma ci-dessous. La différence de marche entre les deux rayons 1 et 2 est :  $\delta_{SM} = \mathcal{L}_{SM,2} - \mathcal{L}_{SM,1} = \mathcal{L}_{S_2H}$ .



On donne le développement limité suivant :  $\sin(x) = x - \frac{x^3}{6} + o(x^4)$  quand  $x \rightarrow 0$ .

a) En étudiant le triangle  $S_1S_2H$ , exprimer la longueur  $S_2H$  en fonction de  $\theta_1$  et  $a$ .

.....

b) En étudiant un autre triangle, exprimer l'angle  $\theta_1$  en fonction de  $y$  et  $f'_2$ .

.....

c) Exprimer  $\delta_{SM}$  en fonction de  $a$ ,  $y$  et  $f'_2$  lorsque  $\theta_1 \ll 1$  rad .....

d) Exprimer l'interfrange  $i$  de la figure d'interférence au niveau de l'écran, sachant que l'éclairement  $y$  est tel que  $I = 2I_0 \left[ 1 + \cos\left(\frac{2\pi}{\lambda} \delta_{SM}\right) \right] = 2I_0 \left[ 1 + \cos\left(2\pi \frac{y}{i}\right) \right]$ .

.....

e) Quelle est la figure d'interférence observée sur l'écran ?

(a) Figure 1

(b) Figure 2

(c) Figure 3

.....

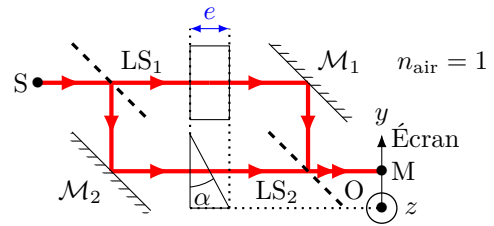


**Entraînement 11.10 — Interféromètre de Mach-Zehnder.**



On a positionné une lame d'épaisseur  $e$  et une lame prismatique d'épaisseur  $e' = e - \alpha y$ , toutes deux d'indice  $n$ , au niveau des bras d'un interféromètre de Mach-Zehnder (on ne tiendra pas compte de la réfraction en sortie de la lame prismatique).

Les lames séparatrices  $LS$  atténuent l'éclairement  $I_0$  des rayons d'un facteur 2. On rappelle que l'amplitude  $S_0$  d'un rayon est liée à son éclairement de telle manière que  $I_0 \propto S_0^2$ . La différence de marche entre les deux rayons 1 et 2 est :



$$\delta_{SM} = \mathcal{L}_{SM,1} - \mathcal{L}_{SM,2} = \mathcal{L}_{LS_1M_1} - \mathcal{L}_{M_2LS_2}.$$

a) De combien est atténuée l'amplitude d'un seul rayon après la deuxième séparatrice ?

- (a) 1/2                      (b) 1/4                      (c) 1/8

.....

b) Exprimer la différence de marche  $\delta_{SM}$  entre les deux bras en fonction de  $n$ ,  $\alpha$  et  $y$  ..

c) Exprimer l'interfrance  $i$  de la figure d'interférence au niveau de l'écran, sachant que l'éclairement  $y$  est

tel que  $I = I'[1 + \cos(\Delta\varphi)] = I' \left[ 1 + \cos\left(2\pi \frac{y}{i}\right) \right]$  .....

d) Quelle est la figure d'interférence observée sur l'écran ?

- (a) Figure 1                      (b) Figure 2                      (c) Figure 3

.....



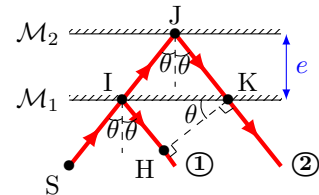
**Entraînement 11.11 — Interféromètre de Michelson en lame d'air.**



Un interféromètre de Michelson en configuration lame d'air repose sur l'association de deux miroirs  $\mathcal{M}_1$  et  $\mathcal{M}_2$  dont le schéma optique équivalent est présenté ci-contre. Les rayons se propagent dans l'air, assimilé à un milieu d'indice optique  $n$ .

Dans ce cas, la différence de marche entre les deux rayons 1 et 2 est :

$$\delta_{SM} = \mathcal{L}_{SM,2} - \mathcal{L}_{SM,1} = \mathcal{L}_{IJ} + \mathcal{L}_{JK} - \mathcal{L}_{IH}.$$



a) Exprimer les longueurs IJ et JK en fonction de  $\theta$  et  $e$  .....

b) Exprimer la longueur IK en fonction de  $\theta$  et  $e$  .....

c) Exprimer la longueur IH en fonction de  $\theta$  et IK .....

On rappelle l'identité trigonométrique :  $\cos^2 x + \sin^2 x = 1$ .

d) Exprimer alors la longueur IH en fonction de  $\cos(\theta)$  et  $e$  .....

e) En déduire l'expression de la différence de marche  $\delta_{SM}$  en fonction de  $\cos(\theta)$ ,  $n$  et  $e$  ..

f) Quelle est la figure d'interférence observée sur l'écran ?

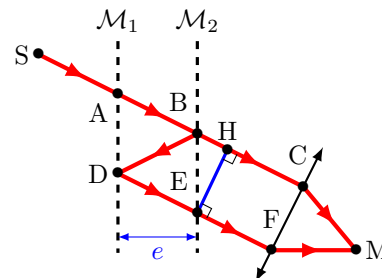
- (a) Figure 1                      (b) Figure 2                      (c) Figure 3

.....

**Entraînement 11.12 — Interféromètre de Fabry-Perot.**



Un interféromètre de Fabry-Perot est constitué de deux miroirs séparés d'une distance  $e$  par un milieu d'indice  $n$ . On s'intéresse aux deux rayons ci-dessous. En sortie de l'interféromètre, une lentille permet de les focaliser afin qu'ils interfèrent en un point M d'un écran. Au niveau de chaque miroir, l'amplitude d'un rayon est multipliée par un coefficient  $r$  qu'on approxime à  $1/\sqrt{2}$  ou un coefficient  $t = 1 + r$  selon qu'il soit réfléchi ou transmis. On considérera que l'air et le milieu entre les miroirs sont d'indice  $n = 1$ , et on notera  $i$  l'angle de réflexion tels que  $\widehat{ABD} = 2i$  et  $\widehat{BEH} = i$ .



On rappelle que l'éclairement est proportionnel au carré de l'amplitude.

a) Quel est le rapport des éclairements entre le rayons du bas et celui du haut ?

- (a) 1/2                      (b) 1/4                      (c) 1/8

.....

b) Exprimer la longueur BH en fonction de  $e$  et  $i$  .....

c) Exprimer la longueur BD en fonction de  $e$  et  $i$  .....

d) Exprimer la différence de marche  $\delta_{SM} = \mathcal{L}_{SABDFM} - \mathcal{L}_{SABHCM}$  .....

e) Quelles formes auront les franges d'interférences sachant que  $I(M) = 2I_0 \left[ 1 + \cos\left(\frac{\delta_{SM}}{2\pi}\right) \right]$  ?

- (a) bandes rectilignes      (b) carrés évidés      (c) anneaux

.....

**Autres entraînements**



**Entraînement 11.13 — Grandeurs caractéristiques d'un signal.**



La valeur d'un signal lumineux sinusoïdal en un point  $x$  (en m) à un instant  $t$  (en s) est donnée par :

$$s(x, t) = S_0 \cos\left(2\pi\left(\frac{t}{T} \pm \frac{x}{\lambda}\right) + \varphi\right) = S_0 \cos(2\pi(\nu t \pm \sigma x) + \varphi) = S_0 \cos(\omega t \pm kx + \varphi)$$

avec  $S_0$  son amplitude,  $T$  sa période,  $\lambda$  sa longueur d'onde,  $\nu$  sa fréquence,  $\sigma$  son nombre d'onde,  $\omega$  sa pulsation temporelle,  $k$  sa pulsation spatiale et  $c$  sa célérité.

Calculer la valeur des différentes grandeurs caractéristiques des signaux suivants

$$s_1 = S_0 \cos(60t - 28x) \quad ; \quad s_2 = S_0 \cos\left(\frac{t}{21} - \frac{t}{32} - \frac{x}{7} + \frac{x}{12}\right) \quad ; \quad s_3 = S_0 \cos\left(\frac{3\pi}{5}t + \frac{t}{23} - \frac{2\pi\nu_3}{5c}x + \frac{\pi}{2}\right).$$

- |                          |                      |  |                      |  |                      |
|--------------------------|----------------------|--|----------------------|--|----------------------|
| a) $T_1$ (s) .....       | <input type="text"/> | c) $\nu_2$ (s <sup>-1</sup> ) .....    | <input type="text"/> | e) $\omega_3$ (rad · s <sup>-1</sup> ) . | <input type="text"/> |
| b) $\lambda_1$ (m) ..... | <input type="text"/> | d) $\sigma_2$ (m <sup>-1</sup> ) ..... | <input type="text"/> | f) $k_3$ (rad · m <sup>-1</sup> )        | <input type="text"/> |

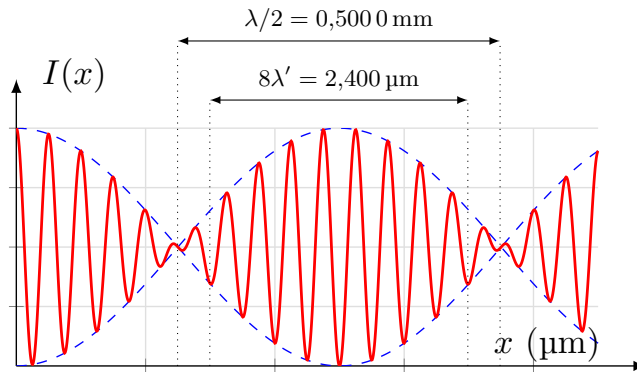
**Entraînement 11.14 — Brouillage.**



On éclaire un interféromètre de Michelson réglé en lame d'air avec une source ponctuelle émettant deux signaux lumineux de fréquences  $\nu_1$  et  $\nu_2$ , et de longueurs d'onde  $\lambda_1$  et  $\lambda_2$ . En sortie de l'interféromètre l'éclairement au niveau de l'axe optique est tel que

$$I(x) = I_0 \left[ 1 + \cos\left(2\pi \frac{\nu_1 - \nu_2}{c} x\right) \cos\left(2\pi \frac{\nu_1 + \nu_2}{c} x\right) \right]$$

avec  $x$  l'écart d'un des deux miroirs de l'interféromètre par rapport à l'autre, comme illustré par l'interférogramme ci-dessous (pour lequel l'échelle est non respectée).



a) Exprimer la période spatiale  $\lambda$  de  $\cos\left(2\pi \frac{\nu_1 - \nu_2}{c} x\right)$ .

.....

b) À l'aide de l'interférogramme donner la valeur de  $\Delta\nu = \nu_1 - \nu_2$ .

.....

c) Exprimer la période spatiale  $\lambda'$  de  $\cos\left(2\pi \frac{\nu_1 + \nu_2}{c} x\right)$ .

.....

d) À l'aide de l'interférogramme donner la valeur de  $\nu_0 = \frac{\nu_1 + \nu_2}{2}$ .


.....

e) Déterminer la valeur de  $\lambda_1$  en sommant de  $2\nu_0$  et  $\Delta\nu$ .

.....

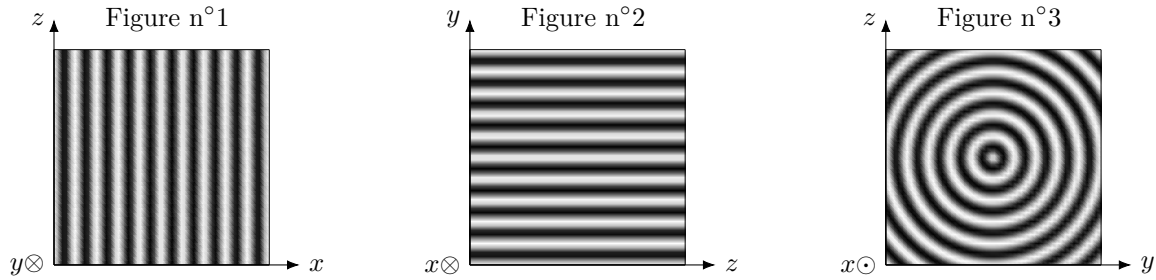
f) Déterminer la valeur de  $\lambda_2$  soustrayant  $\Delta\nu$  à  $2\nu_0$ .

.....

 **Entraînement 11.15 — La bonne formule.**



On considère les figures d'interférence suivantes, pour lesquelles le repère cartésien associé est donné.



a) À quelle quantité est proportionnelle l'intensité lumineuse de la figure d'interférence n°1 ?

- (a)  $1 + \cos\left(\frac{2\pi ax}{\lambda D}\right)$
- (b)  $1 + \cos\left(\frac{2\pi ay}{\lambda D}\right)$
- (c)  $1 + \cos\left(\frac{2\pi az}{\lambda D}\right)$

.....

b) À quelle quantité est proportionnelle l'intensité lumineuse de la figure d'interférence n°2 ?

- (a)  $1 + \cos\left(\frac{2\pi ax}{\lambda D}\right)$
- (b)  $1 + \cos\left(\frac{2\pi ay}{\lambda D}\right)$
- (c)  $1 + \cos\left(\frac{2\pi az}{\lambda D}\right)$

.....

c) À quelle quantité est proportionnelle l'intensité lumineuse de la figure d'interférence n°3 ?

- (a)  $1 + \cos\left(\frac{4\pi ne}{\lambda} \frac{y_0}{\sqrt{x^2 + y^2 + z_0^2}}\right)$
- (b)  $1 + \cos\left(\frac{4\pi ne}{\lambda} \frac{z_0}{\sqrt{x^2 + y^2 + z_0^2}}\right)$
- (c)  $1 + \cos\left(\frac{4\pi ne}{\lambda} \frac{x_0}{\sqrt{x_0^2 + y^2 + z^2}}\right)$
- (d)  $1 + \cos\left(\frac{4\pi ne}{\lambda} \frac{y + z}{\sqrt{x_0^2 + y_0^2 + z_0^2}}\right)$

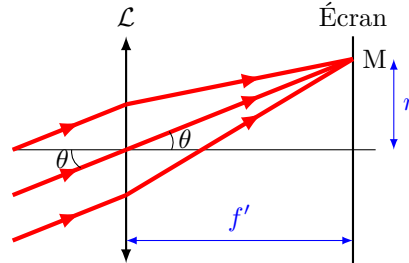

.....

**Entraînement 11.16 — Anneaux du Michelson en lame d'air.**



Les franges d'interférences d'un interféromètre de Michelson en configuration lame d'air sont des anneaux sombres et brillants (voir figure ci-dessous).

On peut schématiser les rayons lumineux en sortie de l'interféromètre avec le schéma optique ci-dessous où  $r$  est le rayon d'un anneau brillant, où  $\theta$  est l'angle d'incidence des rayons lumineux et où  $f'$  est la distance focale de la lentille.



a) Exprimer le rayon d'un anneau  $r$  en fonction de  $\theta$  et de  $f'$  .....

b) On rappelle que l'ordre d'interférences pour le Michelson en configuration lame d'air est :  $p = \frac{2ne \cos(\theta)}{\lambda}$  avec  $n = 1,00$  l'indice optique de l'air ;  $e = 500 \mu\text{m}$  et  $\lambda = 643 \text{ nm}$ .

Calculer l'ordre d'interférence  $p_0$  dans le cas où l'angle d'incidence est nulle .....

c) Si on fait varier  $\theta$  entre 0 et  $\frac{\pi}{2}$ ,  $\cos(\theta)$  :

(a) augmente                      (b) diminue                      (c) reste constant

.....

d) On rappelle que l'ordre d'interférences d'une frange brillante est un nombre entier. Quel est l'ordre d'interférences  $p_1$  du premier anneau brillant visible sur l'écran (sachant que  $\theta = 0$  correspond au centre de l'écran) ?

(a) 1555                      (b) 1555,5                      (c) 1556

.....

e) En déduire le rayon  $r_1$  du premier anneau brillant en mm sachant que  $f' = 50,0 \text{ cm}$ .

.....

f) Quel est l'ordre d'interférences  $p_2$  du deuxième anneau brillant visible sur l'écran ?

(a) 1554                      (b) 1555                      (c) 1556                      (d) 1557

.....

g) En déduire le rayon  $r_2$  du deuxième anneau brillant en mm .....

h) Calculer le rayon  $r_{10}$  du dixième anneau brillant en cm .....

Réponses mélangées

$$\begin{array}{cccccccc}
 2e \frac{1 - \cos^2(\theta)}{\cos(\theta)} & 2,6 \times 10^{-3} \text{ s}^{-1} & 1 + \cos(\pm\varphi_1 \mp \varphi_2) & \frac{S_2^2}{2} & 6,00 \times 10^{12} \text{ Hz} & & & \\
 \frac{2\pi}{\omega_2} & \arctan\left(\frac{y}{f_2'}\right) & \frac{c}{\nu_1 - \nu_2} & -\sin(\omega t - kx) & \textcircled{c} & \textcircled{a} & \frac{nay}{f_2'} & \\
 2e \tan(\theta) & 600,2 \text{ nm} & 2ne \cos(i) & 1,3 \times 10^{-9} \text{ rad} \cdot \text{m}^{-1} & \frac{\lambda_0}{(n-1)\alpha} & \frac{A^2 + B^2}{2} & & \\
 \textcircled{a} & \sin^2 a = \frac{1 - \cos(2a)}{2} & A^2 & 9,5 \times 10^{-3} \text{ m}^{-1} & k(x' - x) & \frac{e}{\cos(\theta)} & & \\
 \cos^2 a = \frac{1 + \cos(2a)}{2} & \textcircled{a} & \textcircled{b} & f' \tan(\theta) & 2ne \cos(\theta) & \frac{e}{\cos(i)} & 19,7 \text{ mm} & \\
 8,22 \text{ mm} & \frac{A^2}{8} \left( \frac{5}{4} + \cos(\varphi_0) \right) & \frac{\pi}{\omega_1} & \textcircled{b} & \frac{f_2' \lambda}{na} & 599,8 \text{ nm} & 6,00 \times 10^{11} \text{ Hz} & \\
 \textcircled{b} & \textcircled{a} & 1,0 \times 10^{-1} \text{ s} & \frac{S_1^2}{2} & \textcircled{a} & 0,57 \text{ cm} & 2,2 \times 10^{-1} \text{ m} & \textcircled{a} \frac{\pi}{\omega_2} \\
 \textcircled{b} & \textcircled{c} & IK \sin(\theta) & \frac{2\pi}{\omega_1} & \cos(\omega t - kx) & \omega(t - t') & (n-1)\alpha y & 48 \mu\text{m} \\
 \textcircled{c} & 5,47 \text{ cm} & 6,4 \text{ cm} & 1,3 \text{ cm} & \sin(a) \cos(a) = \frac{\sin(2a)}{2} & 0,76 \mu\text{m} & 0 & \\
 \frac{c}{\nu_1 + \nu_2} & \frac{2e \sin^2 i}{\cos(i)} & \textcircled{c} & a \sin(\theta_1) & \cos(a) \cos(b) = \frac{\cos(a-b) + \cos(a+b)}{2} & & & \\
 0,14 \mu\text{m} & \textcircled{c} & 1555,2 & \textcircled{b} & 0 & 1,9 \text{ rad} \cdot \text{s}^{-1} & \textcircled{b} & \textcircled{c}
 \end{array}$$

► Réponses et corrigés page 280

## Outils mathématiques pour la diffusion

### Prérequis

Expression des surfaces usuelles (disque, sphère,...)

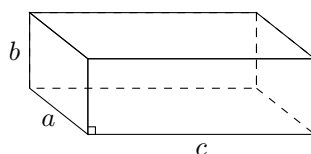
Expression des volumes usuels (parallélépipède, cylindre, sphère,...)

### Pour bien commencer

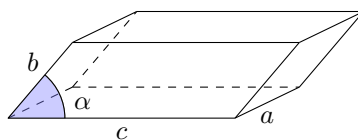
#### Entraînement 12.1 — Calculs de volumes.



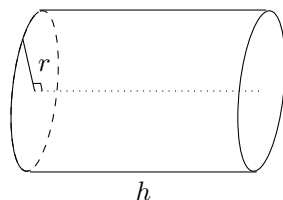
Dans chacun des cas suivants, exprimer le volume du solide en fonction des données.



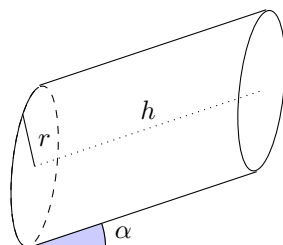
Volume a)



Volume b)



Volume c)




Volume d)

a)

b)

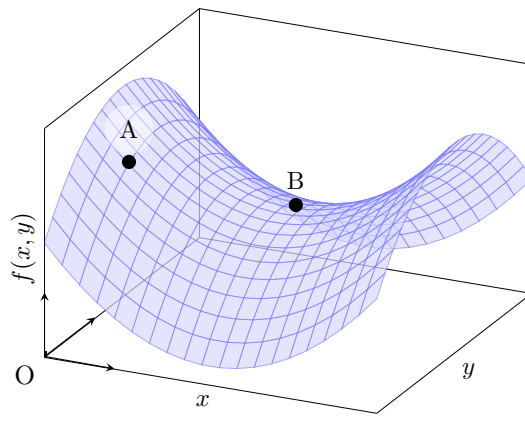
c)

d)

 **Entraînement 12.2 — Signe des dérivées partielles.**



On considère la fonction de deux variables  $f(x, y)$  représentée ci-contre. On étudie le signe des dérivées partielles au niveau des points A et B.



a) Quel est le signe de la dérivée partielle d'ordre 1 de  $f$  par rapport à  $x$  au point A, notée  $\frac{\partial f}{\partial x}(A)$  ?

.....

b) Quel est le signe de la dérivée partielle d'ordre 1 de  $f$  par rapport à  $y$  au point A, notée  $\frac{\partial f}{\partial y}(A)$  ?

.....

On s'intéresse maintenant au comportement de  $f$  au voisinage du point B. Pour chacune des questions suivantes, choisir la bonne réponse.

c) (a)  $\frac{\partial f}{\partial x}(B) > 0$

(c)  $\frac{\partial f}{\partial x}(B) < 0$

(b)  $\frac{\partial f}{\partial x}(B) = 0$

.....

e) (a)  $\frac{\partial^2 f}{\partial x^2}(B) > 0$

(c)  $\frac{\partial^2 f}{\partial x^2}(B) < 0$

(b)  $\frac{\partial^2 f}{\partial x^2}(B) = 0$

.....

d) (a)  $\frac{\partial f}{\partial y}(B) > 0$

(c)  $\frac{\partial f}{\partial y}(B) < 0$

(b)  $\frac{\partial f}{\partial y}(B) = 0$


.....

f) (a)  $\frac{\partial^2 f}{\partial y^2}(B) > 0$

(c)  $\frac{\partial^2 f}{\partial y^2}(B) < 0$

(b)  $\frac{\partial^2 f}{\partial y^2}(B) = 0$

.....

 **Entraînement 12.3 — Volume d'un cône.**



Le volume d'un cône de hauteur  $h$  et dont le rayon de la base est  $r$  vaut  $V(r, h) = \frac{\pi r^2 h}{3}$ .

a) Quelle est l'expression de  $\frac{\partial V}{\partial r}(r, h)$  ?

b) Quelle est l'expression de  $\frac{\partial V}{\partial h}(r, h)$  ?

On souhaite comparer l'influence d'une même variation  $d\ell$  de  $h$  ou de  $r$  sur la valeur du volume  $V$ .

c) À quelle condition sur  $h$  et  $r$  a-t-on  $\frac{\partial V}{\partial h}(r, h) > \frac{\partial V}{\partial r}(r, h)$  ?

(a)  $h/3 < r$


(b)  $h < r$

(c)  $2h < r$

(d)  $3h < r$

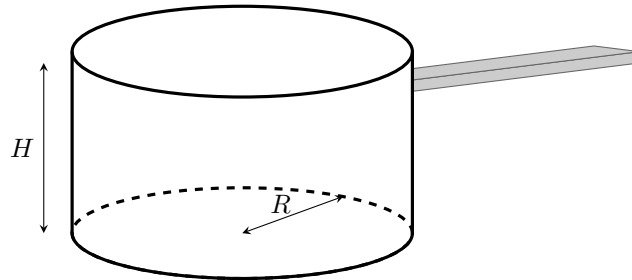
.....



 **Entraînement 12.4 — Fabrication d'une casserole.**



Les questions de cet entraînement ne concernent pas le manche de la casserole et ne concernent donc que la partie principale de la casserole. L'épaisseur de la tôle utilisée pourra être négligée.



Un industriel souhaite fabriquer une casserole à partir de plaques de métal d'épaisseur constante.

a) Pour cela, quelle surface de tôle  $S(R, H)$  doit-il utiliser ?

- (a)  $S(R, H) = 2\pi R^2 + \pi RH$
- (b)  $S(R, H) = \pi H^2 + 2\pi RH$
- (c)  $S(R, H) = \pi R^2 + 2\pi RH$
- (d)  $S(R, H) = 2\pi H^2 + \pi RH$

.....

b) Que vaut le volume utile  $V(R, H)$  ?

- (a)  $V(R, H) = 2\pi R^2 H$
- (b)  $V(R, H) = \pi R^2 H$

.....

c) Exprimer  $S(R, V)$  la surface de tôle que l'on doit utiliser pour fabriquer la casserole en fonction du rayon  $R$  et du volume  $V$ .

.....

Le fabricant souhaite fabriquer une casserole de volume  $V = V_0$  donné, tout en minimisant la quantité de tôle utilisée.

d) Il cherche donc une géométrie qui vérifie :

- (a)  $\frac{dS}{dR}(R, V_0) = 0$
- (b)  $\frac{\partial S}{\partial R}(R, V_0) = 0$

.....

e) Déterminer l'expression de  $V_0$  en fonction de  $R$ , puis celle de  $H$  en fonction de  $R$  permettant de minimiser la surface de tôle utilisée.

- (a)  $V_0 = \pi R^3$
- (b)  $V_0 = 2\pi R^3$
- (c)  $H = R$
- (d)  $H = 2R$

.....

**Entraînement 12.5 — Quelques équations différentielles (I).**

Résoudre les équations différentielles suivantes en tenant compte des conditions aux limites.

Les quantités  $n_0$ ,  $n_1$ ,  $j_0$  et  $p$  sont des constantes.

a)  $\frac{\partial^2 n}{\partial x^2}(x, t) = 0$  avec  $\begin{cases} n(0, t) = n_0 \\ \frac{\partial n}{\partial x}(0, t) = j_0 \end{cases}$  .....

b)  $\frac{\partial^2 n}{\partial x^2}(x, t) = 0$  avec  $\begin{cases} n(0, t) = n_0 \\ n(L, t) = n_1 \end{cases}$  .....

c)  $\frac{\partial^2 n}{\partial x^2}(x, t) = p$  avec  $\begin{cases} n(0, t) = n_0 \\ n(L, t) = n_0 \end{cases}$  .....

**Entraînement 12.6 — Quelques équations différentielles (II).**

Résoudre les équations différentielles suivantes en tenant compte des conditions initiales ( $\tau$ ,  $n_0$ ,  $n_c$ ,  $p$  et  $L$  sont des constantes) :

a)  $\frac{\partial n}{\partial t}(x, t) = \frac{n}{\tau}$  avec  $n(x, 0) = n_0$  .....

b)  $\frac{\partial n}{\partial t}(x, t) = -\frac{n^2}{n_c \tau}$  avec  $n(x, 0) = n_0$  .....

c)  $\frac{\partial n}{\partial t}(x, t) = -\frac{n}{\tau} + p$  avec  $n(x, 0) = n_0 \left(1 - \frac{x}{L}\right)$  .....

**Réponses mélangées**

(b) positif    (a)    (b)    (c)     $\pi r^2 h \cos(\alpha)$     (b)    (c)  
 $n_0 \left(1 - \frac{x}{L}\right) \exp\left(-\frac{t}{\tau}\right) + p\tau \left(1 - \exp\left(-\frac{t}{\tau}\right)\right)$      $n(x, t) = n_0 \exp\left(\frac{t}{\tau}\right)$     (a) et (c)     $\pi r^2 h$   
 $n(x, t) = \frac{n_1 - n_0}{L} x + n_0$     abc     $\frac{p}{2} x(x - L) + n_0$      $n(x, t) = j_0 x + n_0$      $\frac{2\pi r h}{3}$   
 (c)     $n(t) = \frac{n_0}{1 + \frac{n_0 t}{n_c \tau}}$     négatif    abc sin( $\alpha$ )     $\pi R^2 + 2\frac{V}{R}$     (b)     $\frac{\pi r^2}{3}$

► Réponses et corrigés page 289

## Diffusion thermique

### Prérequis

Premier principe et deuxième principe de la thermodynamique  
Loi de Fourier :  $\vec{j} = -\lambda \overrightarrow{\text{grad}} T$

Dans toute la fiche, les caractéristiques du matériau homogène et isotrope étudié seront notées :

- $D$ , le coefficient de diffusivité thermique ( $\text{m}^2 \cdot \text{s}^{-1}$ ),
- $\mu$ , la masse volumique ( $\text{kg} \cdot \text{m}^{-3}$ ),
- $c$ , la capacité thermique massique du matériau ( $\text{J} \cdot \text{K}^{-1} \cdot \text{kg}^{-1}$ ),
- $\lambda$ , la conductivité thermique du matériau ( $\text{W} \cdot \text{m}^{-1} \cdot \text{K}^{-1}$ ).

Pour évaluer les ordres de grandeur caractéristiques du phénomène, on notera :

- $\tau$ , la durée caractéristique (s),
- $L$ , la longueur caractéristique (m).

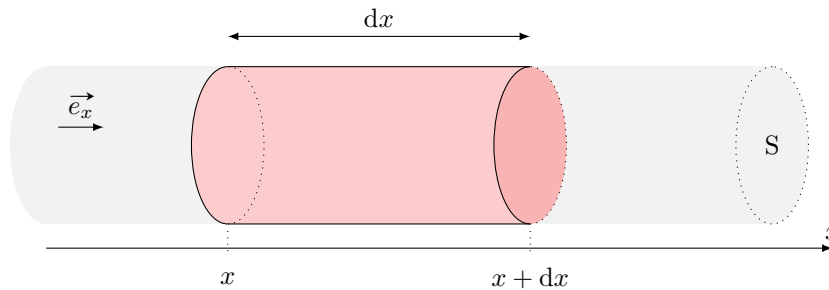
## Étude de flux thermique



### Entraînement 13.1 — Bilan thermique en géométrie cartésienne.



On se place dans le cas d'une diffusion unidimensionnelle telle que les isothermes sont des plans  $x = \text{cste}$ .



On note  $S$  la section du conducteur et  $\ell$  le périmètre de la section.

a) Le vecteur densité volumique de flux thermique  $\vec{j}_Q = -\lambda \overrightarrow{\text{grad}}(T)$  a pour unité possible :

- (a)  $\text{W} \cdot \text{m}^{-1} \cdot \text{K}^{-1}$      
  (b)  $\text{J} \cdot \text{s} \cdot \text{m}^{-2}$      
  (c)  $\text{W} \cdot \text{m}^{-3}$      
  (d)  $\text{W} \cdot \text{m}^{-2}$

.....

b) Dans le cadre de cet entraînement, le vecteur densité de flux thermique  $\vec{j}_Q = j_Q \vec{e}_x$  peut s'écrire :

- (a)  $\vec{j}_Q = -\lambda \frac{\partial T}{\partial t} \vec{e}_x$      
  (b)  $\vec{j}_Q = -\lambda \frac{\partial T}{\partial x} \vec{e}_x$

.....

On étudie un élément de volume du conducteur thermique de section  $S$ , et compris entre  $x$  et  $x + dx$ .

c) L'énergie interne  $U(t)$  de la tranche considérée à l'instant  $t$  est :

- (a)  $cS dxT(x, t) + C$
- (c)  $\mu cS dxT(x, t) + C$
- (b)  $cS dtT(x, t) + C$
- (d)  $\mu cS dtT(x, t) + C$

où  $C$  est une constante .....

d) En déduire la variation d'énergie interne  $dU$  entre  $t$  et  $t + dt$ .

.....

On souhaite maintenant évaluer les transferts thermiques entre la tranche et l'extérieur.

e) En  $x$ , le transfert thermique algébriquement reçu par la tranche entre  $t$  et  $t + dt$  s'écrit :

- (a)  $-j_Q(x, t)S dt$
- (b)  $j_Q(x, t)S dt$
- (c) 0

.....

f) En  $x + dx$ , le transfert thermique algébriquement reçu par la tranche entre  $t$  et  $t + dt$  s'écrit :

- (a)  $-j_Q(x + dx, t)S dt$
- (b)  $j_Q(x + dx, t)S dt$
- (c) 0

.....

g) Au niveau de la paroi latérale, le transfert thermique algébriquement reçu par la tranche entre  $t$  et  $t + dt$  s'écrit en notant  $\ell$  le périmètre de la section :

- (a)  $j_Q(x, t)\ell dx dt$
- (c) 0
- (e)  $-j_Q(x + dx, t)\ell dx dt$
- (b)  $-j_Q(x, t)\ell dx dt$
- (d)  $j_Q(x + dx, t)\ell dx dt$

.....

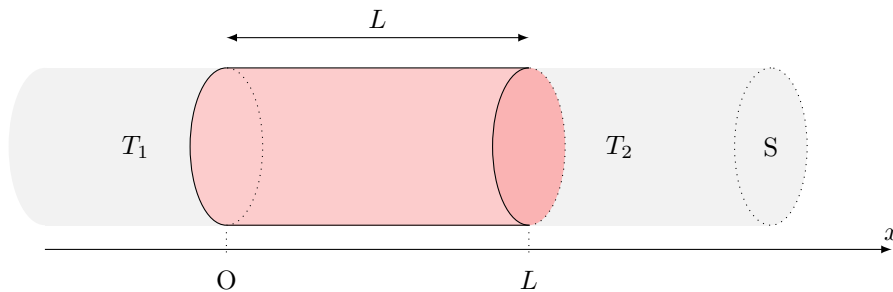
h) En déduire le transfert thermique total  $\delta Q$  algébriquement reçu par la tranche.

.....

**Entraînement 13.2 — Équation de la chaleur.**



On étudie une barre homogène de section  $S$ , de longueur  $L$ , dont la surface latérale est calorifugée et dont les extrémités gauche et droite sont mises en contact thermique parfait avec des thermostats de températures respectives  $T_1$  et  $T_2$ . On se place en coordonnées cartésiennes.



Initialement, l'ensemble de la barre est à la température  $T_0$ .

a) Le champ de température est de la forme :

- a)  $T = T(x, t)$                        c)  $T = T(x)$                        e)  $T = T(y, t)$   
 b)  $T = T(x, y, t)$                        d)  $T = T(x, y)$                        f)  $T = T(x, y, z, t)$

.....

b) Le vecteur de densité volumique de courant thermique  $\vec{j}_Q$  est de la forme :

- a)  $\vec{j}_Q = j_Q(x, t)\vec{e}_x$                        d)  $\vec{j}_Q = j_Q(x)\vec{e}_x$   
 b)  $\vec{j}_Q = j_Q(x, y, t)\vec{e}_x$                        e)  $\vec{j}_Q = j_Q(y, t)\vec{e}_y$   
 c)  $\vec{j}_Q = j_{Qx}(x, y)\vec{e}_x + j_{Qy}(x, y)\vec{e}_y$                        f)  $\vec{j}_Q = j_Q(x, y, z, t)\vec{e}_x$

.....

c) L'équation de la chaleur  $\frac{\partial T}{\partial t} = D\Delta T$  s'écrit ici :

- a)  $\frac{\partial T}{\partial t} = D\frac{\partial^2 T}{\partial y^2}$                        c)  $\frac{\partial T}{\partial t} = D\left[\frac{\partial^2 T}{\partial x^2} + \frac{\partial^2 T}{\partial y^2}\right]$   
 b)  $\frac{\partial T}{\partial t} = D\frac{\partial^2 T}{\partial x^2}$                        d)  $0 = D\frac{d^2 T}{dx^2}$

.....

## La diffusion : un processus lent

### **Entraînement 13.3 — Étude qualitative.**



L'équation de diffusion caractérise l'évolution temporelle du profil de température dans un matériau.

En raisonnant en ordre de grandeur, cette équation fait le lien entre un temps caractéristique  $\tau$  et une longueur caractéristique de diffusion  $L$  :  $L = \sqrt{D\tau}$  où  $D = \frac{\lambda}{\mu c}$  est le coefficient de diffusion thermique.

Par combien est multipliée la longueur caractéristique de diffusion lorsque l'on double :

a) la conductivité du matériau ? .....

b) la capacité thermique du matériau ? .....

Par combien est multiplié le temps caractéristique de diffusion si on double :

c) la longueur du matériau  $L$  ? .....

d) la masse volumique  $\mu$  ? .....



### Entraînement 13.4 — Nombre de Fourier : transformation adiabatique ?



Le nombre de Fourier  $Fo = \frac{D\Delta t}{L^2}$  est un nombre sans dimension utilisé couramment en transfert thermique, avec  $D = \frac{\lambda}{\mu c}$  ( $m^2 \cdot s^{-1}$ ) le coefficient de diffusion thermique,  $\Delta t$  (s) la durée étudiée et  $L$  (m) la longueur caractéristique d'étude.

Il se définit également comme le rapport entre la durée  $\Delta t$  d'un processus sur un temps caractéristique de diffusion, c'est-à-dire au temps nécessaire au transfert thermique pour diffuser sur une distance  $L$ .

a) Un processus peut être considéré comme adiabatique dans quel cas ?

(a)  $Fo \ll 1$

(b)  $Fo \gg 1$

.....

On considère la compression du mélange {air + carburant} dans un cylindre d'un moteur 4 temps en acier. Avec un régime moteur d'environ  $2000 \text{ tr} \cdot \text{min}^{-1}$ , la durée de la compression est de  $1,5 \times 10^{-2} \text{ s}$ . On considère que l'épaisseur du cylindre est de 5 mm.

On donne  $\lambda_{\text{acier}} = 13 \text{ W} \cdot \text{m}^{-1} \cdot \text{K}^{-1}$ ,  $\mu_{\text{acier}} = 7800 \text{ kg} \cdot \text{m}^{-3}$  et  $c_{\text{acier}} = 480 \text{ J} \cdot \text{K}^{-1} \cdot \text{kg}^{-1}$ .

b) Exploitant les données ci-dessous, calculer la valeur du nombre de Fourier .....

c) L'hypothèse d'une compression adiabatique habituellement utilisée est-elle valide ? ..

## En régime permanent : utilisation des résistances thermiques

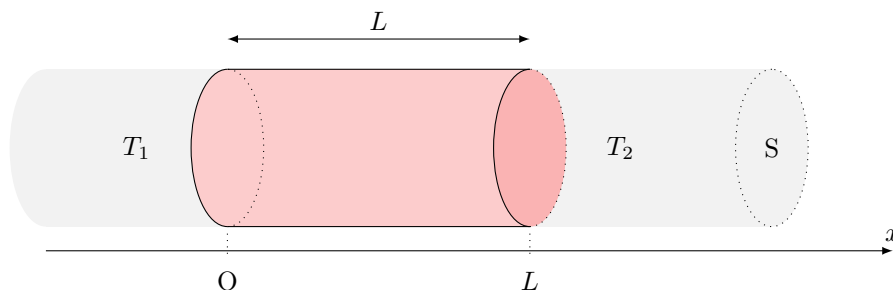


### Entraînement 13.5 — Champ de température en géométrie cartésienne.



On étudie une barre homogène de section  $S$ , de longueur  $L$ , dont la surface latérale est calorifugée et dont les extrémités gauche et droite sont mises en contact thermique parfait avec des thermostats de températures respectives  $T_1$  et  $T_2$ .

On se place en coordonnées cartésiennes et on étudie le régime permanent.



a) Le champ de température vérifie  $\frac{d^2T}{dx^2} = 0$ . Exprimer  $T(x)$ .

.....

b) Quelle(s) hypothèse(s) de l'énoncé assure(nt) que le flux thermique  $\Phi(x) = \iint_S \vec{j}_Q \cdot \vec{dS}$  soit uniforme, c'est-à-dire ne dépendant pas de  $x$  ?


- (a) barre homogène  
 (b) régime permanent  
 (c) parois latérales calorifugées

.....

c) En déduire le flux thermique  $\Phi(x)$  traversant une section  $S$  de barre située à l'abscisse  $x$ .

- (a)  $\frac{\lambda S}{L}(T_1 - T_2)$   
 (b)  $\frac{\lambda S}{L}(T_2 - T_1)$   
 (c)  $\frac{\lambda L}{S}(T_1 - T_2)$   
 (d)  $\frac{\lambda L}{S}(T_2 - T_1)$

.....

 **Entraînement 13.6 — Analogie thermique – électrique.**



Une inhomogénéité spatiale de température  $T_1 - T_2$  se traduit par un transport d'énergie caractérisé par le flux  $\Phi$ . Ceci est analogue au transport de charges caractérisé par une intensité  $I$  causé par une inhomogénéité de potentiel électrique  $V_1 - V_2$ . Ainsi un conducteur électrique élémentaire de section  $S$ , de longueur  $\ell$  et de conductivité électrique  $\gamma$  est caractérisé par une résistance  $R = \frac{\ell}{\gamma S}$  permettant grâce à la loi d'Ohm  $V_1 - V_2 = RI$  de déterminer  $I$  à partir de  $V_1 - V_2$ .

Le flux thermique  $\Phi$  est proportionnel à  $T_1 - T_2$  en régime permanent. En utilisant l'analogie électrique, on peut définir une « résistance thermique ».

a) La contrainte imposée au conducteur thermique  $T_1 - T_2$  est l'analogie de celle imposée à un conducteur électrique :

- (a)  $\gamma$                       (b)  $V_1 - V_2$                       (c)  $I$                       (d)  $R$

.....

b) Quelle grandeur, parmi la liste suivante, est l'analogie électrique du flux thermique  $\Phi$  ?

- (a)  $\gamma$                       (b)  $V_1 - V_2$                       (c)  $I$                       (d)  $R$

.....

c) Pour caractériser le conducteur thermique on introduit une « résistance thermique » analogue de :

- (a)  $\gamma$                       (b)  $V_1 - V_2$                       (c)  $I$                       (d)  $R$

.....

d) Quelle grandeur, parmi la liste suivante, est l'analogie électrique de  $\lambda$  ?

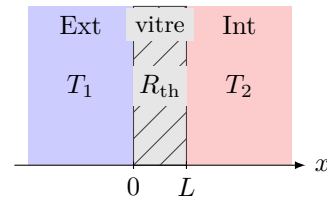
- (a)  $\gamma$                       (b)  $V_1 - V_2$                       (c)  $I$                       (d)  $R$

.....

**Entraînement 13.7 — Conducto-convectif en une dimension (I).**



Soit une vitre (surface  $S = 1 \text{ m}^2$ , épaisseur  $L = 5 \text{ mm}$ ) fabriquée en verre, de conductivité thermique  $\lambda = 1 \text{ W} \cdot \text{K}^{-1} \cdot \text{m}^{-1}$ . Celle-ci sépare l'extérieur (à la température  $T_1 = 9^\circ\text{C}$ ) de l'intérieur (à la température  $T_2 = 19^\circ\text{C}$ ) d'une maison.



La situation est étudiée en régime permanent. La conduction thermique envisagée est telle que la résistance thermique de la vitre est  $R_{\text{th},v} = \frac{L}{\lambda S}$ .

a) La résistance thermique de la vitre vaut :

- a)  $5 \times 10^{-3} \text{ K} \cdot \text{W}^{-1}$     
  b)  $5 \times 10^{-3} \text{ W} \cdot \text{K}^{-1}$     
  c)  $2 \times 10^3 \text{ K} \cdot \text{W}^{-1}$     
  d)  $2 \times 10^3 \text{ W} \cdot \text{K}^{-1}$

.....

On rappelle que le flux thermique est relié à l'inhomogénéité de température par la relation  $\Delta T = R_{\text{th}}\Phi$ .

b) Le flux thermique  $\Phi$  à travers la vitre vaut :

- a)  $5 \times 10^{-3} \text{ W}$     
  b)  $5 \times 10^{-2} \text{ W}$     
  c)  $2 \times 10^3 \text{ W}$     
  d)  $2 \times 10^2 \text{ W}$

.....

c) En réalité la température n'est pas totalement uniforme dans l'air à proximité des surfaces de contact avec la vitre. Les transferts thermiques à l'interface avec les thermostats sont régis alors par la relation de Newton :  $\Phi = h_1 S(T_1 - T(0))$  et  $\Phi = h_2 S(T(L) - T_2)$  où  $h_1$  et  $h_2$  sont les coefficients de transfert conducto-convectifs dans les deux couches limites.

Les résistances thermiques  $R_{\text{th},i}$  correspondantes sont de la forme :

- a)  $R_{\text{th},i} = \frac{h_i}{S}$     
  b)  $R_{\text{th},i} = \frac{S}{h_i}$     
  c)  $R_{\text{th},i} =$     
  d)  $R_{\text{th},i} = h_i S$

.....

d) Les résistances  $R_{\text{th},v}$ ,  $R_{\text{th},1}$  et  $R_{\text{th},2}$  sont-elles en série ou en parallèle?

e) Évaluer le flux thermique  $\Phi'$  à travers la vitre en tenant compte des pertes conducto-convectives si  $h_1 = h_2 = 5 \times 10^2 \text{ W} \cdot \text{K}^{-1} \cdot \text{m}^{-2}$  .....

**Entraînement 13.8 — Conducto-convectif en une dimension (II).**

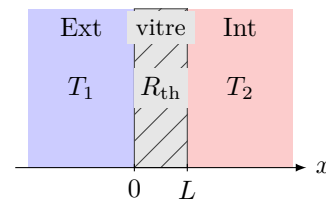


On considère une vitre de section  $S$  et de résistance thermique  $R_{\text{th}}$  séparant l'extérieur de température  $T_1$  et l'intérieur d'une maison (température  $T_2$ ).

Les échanges thermiques aux interfaces en  $x = 0$  et  $x = L$  sont régis par la relation de Newton. Avec une convection plus importante à l'extérieur due au vent, on peut considérer que  $T(0) = T_1$ .

Les températures et le flux thermique vérifient alors le système :

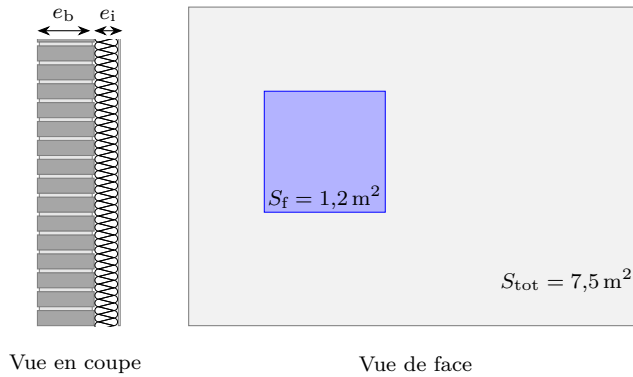
$$\begin{cases} \phi = h_2 S(T(L) - T_2) \\ T_1 - T(L) = R_{\text{th}}\phi \end{cases}$$



Quelle est l'expression de  $T(L)$ ? .....



Entraînement 13.9 — Isolation thermique d'un mur.



Un pan de mur de surface totale  $S_{\text{tot}} = 7,5 \text{ m}^2$  est composé d'un mur de brique d'épaisseur  $e_b = 20 \text{ cm}$ , de conductivité thermique  $\lambda_b = 0,70 \text{ W} \cdot \text{m}^{-1} \cdot \text{K}^{-1}$  et d'un isolant en fibre de bois d'épaisseur  $e_i = 12 \text{ cm}$ , de conductivité thermique  $\lambda_i = 0,036 \text{ W} \cdot \text{m}^{-1} \cdot \text{K}^{-1}$ .

Une fenêtre de surface  $S_f = 1,2 \text{ m}^2$  de résistance thermique  $R_f = 0,70 \text{ K} \cdot \text{W}^{-1}$  est percée dans le mur.

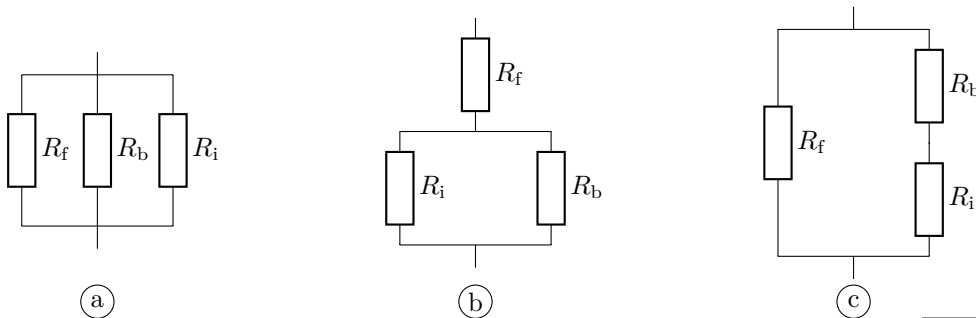
La température intérieure est  $T_{\text{int}} = 20 \text{ }^\circ\text{C}$ , la température extérieure vaut  $T_{\text{ext}} = 5 \text{ }^\circ\text{C}$ .

La résistance thermique d'une surface  $S$  plane d'épaisseur  $e$  est  $R_{\text{th, plan}} = \frac{e}{\lambda S}$ .

Quelle est la valeur de la résistance thermique :

- a)  $R_b$  de la brique ? .....       b)  $R_i$  de l'isolant ? .....

c) Parmi les montages suivants, lequel correspond à la situation étudiée ?



.....

d) Quelle est la résistance thermique globale  $R_{\text{th,tot}}$  du mur ? .....

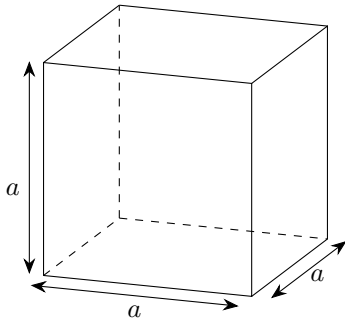
e) En considérant que les échanges thermiques ne peuvent se faire qu'à travers cette paroi, quelle puissance thermique  $\phi$  doit développer le système de chauffage pour maintenir cet écart de température ?

- (a) 47,5 W      (b) 475 W      (c) 4,75 kW
- .....

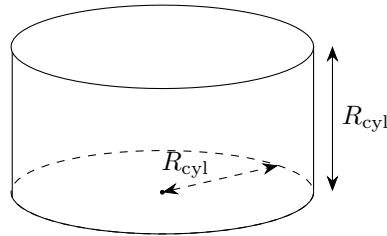
**Entraînement 13.10 — Igloo de survie.**



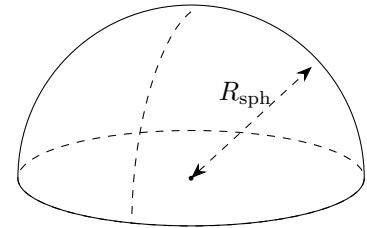
Un alpiniste, surpris par le mauvais temps, décide de construire un igloo de survie d'un volume intérieur de  $1 \text{ m}^3$  avec des blocs de neige d'épaisseur  $e = 10 \text{ cm}$  et de conductivité thermique  $\lambda_{\text{neige}} = 0,2 \text{ W} \cdot \text{m}^{-1} \cdot \text{K}^{-1}$ . Il hésite entre 3 formes d'igloos : un igloo cubique, cylindrique dont la hauteur est égale à son rayon et un igloo hémisphérique.



Igloo cubique



Igloo cylindrique



Igloo hémisphérique

Pour les calculs numériques, on prendra :  $\frac{1}{\sqrt[3]{\pi}} \approx 0,7$  et  $\sqrt[3]{\frac{3}{2\pi}} \approx 0,8$ .

Pour que le volume intérieur des igloos soit de  $1 \text{ m}^3$ ,

a) quel doit être le rayon de l'igloo cylindrique ?

b) quel doit être le rayon de l'igloo hémisphérique ?

.....

.....

c) On souhaite déterminer la résistance thermique de chaque igloo. Associer à chaque igloo l'expression de sa résistance thermique.

$$I_{\text{(a)}} = \int_{0,7}^{0,8} \frac{dr}{3\pi\lambda r^2}$$

$$I_{\text{(b)}} = \int_{0,8}^{0,9} \frac{dr}{2\pi\lambda r^2}$$

$$I_{\text{(c)}} = \int_1^{1,1} \frac{dr}{5\lambda r^2}$$

.....

d) Après avoir calculé chacune des intégrales précédentes, quel igloo présente une résistance thermique approximative de  $\frac{1}{8,9} \text{ K} \cdot \text{W}^{-1}$  ?

.....

e) L'alpiniste dégage une puissance thermique de  $\phi = 100 \text{ W}$ .

En déduire la différence de température entre l'intérieur de l'igloo hémisphérique et l'extérieur en régime permanent.

.....

**Entraînement 13.11 — Analogie électrique d'une habitation (I).**



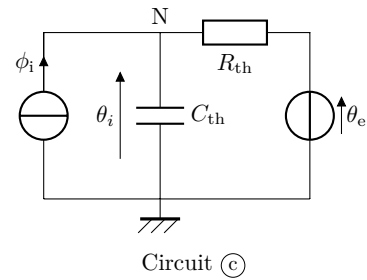
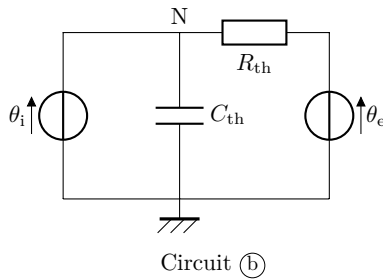
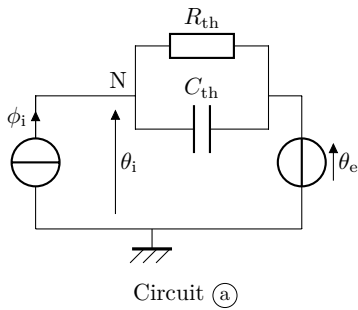
L'objectif de cet entraînement est d'approfondir l'analogie entre les phénomènes de conduction thermique et d'électricité en étudiant une habitation dans sa globalité.

On constate que :

- le flux thermique  $\phi$  est l'analogue de l'intensité du courant électrique (flux de charge électrique) ;
- la température  $\theta$  est l'équivalent du potentiel électrique ;
- un matériau ayant une capacité thermique  $C_{th}$  peut être modélisé par un condensateur électrique ;
- tout comme la résistance électrique traduit une relation de proportionnalité entre la différence de potentiel et le courant électrique, la résistance thermique traduit la relation de proportionnalité entre la différence de température et le flux thermique :  $\Delta\theta = R_{th}\phi$ .

Une habitation est isolée de l'extérieur où règne une température  $\theta_e(t)$  par une enveloppe isolante de résistance thermique  $R_{th}$ . À l'intérieur de l'habitation, un système de chauffage apporte un flux thermique  $\phi_i$  permettant d'atteindre une température intérieure  $\theta_i(t)$ . L'intérieur de la maison possède une capacité thermique  $C_{th}$ .

Parmi les circuits ci-dessous, lequel correspond à la situation étudiée? .....



**Entraînement 13.12 — Analogie électrique d'une habitation (II).**



a) Établir l'équation différentielle sur  $\theta_i$  dans le cas du circuit (c) de l'entraînement précédent.

.....

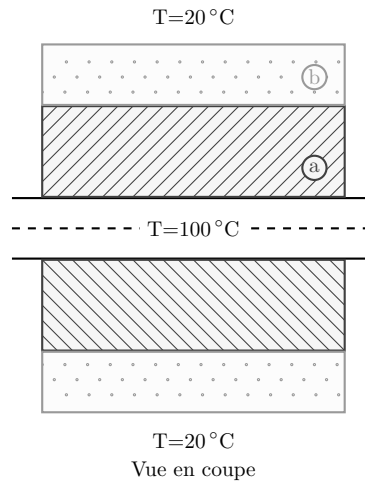
Du fait de l'alternance jour–nuit, la température extérieure  $\theta_e$  peut s'écrire

$$\theta_e(t) = \theta_{e0} + \theta_{e1} \cos(\omega t).$$

b) Quelle doit être l'expression du flux  $\phi_i$  fourni par le système de chauffage pour maintenir une température intérieure constante égale à  $\theta_{i0}$  ?

.....

**(🧮) Entraînement 13.13 — Une résistance thermique en géométrie cylindrique.**



Un mince tuyau métallique d'une longueur  $L$  et de rayon 1 cm transporte de la vapeur à  $100^\circ\text{C}$ . Celui-ci est couvert par deux couches d'isolants :

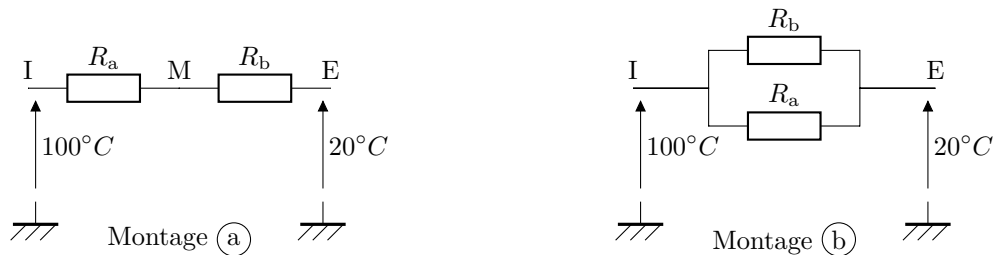
- une couche (a) intérieure d'une épaisseur de 4 cm et de conductivité thermique  $0,1 \text{ W} \cdot \text{m}^{-1} \cdot \text{K}^{-1}$ ,
- une couche (b) extérieure d'une épaisseur de 2 cm et de conductivité thermique  $0,3 \text{ W} \cdot \text{m}^{-1} \cdot \text{K}^{-1}$ .

La température extérieure est de  $20^\circ\text{C}$ .

La résistance thermique dans le cas d'un flux radial est de la forme  $R_{\text{th}} = \frac{1}{2\pi\lambda L} \ln(r_2/r_1)$ .

a) Parmi les deux montages électriques ci-dessous, lequel correspond au système étudié ?

.....



b) Quelle est la température à l'interface entre les deux isolants ?

- (a)  $25,2^\circ\text{C}$       (b)  $30,2^\circ\text{C}$       (c)  $30,2^\circ\text{C}$       (d)  $35,2^\circ\text{C}$       (e)  $40,2^\circ\text{C}$

On prendra  $\frac{\ln(7)}{\ln(5)} \approx 1,21$  .....

## Plus de diffusion thermique

### Entraînement 13.14 — Choix d'un isolant.



La résistance thermique surfacique  $r$  d'un matériau traduit sa capacité à résister à un flux thermique. Elle dépend de l'épaisseur du matériau  $e$  et de sa conductivité thermique  $\lambda$ , selon la relation

$$r = e/\lambda.$$

Le déphasage thermique  $\Delta\tau$  définit le temps que met un front de chaleur pour traverser une épaisseur donnée de matériau. Cette grandeur dépend de la masse volumique et de la capacité thermique massique du matériau, selon la relation

$$\Delta\tau = e\sqrt{\frac{\mu c}{2\omega\lambda}},$$

où  $\omega$  est la pulsation excitatrice associée au front de chaleur.

La prise en compte du déphasage thermique est notamment utile pour le confort l'été, en décalant au cœur de la nuit plus fraîche l'arrivée de la chaleur reçue par les parois extérieures durant la journée. Dans le cas de l'alternance jour–nuit  $\omega = 7,3 \times 10^{-5} \text{ rad} \cdot \text{s}^{-1}$ .

La consommation totale d'énergie primaire non renouvelable, communément appelée « énergie grise », permet de quantifier assez bien l'impact environnemental global d'un produit. L'énergie grise surfacique  $\mathcal{E}_S$  d'un isolant peut se calculer par la relation  $\mathcal{E}_S = \mu e \mathcal{E}$  où  $\mathcal{E}$  est l'énergie grise massique.

Isolants	Conductivité thermique $\lambda$ ( $\text{W} \cdot \text{m}^{-1} \cdot \text{K}^{-1}$ )	Masse volumique $\mu$ ( $\text{kg} \cdot \text{m}^{-3}$ )	Capacité thermique $c$ ( $\text{W} \cdot \text{m}^{-1} \cdot \text{K}^{-1}$ )	Énergie grise massique $\mathcal{E}$ ( $\text{kWh} \cdot \text{kg}^{-1}$ )
Fibres de bois	0,037	150	2 000	2
Bottes de paille	0,052	100	1 550	0,1
Laines minérales	0,030	30	900	8
Vermiculite	0,050	300	950	0,8
Polystyrène expansé	0,032	20	1 300	32
Polyuréthane	0,022	35	1 000	30

Un maître d'œuvre doit choisir un isolant pour fabriquer un mur avec comme contrainte d'avoir

$$r \geq 7,0 \text{ m}^2 \cdot \text{W}^{-1}$$

et un déphasage

$$\Delta\tau \geq 8 \text{ h}.$$

Après avoir calculé l'épaisseur nécessaire pour vérifier la contrainte sur  $r$  et le déphasage correspondant, le maître d'œuvre choisira l'isolant ayant l'énergie grise surfacique la plus faible parmi ceux qui vérifient les contraintes ci-dessus.

Quel isolant choisira-t-il? .....

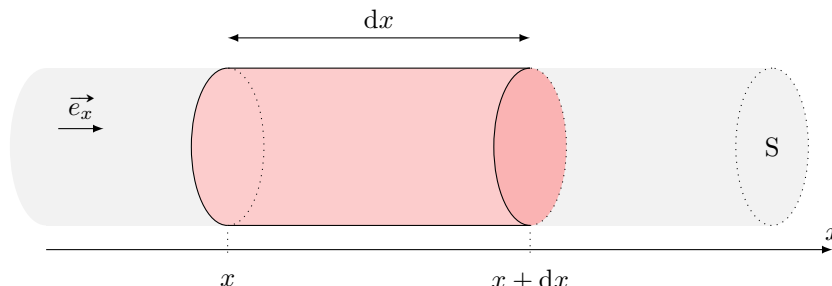
**Entraînement 13.15 — En présence de source.**



On se place dans le cas d'une diffusion unidimensionnelle telle que les isothermes sont des plans  $x = \text{cste}$ . On a alors

$$\vec{j}_Q = -\lambda \frac{dT}{dx} \vec{e}_x.$$

On étudie un élément de volume du conducteur thermique de section  $S$ , et compris entre  $x$  et  $x + dx$  :



Le conducteur thermique est le siège d'une production algébrique volumique d'énergie de puissance  $p_{\text{prod}}$  (effet Joule, réaction chimique, etc.).

a) Donner l'expression de la variation d'énergie interne  $dU$  de la tranche  $dx$  du conducteur entre les instants  $t$  et  $t + dt$ .

.....

b) Exprimer le transfert thermique algébriquement reçu par la tranche dû aux transferts conductifs.

.....

c) Donner l'expression de l'énergie produite dans la tranche entre  $t$  et  $t + dt$ .

.....

d) En déduire l'équation aux dérivées partielles vérifiée par  $T$ .

.....

**Entraînement 13.16 — Transfert conducto-convectif latéral.**



On se place dans le cas d'une diffusion unidimensionnelle telle que les isothermes sont des plans  $x = \text{cste}$ . On a alors  $\vec{j}_Q = -\lambda \frac{dT}{dx} \vec{e}_x$ . On étudie un élément de volume du conducteur thermique de section  $S$ , et compris entre  $x$  et  $x + dx$ .

La paroi latérale du volume de section  $S$  est en contact avec un thermostat à la température  $T_{\text{ext}}$ . Le flux thermique surfacique au niveau de la surface latérale vérifie la loi de Newton, *i.e.* est proportionnel à  $T(x, t) - T_{\text{ext}}$  (facteur de proportionnalité noté  $h$ ). On note  $p$  le périmètre de la tranche de section  $S$ .

a) Donner l'expression de  $dU$  en fonction de la variation de température .....

b) Exprimer le transfert thermique algébriquement reçu par la tranche dû aux transferts conductifs.

.....

c) Quelle est l'expression de l'énergie algébriquement reçue au niveau de la paroi latérale dans la tranche entre  $t$  et  $t + dt$  ?

- (a)  $h(T(x, t) - T_{\text{ext}})p \, dx \, dt$       (c)  $-h(T(x, t) - T_{\text{ext}})p \, dx \, dt$       (e) 0  
 (b)  $h(T(x, t) - T_{\text{ext}})S \, dx \, dt$       (d)  $h(T(x, t) - T_{\text{ext}})S \, dx \, dt$       (f)  $-h(T(x, t) - T_{\text{ext}})p$

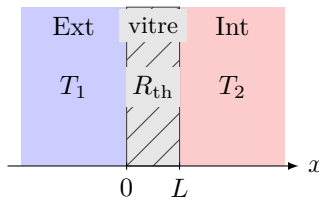
.....

d) En déduire l'équation aux dérivées partielles vérifiée par  $T$  .....

**Entraînement 13.17 — Conducto-convectif à 1D (3).**



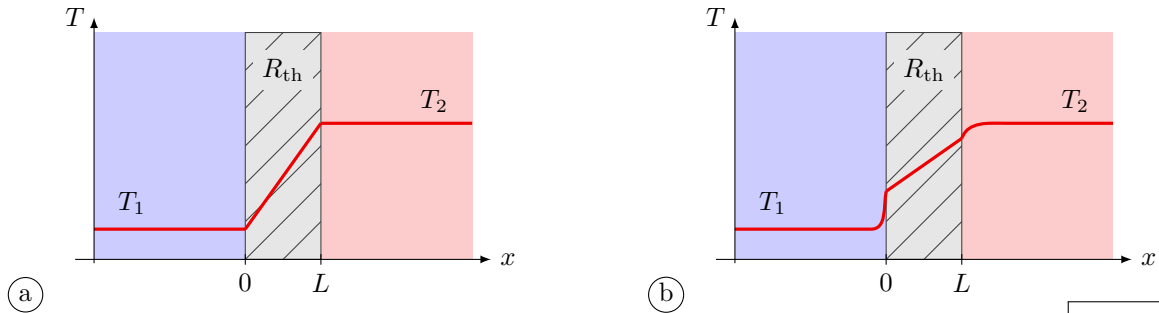
On considère une vitre de section  $S$  et de résistance thermique  $R_{\text{th}}$  séparant l'extérieur de température  $T_1$  et l'intérieur d'une maison (température  $T_2$ ).



Les échanges thermiques aux interfaces en  $x = 0$  et  $x = L$  sont régis par la relation de Newton. Si l'on prend en compte les effets conducto-convectifs aux deux interfaces, on obtient le système :

$$\begin{cases} \phi = h_1 S (T_1 - T(0)) \\ T(0) - T(L) = R_{\text{th}} \phi \\ \phi = h_2 S (T(L) - T_2). \end{cases}$$

a) Le profil de température est de la forme :



.....

Quelle est l'expression de :

b)  $T(0)$  ? .....

c)  $T(L)$  ? .....

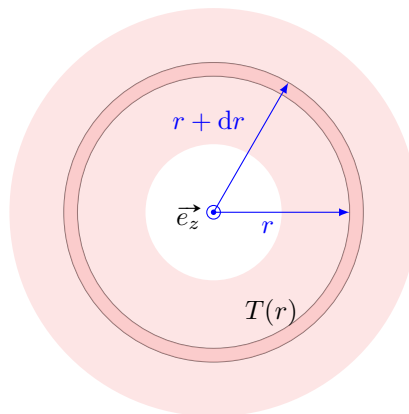
# En coordonnées cylindriques et sphériques



## Entraînement 13.18 — Régime permanent en géométrie cylindrique (I).



On considère le cas d'isothermes cylindriques d'axe  $(O, \vec{e}_z)$ . Pour obtenir le champ de température et le flux thermique il faut adapter le volume élémentaire étudié aux symétries du problème. Pour cela on raisonne sur un cylindre évidé de rayon  $r$ , d'épaisseur  $dr$  et de longueur  $h$ .



a) Que vaut la variation d'énergie interne du système en régime permanent ?

.....

b) Qu'en déduire concernant le transfert thermique  $\delta Q$  entre  $t$  et  $t + dt$  ?

.....

c) Que peut-on déduire concernant le flux  $\Phi(r) = 2\pi r h j_Q(r)$  de  $\vec{j}_Q$  à travers un cylindre de rayon  $r$  et de hauteur  $h$  ?

- (a) Le flux  $\Phi(r)$  décroît avec le rayon.                      (c) Le flux  $\Phi(r)$  augmente avec le rayon.  
 (b) Le flux  $\Phi(r)$  est indépendant de  $r$ .

.....

On dit alors que  $\vec{j}_Q$  est à « flux conservatif ». Cela permet notamment de le calculer pour tout cylindre de rayon  $r$  connaissant les conditions limites.

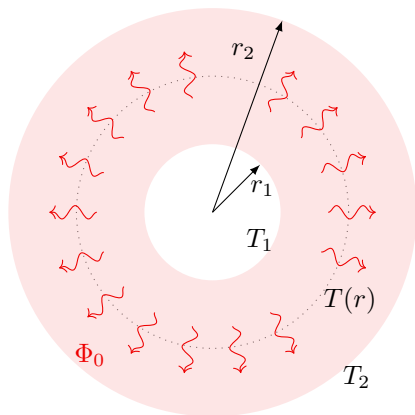
d) Déterminer l'équation différentielle vérifiée par  $T$  .....



## Entraînement 13.19 — Régime permanent en géométrie cylindrique (II).



On considère un cylindre évidé de longueur  $h$ , de rayon intérieur  $r_1$  et de rayon extérieur  $r_2$ . En régime permanent, dans le cas d'isothermes cylindriques, la température est régie par l'équation différentielle  $\frac{dT}{dr} = -\frac{\Phi_0}{2\pi\lambda h} \frac{1}{r}$ , où  $\Phi_0$  est le flux thermique radial.



a) Les conditions aux limites imposent  $\Phi_0$  et  $T(r_1) = T_1$ . Déterminer  $T(r)$  en fonction notamment de  $T_1$  et  $\Phi_0$ .

.....

b) Les conditions aux limites imposent  $T(r_1) = T_1$  et  $T(r_2) = T_2$ . Déterminer  $T(r)$  en fonction notamment de  $T_1$  et  $T_2$ .

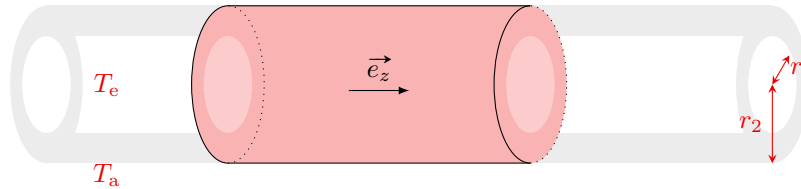
.....



**Entraînement 13.20 — Résistance thermique d'une canalisation.**



Soit une canalisation, de longueur  $L$ , comprise entre les cylindres de rayons  $r_1$  et  $r_2 > r_1$ , de même axe ( $Oz$ ). Elle contient de l'eau à la température  $T_e$  et est entourée d'air à la température  $T_a$ .



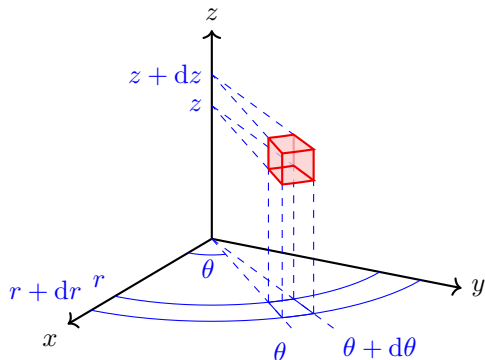
On se place en coordonnées cylindriques et on considère la canalisation assez longue pour négliger les effets de bord.

a) Quelles sont les dépendances spatiales du champ de température ?

- (a)  $T(r, \theta)$      
  (b)  $T(z)$      
  (c)  $T(r)$      
  (d)  $T(z, \theta)$

b) En déduire la forme du vecteur densité volumique de courant  $\vec{j}_Q$ .

- (a)  $j_Q(z)\vec{e}_r$      
  (b)  $j_Q(r)\vec{e}_r$      
  (c)  $j_Q(r)\vec{e}_z$      
  (d)  $j_Q(z)\vec{e}_z$



On considère un élément de volume de côtés  $dr$ ,  $r d\theta$  et  $dz$ .

Cet élément de volume est une portion de tube de champ de  $\vec{j}_Q$  entre deux portions d'équithermes de surface

$$\delta^2 S = r d\theta dz,$$

distantes de  $\delta L = dr$ .

c) En déduire sa conductance thermique, c'est-dire la capacité du matériau à transmettre un flux thermique. Elle est définie comme l'inverse de la résistance thermique.

On associe les éléments de volume précédents (représentés ci-dessus) de façon à obtenir une couronne en faisant varier  $\theta$  de 0 à  $2\pi$ .

d) Il s'agit d'une :

- (a) association série     
  (b) association parallèle

e) En calculant la bonne intégrale parmi celles proposées ci-dessous, déduire l'expression de la conductance de cette couronne. La conductance est définie comme l'inverse de la résistance thermique.

(a)  $\delta^2 G_{th} = \int_0^{2\pi} \frac{\lambda dz r d\theta}{dr}$

(b)  $\delta^2 G_{th} = \int_0^{2\pi} \frac{dr}{\lambda dz r d\theta}$

On associe les couronnes précédentes de façon à obtenir un cylindre évidé en faisant varier  $z$  de 0 à  $L$ .

f) Cette association de résistance thermique est :

(a) une association série

(b) une association parallèle

g) En déduire la conductance de ce cylindre évidé .....

On associe les cylindres précédents de façon à obtenir la canalisation étudiée en faisant varier  $r$  de  $r_1$  à  $r_2$ .

h) Il s'agit d'une :

(a) association série

(b) association parallèle

i) En déduire la résistance de ce cylindre évidé .....

j) En déduire l'expression du flux thermique sortant  $\Phi_0$  en fonction de  $T_a$  et  $T_e$ .

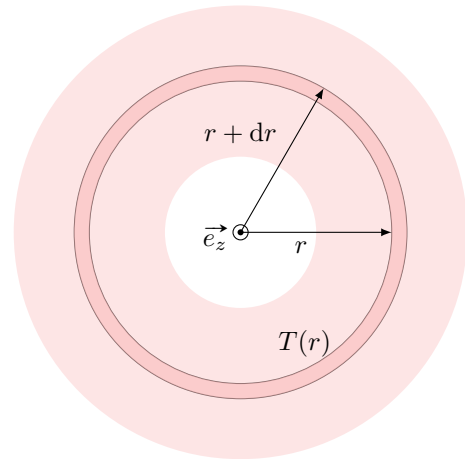
.....

**Entraînement 13.21 — Régime permanent en géométrie sphérique (I).**



On considère le cas d'isothermes  $T(r)$  correspondant à des sphères concentriques de centre  $O$ . Pour obtenir le champ de température et le flux thermique, il faut adapter le volume élémentaire étudié aux symétries du problème.

Pour cela on raisonne sur une « coquille sphérique » : boule évidée de rayon  $r$  et d'épaisseur  $dr$ , comme représenté ci-contre.



a) Que vaut la variation d'énergie interne du système en régime permanent ?

.....

b) Que peut-on en déduire concernant le transfert thermique  $\delta Q$  entre  $t$  et  $t + dt$  ?

.....

c) Que peut-on déduire concernant le flux  $\Phi(r) = 4\pi r^2 j_Q(r)$  de  $\vec{j}_Q$  à travers une sphère de rayon  $r$  ?

(a) Le flux  $\Phi(r)$  décroît avec le rayon.

(c) Le flux  $\Phi(r)$  augmente avec le rayon.

(b) Le flux  $\Phi(r)$  est indépendant de  $r$ .

.....

On dit que  $\vec{j}_Q$  est à flux conservatif. Cela permet notamment de le calculer pour toute sphère de rayon  $r$  connaissant les conditions limites.

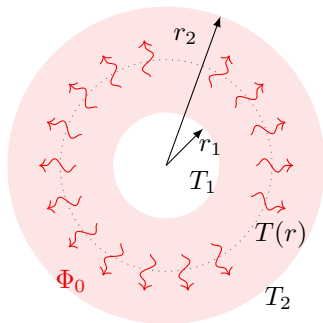
d) Déterminer l'équation différentielle vérifiée par  $T$ .

.....

**Entraînement 13.22 — Régime permanent en géométrie sphérique (II).**



On considère une sphère évidée de rayon intérieur  $r_1$  et de rayon extérieur  $r_2$ . En régime permanent, dans le cas d'isothermes sphériques, le température est régie par l'équation différentielle  $\frac{dT}{dr} = -\frac{\Phi_0}{4\pi\lambda r^2}$  où  $\Phi_0$  est le flux thermique radial sortant.



a) Les conditions aux limites imposent  $\Phi_0$  et  $T(r_1) = T_1$ . Déterminer  $T(r)$  en fonction notamment de  $T_1$  et  $\Phi_0$ .

.....

b) Les conditions aux limites imposent  $T(r_1) = T_1$  et  $T(r_2) = T_2$ . Déterminer  $T(r)$  en fonction notamment de  $T_1$  et  $T_2$ .

.....

**Réponses mélangées**

$T(r) = T_1 + (T_2 - T_1) \frac{\ln\left(\frac{r_1}{r}\right)}{\ln\left(\frac{r_1}{r_2}\right)}$     (c)    (a)    (b)    (c)    (b)    0,8 m    (b) et (c)

$4,5 \times 10^{-2} \text{ K} \cdot \text{W}^{-1}$     (c)     $\frac{1}{R_{th}}(\theta_{i0} - \theta_{e0} - \theta_{e1} \cos(\omega t))$     (b)     $T_1 + \frac{\Phi_0}{4\pi\lambda} \left( \frac{1}{r} - \frac{1}{r_1} \right)$

Sphérique     $T(r) = T_1 + \frac{\Phi_0}{2\pi\lambda h} \ln\left(\frac{r_1}{r}\right)$     (b)     $\frac{1}{1 + \frac{h_2}{h_1} + R_{th}h_2S} T_1 + \frac{\frac{h_2}{h_1} + R_{th}h_2S}{1 + \frac{h_2}{h_1} + R_{th}h_2S} T_2$

$dU = \mu c \frac{\partial T}{\partial t} S dx dt$     (a)     $dU = \mu c \frac{\partial T}{\partial t} S dx dt$     0    (a)     $3,2 \times 10^{-1} \text{ K} \cdot \text{W}^{-1}$     (b)

$\frac{2\pi\lambda L r}{dr} \frac{d\theta_i}{dt} + \frac{\theta_i}{R_{th}C_{th}} = \frac{1}{R_{th}C_{th}}(R_{th}\phi_i + \theta_e)$      $\lambda \frac{\partial^2 T}{\partial x^2} S dx dt$      $\mu c \frac{\partial T}{\partial t} = \lambda \frac{\partial^2 T}{\partial x^2} + p_{prod}$

$\sqrt{2}$      $11^\circ\text{C}$      $2 \times 10^{-3}$     Oui     $\frac{dT}{dr} = -\frac{\Phi_0}{4\pi\lambda r^2}$     (c)    4     $0,53 \text{ K} \cdot \text{W}^{-1}$

(d)    (a)    (c)    (d)     $\lambda \frac{\partial^2 T}{\partial x^2} S dx dt$     (b)     $\frac{dT}{dr} = -\frac{\Phi_0}{2\pi\lambda h r}$      $dU = 0$

$\frac{\lambda dz r d\theta}{dr}$     2    (b)     $1,1 \times 10^3 \text{ W}$     (b)     $\delta Q = 0$     (c)     $T(x) = \frac{T_2 - T_1}{L} x + T_1$

$\frac{\ln\left(\frac{r_2}{r_1}\right)}{2\pi\lambda L}$      $\frac{2\pi\lambda r dz}{dr}$     0,7 m    (c)    (c)     $\frac{T_1 + R_{th}h_2ST_2}{1 + R_{th}h_2S}$     (a)    (b)    (a)

$1/\sqrt{2}$     (a)    (a)     $\frac{2\pi\lambda L}{\ln(r_2/r_1)}(T_a - T_e)$      $\mu c \frac{\partial T}{\partial t} = \lambda \frac{\partial^2 T}{\partial x^2} - h \frac{p}{S}(T(x,t) - T_{ext})$     0

(b)     $-\frac{\partial j_Q}{\partial x} S dx dt$     47,5 W    (a)    en série    (a)    Les bottes de paille

$p_{prod} S dx dt$     (c)     $dU = \mu c \frac{\partial T}{\partial t} S dx dt$      $T(r) = T_1 + (T_2 - T_1) \frac{\frac{1}{r} - \frac{1}{r_1}}{\frac{1}{r_2} - \frac{1}{r_1}}$

$\frac{R_{th}h_1S + \frac{h_1}{h_2}}{1 + \frac{h_1}{h_2} + R_{th}h_1S} T_1 + \frac{1}{1 + \frac{h_1}{h_2} + R_{th}h_1S} T_2$     (cub., (c))    (cyl., (a))    (sph., (b))

► Réponses et corrigés page 291

# Transferts thermiques

**Prérequis**

Loi de Fourier :  $\vec{j}_{th} = -\lambda \overrightarrow{\text{grad}} T$ .

**Constantes utiles**

→ Constante de Stefan :  $\sigma = 5,67 \times 10^{-8} \text{ W} \cdot \text{m}^{-2} \cdot \text{K}^{-4}$

## Vecteur densité de courant thermique

**Entraînement 14.1 — Dans un calorimètre.**



Un système  $S_1$  est constitué d'un vase parfaitement calorifugé contenant initialement une masse  $m_1$  d'eau à la température  $T_1 = 20^\circ\text{C}$ . On y ajoute ensuite une masse  $m_2$  d'eau à la température  $T_2 = 80^\circ\text{C}$  (système  $S_2$ ). On attend que l'équilibre thermique soit réalisé.

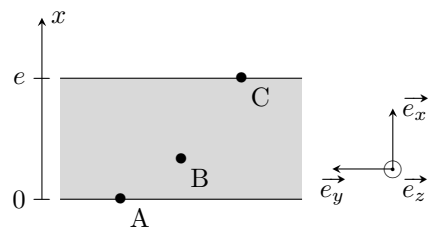
- a) Quel est le signe du transfert thermique reçu par le système  $S_1$  ? .....
- b) Quel est le signe du transfert thermique reçu par le système  $S_2$  ? .....
- c) Quel est le signe du transfert thermique reçu par le système  $S_1 \cup S_2$  ? .....

**Entraînement 14.2 — Une dalle en béton.**



On considère une dalle en béton d'épaisseur  $e = 20 \text{ cm}$  et de conductivité thermique  $\lambda = 1,2 \text{ W} \cdot \text{m}^{-1} \cdot \text{K}^{-1}$  séparant deux pièces d'une habitation.

La température de la face inférieure contenant A est  $T_A = 8^\circ\text{C}$  et celle de la face supérieure contenant C est  $T_C = 18^\circ\text{C}$ . La température en un point  $M(x, y, z)$  du béton ne dépend que de  $x$  en régime stationnaire.



Le vecteur densité de courant en M est  $\vec{j}_{th}(M) = -\lambda \frac{dT}{dx} \vec{e}_x$ .

a) Parmi les propositions suivantes, lesquelles sont vraies?

- (a)  $\vec{j}_{th}(A) \cdot \vec{e}_x > 0$
- (c)  $\vec{j}_{th}(C) \cdot \vec{e}_x = 0$
- (e)  $\vec{j}_{th}(B) \cdot \vec{e}_y = 0$
- (b)  $\vec{j}_{th}(B) \cdot \vec{e}_x < 0$
- (d)  $\vec{j}_{th}(A) \cdot \vec{e}_y > 0$
- (f)  $\vec{j}_{th}(C) \cdot \vec{e}_y < 0$

- .....
- b) Calculer  $\|\vec{j}_{th}(B)\|$  .....

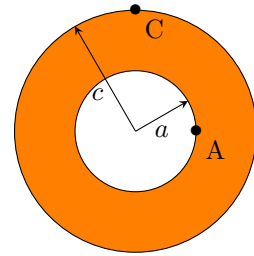
**Entraînement 14.3 — Tuyau en cuivre.**



On considère un tuyau cylindrique en cuivre d'axe (Oz) et de conductivité thermique  $\lambda = 400 \text{ W} \cdot \text{m}^{-1} \cdot \text{K}^{-1}$  séparant deux fluides de températures différentes.

En régime stationnaire, la température de la face interne contenant A est  $T_A = 20^\circ\text{C}$  et celle de la face externe contenant C est  $T_C = 10^\circ\text{C}$ . Le profil de température est alors, en coordonnées cylindriques,

$$T(r) = T_A + \frac{T_C - T_A}{\ln\left(\frac{c}{a}\right)} \ln\left(\frac{r}{a}\right).$$



Les distances à l'axe sont  $a = 2 \text{ cm}$  et  $c = 4 \text{ cm}$ .

Le vecteur densité de courant thermique en un point M est noté  $\vec{j}_{\text{th}}(M)$ .

On donne  $\vec{\text{grad}} f(r, \theta, z) = \frac{\partial f}{\partial r} \vec{e}_r + \frac{1}{r} \frac{\partial f}{\partial \theta} \vec{e}_\theta + \frac{\partial f}{\partial z} \vec{e}_z$  en coordonnées cylindriques.

a) La direction de  $\vec{j}_{\text{th}}(A)$  est

(a)  $\vec{e}_z$     (b)  $\vec{e}_r$     (c)  $\vec{e}_\theta$    

.....

b) La direction de  $\vec{j}_{\text{th}}(C)$  est

(a)  $\vec{e}_z$     (b)  $\vec{e}_r$     (c)  $\vec{e}_\theta$    

.....

c) Donner le sens de  $\vec{j}_{\text{th}}(A)$ .

.....

d) Donner le sens de  $\vec{j}_{\text{th}}(C)$ .

.....

e) Calculer  $\|\vec{j}_{\text{th}}(A)\|$  .....

f) Calculer  $\|\vec{j}_{\text{th}}(C)\|$  .....

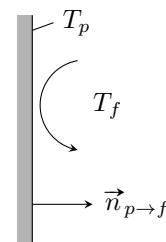
## Transferts thermiques conducto-convectifs

On considère une paroi solide fixe de température  $T_p$  en contact avec un fluide en mouvement de température différente  $T_f$ .

Les transferts thermiques de la paroi vers le fluide peuvent être modélisés par la loi de Newton donnant le vecteur densité de courant thermique conducto-convectif

$$\vec{j}_{\text{cc}} = h(T_p - T_f) \vec{n}_{p \rightarrow f}$$

où  $h$  est nommé coefficient de transfert conducto-convectif.



La puissance transférée par la paroi  $\Sigma$  au fluide est  $P_{p \rightarrow f} = \iint_{\Sigma} \vec{j}_{\text{cc}} \cdot dS \vec{n}_{p \rightarrow f}$ .

On rappelle que la résistance thermique  $R_{\text{th}}$  est le rapport entre la différence de température  $T_1 - T_2$  entre deux isothermes et la puissance thermique  $P_{1 \rightarrow 2}$  transférée. Elle vérifie :

$$R_{\text{th}} = \frac{T_1 - T_2}{P_{1 \rightarrow 2}}.$$

**Entraînement 14.4 — Unité ?**



En quelle unité s'exprime  $h$  ? .....

**Entraînement 14.5 — Puissance échangée par conducto-convection.**



a) La résistance thermique conducto-convective associée à une interface de surface  $S$  est

- (a)  $hS$
- (b)  $\frac{1}{hS}$

- (c)  $\sqrt{hS}$
- (d)  $\sqrt{\frac{1}{hS}}$

.....

b) Un toit plat d'immeuble a une surface de  $50 \text{ m}^2$ . La température de l'air extérieur est de  $25^\circ\text{C}$  et le coefficient de transfert conducto-convectif est  $h = 20 \text{ USI}$ .

La puissance cédée par conducto-convection par le toit à l'air extérieur vaut  $40 \text{ kW}$ .

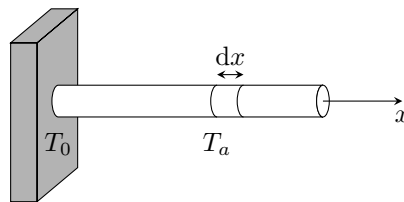
Calculer la température de la face du toit en contact avec l'air extérieur.

.....

**Entraînement 14.6 — Ailette de refroidissement.**



Une tige conductrice cylindrique de rayon  $a$ , de section  $S = \pi a^2$ , de longueur  $L \gg a$ , de conductivité thermique  $\lambda$  est en contact en  $x = 0$  avec un corps solide de température  $T_0$  stationnaire. Cette tige est en contact avec l'air de température  $T_a$  stationnaire.



a) L'élément de volume  $S dx$  de la tige situé entre  $x$  et  $x + dx$  reçoit une puissance de la part de l'air égale à

- (a)  $h(T_a - T(x))S$
- (b)  $h(T(x) - T_a)S$

- (c)  $h(T_a - T(x))2\pi a dx$
- (d)  $h(T(x) - T_a)2\pi a dx$

.....

b) En posant  $b = \sqrt{\frac{\lambda a}{2h}}$ , on montre que  $T(x) = T_a + (T_0 - T_a)e^{-x/b}$ .

Exprimer la puissance thermique  $P_0$  reçue par la tige en  $x = 0^+$  en fonction de  $\lambda$ ,  $a$ ,  $b$ ,  $T_0$  et  $T_a$ .

.....

# Rayonnement thermique

Un corps noir de température  $T$  émet un rayonnement de puissance surfacique  $\varphi$  donné par la loi de Stefan  $\varphi = \sigma T^4$  où  $\sigma$  est la constante de Stefan donnée dans les prérequis de la fiche.

## Entraînement 14.7 — Le Soleil rayonne.



Le Soleil de rayon  $R_{\odot} = 696 \times 10^3$  km, rayonne comme un corps noir de température  $T_S = 5772$  K.

a) Calculer la puissance surfacique  $\varphi_{\odot}$  à la surface du Soleil .....

b) Calculer la puissance  $P_{\odot}$  émise par le Soleil .....

c) La puissance radiative traversant une sphère de centre  $S$  (centre du Soleil) et de rayon  $r > R_{\odot}$  ne dépendant pas de  $r$ , la puissance surfacique radiative  $\varphi(r)$  est

- a)  $\varphi_{\odot}$                      
  b)  $\varphi_{\odot} \frac{R_{\odot}}{r}$                      
  c)  $\varphi_{\odot} \left(\frac{R_{\odot}}{r}\right)^2$                      
  d)  $\varphi_{\odot} \left(\frac{r}{R_{\odot}}\right)^2$

.....

d) La distance Soleil-Terre est  $D_{ST} = 150 \times 10^6$  km. La puissance surfacique du rayonnement solaire reçu par la Terre est (en  $\text{W} \cdot \text{m}^{-2}$ )

- a)  $1,4 \times 10^1$                      
  b)  $1,4 \times 10^2$                      
  c)  $1,4 \times 10^3$                      
  d)  $1,4 \times 10^4$

.....

## Entraînement 14.8 — Radiateur convecto-radiatif.



On étudie un radiateur de chauffage central dont la température de surface est  $T_s = 60^\circ\text{C}$  en contact avec l'air ambiant de température  $T_a = 20^\circ\text{C}$ . On note  $S$  l'aire de l'interface radiateur-air.

Le radiateur et l'air rayonnent comme des corps noirs de températures respectives  $T_s$  et  $T_a$ . Seuls les échanges thermiques entre le radiateur et l'air sont pris en compte.

a) La puissance cédée par le radiateur à l'air par rayonnement est

- a)  $\sigma(T_a^4 - T_s^4)S$                      
  c)  $\sigma(T_a^4 + T_s^4)S$   
 b)  $\sigma(T_s^4 - T_a^4)S$                      
  d) nulle

.....

b) En notant  $h = 10 \text{ W} \cdot \text{m}^{-2} \cdot \text{K}^{-1}$  le coefficient de transfert conducto-convectif entre le radiateur et l'air, la puissance cédée par le radiateur à l'air par conducto-convection est

- a)  $h(T_a - T_s)S$                      
  c)  $h(T_a + T_s)S$   
 b)  $h(T_s - T_a)S$                      
  d) nulle

.....

c) Calculer la surface  $S$  d'un radiateur fournissant une puissance totale de 1,0 kW à l'air.

.....

# Équation de la diffusion thermique



## Entraînement 14.9 — Dimension du coefficient de diffusivité thermique.



Dans un matériau solide de diffusivité  $D$ , le champ de température  $T(M, t)$  en un point  $M$  à un instant  $t$  vérifie l'équation de la diffusion thermique  $\frac{\partial T}{\partial t} = D \Delta T$ .

Quelle est la dimension physique de  $D$ ? .....



## Entraînement 14.10 — Échelles de longueur et de temps associées.



Les variations du champ de température  $T(M, t)$  au sein d'un matériau homogène de diffusivité  $D$  sont caractérisées par une longueur caractéristique  $L$  et une durée caractéristique  $\tau$ .

a) Quelle proposition est correcte ?

(a)  $\tau = \frac{L}{D}$

(b)  $\tau = \frac{L}{D^2}$

(c)  $\tau = \frac{L^2}{D}$

(d)  $\tau = \frac{D}{L^2}$

.....

Un œuf de poule a une longueur comprise entre 5 et 6 cm et une masse entre 60 et 70 g alors qu'un œuf d'autruche a une longueur entre 15 et 20 cm et pèse environ 1,6 kg.

b) Sachant que la cuisson à la coque d'un œuf de poule dure 4 minutes, cuire un œuf d'autruche à la coque nécessite environ

(a) 12 min

(b) 36 min

(c) 72 min

(d) 400 min

.....

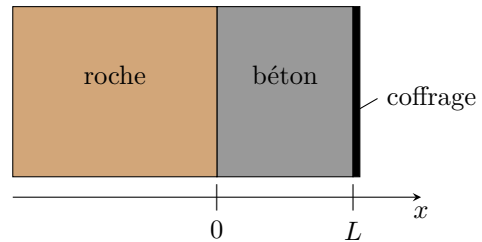


## Entraînement 14.11 — Prise en masse d'un mur de béton.



Un mur de béton est coulé entre une paroi rocheuse de température stationnaire  $T_0 = 20^\circ\text{C}$  et un coffrage métallique maintenu à la température  $T_1 = 10^\circ\text{C}$ .

Le mur de béton est d'épaisseur  $L = 1,0\text{ m}$  et de conductivité thermique  $\lambda = 1,2\text{ W} \cdot \text{K}^{-1} \cdot \text{m}^{-1}$ . La prise en masse du béton est le siège d'une réaction chimique exothermique dégageant une puissance volumique  $p_v$ .



En régime stationnaire, la température  $T(x)$  à l'abscisse  $x$  vérifie l'équation différentielle  $\frac{d^2T}{dx^2} = -\frac{p_v}{\lambda}$ .

a) Exprimer le profil de température  $T(x)$  dans le béton.

b) La température est maximale à l'abscisse  $x_1 = 3L/10$ . L'expression de  $p_v$  est

(a)  $3\lambda L(T_0 - T_1)$

(c)  $5\lambda L(T_0 - T_1)$

(b)  $\frac{3\lambda}{L^2}(T_0 - T_1)$

(d)  $\frac{5\lambda}{L^2}(T_0 - T_1)$

.....

c) Calculer  $p_v$  .....



**Entraînement 14.12 — Fusible en régime stationnaire.**



Un câble métallique cylindrique d'axe  $(Ox)$ , de rayon  $a$ , de section  $S = \pi a^2$ , de longueur  $L$ , de conductivité thermique  $\lambda$  et de conductivité électrique  $\gamma$ , est parcouru par un courant électrique d'intensité  $I$  stationnaire. Les deux extrémités en  $x = \pm \frac{L}{2}$  sont maintenues à la même température  $T_0$ .

Lorsque ce câble est latéralement calorifugé, la température  $T(x)$  à l'abscisse  $x$  vérifie, en régime stationnaire, l'équation différentielle

$$\frac{d^2T}{dx^2} = -\frac{I^2}{\lambda\gamma S^2}.$$

a) Exprimer le profil de température  $T(x)$  dans le câble.

.....

b) Quelle est l'abscisse du lieu où la température est extrême ?

.....

c) Donner l'expression de cette température extrême.

.....

On note  $\vec{j}_{th}(x)$  le vecteur densité de courant thermique de conduction à l'abscisse  $x$ .

d) Quelles propositions sont vraies ?

- a)  $\vec{j}_{th}\left(-\frac{L}{2}\right) \cdot \vec{e}_x > 0$                        c)  $\vec{j}_{th}\left(\frac{L}{2}\right) \cdot \vec{e}_x > 0$   
 b)  $\vec{j}_{th}\left(-\frac{L}{2}\right) \cdot \vec{e}_x < 0$                        d)  $\vec{j}_{th}\left(\frac{L}{2}\right) \cdot \vec{e}_x < 0$

.....

## Associations de résistances thermiques

Deux conducteurs thermiques (1) et (2) sont en *association série* lorsque la puissance thermique traverse le conducteur (1) puis le conducteur (2) avec une surface de jonction isotherme. La résistance thermique équivalente  $R_{th}$  est alors la somme des résistances thermiques de chaque conducteur.

$$R_{th} = R_{th,1} + R_{th,2}$$

Deux conducteurs thermiques (1) et (2) en *association parallèle* ont des faces communes à la même température : ils sont donc soumis à la même différence de température. La conductance thermique  $G_{th}$  équivalente est alors la somme des conductances thermiques de chaque conducteur.

$$G_{th} = \frac{1}{R_{th}} = G_{th,1} + G_{th,2}$$

**Entraînement 14.13 — Mur de béton.**



On considère un mur en béton d'épaisseur  $e = 30$  cm, de hauteur  $h = 2,5$  m et de longueur  $L = 10$  m.

Les deux faces verticales isothermes de ce mur sont en contact avec l'air et sont à des températures différentes  $T_1$  et  $T_2$ .

Lorsque  $|T_1 - T_2| = 10$  K, la puissance thermique traversant le béton est  $P = 1,0$  kW.

On rappelle que la résistance thermique d'un matériau de même géométrie que ce mur est

$$R_{\text{th}} = \frac{e}{\lambda S}$$

où  $e$  est l'épaisseur,  $S$  l'aire des sections isothermes et  $\lambda$  la conductivité thermique du matériau.

La résistance thermique  $R_{\text{th}}$  est le rapport entre la différence de température  $T_1 - T_2$  entre deux isothermes et la puissance thermique  $P_{1 \rightarrow 2}$  transférée

$$R_{\text{th}} = \frac{T_1 - T_2}{P_{1 \rightarrow 2}}$$

- a) Calculer la résistance thermique de conduction du mur .....
- b) Calculer la conductivité thermique  $\lambda_1$  du béton .....

On isole ce mur avec une plaque de polystyrène de conductivité  $\lambda_2 = 4,0 \times 10^{-2} \text{ W} \cdot \text{K}^{-1} \cdot \text{m}^{-1}$  afin que la puissance thermique traversant le mur isolé soit divisée par 5 pour le même écart de température  $|T_1 - T_2|$ .

- c) Calculer l'épaisseur d'isolant nécessaire. ....

**Entraînement 14.14 — Ouverture dans un mur.**



On considère un mur de surface  $S_m$  et de conductance thermique  $G_m$ . On souhaite percer ce mur afin d'installer une fenêtre de surface  $S_f$  et de conductance thermique  $G_f$ . On rappelle que la conductance thermique est l'inverse de la résistance thermique :  $G = \lambda S/e$  pour un matériau de conductivité thermique  $\lambda$ , d'épaisseur  $e$  et de section  $S$ .

a) La conductance thermique  $G'_m$  du mur percé (mur seul après installation de la fenêtre) est

- (a)  $\frac{S_m - S_f}{S_m} G_m$       (b)  $\frac{S_f}{S_m} G_m$       (c)  $G_m - G_f$       (d)  $G_m$

.....

b) La conductance thermique  $G$  du dispositif (mur et fenêtre) après installation de la fenêtre est

- (a)  $G_m + G_f$       (c)  $G_m \left(1 - \frac{S_f}{S_m}\right) + G_f$
- (b)  $\frac{G_m G_f}{G_m + G_f}$       (d)  $\frac{G_m S_m + G_f S_f}{S_m + S_f}$

.....

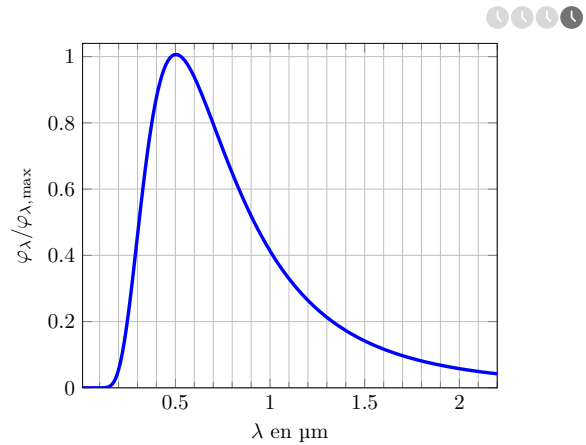
## Encore un peu de rayonnement thermique

Un corps noir de température  $T$  émet un rayonnement de puissance surfacique  $\varphi$  donné par la loi de Stefan  $\varphi = \sigma T^4$  où  $\sigma$  est la constante de Stefan donnée dans les prérequis de la fiche.

### Entraînement 14.15 — Loi de Wien.

Le Soleil émet un rayonnement à large spectre. La figure ci-contre donne le graphe du flux surfacique spectral normalisé en fonction de la longueur d'onde.

On considère le Soleil comme un corps noir.



a) Mesurer la longueur d'onde  $\lambda_m$  correspondant au flux surfacique spectral maximal . . . . .

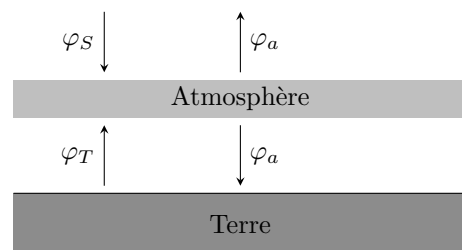
b) D'après la loi de Wien, on a  $\lambda_m T = 2898 \mu\text{m} \cdot \text{K}$ .

Calculer la température de surface du Soleil. . . . .

c) Le corps humain a une température de 310 K. En le considérant comme un corps noir, quelle est la longueur d'onde  $\lambda'_m$  de son rayonnement maximal ? . . . . .

### Entraînement 14.16 — Température de l'atmosphère terrestre.

L'atmosphère est modélisée par un corps noir rayonnant une puissance surfacique  $\varphi_a$ . Le rayonnement solaire à l'entrée de l'atmosphère terrestre a une puissance surfacique moyenne  $\varphi_\odot = 342 \text{ W} \cdot \text{m}^{-2}$ . L'atmosphère en absorbe la partie  $\varphi_S$ . L'atmosphère absorbe aussi la puissance surfacique  $\varphi_T$  provenant de la Terre.



On donne  $\varphi_S = 70 \text{ W} \cdot \text{m}^{-2}$  et  $\varphi_T = 450 \text{ W} \cdot \text{m}^{-2}$ .

a) À partir du bilan énergétique de l'atmosphère en régime stationnaire, la puissance surfacique  $\varphi_a$  est

(a)  $\varphi_T + \varphi_S$

(c)  $\frac{\varphi_T + \varphi_S}{2}$

(b)  $2(\varphi_T + \varphi_S)$

(d)  $\frac{\varphi_T - \varphi_S}{2}$

.....

b) Calculer la température de l'atmosphère  $T_a$  . . . . .

### Réponses mélangées

4,0 cm	(b)	(b)	(c)	négatif	9,35 $\mu\text{m}$	$1,4 \times 10^5 \text{ W} \cdot \text{m}^{-2}$
(b) et (e)	(b)	$1,0 \times 10^{-2} \text{ K} \cdot \text{W}^{-1}$		65 °C	(b)	$60 \text{ W} \cdot \text{m}^{-2}$
0,50 $\mu\text{m}$	(c)	(c)	$1,2 \text{ W} \cdot \text{K}^{-1} \cdot \text{m}^{-1}$		$2,9 \times 10^5 \text{ W} \cdot \text{m}^{-2}$	1,5 $\text{m}^2$ (c)
$T_0 + \frac{I^2 L^2}{\lambda \gamma S^2 8}$	(b) et (c)	0	(a)	(d)	(c)	Même sens que $\vec{e}_r$
$62,9 \text{ MW} \cdot \text{m}^{-2}$		$T_0 + \frac{I^2}{2\gamma\lambda S^2} \left( \left( \frac{L}{2} \right)^2 - x^2 \right)$		nul	(c)	(b) $\text{L}^2 \cdot \text{T}^{-1}$
$\frac{p_v}{2\lambda} x(L-x) + (T_1 - T_0) \frac{x}{L} + T_0$		$3,8 \times 10^{26} \text{ W}$		$5,8 \times 10^3 \text{ K}$	(b)	$\text{W} \cdot \text{K}^{-1} \cdot \text{m}^{-2}$
$\lambda \frac{\pi a^2}{b} (T_0 - T_a)$		Même sens que $\vec{e}_r$		positif	260 K	$60 \text{ W} \cdot \text{m}^{-3}$

► Réponses et corrigés page 299

## Tables et diagrammes thermodynamiques

### Prérequis

Notions d'additivité et d'extensivité de fonctions d'état. Transition de phase.

## Tables thermodynamiques

### (☰) Entraînement 15.1 — Table à double entrée – Table de vapeur sèche.



La table ci-dessous liste les propriétés de la vapeur d'eau sèche.

Le volume massique  $v$  est exprimé en  $\text{m}^3 \cdot \text{kg}^{-1}$ , l'enthalpie massique  $h$  en  $\text{kJ} \cdot \text{kg}^{-1}$  et l'entropie massique  $s$  en  $\text{kJ} \cdot \text{K}^{-1} \cdot \text{kg}^{-1}$ .

$p$ en kPa ( $T_{\text{sat}}$ en °C)		$T$ en °C				
		100	150	200	250	300
<b>100</b> (99,606)	$v$	1,696 0	1,936 7	2,172 5	2,406 2	2,638 9
	$h$	2 675,77	2 776,59	2 875,48	2 974,54	3 074,54
	$s$	7,361 0	7,614 7	7,835 6	8,034 6	8,217 1
<b>200</b> (120,21)	$v$		0,969 89	1,080 5	1,198 9	1,316 2
	$h$		2 769,09	2 870,78	2 971,26	3 072,08
	$s$		7,280 9	7,508 1	7,710 0	7,894 0
<b>500</b> (151,84)	$v$			0,425 03	0,474 43	0,522 60
	$h$			2 855,90	2 961,13	3 064,60
	$s$			7,061 1	7,272 6	7,461 4

a) En arrondissant le volume massique  $v$  à deux chiffres significatifs, calculer la masse volumique  $\rho$  en  $\text{g} \cdot \text{mL}^{-1}$  de la vapeur d'eau soumise à une pression de 200 kPa et à une température de 200 °C.

.....

b) Que vaut la température de saturation  $T_{\text{sat}}$  pour une pression de 200 kPa ?

(a) 200 °C

(c) 99,606 °C

(b) 120,21 °C

(d) 151,84 °C

.....

c) Quel est l'état d'équilibre du système à une température de 100 °C et soumis à une pression de 200 kPa ?

(a) état liquide

(b) état vapeur

(c) état diphasé

.....



### Entraînement 15.2 — Table à unique entrée – Table de vapeur saturante.



Les propriétés de l'eau sous forme diphasée sont données dans la table de vapeur saturante ci-dessous :

$T$ (°C)	$p_{\text{sat}}$ (MPa)	Liquide saturant			Vapeur saturante		
		①	②	③	①	②	③
20	0,002 339	83,9	0,296 5	0,001 002	2 537,4	8,666 0	57,757
40	0,007 385	167,5	0,572 4	0,001 008	2 573,5	8,255 5	19,515
60	0,019 946	251,2	0,831 3	0,001 017	2 608,8	7,908 1	7,667 2
80	0,047 414	335,0	1,075 6	0,001 029	2 643,0	7,611 1	3,405 2
100	0,101 420	419,2	1,307 2	0,001 043	2 675,6	7,354 1	1,671 8

Les colonnes ①, ②, ③ sont respectivement exprimées en  $\text{kJ} \cdot \text{kg}^{-1}$ ,  $\text{kJ} \cdot \text{K}^{-1} \cdot \text{kg}^{-1}$  et  $\text{m}^3 \cdot \text{kg}^{-1}$ .

À l'aide d'une analyse des unités, attribuer chaque colonne à une de ces trois grandeurs : volume massique  $v$ , enthalpie massique  $h$  et entropie massique  $s$ .

a)  $h$  .....       b)  $v$  .....       c)  $s$  .....

d) Exprimer la valeur de la pression de saturation  $p_{\text{sat}}$  à 100 °C en millimètres de mercure (mmHg) en sachant que 1 mmHg = 133,3 Pa .....

e) Le volume massique de l'eau contenue dans un ballon d'eau chaude à 60 °C est de  $v = 1,03 \text{ cm}^3/\text{g}$ . Quel est l'état du système : liquide, diphasé ou vapeur ? .....

Déterminer, par une lecture de la table à 60 °C, la valeur du volume massique de liquide saturant  $v_l$  et celle du volume massique de vapeur saturante  $v_g$ .

f)  $v_l$  .....       g)  $v_g$  .....

h) Le théorème des moments donne la fraction massique de vapeur d'un mélange diphasé :  $x_g = \frac{v - v_l}{v_g - v_l}$ .

En raisonnant en terme d'ordres de grandeur, laquelle des propositions ci-dessous correspond à une approximation raisonnable de l'expression de  $x_g$  si  $v = 1,03 \text{ cm}^3/\text{g}$  à 60 °C ?

Ⓐ  $v/v_l$       Ⓑ  $v_l/v_g$       Ⓒ  $v/v_g$  .....

## Diagramme de Clapeyron $P-v$ et diagramme de Watt $P-V$

### Entraînement 15.3 — Schéma synoptique d'un cycle thermodynamique.



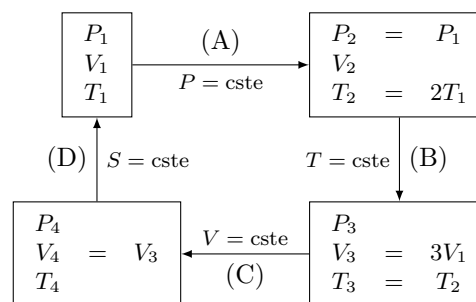
Soit  $n$  moles de gaz parfait qui décrivent le cycle ci-contre.

Attribuer aux transformations trois des quatre adjectifs suivants : isobare, adiabatique, isochore, isotherme.

a) Transformation (A) .....

b) Transformation (B) .....

c) Transformation (C) .....



d) À l'aide de la relation  $PV = nRT$ , exprimer  $V_2$  en fonction de  $V_1$  .....

**Entraînement 15.4 — Un cycle dans le diagramme P-V.**



Les données nécessaires aux questions suivantes sont disponibles dans l'entraînement 15.3.

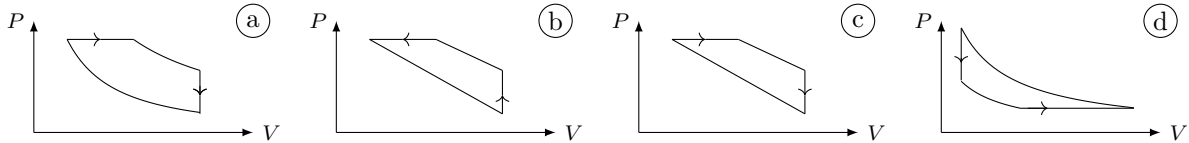
Pour rappel, un gaz parfait subissant une transformation isentropique vérifie la loi de Laplace :  $PV^\gamma = \text{cste}$ .

a) Laquelle de ces relations est valable pour la transformation (B)?

- a)  $\frac{P}{V} = \text{cste}$      
  b)  $PV = \text{cste}$      
  c)  $P^\gamma V^\gamma = \text{cste}$      
  d)  $T^{1-\gamma} V^\gamma = \text{cste}$

.....

b) Les échelles étant linéaires, déterminer lequel de ces tracés représente le cycle.



.....

c) Sachant que le travail des actions de pression reçu au cours du cycle est  $W = \oint_{\text{cycle}} -P dV$ , déterminer laquelle de ces affirmations est correcte.

- a)  $W > 0$  donc le cycle est récepteur.     
  c)  $W = 0$  car la transformation est un cycle.  
 b)  $W < 0$  donc le cycle est récepteur.     
  d)  $W < 0$  donc le cycle est moteur.

.....

**Entraînement 15.5 — Courbes iso d'un GP dans le diagramme p-v.**

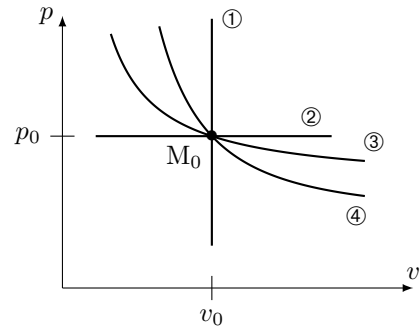


Une courbe isochore, une courbe isotherme, une courbe adiabatique réversible (donc isentrope) et une courbe isobare ont été représentées ci-contre dans le diagramme  $(p, v)$  d'un gaz parfait.

Toutes ces courbes passent par le même état décrit par le point  $M_0$  ayant pour coordonnées la pression  $p_0$  et le volume massique  $v_0$ .

Pour un gaz parfait,

- l'équation d'état massique est :  $pv = rT$  avec  $r = R/M$  la constante massique des gaz parfaits ;
- une des lois de Laplace dans le cas d'une transformation adiabatique réversible est  $pv^\gamma = \text{cste}$  avec  $\gamma > 1$  le coefficient adiabatique.



Exprimer la pente  $\frac{\partial p}{\partial v}$  au point  $M_0$  pour chaque courbe iso en fonction de  $p_0$ ,  $v_0$  et  $\gamma$  :

- a) iso-p .....      
 c) iso-v .....   
 b) iso-T .....      
 d) iso-s .....

À l'aide d'une comparaison des pentes des courbes au point  $M_0$ , déterminer l'adjectif adapté à chaque courbe parmi la liste suivante : isobare, isotherme, isochore, isentrope.

- e) ① .....      
 g) ③ .....   
 f) ② .....      
 h) ④ .....

# Diagramme entropique $T-s$



## Entraînement 15.6 — Courbes isobares d'un diagramme $T-s$ .



La 2<sup>ème</sup> identité thermodynamique est :  $dh = T ds + v dp$ . La seconde loi de Joule énonce que  $dh = c_p dT$ .

a) Établir l'équation différentielle vérifiée par  $T(s)$  le long d'une courbe isobare.

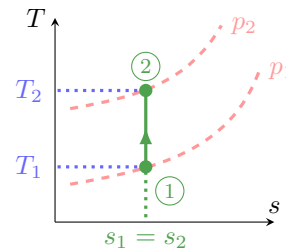
.....

b) En déduire l'expression de  $T(s)$  vérifiée le long d'une courbe isobare parmi les relations suivantes :

- (a)  $T_0 \cos(\omega s + \varphi)$      
  (b)  $T_0 \exp\left(\frac{s-s_0}{c_p}\right)$      
  (c)  $T_0 \exp\left(\frac{s_0-s}{c_p}\right)$      
  (d)  $T_0 \cos(s/c_p)$

.....

La suite vise à déterminer la position relative de deux courbes isobares. Pour cela, la compression isentropique d'un gaz parfait, passant d'un état ① à un état ②, est représentée par un trait plein dans le diagramme  $T-s$  ci-contre. Les courbes en pointillés représentent deux courbes isobares  $p_1$  et  $p_2$ .



c) La transformation vérifie une des lois de Laplace :  $p^{1-\gamma} T^\gamma = \text{cste}$ . En déduire laquelle des relations suivantes est une expression de  $p_2$  valide ?

- (a)  $p_1^{1-\gamma} \left(\frac{T_1}{T_2}\right)^\gamma$      
  (b)  $p_1 \left(\frac{T_1}{T_2}\right)^{\gamma/(1-\gamma)}$      
  (c)  $p_1 \left(\frac{T_1}{T_2}\right)^{\gamma/(\gamma-1)}$

.....

d) Sachant que  $\gamma > 1$ , que dire de la position relative d'une courbe isobare haute pression (HP) relativement à une courbe isobare basse pression (BP) ?

- (a) Les HP sont au-dessus des BP.     
  (b) Les HP sont en-dessous des BP.

.....



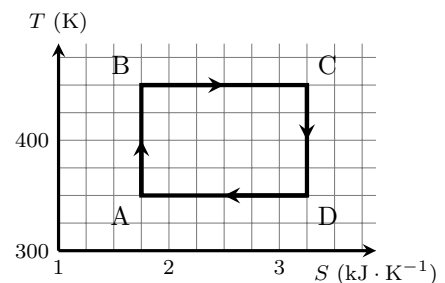
## Entraînement 15.7 — Estimation d'un transfert thermique.



Les transformations étudiées ici sont réversibles si bien qu'un transfert thermique reçu entre un état I et un état F est  $Q_{IF} = \int_I^F T dS$ .

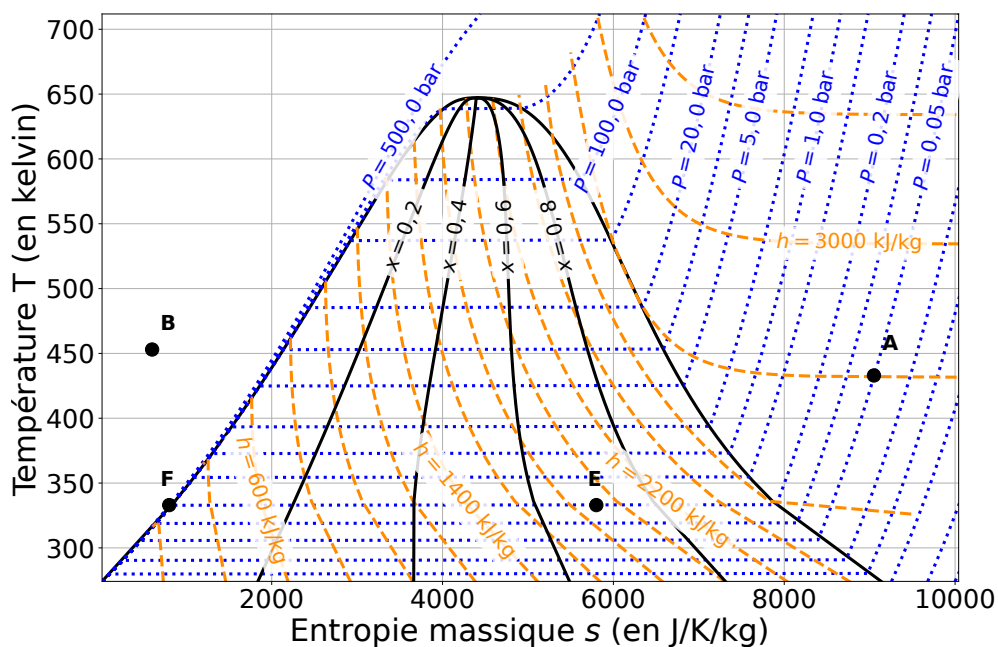
Estimer le transfert thermique reçu lors du cycle donné ci-contre.

- (a)  $Q_{ABCD} = 1,5 \times 10^5 \text{ J}$      
  (d)  $Q_{ABCD} = 2,25 \times 10^2 \text{ J}$   
 (b)  $Q_{ABCD} = -1,5 \times 10^5 \text{ J}$      
  (e)  $Q_{ABCD} = 2,25 \times 10^5 \text{ J}$   
 (c)  $Q_{ABCD} = -1,5 \times 10^2 \text{ J}$      
  (f)  $Q_{ABCD} = -2,25 \times 10^2 \text{ J}$



.....





Pour rappel, un gaz parfait vérifie la seconde loi de Joule :  $dh = c_p dT$ . Pour un liquide, cette loi s'écrit sous la forme  $dh = cdT$ .

a) Quelles sont les propositions vraies au point A ?

- (a) La pression est de 0,05 bar.
- (b) L'enthalpie massique est de 2 800 J.
- (c) Le corps pur est sous forme gazeuse et le modèle du gaz parfait est valable.
- (d) Le corps pur est sous forme liquide.

b) Quelles sont les propositions vraies au point B ?

- (a) Le corps pur est sous forme liquide.
- (b) Le corps pur est un mélange de liquide et de vapeur.
- (c) La température est de 450 °C.
- (d) L'entropie massique vaut  $600 \text{ J} \cdot \text{kg}^{-1} \cdot \text{K}^{-1}$ .

c) Quelles sont les propositions vraies au point E ?

- (a) Le titre massique en liquide est de 0,7.
- (b) Le titre massique en vapeur est de 0,7.
- (c) Le titre massique en liquide est de 0,3.
- (d) L'enthalpie massique est de  $1,9 \times 10^3 \text{ J} \cdot \text{kg}^{-1}$ .

d) Quels termes est-il possible d'associer à la transformation d'un système passant de l'état E à l'état F ?

- (a) vaporisation      (b) fusion      (c) liquéfaction      (d) isobare

.....

e) Quelle est la valeur de l'entropie massique au point F ? .....

f) Déterminer à l'aide d'une lecture graphique la valeur de la variation d'entropie massique d'un système passant de l'état E à l'état F.

.....

g) Déterminer à l'aide d'une lecture graphique la valeur de la variation d'enthalpie massique d'un système passant de l'état E à l'état F ?

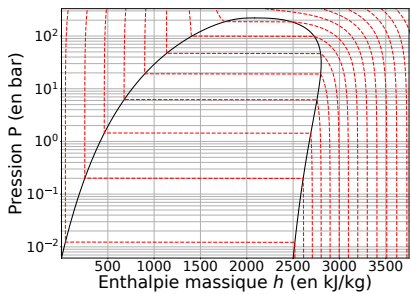
.....

## Diagramme des frigorigères $P-h$

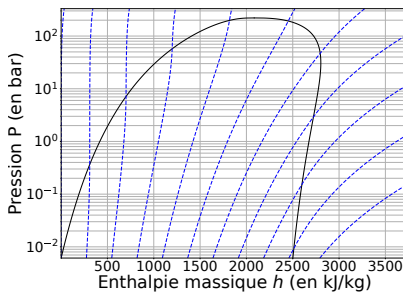
### Entraînement 15.9 — Réseaux de courbes.



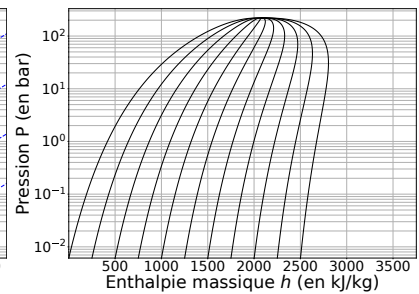
Différents réseaux de courbes sont tracés dans les diagrammes  $P-h$  ci-dessous.



①



②



③

La 1<sup>ère</sup> et la 2<sup>ème</sup> identités thermodynamiques sont respectivement  $du = T ds - p dv$  et  $dh = T ds + v dp$ . Les phases condensées incompressibles et indilatables, dont l'équation d'état est  $v = cste$ , et les gaz parfaits vérifient les lois de Joule qui, écrites en relations différentielles, donnent  $du = c_v dT$  et  $dh = c_p dT$ .

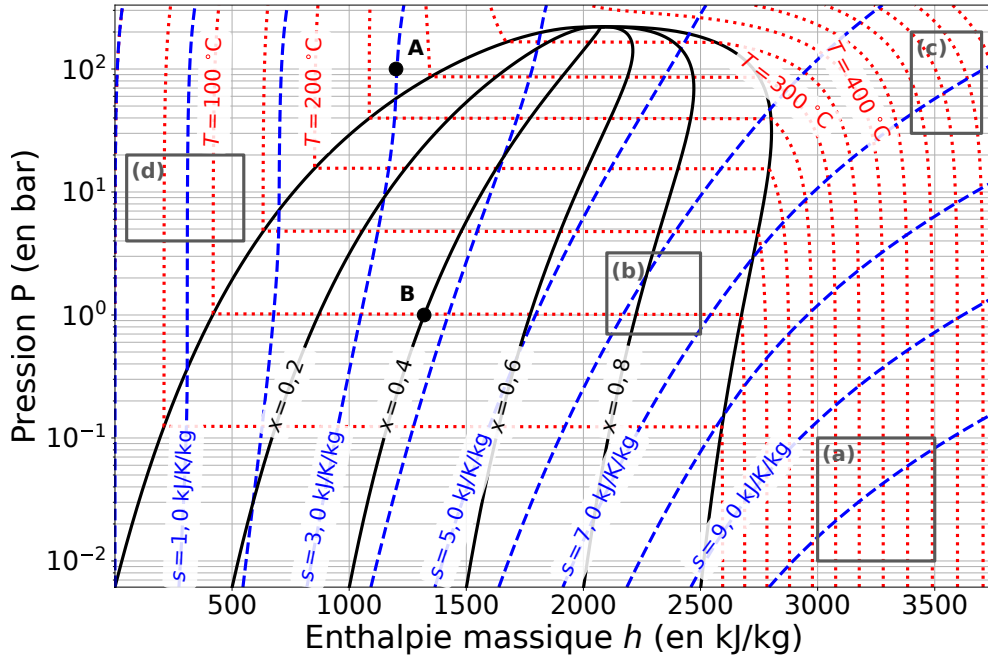
Pour chacun des trois diagrammes, choisir quel adjectif parmi la liste suivante correspond au réseau de courbes tracé :

- (a) isobare      (c) isotitre      (e) isenthalpe  
 (b) isotherme      (d) isentrope

a) Diagramme ① .....

c) Diagramme ③ .....

b) Diagramme ② .....



a) Au point A, quelles sont les propositions vraies ?

- (a) La pression est de  $1,00 \times 10^7$  Pa.
- (b) La température est de 275 K.
- (c) Le corps pur est sous forme gazeuse.
- (d) Le corps pur est sous forme liquide.

.....

b) Au point B, quelles sont les propositions vraies ?

- (a) La pression est de 1 Pa.
- (b) La température est de 100 °C.
- (c) Le corps pur est sous forme de mélange diphasé contenant du liquide et de la vapeur.
- (d) Le titre massique en liquide est de 0,6.

.....

c) Pour rappel, un gaz parfait vérifie la seconde loi de Joule :  $dh = c_p dT$ . En déduire quelles sont les propositions valides en phase vapeur si le fluide est assimilé à un gaz parfait :

- (a) Les courbes isothermes sont des segments horizontaux.
- (b) Les courbes isothermes sont des demi-droites verticales.
- (c) Les courbes isothermes sont confondues avec les courbes isenthalpes.
- (d) Les courbes isothermes sont confondues avec les courbes isobares.

.....

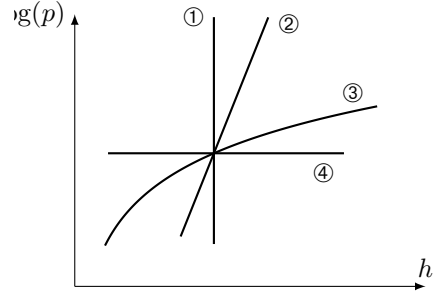
d) En déduire dans quelle(s) zone(s) (a), (b), (c) ou (d) représentée(s) sur l'abaque le gaz peut-il être considéré comme un gaz parfait.

.....

**Entraînement 15.11 — Courbes iso d'un GP dans le diagramme  $(\log(p), h)$ .**



Quatre courbes iso ont été tracées dans le diagramme  $(\log(p), h)$  ci-contre. Le fluide étudié est assimilé à un gaz parfait qui vérifie l'équation d'état  $pvM = RT$  et la 2<sup>nde</sup> loi de Joule  $dh = c_p dT$ .



a) Le long d'une courbe isochore, la pente est  $\frac{d \log(p)}{dh} = \frac{A}{p}$  avec  $A$  une constante. Exprimer  $A$  en fonction de  $R, M, c_p$  et  $v$ .

.....

Par une étude qualitative des pentes des courbes, déterminer l'adjectif adapté à chaque courbe parmi la liste suivante : isobare, isotherme, isochore, isentrope.

b) ① .....     c) ② .....     d) ③ .....     e) ④ .....

**(📊) Entraînement 15.12 — Vaporisation de l'eau.**



Le diagramme des frigoristes de l'eau est donné ci-dessus, dans l'entraînement 15.10.

a) À l'aide d'une analyse visuelle, c'est-à-dire sans lecture de valeurs ni calculs, utiliser la position du point B sous la courbe de saturation pour déterminer laquelle de ces propositions est valide.

On rappelle que l'échelle des abscisses est linéaire.

- (a) Il y a davantage de liquide que de vapeur.       (c) Il y a autant de vapeur que de liquide.  
 (b) Il y a davantage de vapeur que de liquide.       (d) Il n'y a que du liquide.

.....

À l'aide de lectures graphiques, attribuer les valeurs de 2 650, 1 320, 420 et 1 000  $\text{kJ} \cdot \text{kg}^{-1}$  aux enthalpies massiques caractérisant l'état du fluide au point B.

b) Enthalpie massique (moyenne)  $h_B$  du fluide diphasé : .....

c) Enthalpie massique  $h_{v,B}$  de la vapeur saturante : .....

d) Enthalpie massique  $h_{l,B}$  du liquide saturant : .....

e) Quelle est l'écriture correcte du théorème des moments donnant le titre en vapeur  $x_B$  désigne le titre vapeur à l'état B ?

- (a)  $x_B = \frac{h_{v,B} - h_B}{h_{v,B} - h_{l,B}}$        (b)  $x_B = \frac{h_B - h_{l,B}}{h_{v,B} - h_{l,B}}$        (c)  $x_B = \frac{h_{v,B} - h_B}{h_{l,B} - h_{v,B}}$        (d)  $x_B = \frac{h_{l,B} - h_B}{h_B - h_{v,B}}$

.....

f) En déduire la valeur du titre vapeur au point B en prenant  $2230 \approx 2250$  .....

g) Par analyse de la forme de la courbe de saturation, comment évolue l'enthalpie de vaporisation  $\Delta_{\text{vap}}h = h_v - h_l$  lorsque la pression augmente ?

- (a) elle reste constante       (b) elle diminue       (c) elle augmente

.....

# Encore plus de tables thermodynamiques

## Entraînement 15.13 — Volume massique d'une vapeur sèche.



Les données nécessaires aux questions suivantes sont disponibles dans la table de vapeur sèche de l'entraînement 15.1.

a) Si  $R$  est la constante des gaz parfaits exprimée en  $\text{J} \cdot \text{mol}^{-1} \cdot \text{K}^{-1}$  et  $M$  la masse molaire, quelle est l'unité usuelle de  $r = R/M$  ?

(a)  $\text{J} \cdot \text{mol}^{-1} \cdot \text{g}^{-1}$

(b)  $\text{J} \cdot \text{kg}^{-1} \cdot \text{K}^{-1}$

(c)  $\text{kg} \cdot \text{mol}^{-1} \cdot \text{K}^{-1}$

b) Laquelle des expressions suivantes est l'équation d'état des gaz parfaits « massique » si  $v$  est le volume massique,  $p$  la pression,  $T$  la température et  $r$  la constante massique des gaz parfaits ?

(a)  $pvr = T$

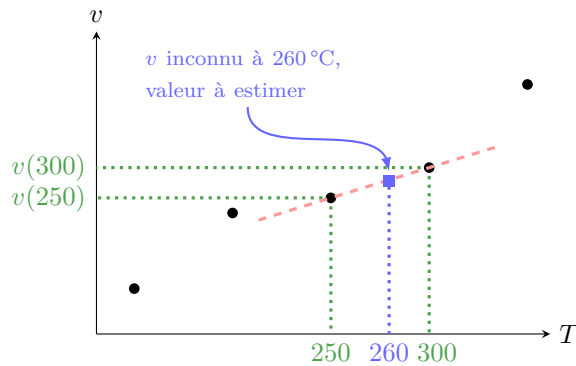
(b)  $pv = T/r$

(c)  $pv = r/T$

(d)  $pv = rT$

c) À l'aide de l'équation d'état massique des gaz parfaits où  $r = R/M = 0,46 \text{ kJ} \cdot \text{kg}^{-1} \cdot \text{K}^{-1}$  pour l'eau, estimer la valeur du volume massique de la vapeur sèche à  $260^\circ\text{C}$  sous  $100 \text{ kPa}$ .

L'objectif de ce qui suit est d'évaluer le volume massique d'une vapeur sèche à  $260^\circ\text{C}$  à partir des valeurs connues du volume massique à  $250^\circ\text{C}$  et  $300^\circ\text{C}$ . Pour cela, il est supposé que la représentation graphique du volume massique en fonction de la température est une droite passant par les points  $250^\circ\text{C}$  et  $300^\circ\text{C}$ .



d) Quelle expression permet d'estimer la valeur du volume massique de la vapeur sèche à  $260^\circ\text{C}$  sous  $100 \text{ kPa}$  ?

(a)  $v(260) = v(250) + \frac{v(300) - v(250)}{300 - 250} \times (300 - 250)$

(b)  $v(260) = \frac{v(300) - v(260)}{300 - 250} \times (260 - 250)$

(c)  $v(260) = v(250) + \frac{v(300) - v(260)}{300 - 260} \times (250 - 260)$

(d)  $v(260) = v(250) + \frac{v(300) - v(250)}{300 - 250} \times (260 - 250)$

e) En déduire une estimation numérique de la valeur de  $v(T = 260^\circ\text{C}, p = 100 \text{ kPa})$ .

**Entraînement 15.14 — Transfert thermique avec changement d'état.**



Les données nécessaires aux questions suivantes sont disponibles dans la table de vapeur saturante de l'entraînement 15.2.

a) Quelle est l'enthalpie  $h_g$  de la vapeur saturante soumise à une pression 1,0142 bar ?

.....

b) Quelle est l'enthalpie  $h_\ell$  du liquide saturant à une température de 100 °C ? .....

De l'eau, contenant initialement 90% de vapeur, subit une liquéfaction totale sous une pression de 1,0142 bar au sein d'un condenseur sans parties mobiles.

c) Quelle relation permet de calculer l'enthalpie initiale  $h_i$  du mélange diphasé ?

(a)  $h_i = 10 h_\ell + 90 h_g$

(c)  $h_i = 0,10 h_\ell + 0,90 h_g$

(b)  $h_i = 0,10 h_\ell - 0,90 h_g$

(d)  $h_i = 0,90 h_\ell + 0,10 h_g$

.....

d) Calculer le transfert thermique massique  $q$  reçu par le fluide en utilisant le 1<sup>er</sup> principe industriel qui établit que  $q = h_f - h_i$  avec  $h_f$  l'enthalpie massique du fluide après liquéfaction totale.

.....

## Et encore plus de diagrammes thermodynamiques

**Entraînement 15.15 — Un cycle dans le diagramme (V,T).**



Les données nécessaires aux questions suivantes sont disponibles dans l'entraînement 15.3.

Pour rappel, un gaz parfait subissant une transformation isentropique vérifie la loi de Laplace :  $PV^\gamma = \text{cste}$ .

a) Laquelle des relations suivantes est valable pour la transformation (D) ?

(a)  $\frac{T}{V} = \text{cste}$

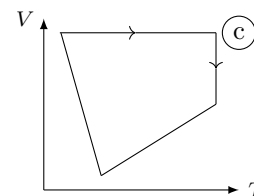
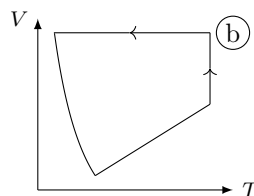
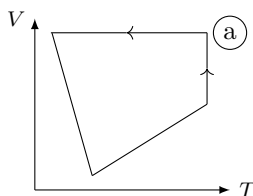
(b)  $TV = \text{cste}$

(c)  $TV^{\gamma-1} = \text{cste}$

(d)  $T^{1-\gamma}V^\gamma = \text{cste}$

.....

b) Les échelles étant linéaires, déterminer lequel de ces tracés représente le cycle.

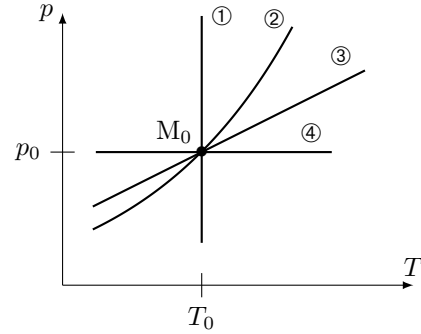


.....

**Entraînement 15.16 — Courbes iso d'un GP dans le diagramme  $(p, T)$ .**



Une courbe isochore, une courbe isotherme, une courbe adiabatique réversible (donc isentrope) et une courbe isobare ont été représentées ci-contre dans le diagramme  $(p, T)$  d'un gaz parfait.



Toutes ces courbes passent par le même état décrit par le point  $M_0$ .

Pour un gaz parfait,

- l'équation d'état est :  $pv = rT$  ;
- une des lois de Laplace dans le cas d'une transformation isentropique :  $T^\gamma p^{1-\gamma} = \text{cste}$  avec  $\gamma > 1$  le coefficient adiabatique.

a) Que dire de la pente  $\frac{\partial p}{\partial T}$  de la courbe isochore  $v = v_0$  passant par le point  $M_0$  ?

- (a) Elle est décroît avec  $T$ .      (b) Elle est constante avec  $T$ .      (c) Elle est croît avec  $T$ .

.....

À l'aide d'une comparaison des pentes des courbes, déterminer l'adjectif adapté à chaque courbe parmi la liste suivante : isobare, isotherme, isochore, isentrope.

- b) ① .       c) ② .       d) ③ .       e) ④ .

**Entraînement 15.17 — Courbes iso d'un GP dans le diagramme  $(T, s)$ .**

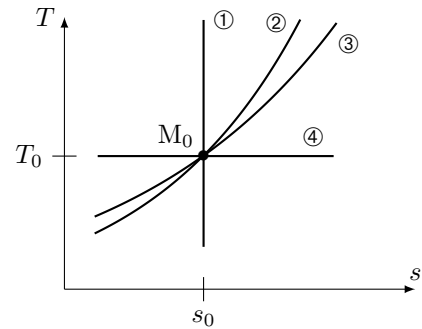


Une courbe isochore, une courbe isotherme, une courbe adiabatique réversible (donc isentrope) et une courbe isobare ont été représentées ci-dessous dans le diagramme  $(T, s)$  d'un gaz parfait.

Toutes ces courbes passent par le même état décrit par le point  $M_0$  ayant pour coordonnées la température  $T_0$  et l'entropie massique  $s_0$ .

Pour rappel, le coefficient adiabatique est défini comme le rapport de la capacité thermique (massique) par la capacité thermique à volume constant :  $\gamma = \frac{c_p}{c_v}$  avec  $\gamma > 1$ .

De plus, pour un gaz parfait, les points de la courbe isobare vérifient la relation  $T(s) = T_a e^{s/c_p}$  quand ceux de la courbe isochore vérifient la relation  $T(s) = T_b e^{s/c_v}$  avec  $T_a$  et  $T_b$  des constantes.



Exprimer la pente  $\frac{\partial T}{\partial s}$  au point  $M_0$  pour chaque courbe iso en fonction de  $T_0$ ,  $c_v$  et  $c_p$  :

- a) iso- $p$  .....       c) iso- $v$  .....   
 b) iso- $T$  .....       d) iso- $s$  .....

À l'aide d'une comparaison des pentes des courbes au point  $M_0$ , déterminer l'adjectif adapté à chaque courbe parmi la liste suivante : isobare, isotherme, isochore, isentrope.

- e) ① .       f) ② .       g) ③ .       h) ④ .

**Entraînement 15.18 — Un cycle dans le diagramme (P,T).**



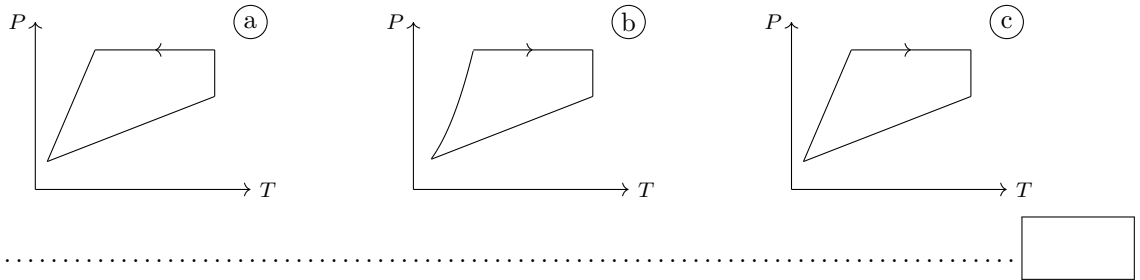
Les données nécessaires aux questions suivantes sont disponibles dans l'entraînement 15.3.

Pour rappel, un gaz parfait subissant une transformation isentropique vérifie la loi de Laplace :  $PV^\gamma = \text{cste}$ .

a) Laquelle des relations suivantes est valable pour la transformation (D) ?

- (a)  $PT = \text{cste}$      
  (b)  $P^\gamma T^{\gamma-1} = \text{cste}$      
  (c)  $P^{1-\gamma} T^\gamma = \text{cste}$      
  (d)  $\frac{P}{T} = \text{cste}$
- .....

b) Les échelles étant linéaires, déterminer lequel de ces tracés représente le cycle.



**Entraînement 15.19 — Compression : irréversibilités et élévation de température.**



Du fluide R718 se trouve à l'entrée d'un compresseur sous une pression de 250 mbar à 100 °C (état I).

a) En plaçant le point I dans le diagramme des frigoristes de l'entraînement 15.10, déterminer la valeur de l'enthalpie massique initiale  $h_I$  .....

.....

b) Dans quel état se trouve le fluide à l'état I ?

- (a) liquide saturant     
  (b) vapeur saturante     
  (c) vapeur sèche     
  (d) mélange diphasé
- .....

c) Quelle est la valeur de l'entropie  $s_I$  du fluide à l'état I ? .....

.....

d) Le fluide est comprimé de manière adiabatique et réversible ( $s_I = s_F$ ) jusqu'à la pression  $p_F = 1$  bar par le compresseur qui fournit le travail  $w = h_F - h_I$ . Calculer  $w$  en  $\text{kJ} \cdot \text{kg}^{-1}$  .....

.....

e) Quelle est la température finale  $T_F$  du fluide après compression réversible ? .....

.....

f) Le fluide est désormais comprimé à  $p_F = 1$  bar de manière irréversible si bien que son entropie a augmenté de 6%. En plaçant le point F' entre deux courbes isentropes, déterminer la valeur de la température finale  $T_{F'}$  .....

.....

g) L'augmentation de la température du fluide est due à sa compression, mais aussi aux irréversibilités qui ont lieu lors de celle-ci. Laquelle de ces relations permet d'évaluer la proportion de l'élévation de température strictement due aux irréversibilités par rapport à l'élévation totale de température  $T_{F'} - T_I$  ?

On rappelle que, pour une quantité  $X_{\text{tot}} = X_1 + X_2$ , la proportion **relative** de  $X_1$  au sein de  $X_{\text{tot}}$  s'exprime comme  $X_1/X_{\text{tot}}$ .

- (a)  $\frac{T_{F'} - T_F}{T_{F'} - T_I}$      
  (b)  $\frac{T_{F'} - T_F}{T_I}$      
  (c)  $\frac{T_{F'} - T_I}{T_{F'}}$      
  (d)  $\frac{T_{F'} - T_I}{T_F - T_I}$
- .....



Réponses mélangées

isobare	(b)	$1,017 \times 10^{-3} \text{ m}^3/\text{kg}$	$\frac{T_0}{c_v}$	760,8 mmHg	$2V_1$	$2,45 \text{ m}^3/\text{kg}$	
isotherme	(d)	(c)	(b)	$-5000 \text{ J} \cdot \text{K}^{-1} \cdot \text{kg}^{-1}$	400 °C	isotherme	
①	isotherme	②	(b)	(c)	(b) et (c)	$2675,6 \text{ kJ} \cdot \text{kg}^{-1}$	(a), (d)
(a)	$\infty$	(a)	$420 \text{ kJ} \cdot \text{kg}^{-1}$	(b)	(d)	(b)	③ $\infty$ isentrope
	(b)	$2680 \text{ kJ} \cdot \text{kg}^{-1}$	(a), (c)	(b)	(b), (c), (d)	(a)	isobare
	(a)	isentrope	$-2031 \text{ kJ} \cdot \text{kg}^{-1}$	$7,6672 \text{ m}^3/\text{kg}$	(b)	(a)	(b), (d)
$419,2 \text{ kJ} \cdot \text{kg}^{-1}$	(d)	$-1650 \text{ kJ} \cdot \text{kg}^{-1}$	(a)	isochore	isochore		$\frac{R}{\ln(10)Mv c_p}$
$2650 \text{ kJ} \cdot \text{kg}^{-1}$		$\frac{dT}{ds} - \frac{T}{c_p} = 0$	$8 \text{ kJ} \cdot \text{K}^{-1} \cdot \text{kg}^{-1}$	(b)	$-\frac{p_0}{v_0}$	$x_B = 40\%$	
diphasé	isentrope	$1320 \text{ kJ} \cdot \text{kg}^{-1}$	isobare	isochore	(a)	isentrope	
$\frac{T_0}{c_p}$	$9,1 \times 10^{-4} \text{ g} \cdot \text{mL}^{-1}$	(c)	isotherme	(b)	isobare	0	(a), (d)
isochore	250 °C	(d)	isobare	$-\gamma \frac{p_0}{v_0}$	$2,45 \text{ m}^3/\text{kg}$	(c)	$300 \text{ kJ} \cdot \text{kg}^{-1}$
(c)	isochore	(b)	isotherme	0	(c), (d)	$800 \text{ J} \cdot \text{K}^{-1} \cdot \text{kg}^{-1}$	(c)

► Réponses et corrigés page 303

# Signaux

## Prérequis

Continuités imposées par les bobines et condensateurs.  
Comportement des bobines et condensateur à HF et BF.

## Pour bien commencer

### Entraînement 16.1 — Un peu de calcul intégral.



Calculer les intégrales suivantes si  $T = 2\pi/\omega$  est une constante homogène à un temps.

a)  $\frac{1}{T} \int_0^T \cos(\omega t) dt$  .....       c)  $\frac{1}{T} \int_0^T t \cos(\omega t) dt$  .....

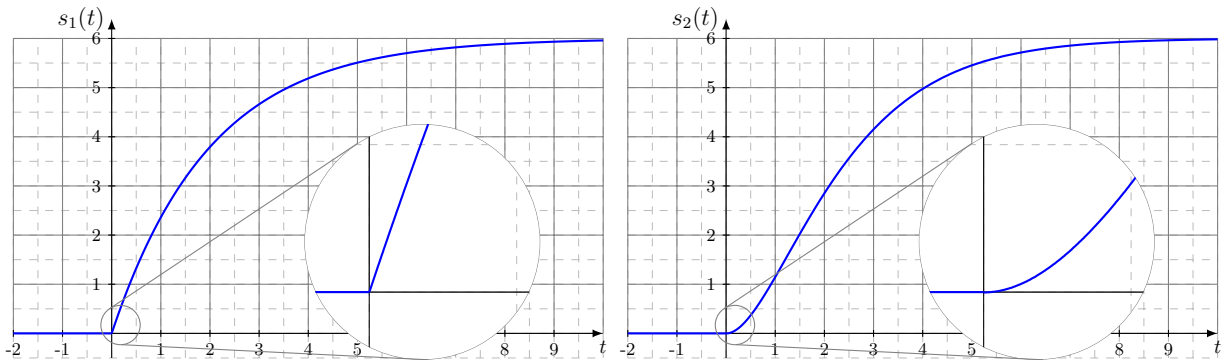
b)  $\frac{1}{T} \int_0^T \cos^2(\omega t) dt$  .....

## Régimes transitoires

### Entraînement 16.2 — Premier/second ordre.



Soit les deux courbes  $s_1(t)$  et  $s_2(t)$  respectivement à gauche et à droite sur la figure ci-dessous.



Parmi les propositions suivantes,

(a)  $\frac{ds}{dt} - \frac{s}{\tau} = \frac{E}{\tau}$

(c)  $\frac{ds}{dt} + \frac{s}{\tau} = \frac{E}{\tau}$

(e)  $\frac{d^2s}{dt^2} + \omega_0^2 s = \omega_0^2 E$

(b)  $\frac{ds}{dt} + \frac{s}{\tau} = 0$

(d)  $\frac{d^2s}{dt^2} + \frac{\omega_0}{Q} \frac{ds}{dt} + \omega_0^2 s = \omega_0^2 E$

(f)  $\frac{d^2s}{dt^2} - \frac{\omega_0}{Q} \frac{ds}{dt} + \omega_0^2 s = \omega_0^2 E$

où  $(\tau, \omega_0, Q, E) \in (\mathbb{R}_+^*)^4$ , laquelle correspond à

a)  $s_1(t)$ ? .....

b)  $s_2(t)$ ? .....



### Entraînement 16.3 — Stabilité d'un système linéaire continu invariant.



Qualifier de « stable » ou d'« instable » les systèmes décrits par les équations différentielles suivantes. Les signaux  $s$ ,  $r$  et  $v$  sont les signaux de sortie des systèmes étudiés tandis que le signal  $e$  est un signal d'entrée. Toute autre notation renvoie à des constantes strictement positives.

a)  $\frac{d^2s}{dt^2} = \omega_0^2 s$  .....       b)  $\tau \frac{ds}{dt} + s = -e$  .....

$\frac{d^2r}{dt^2} - \omega_0^2 r = -g \cos \theta$  si  $\theta > \pi/2$  .....

$\frac{d^2s}{dt^2} + \frac{\omega_0}{Q}(1 - H_0 A) \frac{ds}{dt} + \omega_0^2 s = \omega_0^2 e$  si  $H_0 A \leq 1$  .....

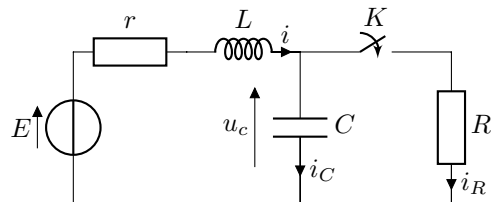
$\frac{d^2v}{dt^2} + \frac{1}{LC} \left( RC - \frac{L}{r} \right) \frac{dv}{dt} + \frac{1}{LC} \left( 1 - \frac{R}{r} \right) v = 0$  si  $R > r$  et  $R < \frac{L}{rC}$  .....

### Entraînement 16.4 — Continuité (I).



On considère le circuit ci-contre. L'interrupteur  $K$  est ouvert depuis très longtemps. On le ferme à l'instant  $t = 0$ .

Trois étudiants comparent leurs analyses de ce circuit à l'instant  $t = 0^-$ , l'instant  $t = 0^+$  et lorsque  $t \rightarrow +\infty$ .



a) À  $t = 0^-$ , parmi les trois propositions ci-dessous, laquelle est correcte? .....

Étudiant ① :

$$\begin{aligned} i(0^-) &= 0 \\ i_R(0^-) &= 0 \\ i_C(0^-) &= 0 \\ u_C(0^-) &= 0 \end{aligned}$$

Étudiant ② :

$$\begin{aligned} i(0^-) &= E/R \\ i_R(0^-) &= 0 \\ i_C(0^-) &= E/R \\ u_C(0^-) &= 0 \end{aligned}$$

Étudiant ③ :

$$\begin{aligned} i(0^-) &= 0 \\ i_R(0^-) &= 0 \\ i_C(0^-) &= 0 \\ u_C(0^-) &= E \end{aligned}$$

b) À  $t = 0^+$ , parmi les trois propositions ci-dessous, laquelle est correcte? .....

Étudiant ① :

$$\begin{aligned} i(0^+) &= 0 \\ i_R(0^+) &= E/R \\ i_C(0^+) &= -E/R \\ u_C(0^+) &= E \end{aligned}$$

Étudiant ② :

$$\begin{aligned} i(0^+) &= E/R \\ i_R(0^+) &= 0 \\ i_C(0^+) &= E/R \\ u_C(0^+) &= 0 \end{aligned}$$

Étudiant ③ :

$$\begin{aligned} i(0^+) &= 0 \\ i_R(0^+) &= E/R \\ i_C(0^+) &= 0 \\ u_C(0^+) &= E \end{aligned}$$

c) À  $t = +\infty$ , parmi les trois propositions ci-dessous, laquelle est correcte? .....

Étudiant ① :

$$\begin{aligned} i(\infty) &= E/(R+r) \\ i_R(\infty) &= E/(R+r) \\ i_C(\infty) &= 0 \\ u_C(\infty) &= \frac{R}{R+r} E \end{aligned}$$

Étudiant ② :

$$\begin{aligned} i(\infty) &= E/R \\ i_R(\infty) &= E/R \\ i_C(\infty) &= 0 \\ u_C(\infty) &= 0 \end{aligned}$$

Étudiant ③ :

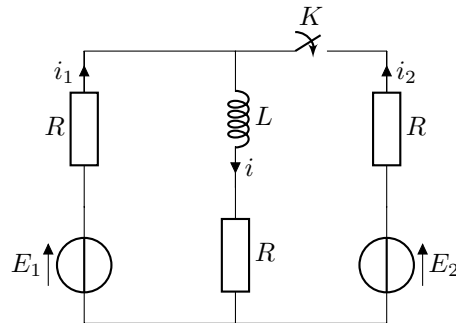
$$\begin{aligned} i(\infty) &= E/r \\ i_R(\infty) &= E/R \\ i_C(\infty) &= E/r - E/R \\ u_C(\infty) &= E \end{aligned}$$

**Entraînement 16.5 — Continuité (II).**



On considère le circuit ci-dessous.

L'interrupteur  $K$  est ouvert depuis très longtemps. On le ferme à l'instant  $t = 0$ .



Trois étudiants comparent leurs analyses de ce circuit :

- à l'instant  $t = 0^-$ ,
- à l'instant  $t = 0^+$
- et lorsque  $t \rightarrow +\infty$ .

a) À  $t = 0^-$ , parmi les trois propositions ci-dessous, laquelle est correcte? .....

Étudiant ① :

$$\begin{aligned} i(0^-) &= E_1/2R \\ i_1(0^-) &= E_1/2R \\ i_2(0^-) &= 0 \end{aligned}$$

Étudiant ② :

$$\begin{aligned} i(0^-) &= E_1/R \\ i_1(0^-) &= E_1/R \\ i_2(0^-) &= E/R \end{aligned}$$

Étudiant ③ :

$$\begin{aligned} i(0^-) &= E_1/2R \\ i_1(0^-) &= 0 \\ i_2(0^-) &= 0 \end{aligned}$$

b) À  $t = 0^+$ , parmi les trois propositions ci-dessous, laquelle est correcte? .....

Étudiant ① :

$$\begin{aligned} i(0^+) &= E_1/R \\ i_1(0^+) &= \frac{4E_1 - 2E_2}{3R} \\ i_2(0^+) &= \frac{2E_2 - E_1}{3R} \end{aligned}$$

Étudiant ② :

$$\begin{aligned} i(0^+) &= E_1/2R \\ i_1(0^+) &= E_1/4R \\ i_2(0^+) &= E_1/4R \end{aligned}$$

Étudiant ③ :

$$\begin{aligned} i(0^+) &= E_1/2R \\ i_1(0^+) &= \frac{3E_1 - 2E_2}{4R} \\ i_2(0^+) &= \frac{2E_2 - E_1}{4R} \end{aligned}$$

c) À  $t = +\infty$ , parmi les trois propositions ci-dessous, laquelle est correcte? .....

Étudiant ① :

$$\begin{aligned} i(\infty) &= \frac{E_1 + E_2}{3R} \\ i_1(\infty) &= E_1/3R \\ i_2(\infty) &= E_2/3R \end{aligned}$$

Étudiant ② :

$$\begin{aligned} i(\infty) &= \frac{E_1 + E_2}{2R} \\ i_1(\infty) &= E_1/2R \\ i_2(\infty) &= E_2/2R \end{aligned}$$

Étudiant ③ :

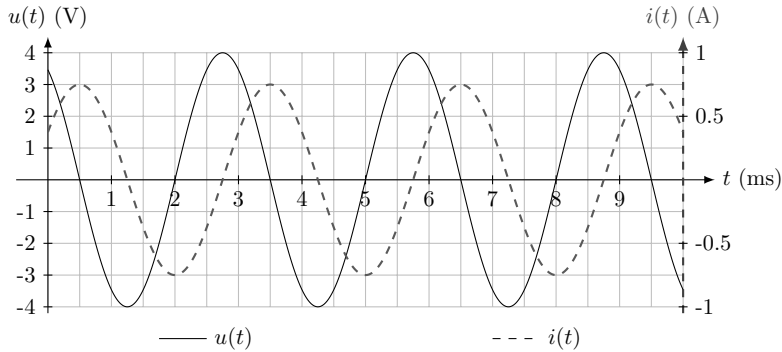
$$\begin{aligned} i(\infty) &= \frac{E_1 + E_2}{3R} \\ i_1(\infty) &= \frac{2E_1 - E_2}{3R} \\ i_2(\infty) &= \frac{2E_2 - E_1}{3R} \end{aligned}$$

# Régimes oscillants forcés

## (📊) Entraînement 16.6 — Qui est-ce (I) ?



Un étudiant a mesuré la tension et l'intensité électrique traversant un dipôle dont les mesures sont représentées ci-dessous.



Un peu étourdi, il a oublié si ces courbes correspondent à celles mesurées aux bornes d'un condensateur ou d'une bobine.

Aidez-le à le retrouver !

a) Quelle est l'amplitude de l'intensité ?

.....

b) Quelle est l'amplitude de la tension ?

.....

c) Quelle est la fréquence des signaux ? .....

d) Comment est la tension par rapport à l'intensité électrique ?

(a) en avance

(b) en retard

.....

e) Le déphasage de la tension par rapport à l'intensité vaut :

(a)  $-\frac{\pi}{2}$

(b)  $+\frac{\pi}{2}$

(c)  $-\pi$

(d)  $+\pi$

.....

f) Le dipôle étudié est alors :

(a) une bobine d'impédance  $jL\omega$

(b) un condensateur d'admittance  $jC\omega$

.....

g) Le cas échéant déterminer la valeur de la capacité ou de l'inductance de ce dipôle.

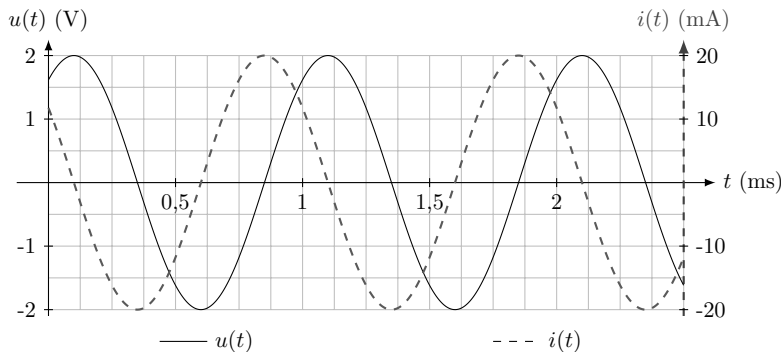
On prendra  $\frac{1}{\pi} \simeq 0,32$ .

.....

**Entraînement 16.7 — Qui est-ce (II) ?**



Un étudiant a mesuré la tension et l'intensité électrique traversant un dipôle dont les mesures sont représentées ci-contre.



Un peu étourdi, il a oublié si ces courbes correspondent à celles mesurées aux bornes d'un condensateur ou d'une bobine.

Aidez-le à le retrouver !

a) Comment est la tension par rapport à l'intensité électrique ?

(a) en avance

(b) en retard

b) Le déphasage de la tension par rapport à l'intensité électrique vaut :

(a)  $-\frac{\pi}{2}$

(b)  $+\frac{\pi}{2}$

(c)  $-\pi$

(d)  $+\pi$

c) Le dipôle étudié est donc :

(a) une bobine d'impédance  $jL\omega$

(b) un condensateur d'admittance  $jC\omega$

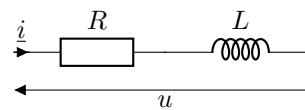
d) Le cas échéant déterminer la valeur de la capacité ou de l'inductance de ce dipôle.

On prendra  $\frac{1}{2\pi} \simeq 16$ .

**Entraînement 16.8 — Caractéristiques d'un montage RL (I).**



On considère l'association de dipôles ci-contre.



a) L'impédance de cette association est de la forme :

(a)  $\underline{Z} = \frac{R + jL\omega}{jLR\omega}$

(b)  $\underline{Z} = R + jL\omega$

(c)  $\underline{Z} = R + \frac{1}{jL\omega}$

On note  $U_0$  et  $I_0$  les amplitudes respectives de la tension  $u(t)$  et de l'intensité électrique  $i(t)$ . On note  $\varphi$  le déphasage de la tension par rapport à l'intensité électrique (c'est l'argument de  $\underline{Z}$ ).

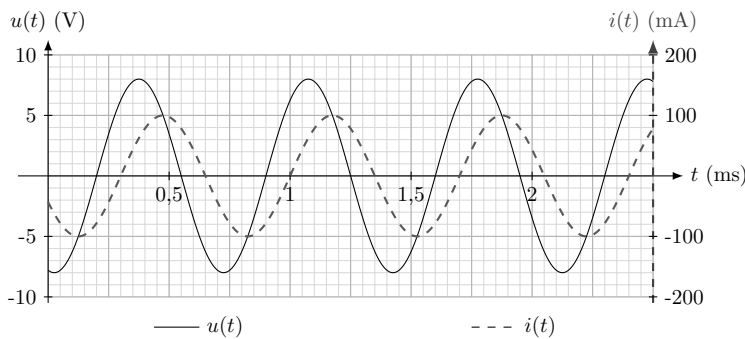
b) Les grandeurs  $L$  et  $R$  vérifient le système :

(a) 
$$\begin{cases} \frac{R^2 + (L\omega)^2}{(LR\omega)^2} = \left(\frac{U_0}{I_0}\right)^2 \\ \frac{L\omega}{R} = \tan\left(\frac{\pi}{2} + \varphi\right) \end{cases}$$

(b) 
$$\begin{cases} R^2 + \frac{1}{(L\omega)^2} = \left(\frac{U_0}{I_0}\right)^2 \\ \frac{1}{RL\omega} = \tan(\varphi) \end{cases}$$

(c) 
$$\begin{cases} R^2 + (L\omega)^2 = \left(\frac{U_0}{I_0}\right)^2 \\ \frac{L\omega}{R} = \tan(\varphi) \end{cases}$$

**Entraînement 16.9 — Caractéristiques d'un montage RL (II).**



La tension  $u(t)$  et l'intensité électrique  $i(t)$  de l'association série d'une bobine et d'un conducteur ohmique sont mesurées expérimentalement (courbes ci-contre). L'impédance de ce montage est

$$\underline{Z} = R + jL\omega.$$

On peut montrer que  $R$ ,  $L$  et  $\omega$  vérifient le système :

$$\begin{cases} R^2 + (L\omega)^2 = \left(\frac{U_0}{I_0}\right)^2 \\ \frac{L\omega}{R} = \tan(\varphi), \end{cases}$$

où  $U_0$  et  $I_0$  sont respectivement les amplitudes de la tension  $u(t)$  et de l'intensité électrique  $i(t)$  tandis que  $\varphi$  est le déphasage de la tension par rapport à l'intensité électrique.

a) La pulsation des signaux est :

- (a)  $8,98 \times 10^2 \text{ rad} \cdot \text{s}^{-1}$     (b)  $8,98 \times 10^3 \text{ rad} \cdot \text{s}^{-1}$     (c)  $8,98 \times 10^4 \text{ rad} \cdot \text{s}^{-1}$

b) Quelle est la valeur du décalage temporel  $\delta t$  entre l'extinction de la tension et celle de l'intensité électrique ?

- (a)  $-0,1 \text{ ms}$     (b)  $-0,2 \text{ ms}$     (c)  $0,1 \text{ ms}$     (d)  $0,2 \text{ ms}$

c) Le déphasage  $\varphi$  de la tension par rapport à l'intensité électrique vaut :

- (a)  $\frac{\pi}{3} \text{ rad}$     (b)  $-\frac{\pi}{3} \text{ rad}$     (c)  $\frac{2}{7}\pi \text{ rad}$     (d)  $-\frac{2}{7}\pi \text{ rad}$

En résolvant le système, déterminer :

d) la valeur de la résistance  $R$  .....

e) la valeur de l'inductance  $L$  .....

**Entraînement 16.10 — Équivalents.**



On considère les trois fonctions de transfert suivantes :

$$\underline{H}_1(jx) = \frac{4}{1 - x^2 + 3jx}, \quad \underline{H}_2(jx) = \frac{1 + 2jx}{1 - 3jx} \quad \text{et} \quad \underline{H}_3(jx) = \frac{2 + 3jx}{1 + 5j\left(x - \frac{1}{x}\right)}.$$

Pour chacune des fonctions de transfert, trouver un équivalent de la forme  $Ax^n$  au module des fonctions de transfert, où  $A \in \mathbb{R}$  et  $n \in \mathbb{Z}$  sont deux constantes à déterminer.

a)  $|\underline{H}_1(jx)|$  pour  $x \rightarrow 0$  .....

d)  $|\underline{H}_2(jx)|$  pour  $x \rightarrow \infty$  .....

b)  $|\underline{H}_1(jx)|$  pour  $x \rightarrow \infty$  .....

e)  $|\underline{H}_3(jx)|$  pour  $x \rightarrow 0$  .....

c)  $|\underline{H}_2(jx)|$  pour  $x \rightarrow 0$  .....

f)  $|\underline{H}_3(jx)|$  pour  $x \rightarrow \infty$  .....

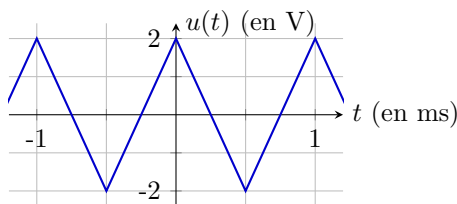
# Analyse spectrale



## Entraînement 16.11 — DSF d'un signal triangulaire.



L'oscillogramme d'un signal triangulaire  $u(t)$ , d'amplitude  $U$  et de période  $T$ , est représenté ci-dessous.



Par lecture graphique, déterminer les propriétés du signal :

a)  $T$  .....       b)  $U$  .....

c) Quelle est la valeur de la fréquence fondamentale  $f$  du signal? .....

d) Laquelle des propositions ci-dessous décrit le signal triangulaire sur l'intervalle  $\left[-\frac{T}{2}, \frac{T}{2}\right]$ ?

Ⓐ  $u(t) = \begin{cases} U(1 + 4t/T) & \text{si } t \in [0, T/2] \\ U(1 - 4t/T) & \text{si } t \in [-T/2, 0] \end{cases}$

Ⓒ  $u(t) = \begin{cases} U(1 - 2t/T) & \text{si } t \in [0, T/2] \\ U(1 + 2t/T) & \text{si } t \in [-T/2, 0] \end{cases}$

Ⓑ  $u(t) = \begin{cases} U(1 - 4t/T) & \text{si } t \in [0, T/2] \\ U(1 + 4t/T) & \text{si } t \in [-T/2, 0] \end{cases}$

Ⓓ  $u(t) = \begin{cases} U(1 + 2t) & \text{si } t \in [0, T/2] \\ U(1 - 2t) & \text{si } t \in [-T/2, 0] \end{cases}$

.....

Le signal triangulaire peut se décomposer en série de Fourier :

$$u(t) = a_0 + \sum_{n=1}^{\infty} a_n \cos(2\pi n f t) + b_n \sin(2\pi n f t),$$

avec  $a_0$  la moyenne de  $u(t)$ ,  $a_n$  et  $b_n$  les coefficients des harmoniques définis par :

$$a_n = \frac{2}{T} \int_0^T u(t) \cos(n 2\pi f t) dt \quad \text{et} \quad b_n = \frac{2}{T} \int_0^T u(t) \sin(n 2\pi f t) dt.$$

e) Que vaut  $a_0$ ? .....

Ici, il est admis que, pour tout  $n \in \mathbb{N}$ ,  $b_n = 0$  et

$$a_n = \frac{4}{T} \int_0^{T/2} u(t) \cos(2\pi f n t) dt.$$

f) À l'aide d'une intégration par parties, déterminer lesquelles des propositions suivantes sont correctes :

Ⓐ  $a_n = 0$  si  $n$  pair

Ⓒ  $a_n = 0$  si  $n$  impair

Ⓑ  $a_n = \frac{8U}{\pi^2} \frac{1}{n^2}$  si  $n$  pair

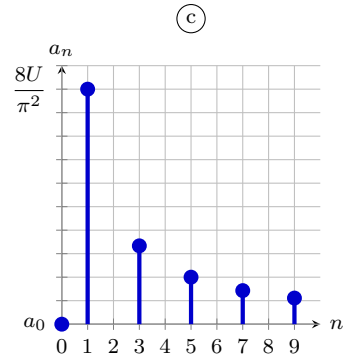
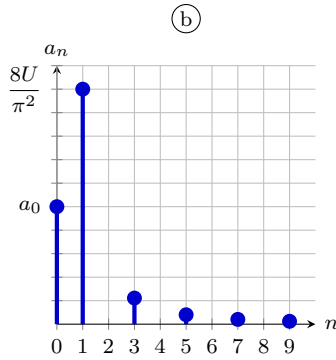
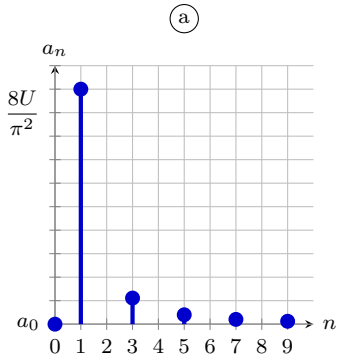
Ⓓ  $a_n = \frac{8U}{\pi^2} \frac{1}{n^2}$  si  $n$  impair

.....



g) Lequel des spectres ci-dessous correspond au spectre en amplitude du signal triangulaire ?

.....



**Entraînement 16.12 — Spectre d'un signal carré.**



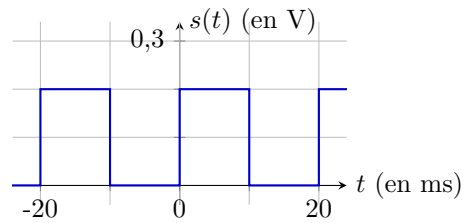
L'oscillogramme d'un signal carré  $s(t)$ , de moyenne  $s_0$ , d'amplitude  $S_m$  et de période  $T$ , est représenté ci-contre.

Par lecture graphique, déterminer les propriétés du signal :

a)  $T$  .....

c)  $S_m$  .....

b)  $s_0$  .....



d) Quelle est la valeur de la fréquence fondamentale  $\nu$  du signal ? .....

Le signal carré peut se décomposer en série de Fourier :

$$s(t) = \sum_{n=-\infty}^{\infty} \underline{c}_n e^{in2\pi\nu t},$$

avec  $\underline{c}_n$  les coefficients complexes des harmoniques définis par :

$$\underline{c}_n = \frac{1}{T} \int_0^T s(t) e^{-in2\pi\nu t} dt \quad \text{pour } n \in \mathbb{Z}.$$

e) À l'aide de la définition de la valeur moyenne, déterminer la valeur de  $\underline{c}_0$  .....

f) En remarquant que  $s(t \in [T/2, T]) = 0$ , déterminer lesquelles des propositions suivantes sont correctes pour  $n \neq 0$  :

(a)  $\underline{c}_n = 0$  si  $n$  impair

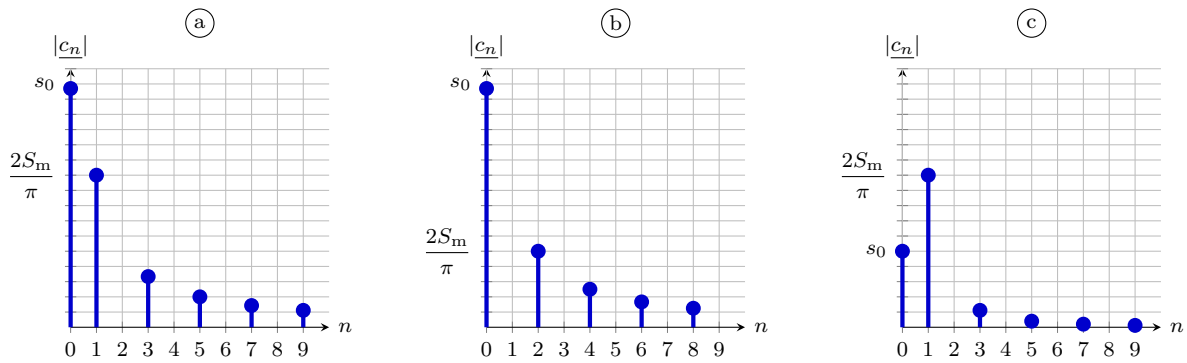
(c)  $\underline{c}_n = 0$  si  $n$  pair

(b)  $\underline{c}_n = \frac{2S_m}{i\pi} \frac{1}{n}$  si  $n$  impair

(d)  $\underline{c}_n = \frac{2S_m}{i\pi} \frac{1}{n}$  si  $n$  pair

.....

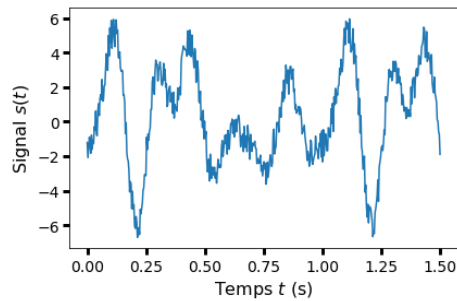
g) Lequel des spectres ci-dessous correspond au spectre en amplitude du signal carré? ....



**Entraînement 16.13 — Fréquence d'échantillonnage.**



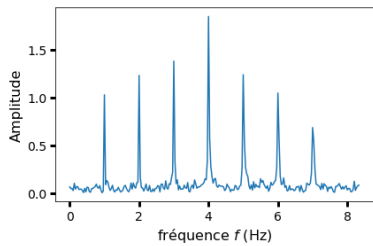
L'acquisition du signal  $s(t)$  ci-dessous est effectuée en l'échantillonnant en  $N$  points équidistants répartis sur un intervalle  $[0, t_{\max}]$ .



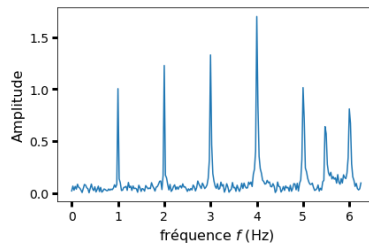
a) Quelle est la fréquence  $f$  du signal? .....

On effectue cette acquisition sur trois durées  $t_{\max}$  différentes.

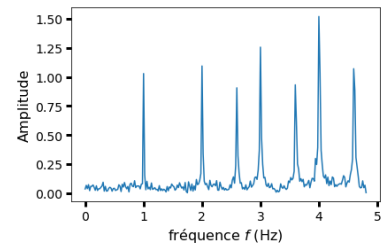
Les spectres ainsi obtenus, similaires mais pas parfaitement identiques, sont représentés ci-dessous.



(a)  $N = 500$ ;  $T_{\max} = 30,0$  s



(b)  $N = 500$ ;  $T_{\max} = 40,0$  s



(c)  $N = 500$ ;  $T_{\max} = 52,0$  s

Quelle est la fréquence d'échantillonnage  $f_e = \frac{N}{T_{\max}}$  dans les conditions expérimentales du spectre :


b) (a) .....

c) (b) .....

d) (c) .....

D'après l'analyse de Fourier, un signal périodique se décompose en une somme de signaux sinusoïdaux dont les fréquences sont des multiples de la fréquence du fondamental, fréquence du signal.

- e) Lequel des spectres (a), (b) ou (c) vérifie cette propriété? .....
- f) Comment s'appelle l'effet responsable des différences entre ces spectres? .....
- g) Quelle condition doit être remplie pour ne pas observer ce phénomène?
- (a)  $f_e \geq f$
- (b)  $f_e \geq 2f$
- (c)  $f_e \geq nf$  avec  $n$  l'harmonique qu'on souhaite observer.
- (d)  $f_e \geq 2nf$  avec  $n$  l'harmonique qu'on souhaite observer.
- .....

 **Entraînement 16.14 — Filtrage numérique.**



Un filtre, d'entrée  $e(t)$  et de sortie  $s(t)$ , possède une fonction de transfert est  $\underline{H} = \frac{H_0}{1 + j\frac{\omega}{\omega_0}}$  avec  $H_0 > 0$  un terme identifié au gain statique et  $\omega_0$  la pulsation caractéristique du filtre.

- a) À l'aide d'une analyse qualitative de la fonction de transfert, déterminer la nature et l'ordre du filtre :
- (a) passe-bas d'ordre 1
- (b) passe-bas d'ordre 2
- (c) passe-haut d'ordre 1
- (d) passe-haut d'ordre 2
- (e) passe-bande d'ordre 2
- (f) coupe-bande d'ordre 2
- .....
- b) Utiliser la fonction de transfert pour déterminer l'équation différentielle liant  $e$  et  $s$ .
- .....

Une chaîne d'acquisition permet de numériser respectivement les signaux analogiques  $e$  et  $s$  en des signaux numériques  $e_n$  et  $s_n$  définis par

$$e_n = e(t = t_n) \quad \text{et} \quad s_n = s(t = t_n) \quad \text{où} \quad t_n = nT_e$$

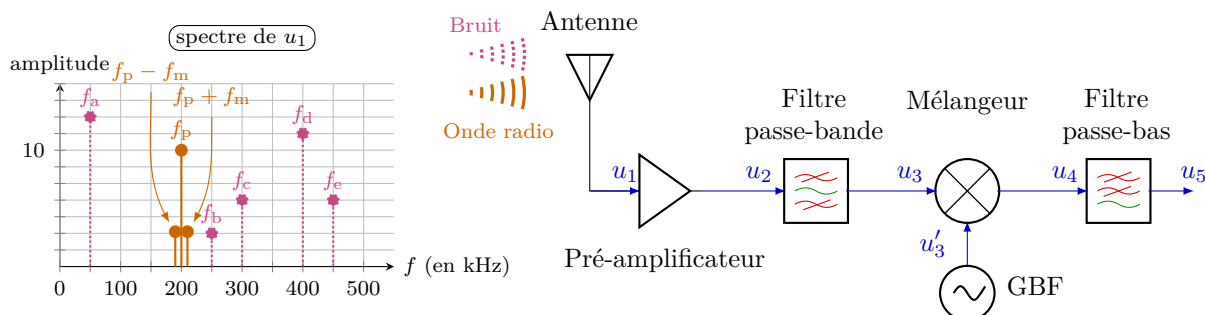
avec  $T_e$  la période d'échantillonnage et  $n$  le numéro d'un échantillon.

- c) En approximant la dérivée par un taux de variation entre  $t_{n+1}$  et  $t_n$  (schéma d'Euler explicite), laquelle des relations de récurrence proposées ci-dessous permet de calculer la suite  $s_n$  pour tout  $n$  si  $s_0$  est connue?
- (a)  $s_n = (1 - T_e\omega_0)s_{n+1} + T_e\omega_0H_0e_{n+1}$
- (b)  $s_{n+1} = (1 - T_e\omega_0)s_n + T_e\omega_0H_0e_n$
- (c)  $s_{n+1} = s_n + T_e\omega_0H_0e_{n+1}$
- (d)  $s_{n+1} = s_n + T_e\omega_0H_0e_n$
- .....

### Entraînement 16.15 — Démodulation d'amplitude.



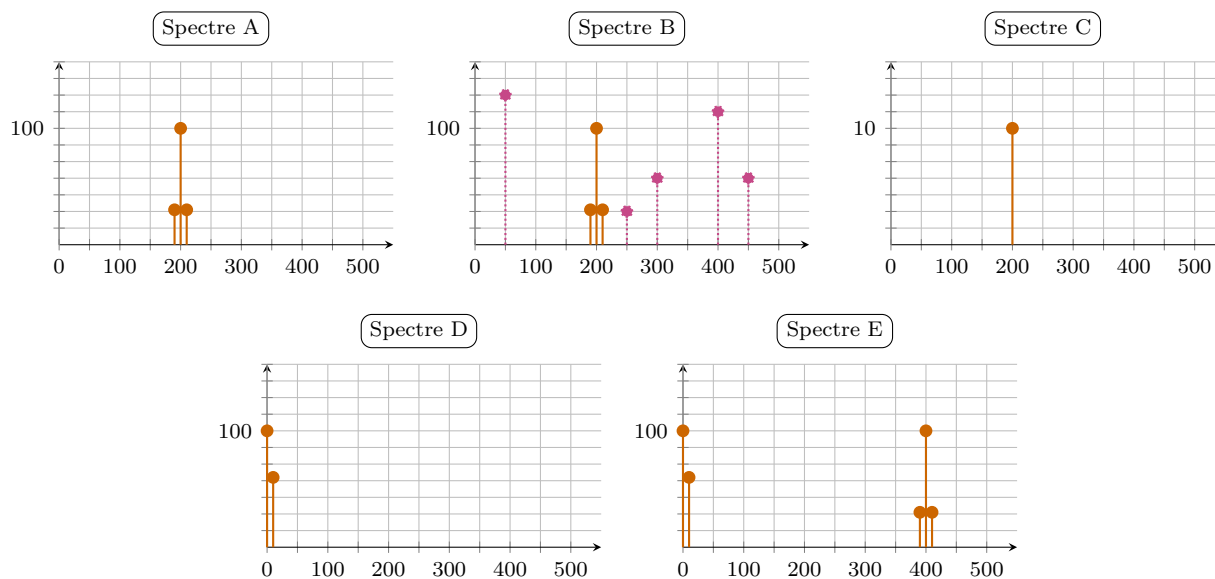
Le signal  $u(t)$  modulé en amplitude est émis sous forme d'onde radio contenant les fréquences  $f_p$ ,  $f_p + f_m$  et  $f_p - f_m$ . Une antenne capte ce signal, mais également du bruit contenant les fréquences  $f_a$ ,  $f_b$ ,  $f_c$ ,  $f_d$  et  $f_e$ . Le spectre du signal  $u_1(t)$  généré par l'antenne est tracé ci-dessous.



Le signal  $u_1(t)$  capté est envoyé successivement au travers de :

- un pré-amplificateur de gain  $A = 10$ ,
- un filtre passe-bande idéal de bande-passante  $[175 \text{ kHz}, 225 \text{ kHz}]$ ,
- un mélangeur produisant un signal  $u_4(t) = ku_3(t) \times u'_3(t)$  avec  $k = 0,1 \text{ V}^{-1}$  et  $u'_3(t) = U_p \cos(2\pi f_p t)$ ,
- un filtre passe-bas idéal de fréquence de coupure  $f_c = 60 \text{ kHz}$ .

Les spectres des signaux  $u_2(t)$ ,  $u_3(t)$ ,  $u'_3(t)$ ,  $u_4(t)$  et  $u_5(t)$  sont représentés ci-dessous. Les titres des axes ont été retirés pour plus de clarté.



Attribuer un des spectres proposés ci-dessus à chaque signal :

- |                   |                      |                    |                      |                   |                      |
|-------------------|----------------------|--------------------|----------------------|-------------------|----------------------|
| a) $u_2(t)$ ..... | <input type="text"/> | c) $u'_3(t)$ ..... | <input type="text"/> | e) $u_5(t)$ ..... | <input type="text"/> |
| b) $u_3(t)$ ..... | <input type="text"/> | d) $u_4(t)$ .....  | <input type="text"/> |                   |                      |



### Entraînement 16.16 — Figure de battements, modulation d'amplitude.



Une station de radio émet un signal modulé en amplitude :

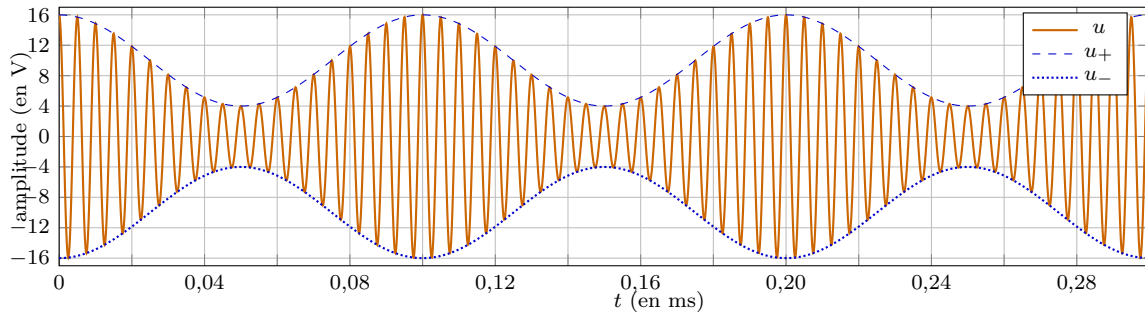
$$u(t) = U_p \cos(2\pi f_p t) \times (1 + m \cos(2\pi f_m t))$$

avec  $f_m$  la fréquence du message sonore transporté par la porteuse, de fréquence  $f_p$  et d'amplitude  $U_p$ , avec un taux de modulation  $0 < m < 1$ .

Numériquement,  $f_p$  est très grande devant  $f_m$  ; ainsi,  $u(t)$  peut être vu comme un signal oscillant « rapidement » à la période  $T_p$  entre les enveloppes

$$u_+(t) = +U_p[1 + m \cos(2\pi f_m t)] \quad \text{et} \quad u_-(t) = -U_p[1 + m \cos(2\pi f_m t)],$$

des fonctions oscillant « lentement » à la période  $T_m$ .



À l'aide d'une lecture graphique de l'oscillogramme, déterminer la valeur des grandeurs suivantes :

- a)  $T_m$        b)  $T_p$  .       c)  $U_p$  .       d)  $m$  .

En déduire les fréquences caractéristiques du signal  $u(t)$  modulé en amplitude :

- e)  $f_p$  .....       f)  $f_m$  .....

#### Réponses mélangées

stable	(a)	$\frac{2}{3}x^0$	20 ms	(c)	(b)	0,1 V	(c)	12,5 Hz
Repliement de spectre		0,1 V	(b)	(a)	200 kHz	1 ms	(b)	50 Hz
$\frac{3}{5}x^0$	$1,6 \mu\text{F}$	$4x^0$	$1x^0$	E	(c)	(b)	(b) et (c)	$4x^{-2}$ stable
(a)	(a)	0	$\frac{2}{5}x^1$	4 V	(a) et (d)	A	D	2 V 9,61 Hz
0,005 ms	10 kHz	333 Hz	0,1 V	(a)	1 Hz	(b)	16,7 Hz	(a)
(c)	(d)	instable	7 mH	(b)	1 kHz	$\frac{ds}{dt} + \omega_0 s = H_0 \omega_0 e$	$\frac{1}{2}$	
(a)	2,56 mH	(a)	(a)	B	(b)	0,6	instable	(c) 0,1 ms
(d)	0	10 V	0,75 A	(a)	C	(a)	50 $\Omega$	instable (c) 0

► Réponses et corrigés page 310

# Circuits logiques

## Pour bien commencer



### Entraînement 17.1 — Bataille de mémoires.



On quantifie l'espace mémoire d'un support de stockage d'information en nombre d'octets, mais il existe deux systèmes d'unités différents en fonction du multiple choisi.

On distingue :

- les *kilooctets*, *mégaoctets* ou *gigaoctets*, qui sont basés sur des multiples de 10 :
  - ▷  $1 \text{ ko} = 1 \times 10^3 \text{ o}$
  - ▷  $1 \text{ Mo} = 1 \times 10^6 \text{ o}$
  - ▷  $1 \text{ Go} = 1 \times 10^9 \text{ o}$
- les *kibioctets*, *mébioctets* ou *gébioctets*, qui sont basés sur des multiples de 2 :
  - ▷  $1 \text{ Kio} = 2^{10} \text{ o}$
  - ▷  $1 \text{ Mio} = 2^{20} \text{ o}$
  - ▷  $1 \text{ Gio} = 2^{30} \text{ o}$

a) Déterminer quel fichier MP3 est le plus volumineux.

- (a) 3 746 ko
- (b) 3 221 Kio
- (c) 3,746 Mio

.....

b) Déterminer quel jeu est le moins volumineux.

- (a) 4,588 Gio
- (b)  $2^{10} \times 4,482 \text{ Mio}$
- (c)  $2^{10} \times 4,653 \text{ Mo}$

.....

c) Déterminer quel ordinateur a la mémoire la plus importante.

- (a)  $2^{32} \times 2,845 \text{ ko}$
- (b)  $2^{10} \times 1,368 \text{ Gio}$
- (c)  $2^3 \times 0,158 \text{ To}$

.....

# Écriture d'un nombre

## Entraînement 17.2 — Encodage : du décimal au binaire.



Afin d'encoder un entier de la base décimale, par exemple 78, vers la base binaire on utilise le principe suivant : on effectue la division euclidienne par deux du nombre à encoder et on réitère l'opération avec le quotient obtenu jusqu'à obtenir 0. Par exemple :

$$78/2 \xrightarrow{\text{reste } 0} 39/2 \xrightarrow{\text{reste } 1} 19/2 \xrightarrow{\text{reste } 1} 9/2 \xrightarrow{\text{reste } 1} 4/2 \xrightarrow{\text{reste } 0} 2/2 \xrightarrow{\text{reste } 0} 1/2 \xrightarrow{\text{reste } 1} 0.$$

La lecture de droite à gauche des restes obtenus permet d'écrire le nombre binaire correspondant : 1001110.

Déterminer l'encodage dans la base binaire des entiers suivants :

a) 12

(a) 1000

(b) 1100

(c) 1101

.....

b) 35

(a) 100101

(b) 100011

(c) 100111

.....

c) 123

(a) 1111011

(b) 1111010

(c) 1110001

.....

d) 255

(a) 01111111

(b) 11111110

(c) 11111111

.....

e) Combien de valeurs peut prendre un octet (nombre binaire composé de 8 chiffres) ? ....

## Entraînement 17.3 — Décodage : du binaire au décimal.



Pour décrypter un nombre binaire, par exemple 1101, et l'exprimer dans la base décimale, on utilise le principe suivant : chaque chiffre du nombre binaire correspond à un coefficient associé à une puissance de 2. Cette puissance dépend de la place du chiffre dans le nombre : le chiffre le plus à droite est à la position 0 et est le coefficient associé à  $2^0$  ; le chiffre le plus à gauche est à la dernière position  $p$  et est le coefficient associé à  $2^p$ . Par exemple :

$$1101 \rightarrow 1 \times 2^3 + 1 \times 2^2 + 0 \times 2^1 + 1 \times 2^0 = 13.$$

La somme des puissances 2 pondérées par les coefficients 1 ou 0 de 1101 donne 13.

Déterminer les nombres décimaux correspondant aux nombres binaires suivants.

a) 1111

(a) 13

(b) 15

(c) 17

.....

c) 101010

(a) 42

(b) 54

(c) 68

.....

b) 10101

(a) 17

(b) 19

(c) 21

.....

d) 10111101

(a) 181

(b) 189

(c) 193

.....

e) Que vaut en binaire le résultat du calcul  $\frac{101010}{1111 - 1101}$  ?

.....

**Entraînement 17.4 — Mystérieux 121...**



L'écriture d'un nombre repose sur une décomposition en puissances successives d'un nombre appelé *base*.

Par exemple, le nombre 1908 en base 10 s'écrit  $1908|_{10} = 1 \times 10^3 + 9 \times 10^2 + 0 \times 10^1 + 8 \times 10^0$ .

Autre exemple : on a l'égalité  $1642|_7 = 1 \times 7^3 + 6 \times 7^2 + 4 \times 7^1 + 2 \times 7^0$ .

Donner la décomposition des nombres suivants :

a)  $121|_{10}$  .....       b)  $121|_3$  .....

c) Quelles sont les relations correctes ?

- (a)  $121|_{10} \neq 121|_3$                        (c)  $121|_3 = 16|_{10}$   
 (b)  $3|_{121} = 10|_{121}$                        (d)  $121|_b = 121|_3$

.....

d) Donner la décomposition du nombre  $121|_b$  une base  $b > 2$  .....

e) Quel nombre  $x$  vérifie  $x^2 = 121|_b$  pour  $b > 2$  ?

- (a)  $b$                        (b)  $b^2$                        (c)  $b - 1$                        (d)  $b + 1$

.....

## Logique et tables de vérité

Les fonctions logiques			
Nom de la fonction	NON A	A ET B	A OU B
Symbole logique	$\bar{A}$	$A \cap B$	$A \cup B$
Formule logique	$1 - A$	$A \times B$	$A + B - A \times B$

**Entraînement 17.5 — Calculs logiques et lois de Morgan.**



Établir les formules logiques des écritures symboliques suivantes :

a)  $\bar{A} \cup \bar{B}$  .....       b)  $\bar{A} \cap \bar{B}$  .....

Établir les écritures symboliques des formules logiques suivantes :

c)  $1 - A \times B$  .....       d)  $1 - (A + B) - A \times B$  .....

e) Quelles sont les relations correctes ?

- (a)  $\overline{A \cap B} = \bar{A} \cap \bar{B}$                        (c)  $\overline{A \cup B} = \bar{A} \cup \bar{B}$   
 (b)  $\overline{A \cap B} = \bar{A} \cup \bar{B}$                        (d)  $\overline{A \cup B} = \bar{A} \cap \bar{B}$

Plusieurs réponses sont possibles.

.....



**Entraînement 17.6 — Des tables de vérité.**



On considère les quatre tables de vérité de portes logiques suivantes.

Porte OR

A	B	S <sub>1</sub>
0	0	0
1	0	1
0	1	1
1	1	1

Porte AND

A	B	S <sub>2</sub>
0	0	0
1	0	0
0	1	0
1	1	1

Porte NOR

A	B	S <sub>3</sub>
0	0	1
1	0	0
0	1	0
1	1	0

Porte NAND

A	B	S <sub>4</sub>
0	0	1
1	0	1
0	1	1
1	1	0

On considère aussi quatre formules à leur attribuer :

①  $S = 1 - A \times B$

③  $S = 1 - A - B + A \times B$

②  $S = A + B - A \times B$

④  $S = A \times B$

Attribuer à chaque porte logique la formule correspondante.

a) Porte OR .....

c) Porte NOR .....

b) Porte AND .....

d) Porte NAND .....

e) On applique la formule  $S = 1 - A - B + A \times B$ , en remplaçant  $A$  par  $S_2$  et  $B$  par  $S_3$ .

Quelle table de vérité obtient-on ?

(a)

A	B	S <sub>2</sub>	S <sub>3</sub>	S
0	0	0	1	1
1	0	0	0	1
0	1	0	0	0
1	1	1	0	0

(b)

A	B	S <sub>2</sub>	S <sub>3</sub>	S
0	0	0	1	0
1	0	0	0	0
0	1	0	0	1
1	1	1	0	1

(c)

A	B	S <sub>2</sub>	S <sub>3</sub>	S
0	0	0	1	0
1	0	0	0	1
0	1	0	0	1
1	1	1	0	0

(d)

A	B	S <sub>2</sub>	S <sub>3</sub>	S
0	0	0	1	1
1	0	0	0	0
0	1	0	0	0
1	1	1	0	1

.....

# Circuits de logique combinatoire

On rappelle les tables de vérité des fonctions logiques OR, AND, NOR, NAND, XOR et XNOR :

Porte OR			Porte AND			Porte NOR			Porte NAND			Porte XOR			Porte XNOR		
A	B	S <sub>1</sub>	A	B	S <sub>2</sub>	A	B	S <sub>3</sub>	A	B	S <sub>4</sub>	A	B	S <sub>5</sub>	A	B	S <sub>6</sub>
0	0	0	0	0	0	0	0	1	0	0	1	0	0	0	0	0	1
1	0	1	1	0	0	1	0	0	1	0	1	1	0	1	1	0	0
0	1	1	0	1	0	0	1	0	0	1	1	0	1	1	0	1	0
1	1	1	1	1	1	1	1	0	1	1	0	1	1	0	1	1	1

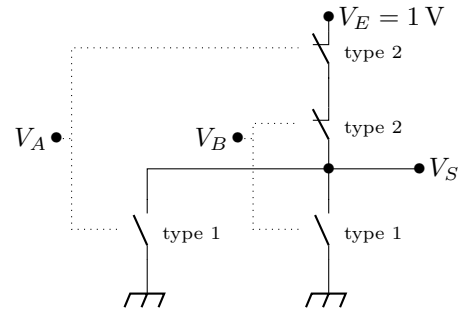
## Entraînement 17.7 — Un circuit logique.



On considère le circuit électrique ci-contre.

Il est composé de deux types de transistors qui fonctionnent comme des interrupteurs commandés en tension.

Le type 1 est considéré comme un interrupteur ouvert ou un interrupteur fermé si sa tension d'entrée est respectivement nulle ou non nulle. Le type 2 est considéré comme un interrupteur fermé ou un interrupteur ouvert si sa tension d'entrée est respectivement nulle ou non nulle.



Déterminer la valeur de la tension de sortie  $V_S$  en volts dans le cas où les tensions d'entrée sont telles que :

- a)  $V_A = 0 \text{ V}$  et  $V_B = 0 \text{ V}$  .....       c)  $V_A = 0 \text{ V}$  et  $V_B = 1 \text{ V}$  .....
- b)  $V_A = 1 \text{ V}$  et  $V_B = 0 \text{ V}$  .....       d)  $V_A = 1 \text{ V}$  et  $V_B = 1 \text{ V}$  .....
- e) S'agit-il d'une porte OR, AND, NOR ou bien NAND? .....

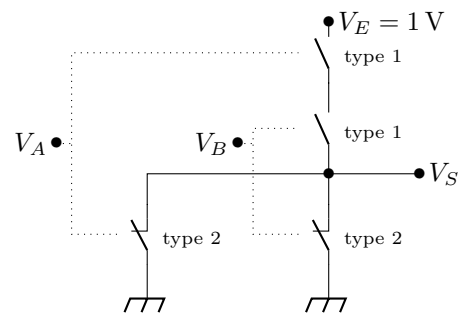
## Entraînement 17.8 — *Bis et repetita.*



On considère le circuit électrique ci-contre.

Il est composé de deux types de transistors qui fonctionnent comme des interrupteurs commandés en tension.

Le type 1 est considéré comme un interrupteur ouvert ou un interrupteur fermé si sa tension d'entrée est respectivement nulle ou non nulle. Le type 2 est considéré comme un interrupteur fermé ou un interrupteur ouvert si sa tension d'entrée est respectivement nulle ou non nulle.



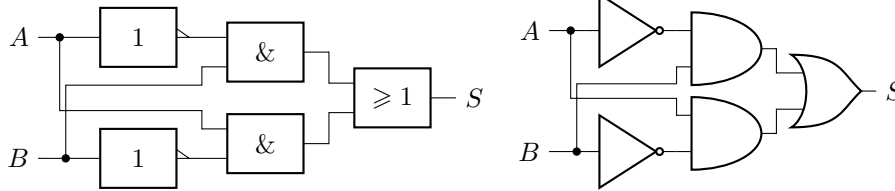
Déterminer la valeur de la tension de sortie  $V_S$  dans le cas où les tensions d'entrée sont telles que :

- a)  $V_A = 0 \text{ V}$  et  $V_B = 0 \text{ V}$  .....       c)  $V_A = 0 \text{ V}$  et  $V_B = 1 \text{ V}$  .....
- b)  $V_A = 1 \text{ V}$  et  $V_B = 0 \text{ V}$  .....       d)  $V_A = 1 \text{ V}$  et  $V_B = 1 \text{ V}$  .....
- e) S'agit-il d'une porte OR, AND, NOR ou bien NAND? .....

**Entraînement 17.9 — La porte mystère.**



On associe deux portes NO, deux portes AND et une porte OR selon une configuration représenté ci-après en utilisant les notations européenne (à gauche) et américaine (à droite) :



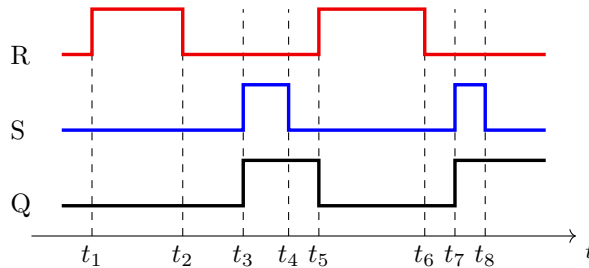
- a) Que vaut  $S$  si  $A = B = 0$ ? .....
- b) Que vaut  $S$  si  $A = B = 1$ ? .....
- e) Ce circuit est-t-il l'équivalent d'un XOR ou d'un XNOR? .....
- c) Que vaut  $S$  si  $A = 0$  et  $B = 1$ ? .....
- d) Que vaut  $S$  si  $A = 1$  et  $B = 0$ ? .....

## Circuits de logique séquentielle

**Entraînement 17.10 — Chronogramme d'une bascule RS.**



On s'intéresse à un type de circuit logique appelé bascule RS comportant deux entrées R et S et une sortie principale Q. Le chronogramme ci-après a pu être obtenu :



Pour chaque affirmation suivante, préciser si elle est vraie ou fausse.

- a) Si R et S sont au niveau logique 0, la valeur de Q dépend de l'état antérieur .....
- b) L'activation de R est une commande pour assurer d'avoir une sortie Q de niveau logique 1 .....
- c) Lorsque S passe au niveau logique 0, la sortie Q passe au niveau 1 .....

On rappelle qu'un circuit à logique séquentielle est *monostable* s'il présente un état stable dans lequel il peut rester indéfiniment et un état instable de durée déterminée (période) ; *bistable* s'il présente deux états stables, pouvant passer de l'un à l'autre par une impulsion extérieure de commande ; *astable* s'il n'y a pas d'état stable du système.

- d) La bascule correspond à un circuit monostable, bistable ou astable? .....

### Réponses mélangées

1     $1 - (A + B) + A + B$     10101    0 V    ④     $\overline{A \cup B}$     ③  
 ②    NOR     $1 \times 3^2 + 2 \times 3^1 + 1 \times 3^0$     ① ③    ②    Bistable    ①  
 0 V    0 V    0 V     $1 \times 10^2 + 2 \times 10^1 + 1 \times 10^0$     ②    ②    ①  
 ③    ③    ③    Faux     $1 \times b^2 + 2 \times b^1 + 1 \times b^0$     0 V    Vrai    0 V  
 256    ③    ② ④    1 V     $\overline{A \cap B}$     Faux    ②    XOR    0  
 ①    ③    1 V     $1 - A \times B$     AND    1    ④    ②    0

► Réponses et corrigés page 315

# Physique quantique

**Prérequis**

Onde progressive. Densité de probabilité de présence. État stationnaire en mécanique quantique. Normalisation d'une fonction d'onde. Coefficient de transmission. Principe de superposition.

**Constantes utiles**

- Constante de Planck  $h = 6,6 \times 10^{-34} \text{ kg} \cdot \text{m}^2 \cdot \text{s}^{-1}$
- Constante de Planck réduite :  $\hbar = \frac{h}{2\pi}$
- Constante d'Avogadro  $\mathcal{N}_A = 6,0 \times 10^{23} \text{ mol}^{-1}$

## Pour commencer



**Entraînement 18.1 — Caractère quantique.**



Un objet est qualifié de quantique dès lors que  $L \leq 100\lambda$ , avec  $L$  sa taille,  $\lambda$  sa longueur d'onde de de Broglie telle que  $\lambda = h/p$ , et  $p$  sa quantité de mouvement.

Calculer la longueur d'onde de de Broglie  $\lambda$  des objets ci-dessous.

a) Balle de pistolet :  $L = 10 \text{ mm}$  ;  $m = 10 \text{ g}$  ;  $v = 350 \text{ m} \cdot \text{s}^{-1}$

.....

b) Grain de pollen :  $L = 5 \mu\text{m}$  ;  $m = 5 \text{ ng}$  ;  $v = 2 \text{ cm} \cdot \text{s}^{-1}$

.....

c) Virus de l'hépatite B :  $L = 42 \text{ nm}$  ;  $m = 3 \times 10^{-18} \text{ g}$  ;  $v = 0,1 \text{ mm} \cdot \text{h}^{-1}$

.....

d) Molécule de  $\text{O}_2$  :  $L = 0,29 \text{ nm}$  ;  $M = 32,0 \text{ g} \cdot \text{mol}^{-1}$  ;  $v = 1\,800 \text{ km} \cdot \text{h}^{-1}$

.....

e) Quel(s) objet(s) pouvez-vous qualifier de quantique ?

- (a) une balle de pistolet
- (b) un grain de pollen
- (c) le virus de l'hépatite B
- (d) une molécule de  $\text{O}_2$

.....

**Entraînement 18.2 — Interférences.**



Prenons une expérience d'interférences impliquant un faisceau de particules quantiques. Ce faisceau est dirigé vers un dispositif à trois fentes contenues dans un même plan. Un détecteur est placé en un point M, à une grande distance du plan contenant les fentes.

Sans plus de détails sur la géométrie de l'interféromètre, voici les différentes configurations observées :

- si la fente n° 1 est ouverte alors l'amplitude de probabilité en M vaut  $\varphi_1(M) = 1/\sqrt{2}$ ;
- si la fente n° 2 est ouverte alors l'amplitude de probabilité en M vaut  $\varphi_2(M) = i/2$  avec  $i^2 = -1$ ;
- si la fente n° 3 est ouverte alors l'amplitude de probabilité en M vaut  $\varphi_3(M) = \frac{e^{-i\pi/2}}{\sqrt{6}}$ .

On rappelle que la densité de probabilité de présence est donnée par  $|\varphi(M)|^2$ .

Déterminer la densité de probabilité de détection d'une particule au voisinage de M lorsque :

- |  |  |
|--|--|
| a) seule la fente n° 1 est ouverte .....       |  |
| b) les fentes n° 1 et n° 2 sont ouvertes ..... |  |
| c) les fentes n° 2 et n° 3 sont ouvertes ..... |  |
| d) toutes les fentes sont ouvertes .....       |  |

## Autour des fonctions d'onde

- On rappelle qu'une fonction d'onde est dite normalisée si  $\int_{-\infty}^{+\infty} |\varphi(x)|^2 dx = 1$ .
- On rappelle qu'en mécanique quantique, un état est dit stationnaire si sa densité de probabilité de présence  $|\psi(x, t)|^2$  est indépendante du temps.
- On rappelle la formule de linéarisation :  $\cos^2(x) = \frac{1 + \cos(2x)}{2}$ .

**Entraînement 18.3 — Normalisation d'une fonction d'onde (I).**



Pour chaque fonction d'onde spatiale, déterminer la constante A pour normaliser la fonction d'onde.

- |  |  |
|--|--|
| a) $\varphi(x) = \sqrt{A}e^{- x /a}$ .....   |  |
| b) $\varphi(x) = Ae^{- x /b}$ .....  |  |
| c) $\varphi(x) = \begin{cases} A\sqrt{1-x^2/a^2} & \text{si } -a \leq x \leq a \\ 0 & \text{ailleurs} \end{cases}$ ..... |  |



**Entraînement 18.7 — Particule dans un puits.**



Une particule quantique de masse  $m$  est confinée dans un puits. Dans son état fondamental, la fonction d'onde spatiale s'écrit

$$\varphi(x) = \begin{cases} A \cos(\alpha x) & \text{si } -\frac{\pi}{2\alpha} \leq x \leq \frac{\pi}{2\alpha} \\ 0 & \text{ailleurs} \end{cases}$$

avec  $\alpha$  une grandeur réelle positive.

a) Déterminer la constante de normalisation  $A$  .....

b) Calculer la probabilité  $P$  que la particule se trouve dans l'intervalle  $0 \leq x \leq \frac{\pi}{4\alpha}$ . Cette probabilité est définie par  $P = \int_0^{\pi/4\alpha} |\varphi(x)|^2 dx$ .

.....

c) Donner sans calculs la position moyenne  $\langle x \rangle$  de la particule, définie par  $\langle x \rangle = \int_{-\infty}^{+\infty} x |\varphi(x)|^2 dx$ .

.....

**Entraînement 18.8 — Particule liée.**



Prenons une particule quantique de masse  $m$  susceptible de se déplacer le long d'un axe ( $Ox$ ). Son état quantique est représenté par la fonction d'onde

$$\Psi(x, t) = \begin{cases} 0 & \text{si } x < 0 \\ Ax e^{-\alpha x} e^{-iEt/\hbar} & \text{si } x \geq 0 \end{cases}$$

avec  $\alpha$  un grandeur réelle positive.

a) Comment s'écrit le calcul de la probabilité de présence  $P$  de la particule dans tout l'espace ?

Ⓐ  $P = A^2 \int_{-\infty}^{+\infty} x^2 e^{-2\alpha x} dx$

Ⓒ  $P = A^2 \int_0^{+\infty} x^2 e^{-2\alpha x + 2Et/\hbar} dx$

Ⓑ  $P = A^2 \int_0^{+\infty} x^2 e^{-2\alpha x} dx$

Ⓓ  $P = A^2 \int_{-\infty}^{+\infty} x^2 e^{2\alpha x} dx$

.....

b) La normalisation de la fonction d'onde impose  $P = 1$ .

Grâce à une intégration par parties, déterminer la constante de normalisation  $A$ .

.....

c) Calculer la probabilité que la particule se trouve dans l'intervalle  $0 \leq x \leq \frac{1}{\alpha}$ .

.....

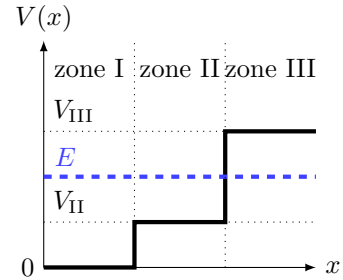


# Cas d'un potentiel uniforme par morceaux

## Entraînement 18.9 — Détermination d'une fonction d'onde.



On considère le profil de potentiel  $V(x)$  ci-contre, constant par morceaux. On souhaite obtenir les formes  $\varphi_I(x)$ ,  $\varphi_{II}(x)$  et  $\varphi_{III}(x)$  de la fonction d'onde d'une particule d'énergie  $E$  ( $V_{II} < E < V_{III}$ ) dans les trois zones.



Pour cela on utilise l'équation de Schrödinger à une seule dimension  $x$ , indépendante du temps :

$$-\frac{\hbar^2}{2m} \frac{d^2\varphi(x)}{dx^2} + V(x)\varphi(x) = E\varphi(x). \quad (1)$$

De plus, on rappelle les solutions pour l'équation différentielle  $\frac{d^2f(x)}{dx^2} = \alpha f(x)$  :

si  $\alpha < 0$  :  $f(x) = A \cos(\sqrt{|\alpha|x}) + B \sin(\sqrt{|\alpha|x})$  ;

si  $\alpha > 0$  :  $f(x) = Ae^{\sqrt{\alpha}x} + Be^{-\sqrt{\alpha}x}$ .

a) Utiliser l'équation (1) dans la zone I pour exprimer  $\frac{d^2\varphi_I(x)}{dx^2}$ .

.....

b) Exprimer  $\varphi_I(x)$  en fonction de  $A_I$ ,  $B_I$ ,  $m$  et  $E$ .

.....

c) Utiliser l'équation (1) dans la zone II pour exprimer  $\frac{d^2\varphi_{II}(x)}{dx^2}$ .

.....

d) Exprimer  $\varphi_{II}(x)$  en fonction de  $A_{II}$ ,  $B_{II}$ ,  $m$ ,  $E$  et  $V_{II}$ .

.....

e) Utiliser l'équation (1) dans la zone III pour exprimer  $\frac{d^2\varphi_{III}(x)}{dx^2}$ .

.....

f) Exprimer  $\varphi_{III}(x)$  en fonction de  $A_{III}$ ,  $B_{III}$ ,  $m$ ,  $E$  et  $V_{III}$ .

.....

g) Réexprimer  $\varphi_{III}(x)$  afin d'empêcher sa divergence quand  $x \rightarrow +\infty$ .

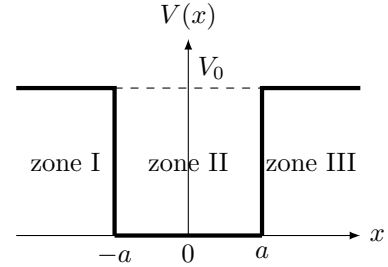
.....



**Entraînement 18.11 — Puits de potentiel fini, étude des solutions impaires.**



Soit un puits de potentiel fini, de valeur nulle entre les positions  $x = -a$  et  $x = a$ , et de valeur  $V_0$  partout ailleurs. En étudiant une particule d'énergie  $E < V_0$ , on peut montrer que sa fonction d'onde spatiale  $\varphi(x)$  prend les formes suivantes dans les trois zones définies sur la figure ci-contre :



$$\varphi_I(x) = A_I e^{Qx} \quad ; \quad \varphi_{II}(x) = A_{II} \sin(Kx) \quad ; \quad \varphi_{III}(x) = A_{III} e^{-Qx}.$$

On cherche à déterminer une relation entre  $A_I$  et  $A_{III}$ , les amplitudes de la fonction d'onde dans les zones I et III, ainsi qu'une relation entre  $Q$  et  $K$ , des paramètres liés à  $V_0$  et  $E$ , en utilisant les relations de continuité pour  $\varphi(x)$  et  $\frac{d\varphi(x)}{dx}$  en  $-a$  et  $a$ .

a) On a calculé ci-dessous les dérivées  $\frac{d\varphi_I(x)}{dx}$ ,  $\frac{d\varphi_{II}(x)}{dx}$  et  $\frac{d\varphi_{III}(x)}{dx}$  :

$$-Q\alpha e^{-Qx} \quad K\beta \cos(Kx) \quad -K\gamma \cos(Kx) \quad Q\delta e^{Qx}.$$

Déterminer parmi les termes  $\alpha$ ,  $\beta$ ,  $\gamma$  et  $\delta$ , ceux qui correspondent à  $A_I$ ,  $A_{II}$  et  $A_{III}$ .

(a)  $A_I = \alpha$ ,  $A_{II} = \beta$ ,  $A_{III} = \delta$

(c)  $A_I = \delta$ ,  $A_{II} = \beta$ ,  $A_{III} = \alpha$

(b)  $A_I = \delta$ ,  $A_{II} = \gamma$ ,  $A_{III} = \alpha$

.....

b) Il y a continuité de  $\varphi(x)$  en  $-a$ . Égaliser  $\varphi_I(-a)$  et  $\varphi_{II}(-a)$ .

.....

c) Il y a continuité de  $\frac{d\varphi(x)}{dx}$  en  $-a$ . Égaliser  $\frac{d\varphi_I(-a)}{dx}$  et  $\frac{d\varphi_{II}(-a)}{dx}$ .

.....

d) Il y a continuité de  $\varphi(x)$  en  $a$ . Égaliser  $\varphi_{III}(a)$  et  $\varphi_{II}(a)$ .

.....

e) Il y a continuité de  $\frac{d\varphi(x)}{dx}$  en  $a$ . Égaliser  $\frac{d\varphi_{III}(a)}{dx}$  et  $\frac{d\varphi_{II}(a)}{dx}$ .

.....

f) À partir des réponses des questions b) et d) retrouver la relation entre  $A_I$  et  $A_{III}$ .

.....

g) À partir des réponses des questions d) et e) trouver une relation entre  $Q$  et  $K$ .

.....

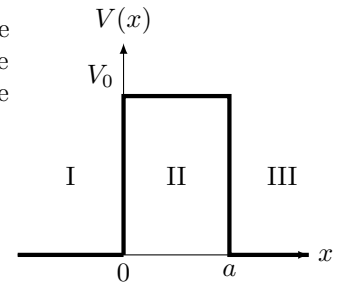
# Effet tunnel

## Entraînement 18.12 — Coefficient de transmission.



On considère une particule de masse  $m$  se déplaçant selon un axe ( $Ox$ ) soumise au potentiel représenté ci-contre. Cette particule arrive de la région I avec une énergie  $E < V_0$ . Dans ces conditions, on peut montrer que le coefficient de transmission  $T$  s'écrit :

$$T = \frac{1}{1 + \frac{V_0^2}{4E(V_0 - E)} \sinh^2(ka)} \quad \text{avec} \quad k = \sqrt{\frac{2m(V_0 - E)}{\hbar^2}}$$



Dans le cas où  $ka \gg 1$ , on montre que  $T$  se simplifie sous la forme :  $T \approx T_0 e^{-2ka}$ .

On donne l'approximation suivante : pour  $x \gg 1$ ,  $\sinh(x) \approx \frac{e^x}{2}$ .

a) Exprimer  $T_0$  en fonction de  $V_0$  et  $E$  .....

b) Toutes choses égales par ailleurs, la probabilité de transmission est d'autant plus grande que la barrière est épaisse.

(a) vrai      (b) faux  
.....

d) Toutes choses égales par ailleurs, la transmission est d'autant plus probable que la particule est énergétique.

(a) vrai      (b) faux  
.....

c) Toutes choses égales par ailleurs, un proton a plus de chances d'être transmis qu'un électron.

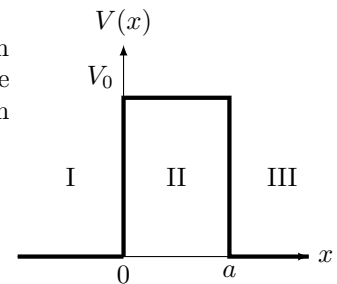
(a) vrai      (b) faux  
.....

## Entraînement 18.13 — Courant tunnel.



On considère un électron de masse  $m_e = 9,1 \times 10^{-31}$  kg se déplaçant selon un axe ( $Ox$ ). Ce dernier arrive de la région I avec une énergie  $E = 1,0$  eV sur une barrière de potentiel de hauteur  $V_0 = 2,0$  eV et d'épaisseur  $a = 1,0$  nm. On peut montrer que le coefficient de transmission  $T$  s'écrit :

$$T = \frac{16E(V_0 - E)}{V_0^2} e^{-2ka} \quad \text{avec} \quad k = \sqrt{\frac{2m(V_0 - E)}{\hbar^2}}$$



en supposant l'approximation  $ka \gg 1$  vérifiée. On rappelle :  $1 \text{ eV} = 1,6 \times 10^{-19} \text{ J}$ .

a) Calculer  $T$  .....

On considère maintenant un faisceau incident d'électrons correspondant à un courant  $I = 10$  mA.

b) Calculer l'intensité du courant transmis  $I_t$ , en  $\mu\text{A}$  .....

Toutes choses égales par ailleurs, on remplace maintenant le faisceau d'électrons par un faisceau de protons, de masses  $m_p = 1,7 \times 10^{-27}$  kg.

c) Qualitativement, l'intensité transmise va :

(a) augmenter

(b) diminuer

d) Calculer la nouvelle intensité transmise  $I'_t$  .....

### Réponses mélangées

$$\frac{1}{2} \quad \frac{16E(V_0 - E)}{V_0^2} \quad A = \frac{1}{\sqrt{b}} \quad A = \sqrt{\frac{3}{b}} \quad \text{(a) et (c)} \quad \text{(b)} \quad \text{(b)} \quad \text{(a)}$$

$$A_{III} e^{\sqrt{\frac{2m}{\hbar^2}(V_{III}-E)x}} + B_{III} e^{-\sqrt{\frac{2m}{\hbar^2}(V_{III}-E)x}} \quad -\frac{2m}{\hbar^2}(E - V_{II})\varphi_{II}(x) \quad A = \sqrt{\frac{2}{a}} \quad 8 \times 10^{-6} \text{ m}$$

$$A_I = -A_{III} \quad 7 \times 10^{-21} \text{ m} \quad \text{oui} \quad A_{II} \cos\left(\sqrt{\frac{2m}{\hbar^2}(E - V_{II})x}\right) + B_{II} \sin\left(\sqrt{\frac{2m}{\hbar^2}(E - V_{II})x}\right)$$

$$-\frac{2m}{\hbar^2}E\varphi_I(x) \quad QA_{III}e^{-Qa} = KA_{II} \sin(Ka) \quad 1,7 \times 10^{-193} \text{ A} \quad A = \frac{1}{2}\sqrt{\frac{3}{a}}$$

$$\text{(b)} \quad \text{(b)} \quad A = \frac{1}{2a} \quad |\Psi(x, t)|^2 = A^2 \quad 0 \quad \frac{\hbar^2 k^2}{2m} \quad B_{III} e^{-\sqrt{\frac{2m}{\hbar^2}(V_{III}-E)x}}$$

$$A_I e^{-Qa} = -A_{II} \sin(Ka) \quad A = \sqrt{\frac{2\alpha}{\pi}} \quad \text{(c) et (d)} \quad 1,4 \mu\text{A} \quad 2,5 \times 10^{-11} \text{ m} \quad \text{(c)}$$

$$0 \quad QA_I e^{-Qa} = KA_{II} \sin(Ka) \quad A_I = A_{III} \quad A_I e^{-Qa} = A_{II} \cos(Ka) \quad 1 - 5e^{-2}$$

$$\frac{11 - 2\sqrt{6}}{12} \quad A_{III} e^{-Qa} = A_{II} \cos(Ka) \quad A_{III} e^{-Qa} = A_{II} \sin(Ka) \quad A = 2\alpha^{3/2}$$

$$A = \frac{1}{2\sqrt{a}} \quad -QA_{III} e^{-Qa} = KA_{II} \cos(Ka) \quad \frac{1}{4} + \frac{1}{2\pi} \quad \frac{2m}{\hbar^2}(V_{III} - E)\varphi_{III}(x) \quad \frac{3}{4}$$

$$1,4 \cdot 10^{-4} \quad 1,9 \times 10^{-34} \text{ m} \quad \frac{Q}{K} = \tan(Ka) \quad \text{(b)} \quad QA_I e^{-Qa} = KA_{II} \cos(Ka)$$

$$\text{(a)} \quad -\frac{K}{Q} = \tan(Ka) \quad A_I \cos\left(\sqrt{\frac{2m}{\hbar^2}Ex}\right) + B_I \sin\left(\sqrt{\frac{2m}{\hbar^2}Ex}\right) \quad \frac{5 - 2\sqrt{6}}{12} \quad \text{(b)}$$

► Réponses et corrigés page 320

## Courbes intensité-potentiel

### Prérequis

Pour la demi-équation électronique du couple Ox/Red :  $\alpha \text{Ox} + n e^- = \beta \text{Red}$ , le potentiel de Nernst à 25 °C s'écrit :

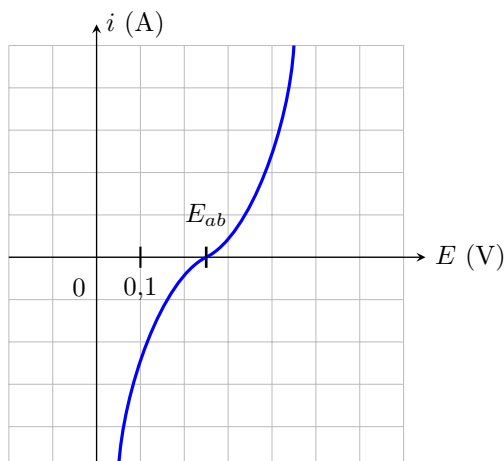
$$E = E^\circ + \frac{0,06}{n} \log \left( \frac{a_{\text{Ox}}^\alpha}{a_{\text{Red}}^\beta} \right).$$

## Avant toute chose

### Entraînement 19.1 — Potentiel à l'abandon.



À l'aide du montage à trois électrodes, la courbe intensité-potentiel ci-dessous est obtenue à 25 °C pour le couple  $\text{Cu}^{2+}/\text{Cu}$ .



L'électrode de travail est en cuivre et la concentration en ions cuivriques  $\text{Cu}^{2+}$  présents dans la solution électrolytique est noté  $C$  à l'instant initial.

Le potentiel à l'abandon  $E_{\text{ab}}$  (également appelé « potentiel à courant nul » ou « potentiel à l'équilibre ») est le point de la courbe  $i(E)$  pour lequel le courant est nul. La valeur de ce potentiel est donnée par le potentiel de Nernst.

On donne  $E_{\text{Cu}^{2+}/\text{Cu}}^\circ = 0,34 \text{ V}$ .

a) Déterminer la concentration  $C$  des ions cuivriques dans la solution électrolytique .....

b) La mesure du potentiel  $E_{\text{ab}}$  est effectuée à l'aide d'un voltmètre dont la borne « V » est reliée à l'électrode de travail en cuivre et la borne « COM » à une électrode de référence au calomel dont le potentiel est 0,25 V.

Quelle est la tension lue sur le voltmètre? .....

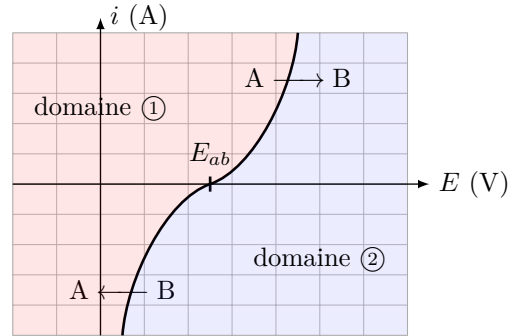
**Entraînement 19.2 — Domaine de prédominance/Domaine d'existence.**



La courbe intensité-potentiel du couple  $\text{Cu}^{2+}/\text{Cu}$  est donnée ci-dessous.

Cette courbe délimite deux domaines :

- (a) Domaine du réducteur
- (b) Domaine de l'oxydant



a) À quel domaine correspond le domaine ① ?

b) À quel domaine correspond le domaine ② ?

.....

.....

Le couple concerné est  $\text{Cu}^{2+}/\text{Cu}$ . Au niveau de la courbe  $i(E)$  est indiqués les éléments  $A$  et  $B$  réagissant.

c) Quelle est l'espèce  $A$  ? .....

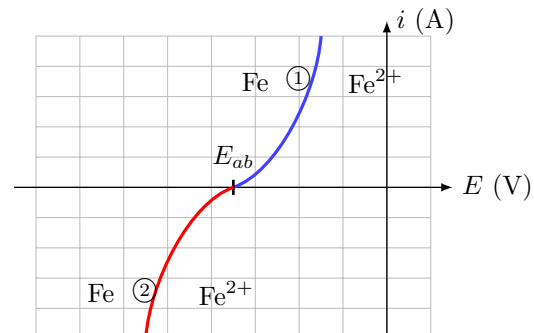
d) Quelle est l'espèce  $B$  ? .....

**Entraînement 19.3 — Parties anodique et cathodique de la courbe  $i(E)$ .**



La courbe intensité-potentiel du couple  $\text{Fe}^{2+}/\text{Fe}$  est donnée ci-contre.

La partie anodique de la courbe  $i(E)$  est la portion de courbe pour laquelle l'intensité du courant arrivant au niveau de l'électrode de travail est positive. Dans ces conditions, l'électrode de travail se comporte en anode.



a) Quelle réaction se produit sur l'électrode de travail lorsque le courant est positif ?

.....

b) En ①, nous devons placer une flèche indiquant le sens de la réaction se produisant.

Laquelle choisir ?

- (a) →
- (b) ←

.....

La partie cathodique de la courbe  $i(E)$  est la portion de courbe pour laquelle l'intensité du courant arrivant au niveau de l'électrode de travail est négative. Dans ces conditions, l'électrode de travail se comporte en cathode.

c) Quelle réaction se produit sur l'électrode de travail lorsque le courant est négatif ?

.....

d) En ②, nous devons placer une flèche indiquant le sens de la réaction se produisant.

Laquelle choisir ?

- (a) →
- (b) ←

.....

**Entraînement 19.4** — Courbe  $i(E)$  de  $\text{Fe}^{3+}/\text{Fe}^{2+}$ .

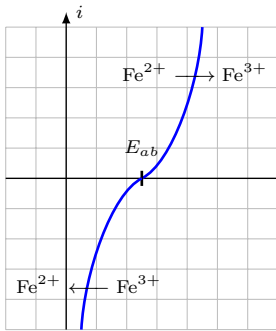


Figure ㉑

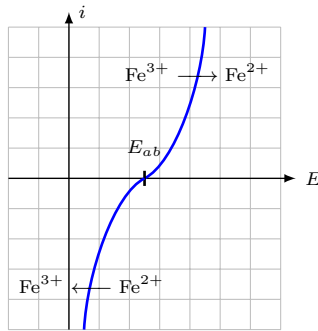


Figure ㉒

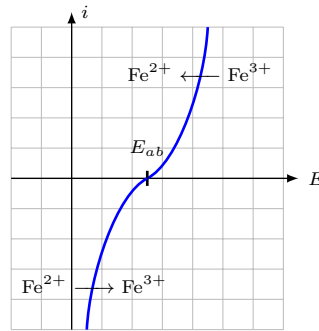


Figure ㉓

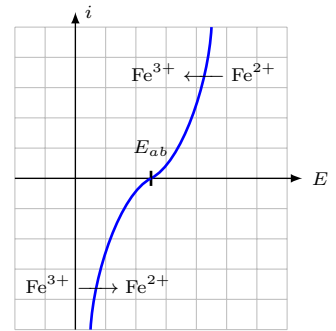


Figure ㉔

Quelle figure correspond à la courbe  $i(E)$  de  $\text{Fe}^{3+}/\text{Fe}^{2+}$  ? .....

## Calcul de surpotentiel

Le surpotentiel est également appelé surtension.

**Entraînement 19.5** — Surpotentiels anodique et cathodique.



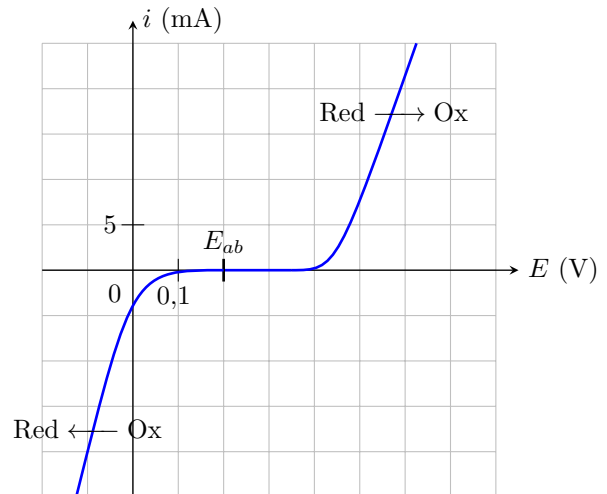
La courbe intensité-potential du couple Ox/Red est présentée ci-contre.

Le surpotentiel anodique est défini pour un courant de fonctionnement anodique  $i_0 > 0$  par la relation suivante :

$$\eta_a(i_0) = E(i_0) - E_{ab}.$$

Le surpotentiel cathodique est défini pour un courant de fonctionnement cathodique  $i'_0 < 0$  par la relation suivante :

$$\eta_c(i'_0) = E(i'_0) - E_{ab}.$$



a) Évaluer le surpotentiel anodique pour  $i_0 = 20 \text{ mA}$  .....

b) Évaluer le surpotentiel cathodique pour  $i'_0 = -20 \text{ mA}$  .....

c) Estimer le surpotentiel anodique à courant nul :  $\eta_{a,0} = \lim_{i_0 \rightarrow 0^+} \eta_a(i_0)$  .....

d) Estimer le surpotentiel cathodique pour  $\eta_{c,0} = \lim_{i'_0 \rightarrow 0^-} \eta_c(i'_0)$  .....



**Entraînement 19.6 — Calcul de surpotentiels à partir du potentiel à l'abandon.**

On fait l'acquisition à 25 °C, de la courbe  $i$ - $E$  du couple  $\text{HSO}_4^-/\text{SO}_2$  dans une solution où

$$[\text{HSO}_4^-] = 0,100 \text{ mol} \cdot \text{L}^{-1},$$

$$[\text{SO}_2] = 0,001 \text{ mol} \cdot \text{L}^{-1}$$

et  $\text{pH} = 4$ .

Le potentiel standard du couple considéré est  $E^\circ = 0,16 \text{ V}$ .

- On constate que le courant en oxydation devient non nul quand le potentiel de l'électrode devient supérieur à  $V_{\text{ox}} = 0,2 \text{ V}$ .
- De même son potentiel devient non nul en réduction quand le potentiel de l'électrode devient inférieur à  $V_{\text{red}} = -0,5 \text{ V}$ .

a) Dans les conditions de l'expérience, le couple  $\text{HSO}_4^-/\text{SO}_2$  est-il lent ou rapide ?

.....

b) Écrire la demi-équation d'oxydo-réduction associée au couple  $\text{HSO}_4^-/\text{SO}_2$ .

.....

c) Calculer la valeur du potentiel de Nernst dans les conditions de l'expérience.

.....

d) Déterminer le surpotentiel anodique à courant nul  $\eta_{a,0}$  dans les conditions expérimentales proposées.

.....

e) Déterminer le surpotentiel cathodique à courant nul  $\eta_{c,0}$  dans les conditions expérimentales proposées.

.....

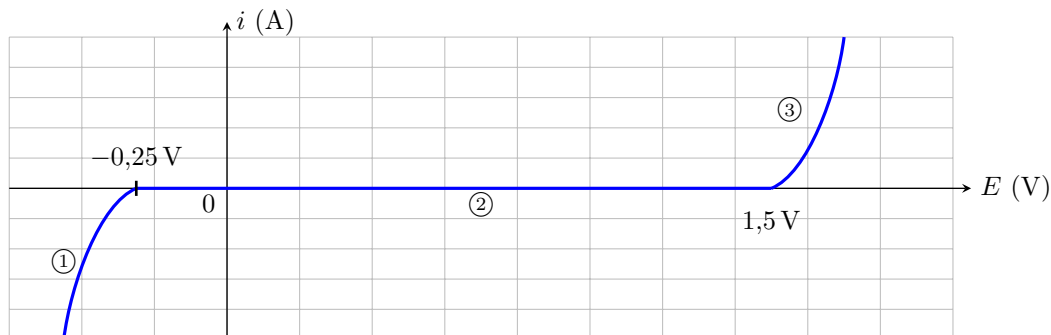
# Domaine d'électroactivité

## Entraînement 19.7 — Courbe $i(E)$ de l'eau.



Le domaine d'électroactivité est le domaine de potentiel dans lequel il est possible d'étudier des couples redox. Ce domaine est limité par les deux « murs du solvant » ou « fronts du solvant ».

Voici la courbe  $i-E$  de l'eau obtenue avec des électrodes de platine Pt.



a) Que doit-on écrire sur la partie ① ?

- (a)  $\text{H}^+ \rightarrow \text{H}_2$                       (c)  $\text{H}_2\text{O} \rightarrow \text{O}_2$   
 (b)  $\text{Pt} \rightarrow \text{Pt}^{2+}$                       (d) pas de réaction

.....

b) Que doit-on écrire sur la partie ② ?

- (a)  $\text{H}^+ \rightarrow \text{H}_2$                       (c) palier de diffusion  
 (b)  $\text{Pt} \rightarrow \text{Pt}^{2+}$                       (d) pas de réaction

.....

c) Que doit-on écrire sur la partie ③ ?

- (a)  $\text{H}^+ \rightarrow \text{H}_2$                       (c)  $\text{H}_2\text{O} \rightarrow \text{O}_2$   
 (b) palier de diffusion                      (d) pas de réaction

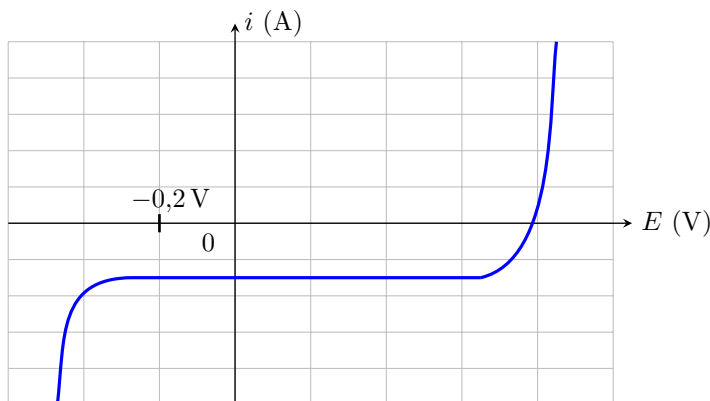
.....

d) Quels sont les couples que l'on pourrait éventuellement observer dans l'eau dans les conditions de l'expérience ?

- (a)  $\text{Ag}^+ / \text{Ag}$ ,  $E^\circ = 0,80 \text{ V}$   
 (b)  $\text{I}_2 / \text{I}^-$ ,  $E^\circ = 0,54 \text{ V}$   
 (c)  $\text{Mg}^{2+} / \text{Mg}$ ,  $E^\circ = -2,37 \text{ V}$   
 (d)  $\text{Ag}^{2+} / \text{Ag}$ ,  $E^\circ = 1,98 \text{ V}$

.....

On a placé un des couples précédents dans l'eau et on fait l'acquisition de la courbe ci-dessous.



e) De quel couple s'agit-il ?

- (a)  $\text{Ag}^+ / \text{Ag}$                       (c)  $\text{Mg}^{2+} / \text{Mg}$   
 (b)  $\text{I}_2 / \text{I}^-$                       (d)  $\text{Ag}^{2+} / \text{Ag}$

.....

# Palier de diffusion

## Entraînement 19.8 — Courbe $i(E)$ de $\text{Cu}^{2+}/\text{Cu}$ .



Les phénomènes de diffusion entraînent une limitation du courant selon la relation :

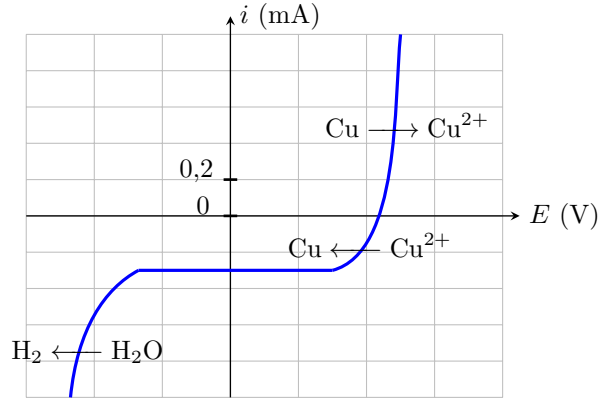
$$i_{\text{diff}} = nKS[\text{réactif}]$$

où

- $n$  est le nombre d'électrons échangés,
- $K$  une constante,
- $S$  la surface de l'électrode
- et  $[\text{réactif}]$  la concentration du réactif.

Cela se manifeste sur la courbe par un palier horizontal de valeur  $i_{\text{diff}}$ .

Ci-contre, on donne la courbe  $i-E$  pour le couple  $\text{Cu}^{2+}/\text{Cu}$  en milieu aqueux.



a) Quelle espèce est soumise à un phénomène de diffusion ?

- (a)  $\text{H}^+$                      
  (b)  $\text{Cu}$                      
  (c)  $\text{Cu}^{2+}$                      
  (d)  $\text{H}_2\text{O}$

.....

b) Que vaut  $i_{\text{diff}}$  pour cette réaction ?

.....

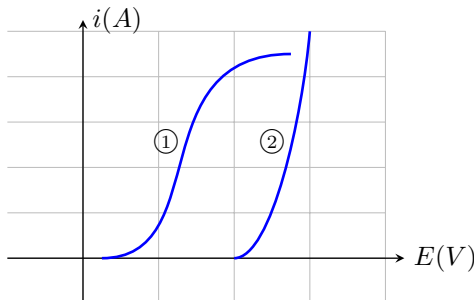
c) Que vaut  $i_{\text{diff}}$  si on dilue la solution d'un facteur 10 ?

.....

## Entraînement 19.9 — Détermination graphique d'un couple.



La courbe ci-dessous présente les courbes anodiques des couples  $\text{O}_2/\text{H}_2\text{O}$  et  $\text{Cl}_2/\text{Cl}^-$ . Le solvant est l'eau.



a) Quelle est la réaction associée à la courbe ① ?

.....

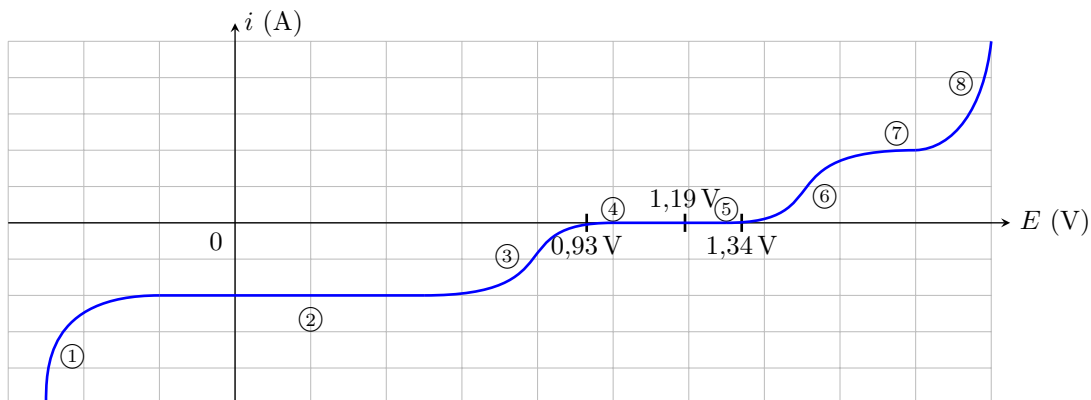
b) Quelle est la réaction associée à la courbe ② ?

.....

**Entraînement 19.10 — Courbe  $i(E)$  du couple  $\text{IO}_3^-/\text{I}_2$ .**



La courbe  $i-E$  du couple  $\text{IO}_3^-/\text{I}_2$  en milieu aqueux, obtenue avec des électrodes de platine Pt est donnée ci dessous. Dans les conditions expérimentales du tracé, on a  $E(\text{IO}_3^-/\text{I}_2) = E^\circ(\text{IO}_3^-/\text{I}_2) = 1,19 \text{ V}$ .



a) Écrire la demi-équation rédox associée au couple  $\text{IO}_3^-/\text{I}_2$  .....

b) Sur quelle partie de la courbe doit-on écrire  $\text{IO}_3^- \longrightarrow \text{I}_2$  ? .....

c) Sur quelle partie de la courbe doit-on écrire  $\text{I}_2 \longrightarrow \text{IO}_3^-$  ? .....

d) Sur quelle(s) partie(s) de la courbe se manifeste le phénomène de diffusion ?

e) Estimer le surpotentiel à  $i = 0$  anodique.

f) Estimer le surpotentiel à  $i = 0$  cathodique.

.....

.....

g) Comment appelle-t-on les parties ① et ⑧ ?

Ⓐ mur de l'eau

Ⓒ front du solvant

Ⓑ palier de diffusion

Ⓓ surpotentiel à  $i \neq 0$

.....

**Réponses mélangées**

0,15 V     $\text{Cu}^{2+}$     Réduction     $2\text{H}_2\text{O} \rightarrow \text{O}_2 + 4\text{H}^+ + 4\text{e}^-$     Ⓐ    0,4 V

③    Ⓐ    -0,1 V    ⑥    Ⓒ    -0,3 V    Ⓑ    Cu    ② et ⑦

$2\text{IO}_3^- + 12\text{H}^+ + 10\text{e}^- = \text{I}_2 + 6\text{H}_2\text{O}$     -0,36 V    -0,14 V    lent    0 V

Ⓒ    0,2 V    Ⓐ et Ⓑ    Ⓐ    -0,3 mA    -0,03 mA    Ⓐ et Ⓒ

0,34 V     $2\text{Cl}^- \rightarrow \text{Cl}_2 + 2\text{e}^-$     Ⓓ    Oxydation     $10^{-3} \text{ mol/L}$

Ⓑ    Ⓐ    -0,26 V    Ⓐ     $\text{HSO}_4^- + 3\text{H}^+ + 2\text{e}^- = \text{SO}_2 + 2\text{H}_2\text{O}$

► Réponses et corrigés page 327

# Phénomène de corrosion

## Prérequis

Loi de Nernst : pour  $\alpha \text{Ox} + n e^- + \beta \text{H}^+ = \gamma \text{Red} + \delta \text{H}_2\text{O}$ , on a

$$E_{\text{Nernst}} = E^\circ + \frac{0,06}{n} \log \left( \frac{a_{\text{Ox}}^\alpha [\text{H}^+]^\beta}{a_{\text{Red}}^\gamma} \right).$$

Diagrammes potentiel-pH. Courbes courant-potentiel.

## Constantes utiles

- Constante d'Avogadro :  $\mathcal{N}_A = 6,02 \times 10^{23} \text{ mol}^{-1}$
- Charge élémentaire :  $e = 1,6 \times 10^{-19} \text{ C}$
- Constante de Faraday :  $\mathcal{F} = e \times \mathcal{N}_A = 96\,500 \text{ C} \cdot \text{mol}^{-1}$

## Outils d'étude des réactions d'oxydoréduction

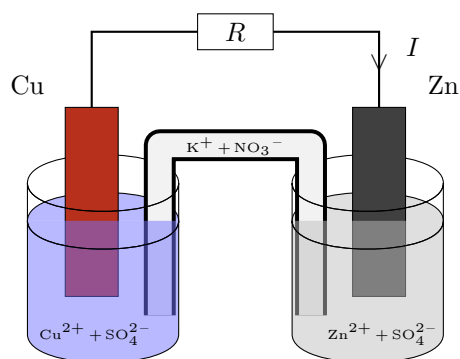


### Entraînement 20.1 — Pile Daniell.



Considérons la pile Daniell ci-contre. L'intensité du courant traversant la résistance  $R$  dans le sens indiqué sur le schéma est constante et vaut  $I = 100 \mu\text{A}$ .

Donnée :  $M_{\text{Zn}} = 65,4 \text{ g} \cdot \text{mol}^{-1}$ .



a) Dans quel sens circulent les électrons ?

- (a) de l'électrode de cuivre vers celle de zinc
- (b) de l'électrode de zinc vers celle de cuivre

b) Quelle électrode joue le rôle de cathode ?

- (a) celle de zinc
- (b) celle de cuivre

c) Quel métal est oxydé ?

- (a) le zinc
- (b) le cuivre

d) Déterminer la quantité d'électricité (en mC) échangée entre les deux couples en une durée  $\tau = 10 \text{ min}$ .

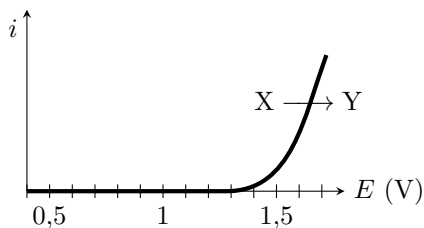
.....

e) En déduire la masse (en  $\mu\text{g}$ ) de zinc oxydée pendant la durée  $\tau$  .....

**Entraînement 20.2 — Détermination d'un surpotentiel.**

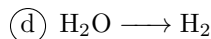
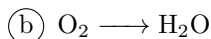
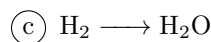
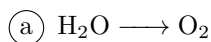


À l'aide d'un montage à trois électrodes, on mesure la courbe ci-dessous dans une solution de  $\text{pH} = 4$  dans laquelle la seule espèce électroactive est l'eau. On rappelle les couples de l'eau :  $\text{H}_2\text{O}/\text{H}_2$  (potentiel standard 0 V) et  $\text{O}_2/\text{H}_2\text{O}$  (potentiel standard 1,23 V).



a) Quel couple de l'eau est responsable de la courbe observée? .....

b) En déduire les espèces X et Y à faire apparaître sur la courbe.



.....

c) Exprimer le potentiel de Nernst du couple.

(a)  $E^\circ + \frac{0,06}{4} \log \left[ \frac{p_{\text{H}_2}}{p^\circ} \left( \frac{[\text{H}_2\text{O}]}{c^\circ} \right)^2 \right]$

(b)  $E^\circ + \frac{0,06}{4} \log \left[ \frac{p^\circ}{p_{\text{H}_2}} \frac{[\text{H}^+]}{c^\circ} \right]$

(c)  $E^\circ + \frac{0,06}{2} \log \left[ \frac{p^\circ}{p_{\text{H}_2}} \left( \frac{[\text{H}^+]}{c^\circ} \right)^2 \right]$

(d)  $E^\circ + \frac{0,06}{4} \log \left[ \frac{p_{\text{O}_2}}{p^\circ} \left( \frac{[\text{H}^+]}{c^\circ} \right)^4 \left( \frac{c^\circ}{[\text{H}_2\text{O}]} \right)^2 \right]$

(e)  $E^\circ + \frac{0,06}{4} \log \left[ \frac{p_{\text{O}_2}}{p^\circ} \left( \frac{[\text{H}^+]}{c^\circ} \right)^4 \right]$

(f)  $E^\circ + \frac{0,06}{2} \log \left[ \frac{p^\circ}{p_{\text{O}_2}} \left( \frac{[\text{H}^+]}{c^\circ} \right)^2 \right]$

.....

d) Le calculer numériquement pour une pression partielle de 1 bar .....

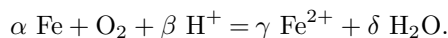
e) En déduire le surpotentiel anodique à vide  $\eta_a$ , défini à partir du point où la courbe décroche de l'axe des abscisses.

.....

**Entraînement 20.3 — Charge échangée au cours d'une réaction.**



Un morceau de fer de masse  $m_1 = 1 \text{ mg}$  s'oxyde sous l'action de l'oxygène en milieu acide selon la réaction



Données :

- Potentiels standard :
  - ▷  $E^\circ(\text{Fe}^{2+}/\text{Fe}) = -0,44 \text{ V}$  ;
  - ▷  $E^\circ(\text{O}_2/\text{H}_2\text{O}) = 1,23 \text{ V}$ .
- Masse molaire du Fe :  $M_{\text{Fe}} = 55,8 \text{ g} \cdot \text{mol}^{-1}$ .

a) Déterminer les valeurs correctes du quadruplet  $(\alpha, \beta, \gamma, \delta)$ .

- (a) (1, 2, 1, 1)
- (b) (2, 2, 2, 2)
- (c) (2, 4, 2, 2)
- (d) (1, 4, 1, 2)

.....

b) Au bout d'un temps  $\tau = 1 \text{ h}$ , il ne reste que 45 % de la masse initiale de fer.

Après avoir dressé un tableau d'avancement, déterminer l'avancement  $\xi$  de la réaction.

.....

c) En raisonnant sur la demi-équation électronique du couple  $\text{Fe}^{2+}/\text{Fe}$ , déterminer le nombre de moles d'électrons échangées en fonction de l'avancement  $\xi$ .

- (a)  $\xi$
- (b)  $2\xi$
- (c)  $3\xi$
- (d)  $4\xi$

.....

d) En déduire  $Q$ , la quantité d'électricité (ou charge) échangée entre les deux couples durant le temps  $\tau$ .  
*On exprimera  $Q$  en coulomb.*

.....

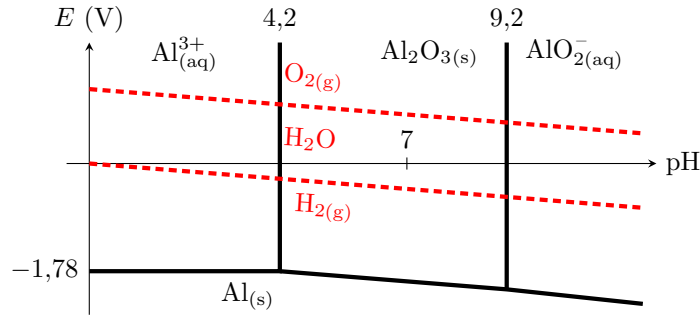
# Corrosion, passivation, protection



## Entraînement 20.4 — Thermodynamique de la corrosion.



On représente ci-dessous le diagramme potentiel-pH de corrosion de l'aluminium, en traits pleins, auquel est superposé celui de l'eau, en traits pointillés.



Certaines questions peuvent admettre plusieurs réponses.

a) L'aluminium est-il stable dans l'eau du point de vue thermodynamique ?

- (a) Oui, toujours
- (b) Non, jamais
- (c) Cela dépend de la teneur en dioxygène.
- (d) Cela dépend du pH.

.....

b) On dit qu'un métal se passive lorsque son oxydation forme un solide à sa surface.

L'aluminium peut-il se passiver dans l'eau ?

- (a) Oui, sous forme de  $\text{Al}^{3+}$
- (b) Oui, sous forme de  $\text{Al}_2\text{O}_3$
- (c) Oui, sous forme de  $\text{AlO}_2^-$
- (d) Non

.....

c) On laisse une plaque d'aluminium dans une solution maintenue à  $\text{pH} = 3$ .

Si l'on attend suffisamment longtemps, que va-t-il se passer ?

- (a) La plaque va rester stable sans modification.
- (b) L'épaisseur de la plaque va diminuer, mais elle ne disparaîtra jamais complètement.
- (c) La plaque va totalement se dissoudre.
- (d) Un dépôt solide va se former à la surface de la plaque.

.....

d) Même question, avec les mêmes propositions, pour l'eau du robinet.

On rappelle que l'eau du robinet vérifie  $\text{pH} \approx 7,5$  et contient du dioxygène dissous.

.....

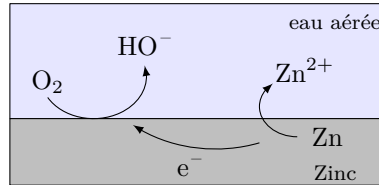


**Entraînement 20.5 — Passivation.**



On considère un morceau de zinc en présence d'eau aérée.

Le processus électrochimique qui a lieu est schématisé ci-dessous.



Les deux couples rédox intervenant dans la réaction d'oxydoréduction sont  $O_2 / HO^-$  et  $Zn^{2+} / Zn$ .

a) Quel espèce se corrode? .....

b) Quel espèce se réduit? .....

c) Écrire la réaction d'oxydoréduction se produisant.

*On choisira comme nombres stœchiométriques les plus petits entiers possibles.*

.....

d) Au cours de la réaction d'oxydoréduction, comment varie le pH?

- (a) Le pH augmente.
- (b) Le pH reste constant.
- (c) Le pH diminue.

.....

e) En présence de  $HO^-$ , les ions  $Zn^{2+}$  précipitent sous forme de  $Zn(OH)_2$ . Cet oxyde de zinc forme à la surface du zinc une couche imperméable.

Quelle phrase est juste?

- (a) Le zinc se passive progressivement.
- (b) Le zinc s'oxyde toujours même s'il est entièrement recouvert d'oxyde de zinc.
- (c) La couche d'oxyde va se dissoudre progressivement car le milieu devient acide.
- (d) Le zinc cesse de s'oxyder mais le dioxygène se réduit toujours.

.....

**(📊) Entraînement 20.6 — Corrosion d'une lame de magnésium.**



Le but de l'exercice est de déterminer si le magnésium métallique est susceptible d'être corrodé par une solution aqueuse acidifiée de  $\text{pH} = 4$ .

a) Exprimer le potentiel de Nernst  $E_{\text{Mg}^{2+}/\text{Mg}}$  en fonction du potentiel standard  $E_{\text{Mg}^{2+}/\text{Mg}}^\circ$  et de  $[\text{Mg}^{2+}]$ .

.....

b) On donne  $E_{\text{Mg}^{2+}/\text{Mg}}^\circ = -2,37 \text{ V}$  et  $[\text{Mg}^{2+}] = 1 \times 10^{-6} \text{ mol} \cdot \text{L}^{-1}$ .

Calculer sa valeur numérique.

.....

c) Exprimer le potentiel de Nernst  $E_{\text{H}^+/\text{H}_2}$  en fonction du potentiel standard  $E_{\text{H}^+/\text{H}_2}^\circ$ , du  $\text{pH}$  et de la pression partielle en dihydrogène  $p_{\text{H}_2}$ .

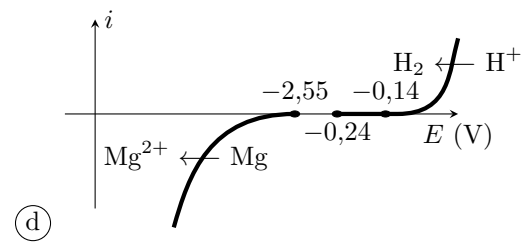
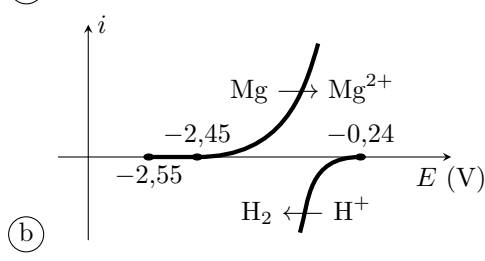
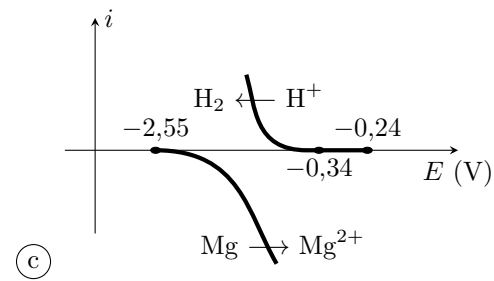
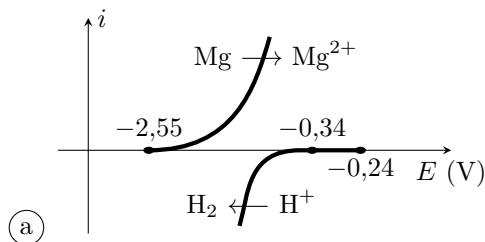
.....

d) On rappelle  $E_{\text{H}^+/\text{H}_2}^\circ = 0 \text{ V}$  et on suppose  $p_{\text{H}_2} = 1 \text{ bar}$ .

Calculer sa valeur numérique.

.....

e) Le surpotentiel cathodique du couple  $\text{H}^+/\text{H}_2$  sur une électrode de magnésium est de l'ordre de  $-0,1 \text{ V}$ . Parmi les diagrammes intensité-potential représentés ci-dessous, lequel correspond à la situation étudiée ?



.....

f) En cherchant sur le diagramme courant-potential s'il existe un éventuel potentiel de corrosion, déterminer si la lame de magnésium sera corrodée.

.....

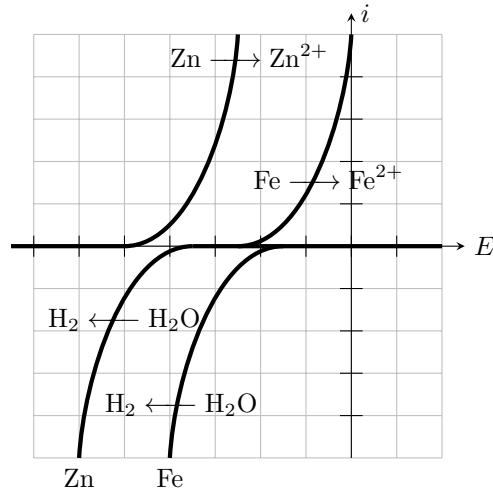
**Entraînement 20.7 — Corrosion différentielle.**



On met en contact dans une solution une lame de zinc et une lame de fer.

Les couples intervenant sont  $Zn^{2+}/Zn$  (potentiel standard  $-0,76\text{ V}$ ),  $Fe^{2+}/Fe$  (potentiel standard  $-0,45\text{ V}$ ) et  $H_2O/H_2$  (potentiel standard  $0\text{ V}$ ).

La figure ci-dessous représente le diagramme courant-potentiel associé, avec comme échelle  $0,2\text{ V/div}$  en abscisse et  $10\text{ mA/div}$  en ordonnée.



Le surpotentiel cathodique du couple  $H_2O/H_2$  n'est pas le même sur les deux métaux : un phénomène de corrosion différentielle peut apparaître, où la réduction de l'eau n'a pas lieu sur le métal qui est oxydé. On rappelle que le potentiel de corrosion (ou potentiel mixte) est celui pour lequel le courant anodique est égal au courant cathodique, sa valeur absolue est alors appelée courant de corrosion.

a) En raisonnant sur les potentiels standard, identifier le métal qui s'oxyde .....

b) En supposant que la réduction de l'eau a lieu sur le zinc, déterminer graphiquement le potentiel de corrosion et le courant de corrosion.

(a)  $-0,85\text{ V}$  et  $2\text{ mA}$

(c)  $-0,60\text{ V}$  et  $10\text{ mA}$

(b)  $-0,65\text{ V}$  et  $18\text{ mA}$

(d)  $-0,40\text{ V}$  et  $2\text{ mA}$

.....

c) Même question et mêmes valeurs proposées en supposant que la réduction de l'eau a lieu sur le fer.

.....

d) Finalement, sur quel métal la réduction de l'eau a-t-elle lieu ? .....

e) Comment se déplacent les électrons lors de la réaction ?

(a) Ils restent dans le zinc.

(c) Du fer vers le zinc.

(b) Ils restent dans le fer.

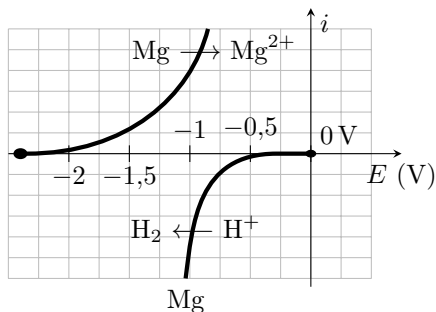
(d) Du zinc vers le fer.

.....

# Vitesse et courant de corrosion



## Entraînement 20.8 — Détermination d'un courant de corrosion.



Une lame de magnésium est plongée dans une solution aqueuse acidifiée, maintenue à  $\text{pH} = 4$ . Le magnésium (couple  $\text{Mg}^{2+}/\text{Mg}$ ) est alors corrodé par les ions  $\text{H}^+$  (couple  $\text{H}^+/\text{H}_2$ ).

On donne la constante des gaz parfaits  $R = 8,3 \text{ J} \cdot \text{mol}^{-1} \cdot \text{K}^{-1}$ .

a) Écrire l'équation de la réaction de corrosion .....

b) Déterminer graphiquement le potentiel de corrosion, pour lequel il y a égalité des courants anodique et cathodique .....

c) En raisonnant sur la demi-équation électronique appropriée, exprimer la charge électrique échangée lorsqu'il y a production de  $n$  moles de dihydrogène .....

d) À  $25^\circ\text{C}$  et sous 1,0 bar, la réaction produit 1,0 mL de dihydrogène (gaz parfait) en dix minutes.

Calculer numériquement la charge échangée pendant cette durée.

.....

e) En déduire la valeur numérique du courant de corrosion .....

## Entraînement 20.9 — Vitesse de corrosion d'une pièce en fer.



Une pièce en fer de masse  $m_0$  à l'instant initial se corrode en présence de dioxygène pour former de l'hydroxyde de fer  $\text{Fe}(\text{OH})_2$  suivant la réaction  $\text{Fe} + \frac{1}{2} \text{O}_2 + \text{H}_2\text{O} = \text{Fe}(\text{OH})_2$ .

Le courant de corrosion est défini par  $i_c = \alpha \mathcal{F} \frac{d\xi}{dt} > 0$  où  $\alpha$  est la variation du nombre d'oxydation du fer lors de la réaction (égal au nombre d'électrons échangés) et  $\xi$  l'avancement de la réaction. On cherche à le relier à la variation de la masse de la pièce de fer  $\frac{dm}{dt}$ .

a) Déterminer la valeur de  $\alpha$  .....

b) Exprimer  $\frac{dm}{dt}$  en fonction de  $\frac{d\xi}{dt}$  et de la masse molaire du fer .....

c) En déduire la relation entre le courant de corrosion  $i_c$  et  $\frac{dm}{dt}$ .

(a)  $i_c = -\frac{2M_{\text{Fe}}}{\mathcal{F}} \frac{dm}{dt}$

(b)  $i_c = -\frac{M_{\text{Fe}}}{2\mathcal{F}} \frac{dm}{dt}$

(c)  $i_c = -\frac{\mathcal{F}}{2M_{\text{Fe}}} \frac{dm}{dt}$

(d)  $i_c = -\frac{2\mathcal{F}}{M_{\text{Fe}}} \frac{dm}{dt}$

.....

**Entraînement 20.10 — Vitesse de corrosion d'une lamelle de cuivre.**



En milieu acide, le cuivre se corrode en ion cuivreux  $\text{Cu}^{2+}$ . La vitesse de corrosion est proportionnelle au courant de corrosion :  $i_{\text{corr}} = 2\mathcal{F} \frac{d\xi}{dt}$ , en notant  $\xi$  l'avancement de la réaction.

Données :

- masse volumique  $\rho_{\text{Cu}} = 8,96 \text{ g} \cdot \text{cm}^{-3}$  ;
- masse molaire  $M_{\text{Cu}} = 63,5 \text{ g} \cdot \text{mol}^{-1}$ .

a) En supposant le courant de corrosion constant, déterminer le temps  $\tau$  nécessaire à la corrosion d'une masse  $m_0$  de cuivre en fonction de  $i_{\text{corr}}$ ,  $M_{\text{Cu}}$ ,  $\mathcal{F}$  et  $m_0$ .

b) Une électrode de cuivre de surface  $S = 2 \text{ cm}^2$  voit son épaisseur passer de  $e_1 = 5,00 \text{ mm}$  à  $e_2 = 4,98 \text{ mm}$  en un temps  $\tau$ . Déterminer  $\tau$  sachant que le courant de corrosion est de  $65 \mu\text{A}$ .

- |                           |                            |
|---------------------------|----------------------------|
| (a) 19 jours et 4 heures  | (c) 193 jours et 23 heures |
| (b) 19 jours et 10 heures | (d) 1 jour et 22 heures    |

c) Une seconde électrode perd 0,1 mg en 1 heure et 45 minutes. L'intensité du courant de corrosion est de  $55 \mu\text{A}$ . Peut-elle être en cuivre ?

Réponses mélangées

- |     |                 |  |  |                                 |  |  |         |     |              |
|-----|-----------------|--|--|---------------------------------|--|--|---------|-----|--------------|
| (b) | $2n\mathcal{F}$ | $2M_{\text{Fe}} \frac{d\xi}{dt}$   | non  | 0,99 V                          | 2  | 0,36 V   | 13 mA   | (a) | $\text{O}_2$ |
| (d) | -1 V            | (a)  | (b)  | -2,55 V                         | (b)  | $2 \text{Zn} + \text{O}_2 + 2 \text{H}_2\text{O} = 2 \text{Zn}^{2+} + 4 \text{HO}^-$ |         |     |              |
| (d) | (b)             | $E_{\text{H}^+/\text{H}_2}^\circ - 0,06 \text{ pH} - 0,03 \log \frac{p_{\text{H}_2}}{p^\circ}$ |  | oui                             | 60 mC  | 7,8 C  | Le zinc |     |              |
| (b) | (a)             | (c)  | $\text{Mg} + 2 \text{H}^+ = \text{Mg}^{2+} + \text{H}_2$ |                                 | Zn   | (b),(d)  | -0,24 V | (a) |              |
| (c) | (b)             | (a)  | (a)  | $5 \times 10^{-6} \text{ mol}$  | $E_{\text{Mg}^{2+}/\text{Mg}}^\circ + 0,03 \log \left( \frac{[\text{Mg}^{2+}]}{C^\circ} \right)$ |  |         |     |              |
|     | 1,9 C           | (d)  | 0,20 $\mu\text{g}$                                       | $\text{O}_2/\text{H}_2\text{O}$ | Le fer   | $\frac{2\mathcal{F}m_0}{i_{\text{corr}}M_{\text{Cu}}}$                               |         | (e) |              |

► Réponses et corrigés page 330



# Réponses et corrigés

# Fiche n° 1. Opérateurs vectoriels

## Réponses

- 1.1 ..... (d)
- 1.2 a) ..... 
$$\begin{aligned} &\left(z + y + \frac{yz}{a}\right)\vec{e}_x + \left(x + z + \frac{xz}{a}\right)\vec{e}_y \\ &+ \left(x + y + \frac{yx}{a}\right)\vec{e}_z \end{aligned}$$
- 1.2 b) .....  $6x\vec{e}_x + 2a\vec{e}_y - 2a\vec{e}_z$
- 1.2 c) ..... 
$$\begin{aligned} &(2xy + z^2)\vec{e}_x + (2yz + x^2)\vec{e}_y \\ &+ (2xz + y^2)\vec{e}_z \end{aligned}$$
- 1.2 d) .....  $2y\vec{e}_x + 2x\vec{e}_y + 4\frac{a^2}{b}e^{z/(2b)}\vec{e}_z$
- 1.2 e) .....  $16xy\vec{e}_x + \left(8x^2 - \frac{6a^4}{y^2}\right)\vec{e}_y - 5b^2\vec{e}_z$
- 1.3 a) .....  $\left(-\frac{2r}{a} - 2\theta\right)\vec{e}_r - 2\vec{e}_\theta + 3\vec{e}_z$
- 1.3 b) .....  $-\frac{2a^2}{r^3}e^{5\theta}\vec{e}_r + \frac{5a^2}{r^3}e^{5\theta}\vec{e}_\theta$
- 1.3 c) .....  $\frac{r}{\sqrt{r^2 - a^2}}\vec{e}_r$
- 1.3 d) .....  $28\frac{\theta r^3}{a^4}\vec{e}_r + 7\frac{r^3}{a^4}\vec{e}_\theta + \frac{1}{z}\vec{e}_z$
- 1.3 e) .....  $-\frac{z \sin \theta}{r^2}\vec{e}_r + \frac{z \cos \theta}{r^2}\vec{e}_\theta + \frac{\sin \theta}{r}\vec{e}_z$
- 1.4 ..... (a)
- 1.5 a) ..... 16
- 1.5 b) ..... (c)
- 1.5 c) ..... (b)
- 1.5 d) ..... (a)
- 1.5 e) ..... (c)
- 1.5 f) .....  $2\sqrt{17}$
- 1.6 a) ..... (a)
- 1.6 b) ..... (b)
- 1.6 c) ..... (a)
- 1.6 d) ..... (b)
- 1.6 e) ..... (a)
- 1.7 a) .....  $6x + 2a - 2b$
- 1.7 b) .....  $2x + 4\frac{a^2}{b}e^{\frac{z}{b}}$
- 1.7 c) .....  $16xy - \frac{6x^4}{y^2}$
- 1.7 d) ..... 0
- 1.7 e) .....  $x(2y - x)$
- 1.8 a) .....  $-3\frac{r}{a} + 1$
- 1.8 b) ..... 0
- 1.9 ..... (b)
- 1.10 a) ..... 3
- 1.10 b) ..... 3
- 1.10 c) ..... (b)
- 1.11 a) .....  $\vec{0}$
- 1.11 b) .....  $-4ce^{\frac{z}{c}}\vec{e}_x - 2x\vec{e}_z$
- 1.11 c) .....  $\frac{8x^2}{y}(3x - y)\vec{e}_z$
- 1.11 d) .....  $2\vec{e}_y$
- 1.11 e) .....  $x^2\vec{e}_x - 2xy(\vec{e}_y + \vec{e}_z) - x^2\vec{e}_z$
- 1.12 a) .....  $-4\theta\vec{e}_z$
- 1.12 b) .....  $2\vec{e}_z$
- 1.13 a) ..... (b)



- 1.13 b) .....  $0,80 \text{ UA/m}$
- 1.13 c) .....  $\textcircled{a}$
- 1.13 d) .....  $2$
- 1.14 a) .....  $\frac{2y}{a}$
- 1.14 b) .....  $2$
- 1.14 c) .....  $6 - \frac{b^2}{z^2}$
- 1.15 .....  $\begin{pmatrix} \frac{2y}{a} \\ \frac{a}{2} \\ 6 - \frac{b^2}{z^2} \end{pmatrix}$
- 1.16 a) .....  $\textcircled{c}$
- 1.16 b) .....  $\textcircled{b}$
- 1.16 c) .....  $\textcircled{d}$
- 1.16 d) .....  $\textcircled{a}$
- 1.16 e) .....  $\textcircled{d}$

- 1.17 a) .....  $\vec{e}_r + \frac{2a}{r}\vec{e}_\theta + \frac{-6b}{r \sin \theta \varphi^2}\vec{e}_\varphi$
- 1.17 b) .....  $3r^2 \begin{pmatrix} \sin^3(\theta - \varphi) \\ \cos(\theta - \varphi) \sin^2(\theta - \varphi) \\ -\frac{1}{\sin \theta} \cos(\theta - \varphi) \sin^2(\theta - \varphi) \end{pmatrix}$
- 1.17 c) .....  $r\sqrt{\varphi} \begin{pmatrix} 2 \sin \theta \\ \cos \theta \\ \frac{1}{2\varphi} \end{pmatrix}$
- 1.17 d) .....  $\frac{1}{r \cos^2 \theta} \vec{e}_\theta$
- 1.18 a) .....  $3 + \frac{4a \cos \theta}{r} - \frac{6}{\varphi^2} \frac{a}{\sin \theta r}$
- 1.18 b) .....  $4r \sin \theta \sqrt{\varphi} + 2r \cos \theta \sqrt{\varphi} + \frac{r}{2\sqrt{\varphi}}$
- 1.18 c) .....  $1/\tan(\theta)$
- 1.19 a) .....  $\frac{6b}{r\varphi \tan \theta} \vec{e}_r - \frac{6b}{r\varphi} \vec{e}_\theta + \frac{2a\theta}{r} \vec{e}_\varphi$
- 1.19 b) .....  $\frac{r}{2\sqrt{\varphi}} \vec{e}_\theta - r\sqrt{\varphi} \cos(\theta) \vec{e}_\varphi$
- 1.19 c) .....  $2\vec{e}_\varphi$

## Corrigés

**1.1** Calculons les trois composantes du vecteur gradient dans le système de coordonnées cartésiennes  $(x, y, z)$ .  
On a

$$\frac{\partial V}{\partial x} = yz, \quad \frac{\partial V}{\partial y} = xz \quad \text{et} \quad \frac{\partial V}{\partial z} = xy.$$

Parmi les solutions proposées, la  $\textcircled{c}$  est donc exclue.

Les solutions  $\textcircled{a}$ ,  $\textcircled{b}$  et  $\textcircled{d}$  sont possibles (termes de droite corrects) mais les notations des gradients (termes de gauche) ne sont pas tous valables.

La notation  $\vec{\nabla}$  comme  $\overrightarrow{\text{grad}}$  doit être surmontée d'une flèche pour qualifier la nature vectorielle de l'opérateur gradient, donc les réponses  $\textcircled{a}$  et  $\textcircled{b}$  sont exclues. Précisons que le gradient s'applique à un champ scalaire donc un champ dont la notation ne doit pas être surmontée d'une flèche : deuxième manière d'exclure la réponse  $\textcircled{b}$ .

La réponse  $\textcircled{d}$  est l'ultime solution restante, on constate bien qu'elle ne comporte aucune erreur de notation.

.....

**1.2 a)** Posons  $f(x, y, z) = xy + yz + zx + \frac{xyz}{a}$ . Calculons les dérivées partielles : on a

$$\frac{\partial f}{\partial x} = y + z + \frac{yz}{a}, \quad \frac{\partial f}{\partial y} = x + z + \frac{xz}{a} \quad \text{et} \quad \frac{\partial f}{\partial z} = y + x + \frac{xy}{a}.$$

Donc le vecteur gradient de  $f$  s'écrit  $\left(z + y + \frac{yz}{a}\right)\vec{e}_x + \left(x + y + \frac{xz}{a}\right)\vec{e}_y + \left(x + y + \frac{xy}{a}\right)\vec{e}_z$ .

La réponse attendue est bien un vecteur !

**1.2 b)** Posons  $f(x, y, z) = 3x^2 + 2a(y - z) + b^2$ . Calculons les dérivées partielles : on a

$$\frac{\partial f}{\partial x} = 6x, \quad \frac{\partial f}{\partial y} = 2a \quad \text{et} \quad \frac{\partial f}{\partial z} = -2a.$$

Donc le vecteur gradient de  $f$  s'écrit  $6x\vec{e}_x + 2a\vec{e}_y - 2a\vec{e}_z$ .

**1.2 c)** Posons  $f(x, y, z) = x^2y + y^2z + z^2x + a^3$ . Calculons les dérivées partielles : on a

$$\frac{\partial f}{\partial x} = 2xy + z^2, \quad \frac{\partial f}{\partial y} = x^2 + 2yz \quad \text{et} \quad \frac{\partial f}{\partial z} = y^2 + 2zx.$$

Donc le vecteur gradient de  $f$  s'écrit  $(2xy + z^2)\vec{e}_x + (2yz + x^2)\vec{e}_y + (2zx + y^2)\vec{e}_z$ .

**1.2 d)** Posons  $f(x, y, z) = 2xy + 8a^2e^{z/(2b)} - 6c^2$ . Calculons les dérivées partielles : on a

$$\frac{\partial f}{\partial x} = 2y, \quad \frac{\partial f}{\partial y} = 2x \quad \text{et} \quad \frac{\partial f}{\partial z} = 4\frac{a^2}{b}e^{z/(2b)}.$$

Donc le vecteur gradient de  $f$  s'écrit  $2y\vec{e}_x + 2x\vec{e}_y + 4\frac{a^2}{b}e^{z/(2b)}\vec{e}_z$ .

**1.2 e)** Posons  $f(x, y, z) = 8x^2y + \frac{6a^4}{y} - 5b^2z$ . Calculons les dérivées partielles : on a

$$\frac{\partial f}{\partial x} = 16xy, \quad \frac{\partial f}{\partial y} = (8x^2 - \frac{6a^4}{y^2}) \quad \text{et} \quad \frac{\partial f}{\partial z} = -5b^2.$$

Donc le vecteur gradient de  $f$  s'écrit  $16xy\vec{e}_x + \left(8x^2 - \frac{6a^4}{y^2}\right)\vec{e}_y - 5b^2\vec{e}_z$ .

**1.3 a)** Posons  $f(r, \theta, z) = 3z - \frac{r^2}{a} - 2r\theta$ . Calculons les dérivées partielles : on a

$$\frac{\partial f}{\partial r} = -\frac{2r}{a} - 2\theta, \quad \frac{\partial f}{\partial \theta} = -2r \quad \text{et} \quad \frac{\partial f}{\partial z} = 3.$$

Donc le vecteur gradient de  $f$  s'écrit  $-\left(\frac{2r}{a} + 2\theta\right)\vec{e}_r - 2\vec{e}_\theta + 3\vec{e}_z$ .

**1.3 b)** Posons  $f(r, \theta, z) = \frac{a^2}{r^2}e^{5\theta}$ . Calculons les dérivées partielles : on a

$$\frac{\partial f}{\partial r} = -\frac{2a^2}{r^3}e^{5\theta}, \quad \frac{\partial f}{\partial \theta} = \frac{5a^2}{r^2}e^{5\theta} \quad \text{et} \quad \frac{\partial f}{\partial z} = 0.$$

Donc le vecteur gradient de  $f$  s'écrit  $-\frac{2a^2}{r^3}e^{5\theta}\vec{e}_r + \frac{5a^2}{r^3}e^{5\theta}\vec{e}_\theta$ .

**1.3 c)** Posons  $f(r, \theta, z) = \sqrt{r^2 - a^2}$ . Calculons les dérivées partielles : on a

$$\frac{\partial f}{\partial r} = \frac{r}{\sqrt{r^2 - a^2}}, \quad \frac{\partial f}{\partial \theta} = 0 \quad \text{et} \quad \frac{\partial f}{\partial z} = 0.$$

Donc le vecteur gradient de  $f$  s'écrit  $\frac{r}{\sqrt{r^2 - a^2}} \vec{e}_r$ .

**1.3 d)** Posons  $f(r, \theta, z) = 7\left(\frac{r}{a}\right)^4 \theta + \ln(z/b)$ . Calculons les dérivées partielles : on a

$$\frac{\partial f}{\partial r} = 28 \frac{\theta r^3}{a^4}, \quad \frac{\partial f}{\partial \theta} = 7 \frac{r^2}{a^4} \quad \text{et} \quad \frac{\partial f}{\partial z} = \frac{1}{z}.$$

Donc le vecteur gradient de  $f$  s'écrit  $28 \frac{\theta r^3}{a^4} \vec{e}_r + 7 \frac{r^2}{a^4} \vec{e}_\theta + \frac{1}{z} \vec{e}_z$ .

**1.3 e)** Posons  $f(r, \theta, z) = \frac{z}{r} \sin(\theta)$ . Calculons les dérivées partielles : on a

$$\frac{\partial f}{\partial r} = -\frac{z \sin \theta}{r^2}, \quad \frac{\partial f}{\partial \theta} = \frac{z \cos \theta}{r} \quad \text{et} \quad \frac{\partial f}{\partial z} = \frac{\sin \theta}{r}.$$

Donc le vecteur gradient de  $f$  s'écrit  $-\frac{z \sin \theta}{r^2} \vec{e}_r + \frac{z \cos \theta}{r^2} \vec{e}_\theta + \frac{\sin \theta}{r} \vec{e}_z$ .

**1.4** Considérons la notation du gradient (terme de gauche des équations proposées). La réponse (d) est exclue car la notation nabla d'un gradient ne fait pas intervenir le produit scalaire. La réponse (c) est exclue car le couple de variables ne correspond à aucun de ceux proposés par l'énoncé. Considérons donc la formule cartésienne du gradient (terme de droite des équations proposées) pour les deux options restantes. La réponse (b) fait une interversion des coordonnées de dérivation et de celles de direction, elle est donc exclue. La bonne réponse est (a).

**1.5 a)** On a  $g(A) = g(-1, 1, 2) = (-1 - 2)^2 + (1 + 1)^2 + 2^2 - 1 = 9 + 4 + 4 - 1 = 16$ .

**1.5 b)** Exprimons le gradient de la fonction scalaire  $g$ . On a

$$\vec{\text{grad}}(g(x, y, z)) = \frac{\partial g}{\partial x} \vec{e}_x + \frac{\partial g}{\partial y} \vec{e}_y + \frac{\partial g}{\partial z} \vec{e}_z = (2(x - 2)) \vec{e}_x + (2y + 2) \vec{e}_y + 2z \vec{e}_z.$$

Par projection sur l'axe de direction  $\vec{e}_z$  on obtient la quantité  $2z$ . Réponse (c).

**1.5 c)** Exprimons le gradient de la fonction scalaire  $g$ . On a

$$\vec{\text{grad}}(g(x, y, z)) = \frac{\partial g}{\partial x} \vec{e}_x + \frac{\partial g}{\partial y} \vec{e}_y + \frac{\partial g}{\partial z} \vec{e}_z = (2(x - 2)) \vec{e}_x + (2y + 2) \vec{e}_y + 2z \vec{e}_z.$$

Par projection sur l'axe de direction  $\vec{e}_y$  on obtient la quantité  $2y + 2$ . Réponse (c).

**1.5 d)** Exprimons le gradient de la fonction scalaire  $g$ . On a

$$\vec{\text{grad}}(g(x, y, z)) = \frac{\partial g}{\partial x} \vec{e}_x + \frac{\partial g}{\partial y} \vec{e}_y + \frac{\partial g}{\partial z} \vec{e}_z = (2(x - 2)) \vec{e}_x + (2y + 2) \vec{e}_y + 2z \vec{e}_z.$$

Par projection sur l'axe de direction  $\vec{e}_x$  on obtient la quantité  $2x - 4$ . Réponse (a).

**1.5 e)** Exprimons le gradient de la fonction scalaire  $g$ . On a

$$\overrightarrow{\text{grad}}(g(x, y, z)) = \frac{\partial g}{\partial x} \vec{e}_x + \frac{\partial g}{\partial y} \vec{e}_y + \frac{\partial g}{\partial z} \vec{e}_z = (2(x-2))\vec{e}_x + (2y+2)\vec{e}_y + 2z\vec{e}_z.$$

Cette notation est équivalente au vecteur colonne de la réponse (c).

**1.5 f)** Connaissant les composantes du gradient d'après les réponses précédentes, on peut exprimer la norme du vecteur gradient  $\|\overrightarrow{\nabla}g(x, y, z)\|$  en un point quelconque. On a

$$\|\overrightarrow{\nabla}g(x, y, z)\| = \sqrt{(2x-4)^2 + (2y+2)^2 + 4z^2}.$$

On réalise l'application numérique au point  $A(-1, 1, 2)$  : on a

$$\|\overrightarrow{\nabla}g(A)\| = \|\overrightarrow{\nabla}g(-1, 1, 2)\| = \sqrt{(-2-4)^2 + (2+2)^2 + 4 \times 2^2} = \sqrt{36 + 16 + 16} = \sqrt{68} = 2\sqrt{17}.$$

**1.6 a)** Rappelons l'expression du gradient en coordonnées cartésiennes : on a

$$\overrightarrow{\text{grad}}(f(x, y, z)) = \frac{\partial f}{\partial x} \vec{e}_x + \frac{\partial f}{\partial y} \vec{e}_y + \frac{\partial f}{\partial z} \vec{e}_z.$$

Or, ici  $\overrightarrow{\text{grad}} f = 2xy\vec{e}_x + x^2\vec{e}_y + a^2\vec{e}_z$ , donc par identification :  $\frac{\partial f}{\partial x} = 2xy$ ,  $\frac{\partial f}{\partial y} = x^2$  et  $\frac{\partial f}{\partial z} = a^2$ . Réponse (a).

**1.6 b)** On a  $\frac{\partial f}{\partial x} = 2xy$  donc par intégration par rapport à la variable  $x$  il vient  $f(x, y, z) = x^2y + \text{Cste}$  avec  $\text{Cste} = g(y, z)$  une fonction des coordonnées  $y$  et  $z$  car  $\frac{\partial g(y, z)}{\partial x} = 0$ . Réponse (b).

**1.6 c)** On a  $f(x, y, z) = x^2y + g(y, z)$  donc  $\frac{\partial f(x, y, z)}{\partial y} = x^2 + \frac{\partial g(y, z)}{\partial y}$ . Or, d'après l'énoncé, on a

$$\frac{\partial f(x, y, z)}{\partial y} = x^2.$$

On déduit de ces deux équations que l'on a nécessairement  $\frac{\partial g}{\partial y} = 0$ . Réponse (a).

**1.6 d)** On a  $\frac{\partial g(y, z)}{\partial y} = 0$  donc par intégration par rapport à la variable  $y$  il vient  $g(y, z) = \text{Cste}$  avec  $\text{Cste} = h(z)$  une fonction de la seule coordonnée  $z$  car  $\frac{\partial h(z)}{\partial y} = 0$ .

On a  $f(x, y, z) = x^2y + g(y, z) = x^2y + h(z)$  donc  $\frac{\partial f(x, y, z)}{\partial z} = \frac{\partial h}{\partial z}$ . Or, on sait d'après l'énoncé que  $\frac{\partial f}{\partial z} = a^2$ .

On déduit de ces deux équations que l'on a nécessairement  $\frac{\partial h}{\partial z} = a^2$  donc  $h(z) = a^2z + \text{Cste}$  soit finalement  $g = a^2z + \text{Cste}$ . Réponse (b).

**1.6 e)** On a  $f(x, y, z) = x^2y + g(y, z) = x^2y + h(z) = x^2y + a^2z + \text{Cste}$ . On a donc  $f(0, 0, 0) = \text{Cste}$ , or  $f(0, 0, 0) = 0$  donc  $\text{Cste} = 0$ . Réponse (a).

**1.7 a)** Pour éviter les étourderies vous pouvez vérifier que les trois termes de la somme ont bien la même dimension et que cette dimension correspond à la dimension de l'argument de l'opérateur divergence divisée par une longueur.

1.7 b) On a  $0 + 2x + 8 \frac{a^2}{2b} e^{\frac{z}{2b}} = 2x + 4 \frac{a^2}{b} e^{\frac{z}{2b}}$ .

1.7 c) On a  $8 \times 2xy - \frac{6x^4}{y^2} + 0 = 16y - \frac{6x^4}{y^2}$ .

1.7 d) On a  $0 + 0 = 0$ .

1.7 e) On a  $2xy - x^2 = x(2y - x)$ .

1.8 a) On a  $-3 \frac{r}{a} - 2 + 3 = -3 \frac{r}{a} + 1$ .

1.8 b) La composante  $A_\theta$  ne dépend pas de  $\theta$ !

1.9 Il faut calculer chacune des divergences au point A.

• Cas (a) : on a  $\operatorname{div}(x^2 \vec{e}_x + y^2 \vec{e}_y + z^2 \vec{e}_z) = 2x + 2y + 2z$  donc la valeur de divergence en A vaut

$$2 \times (-1) + 2 \times (-1) + 2 \times 1 = -2.$$

• Cas (b) : on a  $\operatorname{div}(y^2 \vec{e}_x + x^2 \vec{e}_y + z^2 \vec{e}_z) = 2z$  donc la valeur de divergence en A vaut  $2 \times 1 = +2$ .

• Cas (c) : on a  $\operatorname{div}(z^2 \vec{e}_x + x^2 \vec{e}_y + y^2 \vec{e}_z) = 0$  donc la valeur de divergence en A vaut 0.

• Cas (d) : on a  $\operatorname{div}(y^2 \vec{e}_x + x^2 \vec{e}_z + z^2 \vec{e}_y) = 0$  donc la valeur de divergence en A vaut 0.

La valeur de divergence maximale est dans le cas (b).

1.10 a) On a  $1 + 1 + 1 = 3$ .

1.10 b) On a  $\frac{1}{r^2} \frac{\partial(r^2 \cdot r)}{\partial r} + 0 + 0 = \frac{3r^2}{r^2} = 3$ .

1.10 c) On a  $\frac{1}{r} \frac{\partial(r \cdot r)}{\partial r} + 0 + 0 = \frac{2r}{r} = 2$ . Réponse (b).

1.11 a) On a  $(0 - 0) \vec{e}_x + (0 - 0) \vec{e}_y + (0 - 0) \vec{e}_z = \vec{0}$ .

1.11 b) On a  $\left(0 - \frac{8c^2}{2c} e^{\frac{z}{2c}}\right) \vec{e}_x + (0 - 0) \vec{e}_y + (0 - 2x) \vec{e}_z = -4c e^{\frac{z}{2c}} \vec{e}_x - 2x \vec{e}_z$ .

1.11 c) On a  $(0 - 0) \vec{e}_x + (0 - 0) \vec{e}_y + \left(\frac{24x^3}{y} - 8x^2\right) \vec{e}_z = \frac{8x^2}{y} (3x - y) \vec{e}_z$ .

1.11 d) On a  $(0 - 0) \vec{e}_x + (1 - (-1)) \vec{e}_y + (0 - 0) \vec{e}_z = 2 \vec{e}_y$ .

1.11 e) On a  $(x^2 - 0) \vec{e}_x + (0 - 2xy) \vec{e}_y + (-2xy - x^2) \vec{e}_z = x^2 \vec{e}_x - 2xy(\vec{e}_y + \vec{e}_z) - x^2 \vec{e}_z$ .

1.12 a) On a  $\left(\frac{1}{r} \times (0) - 0\right) \vec{e}_r + (0 - 0) \vec{e}_\theta + \left(\frac{1}{r} \frac{\partial(-2r^2\theta)}{\partial r} - 0\right) \vec{e}_z = -4\theta \vec{e}_z$ .

**1.12 b)** On a  $\left(\frac{1}{r} \times (0) - 0\right)\vec{e}_r + (0 - 0)\vec{e}_\theta + \left(\frac{1}{r} \frac{\partial(r^2)}{\partial r} - 0\right)\vec{e}_z = 2\vec{e}_z$ .

**1.13 a)** Par définition du potentiel, on a  $d\Phi = \overrightarrow{\text{grad}}\Phi \cdot d\vec{\ell} = \vec{v} \cdot d\vec{\ell}$ . Cette quantité étant nulle sur une équipotentielle par définition, le vecteur  $\vec{v}$  doit être nécessairement orthogonal au vecteur  $d\vec{\ell}$  en tout point de l'équipotentielle. Réponse (b).

**1.13 b)** Au premier ordre on peut écrire que  $v(C) \approx \frac{\Delta\Phi}{\Delta\ell}$ . Graphiquement, au niveau du point C, on a :

$$\Delta\Phi = 1,60 \text{ UA} - 1,20 \text{ UA} = 0,40 \text{ UA} \quad \text{et} \quad \Delta\ell = AC = 0,50 \text{ m} \quad \text{donc} \quad v(C) \approx 0,80 \text{ UA/m.}$$

**1.13 c)** Le champ demandé est orienté dans le sens du gradient de  $\Phi$ , c'est-à-dire dans le sens des potentiels croissants. Réponse (a).

**1.13 d)** Les deux points C et D sont sur une même ligne de champ. En considérant un tube de champ centré sur cette ligne de champ commune et qui s'appuie sur les deux autres lignes de champ de la figure, on peut écrire que :  $S_C v_C = S_D v_D$ . Les valeurs de S sont proportionnelles à la distance sur le graphe entre les deux lignes de champs délimitant le tube, donc en mesurant ces distances au niveau des points C et D on a :  $\frac{S_D}{S_C} \approx \frac{1,6 \text{ cm}}{0,8 \text{ cm}} = 2,0$ . L'intensité du champ  $\vec{v}$  est environ 2 fois plus importante en C qu'en D. On retrouve le fait que plus les lignes de champs sont resserrées, plus le champ est intense.

**1.14 a)** Posons  $f(x, y, z) = \frac{x^2 y}{a} + bz + c^2$ . Calculons les dérivées partielles secondes : on a

$$\frac{\partial^2 f}{\partial x^2} = \frac{2y}{a}, \quad \frac{\partial f}{\partial y} = 0 \quad \text{et} \quad \frac{\partial f}{\partial z} = 0.$$

Donc le laplacien scalaire de  $f$  s'écrit  $\frac{2y}{a}$ .

**1.14 b)** Posons  $f(x, y, z) = y^2 - 5az$ . Calculons les dérivées partielles secondes : on a

$$\frac{\partial^2 f}{\partial x^2} = 0, \quad \frac{\partial f}{\partial y} = 2 \quad \text{et} \quad \frac{\partial f}{\partial z} = 0.$$

Donc le laplacien scalaire de  $f$  s'écrit 2.

**1.14 c)** Posons  $f(x, y, z) = b^2 \ln\left(\frac{z}{a}\right) + 3x^2$ . Calculons les dérivées partielles secondes : on a

$$\frac{\partial^2 f}{\partial x^2} = 6, \quad \frac{\partial f}{\partial y} = 0 \quad \text{et} \quad \frac{\partial f}{\partial z} = -\frac{b^2}{z^2}.$$

Donc le laplacien scalaire de  $f$  s'écrit  $6 - \frac{b^2}{z^2}$ .

**1.15** Posons  $A_x(x, y, z) = \frac{x^2 y}{a} + bz + c^2$  puis  $A_y = y^2 - 5az$  et  $A_z = b^2 \ln\left(\frac{z}{a}\right) + 3x^2$ . On calcule les laplaciens scalaires de ces trois fonctions selon la formule :  $\Delta(f(x, y, z)) = \frac{\partial^2 f}{\partial x^2} + \frac{\partial^2 f}{\partial y^2} + \frac{\partial^2 f}{\partial z^2}$ .

On obtient  $\Delta A_x = \frac{2y}{a}$ ,  $\Delta A_y = 2$  et  $\Delta A_z = 6 - \frac{b^2}{z^2}$ . Le laplacien vectoriel s'écrit donc :  $\frac{2y}{a}\vec{e}_x + 2\vec{e}_y + 6 - \frac{b^2}{z^2}\vec{e}_z$ , que l'on peut aussi mettre sous la forme du vecteur colonne proposée en réponse.

**1.16 a)** Ne pas oublier d'indiquer qu'il s'agit d'un opérateur vectoriel :  $\overrightarrow{\text{grad}} A$  et non  $\text{grad}(A)$  !!

**1.16 b)** L'argument est un vecteur, pensez à choisir la base de projection de façon à faciliter le calcul.

**1.16 c)** Ne pas oublier d'indiquer qu'il s'agit d'un opérateur vectoriel :  $\overrightarrow{\text{rot}} \vec{A}$  et non  $\text{rot}(\vec{A})$  !!

**1.16 d)** Vérifiez l'homogénéité des trois termes : homogénéité de l'argument du laplacien divisée par le carré d'une longueur !

**1.16 e)** Neuf termes à calculer ! Heureusement souvent beaucoup sont nuls du fait des symétries et invariances...

**1.17 a)** Posons  $f(r, \theta, \varphi) = r + 2a\theta + \frac{6b}{\varphi}$ . Calculons les dérivées partielles : on a

$$\frac{\partial f}{\partial r} = 1, \quad \frac{\partial f}{\partial \theta} = 2a \quad \text{et} \quad \frac{\partial f}{\partial \varphi} = \frac{-6b}{\varphi^2}.$$

Donc le vecteur gradient de  $f$  s'écrit  $1\vec{e}_r + \frac{2a}{r}\vec{e}_\theta + \frac{-6b}{r \sin \theta \varphi^2}\vec{e}_\varphi$ .

**1.17 b)** Posons  $f(r, \theta, \varphi) = (r \sin(\theta - \varphi))^3$ . Calculons les dérivées partielles : on a

$$\frac{\partial f}{\partial r} = 3r^2 \sin^3(\theta - \varphi), \quad \frac{\partial f}{\partial \theta} = 3r^3 \cos(\theta - \varphi) \sin^2(\theta - \varphi) \quad \text{et} \quad \frac{\partial f}{\partial \varphi} = -\cos(\theta - \varphi) \sin^2(\theta - \varphi) \sin \theta.$$

Donc, le vecteur gradient de  $f$  s'écrit bien sous la forme du vecteur colonne proposée en réponse.

**1.17 c)** Posons  $f(r, \theta, \varphi) = r^2 \sqrt{\varphi} \sin \theta$ . Calculons les dérivées partielles : on a

$$\frac{\partial f}{\partial r} = 2 \sin \theta, \quad \frac{\partial f}{\partial \theta} = r \cos \theta \quad \text{et} \quad \frac{\partial f}{\partial \varphi} = \frac{r \sin \theta}{2\varphi}.$$

Donc, le vecteur gradient de  $f$  s'écrit bien sous la forme du vecteur colonne proposée en réponse.

**1.17 d)** La seule dérivée partielle non nulle est celle par rapport à la coordonnée  $\theta$ . On peut soit utiliser la dérivation de la fonction tangente soit développer grâce à l'identité  $\tan \theta = \frac{\sin \theta}{\cos \theta}$ .

**1.18 a)** On calcule  $3\frac{r^2}{r^2} + \frac{1}{r \sin \theta} 2 \sin \theta \cos \theta + \frac{1}{r \sin \theta} \frac{-6a}{\varphi^2} = 3 + \frac{2 \cos \theta}{r} - \frac{6}{\varphi^2 \sin \theta} \frac{a}{r}$ .

**1.18 b)** On calcule  $\frac{4r^3}{r^2} \sin \theta \sqrt{\varphi} + \frac{1}{r \sin \theta} 2 \sin \theta \cos \theta r^2 \sqrt{\varphi} + \frac{1}{r \sin \theta} r^2 \sin \theta \frac{1}{2\sqrt{\varphi}} = 4r \sin \theta \sqrt{\varphi} + 2r \cos \theta \sqrt{\varphi} + \frac{r}{2\sqrt{\varphi}}$ .

**1.18 c)** La composante  $A_\theta$  ne dépend que de  $r$ .

**1.19 a)** On calcule  $\frac{1}{r \sin \theta} \left( \frac{6b}{\varphi} \cos \theta - 0 \right) \vec{e}_r + \left( \frac{1}{r \sin \theta} \times 0 - \frac{1}{r} \frac{6b}{\varphi} \right) \vec{e}_\theta + \frac{1}{r} (2a\theta - 0) \vec{e}_\varphi$ .

**1.19 b)** On a

$$\begin{aligned} & \text{rot}(r^2 \sin(\theta) \sqrt{\varphi} \vec{e}_r) \\ &= \frac{1}{r \sin \theta} (0 - 0) \vec{e}_r + \left( \frac{1}{r \sin \theta} \times \frac{\partial}{\partial \varphi} (r^2 \sin(\theta) \sqrt{\varphi}) - \frac{1}{r} \times 0 \right) \vec{e}_\theta + \frac{1}{r} \left( 0 - \frac{\partial}{\partial \theta} (r^2 \sin(\theta) \sqrt{\varphi}) \right) \vec{e}_\varphi \\ &= \frac{1}{r \sin \theta} \times \frac{\partial}{\partial \varphi} (r^2 \sin(\theta) \sqrt{\varphi}) \vec{e}_\theta - \frac{1}{r} \frac{\partial}{\partial \theta} (r^2 \sin(\theta) \sqrt{\varphi}) \vec{e}_\varphi \\ &= \frac{r}{2\sqrt{\varphi}} \vec{e}_\theta - r \sqrt{\varphi} \cos(\theta) \vec{e}_\varphi. \end{aligned}$$

---

**1.19 c)** On calcule  $\frac{1}{r \sin \theta} (0 - 0) \vec{e}_r + \left( \frac{1}{r \sin \theta} \times 0 - \frac{1}{r} \times 0 \right) \vec{e}_\theta + \frac{1}{r} \left( \frac{\partial}{\partial r} (r^2) - 0 \right) \vec{e}_\varphi = 2\vec{e}_\varphi$ .

---



## Fiche n° 2. Changements de référentiel

### Réponses

2.1 a) .....	<input type="radio"/> b	2.5 c) .....	<input type="radio"/> d	2.11 a) .....	0,5
2.1 b) .....	<input type="radio"/> a	2.5 d) .....	<input type="radio"/> c	2.11 b) .....	<input type="radio"/> b
2.1 c) .....	<input type="radio"/> d	2.5 e) .....	<input type="radio"/> c	2.11 c) .....	$-mg\vec{e}_y$
2.2 a) .....	Vrai	2.5 f) .....	<input type="radio"/> c	2.11 d) .....	$T \sin(\theta_e)\vec{e}_x + T \cos(\theta_e)\vec{e}_y$
2.2 b) .....	Faux	2.6 a) .....	$\vec{0}$	2.11 e) .....	$-ma\vec{e}_x$
2.2 c) .....	Faux	2.6 b) .....	$m\omega_0^2\ell\vec{e}_r$	2.11 f) .....	<input type="radio"/> d
2.3 a) .....	<input type="radio"/> a	2.6 c) .....	$\frac{m\omega_0^2\ell\vec{e}_r}{2}$	2.11 g) .....	<input type="radio"/> b
2.3 b) .....	<input type="radio"/> b	2.7 .....	<input type="radio"/> c	2.11 h) .....	27°
2.3 c) .....	<input type="radio"/> b	2.8 a) .....	$2m\omega_0v_1\vec{e}_x$	2.12 a) .....	<input type="radio"/> b
2.3 d) .....	<input type="radio"/> b	2.8 b) .....	$2m\omega_0(v_2\vec{e}_y - v_1\vec{e}_z)$	2.12 b) .....	<input type="radio"/> c
2.4 a) .....	<input type="radio"/> c	2.8 c) .....	$-2m\omega_0v_1\vec{e}_\theta$	2.12 c) .....	$\sqrt{\frac{\mu g}{d}}$
2.4 b) .....	<input type="radio"/> b	2.8 d) .....	$2m\omega_0v_1\vec{e}_r$	2.12 d) .....	10 rad · s <sup>-1</sup>
2.4 c) .....	<input type="radio"/> a	2.9 a) .....	<input type="radio"/> c	2.13 a) .....	T <sup>-2</sup>
2.4 d) .....	<input type="radio"/> d	2.9 b) .....	<input type="radio"/> c	2.13 b) .....	<input type="radio"/> b
2.4 e) .....	$-\omega^2 r\vec{e}_r$	2.9 c) .....	$-2m\Omega\dot{z} \cos\lambda\vec{e}_x$	2.13 c) .....	<input type="radio"/> a
2.4 f) .....	$2\omega\dot{r}\vec{e}_\theta$	2.10 a) .....	<input type="radio"/> c	2.13 d) .....	$\frac{v_0}{\Omega} \sin(\Omega t)$
2.4 g) .....	$\ddot{r}\vec{e}_r$	2.10 b) .....	<input type="radio"/> b	2.13 e) .....	<input type="radio"/> c
2.5 a) .....	<input type="radio"/> a	2.10 c) .....	3,8 rad · s <sup>-1</sup>		
2.5 b) .....	<input type="radio"/> a et <input type="radio"/> b				

### Corrigés

2.1 a) Cette trajectoire est appelée cycloïde.

2.1 b) Le centre de la roue est immobile dans le référentiel du vélo, et le point V a une trajectoire circulaire autour de l'axe (fixe) de la roue.

**2.1 c)** La valve V du vélo appartient au solide de référence de ce référentiel : il est donc fixe dans ce référentiel.

**2.2 a)** Le référentiel  $\mathcal{R}_1$  est en translation rectiligne uniforme par rapport à un référentiel galiléen, donc il est lui-même galiléen.

**2.2 b)** Le référentiel  $\mathcal{R}_2$  n'est pas en translation rectiligne uniforme par rapport à un référentiel galiléen (il est en rotation !), donc il n'est pas galiléen.

**2.2 c)** Le référentiel  $\mathcal{R}_3$  n'est pas en translation rectiligne uniforme par rapport à un référentiel galiléen (il est accéléré !), donc il n'est pas galiléen.

**2.3 a)**  $\mathcal{R}_t$  est un référentiel en translation rectiligne uniforme par rapport au référentiel terrestre (supposé galiléen), donc il est lui-même galiléen.  $\mathcal{R}_p$  est immobile par rapport à  $\mathcal{R}_t$  donc  $\mathcal{R}_p$  est aussi galiléen. Réponse (a).

**2.3 b)** Le référentiel  $\mathcal{R}_t$  n'est pas en translation rectiligne uniforme par rapport au référentiel terrestre (supposé galiléen) ; donc il n'est pas galiléen.  $\mathcal{R}_p$  est immobile par rapport à  $\mathcal{R}_t$  donc  $\mathcal{R}_p$  n'est pas galiléen.

**2.3 c)** Le référentiel  $\mathcal{R}_t$  est en translation rectiligne non uniforme par rapport au référentiel terrestre (supposé galiléen), donc il n'est pas galiléen. Le référentiel  $\mathcal{R}_p$  est en translation rectiligne uniforme par rapport à  $\mathcal{R}_t$  qui est non galiléen ; donc  $\mathcal{R}_p$  n'est pas galiléen.

**2.3 d)** Le référentiel  $\mathcal{R}_t$  n'est pas en translation rectiligne uniforme par rapport au référentiel terrestre (supposé galiléen), donc il n'est pas galiléen. Le référentiel  $\mathcal{R}_p$  est en mouvement par rapport à  $\mathcal{R}_t$  qui est non galiléen. Il sera *a priori* non galiléen aussi sauf si la vitesse de marche compense exactement le déplacement du train, ce qui paraît peu probable...

**2.4 b)** Le référentiel  $\mathcal{R}'$  n'est pas en translation rectiligne uniforme par rapport au référentiel galiléen  $\mathcal{R}$ , il n'est donc pas galiléen.

**2.4 c)** On rappelle qu'une accélération est homogène à une distance divisée par un temps au carré (comme le montre la formule  $\frac{d^2\vec{OM}}{dt^2}$ ) ; donc, on a  $[a] = L.T^{-2}$ .

On constate que seule la réponse (a) est constituée de deux termes homogènes à une accélération.

**2.4 d)** Par analyse dimensionnelle, on constate que seule la réponse (d) est constituée d'un terme homogène à une accélération.

**2.4 e)** On a  $\vec{a}_e = \vec{\Omega} \wedge (\Omega \vec{e}_z \wedge r \vec{e}_r) = \Omega \vec{e}_z \wedge \omega r \vec{e}_\theta$  soit  $\vec{a}_e = -\omega^2 r \vec{e}_r$ .

**2.4 f)** La vitesse  $\left. \frac{d\vec{OM}}{dt} \right|_{\mathcal{R}'}$  vaut  $r \vec{e}_r$ . Ainsi, l'accélération de Coriolis vaut :  $\vec{a}_C = 2\omega r \vec{e}_\theta$

**2.4 g)** En utilisant l'expression de  $\vec{a}_{\mathcal{R}}(M)$  issue des questions c et d, et la loi de composition des accélérations, on trouve  $\vec{a}_{\mathcal{R}'}(M) = r \vec{e}_r$ .

2.5 a) Le référentiel  $\mathcal{R}_1$  est en rotation dans  $\mathcal{R}_t$ . *A priori*, il faut prendre en compte la force d'inertie centrifuge et à la force d'inertie de Coriolis. Cependant, la vitesse de M dans le référentiel  $\mathcal{R}_1$  est nulle, donc la force de Coriolis est nulle : réponse (a).

2.5 b) Le référentiel  $\mathcal{R}_1$  est en rotation dans  $\mathcal{R}_t$ . *A priori*, il faut prendre en compte la force d'inertie centrifuge et à la force d'inertie de Coriolis : réponses (a), (b).

2.5 c) Le référentiel  $\mathcal{R}_2$  est en translation rectiligne uniforme dans  $\mathcal{R}_t$  : c'est donc un référentiel galiléen. Aucune force d'inertie n'est à prendre en compte : réponse (d).

2.5 d) Le référentiel  $\mathcal{R}_3$  est en translation rectiligne non uniforme dans  $\mathcal{R}_t$  : il non galiléen.

2.5 e) Le référentiel  $\mathcal{R}_3$  est en translation rectiligne non uniforme dans  $\mathcal{R}_t$  : il est non galiléen.

2.5 f) Le référentiel  $\mathcal{R}_4$  est en translation rectiligne non uniforme dans  $\mathcal{R}_t$  : il est non galiléen.

2.6 a) Si le point M est placé sur l'axe de rotation, la distance HM est nulle.

2.6 b) Comme le point M est placé dans le plan  $(O, \vec{e}_x, \vec{e}_y)$  (ou dans le plan  $(O, \vec{e}_r, \vec{e}_\theta)$ ), la distance HM vaut  $\ell$ . Ainsi, on a  $\vec{f}_{ie} = m\omega_0^2 \ell \vec{e}_r$ .

2.6 c) Dans cette situation, on a  $HM = \ell \sin\left(\frac{\pi}{3}\right)$ . Ainsi,  $\vec{f}_{ie} = m\omega_0^2 \ell \sin\left(\frac{\pi}{3}\right) \vec{e}_r = \frac{m\omega_0^2 \ell \vec{e}_r}{2}$ .

2.7 On a  $\vec{f}_{iC} = -2m\Omega_0 \begin{pmatrix} 0 \\ 1 \\ 1 \end{pmatrix} \wedge \begin{pmatrix} v_1 \\ 0 \\ 0 \end{pmatrix} = -2m\Omega_0 v_1 \begin{pmatrix} 0 \\ 1 \\ -1 \end{pmatrix} = 2m\Omega_0 v_1 \begin{pmatrix} 0 \\ -1 \\ 1 \end{pmatrix}$ .

2.8 a) Comme  $\vec{e}_z \wedge \vec{e}_y = -\vec{e}_x$ , alors l'expression de la force de Coriolis est  $\vec{f}_{iC} = 2m\omega_0 v_1 \vec{e}_x$ .

2.8 b) On a  $\vec{f}_{iC} = -2m\vec{\Omega} \wedge \vec{v}(M) = -2m(\omega_0 v_1 \vec{e}_x \wedge \vec{e}_y + \omega_0 v_1 \vec{e}_x \wedge \vec{e}_z)$  ainsi  $\vec{f}_{iC} = 2m\omega_0(v_2 \vec{e}_y - v_1 \vec{e}_z)$ .

2.8 c) Comme  $\vec{e}_z \wedge \vec{e}_r = \vec{e}_\theta$ , alors l'expression de la force de Coriolis est  $\vec{f}_{iC} = -2m\omega_0 v_1 \vec{e}_\theta$ .

2.8 d) Le produit vectoriel  $\vec{e}_z \wedge \vec{e}_z = \vec{0}$ , il faut donc se concentrer sur  $\vec{e}_z \wedge \vec{e}_\theta = -\vec{e}_r$  donc  $\vec{f}_{iC} = 2m\omega_0 v_1 \vec{e}_r$ .

2.9 a) La période de rotation de la Terre sur elle-même est de  $T = 24 \text{ h} = 86\,400 \text{ s}$ ; sa vitesse angulaire autour de l'axe  $(O, Z)$  est donc  $\Omega = \frac{2\pi}{T} = \frac{2\pi}{86\,400} = 7,3 \times 10^{-5} \text{ rad} \cdot \text{s}^{-1}$ .

2.9 b) L'angle entre le vecteur  $\vec{\Omega}$  et l'axe  $(Ay)$  est la latitude  $\lambda$ . Par conséquent, la projection fait apparaître un  $\cos \lambda$  sur  $\vec{e}_y$  et un  $\sin \lambda$  sur  $\vec{e}_z$ . La projection sur  $\vec{e}_x$  est nulle car  $\vec{\Omega} \perp \vec{e}_x$ . C'est donc la réponse (c).

**2.9 c)** Le produit vectoriel  $\Omega \begin{pmatrix} 0 \\ \cos \lambda \\ \sin \lambda \end{pmatrix} \wedge \begin{pmatrix} 0 \\ 0 \\ \dot{z} \end{pmatrix}$  amène  $-2m\Omega \cos \lambda \dot{z} \vec{e}_x$ .

**2.10 a)** Le vecteur  $\vec{HM}$  est nécessairement dirigé radialement, donc suivant le vecteur  $\vec{e}_r$  : réponse (c).

**2.10 b)** Pour commencer, le  $\cos \alpha$  n'a pas de dimension. Seul le rapport  $\frac{g}{\ell}$  est homogène à un temps à la puissance -2, comme doit l'être  $\omega^2$ . C'est donc la réponse (b).

**2.11 a)** On a  $f_{ie} = 0,025 \text{ N}$  et  $P = 0,05 \text{ N}$ , ainsi le rapport entre les deux normes vaut 0,5.

**2.11 b)** Le rapport des normes des forces vaut 0,5 ; les deux forces sont du même ordre de grandeur.

**2.11 f)** L'utilisation du principe fondamental dans un référentiel non galiléen comme  $\mathcal{R}_1$  nécessite l'utilisation des forces d'inertie (d'entraînement ici). La réponse (d) est pour laquelle la force d'entraînement  $\vec{f}_{ie} = -m\vec{a}_e$  est correctement utilisée.

**2.11 g)** Le nombre  $\tan(\theta_e)$  est sans dimension. Seul le rapport de  $a$  sur  $g$  est aussi adimensionné : réponse (b).

**2.12 a)** Le vecteur  $\vec{OA}$  est bien colinéaire et dans le même sens que  $\vec{e}_r$ . C'est donc la réponse (b).

**2.12 b)** Le palet est expulsé radialement par la force centrifuge (dirigée suivant  $+\vec{e}_r$ ). C'est donc la réponse (c).

**2.12 c)** Dans le cas limite, les deux forces radiales se compensent :  $\mu mg = m\omega_{\max}^2 d$ , soit  $\omega_{\max} = \sqrt{\frac{\mu g}{d}}$ .

**2.13 a)** La dimension est identique à celle de l'autre terme de la différence, soit  $T^{-2}$ .

**2.13 b)** C'est le signe de  $\frac{k}{m} - \omega^2$  qui indique la solution. Ici ce terme est négatif. Ce n'est donc pas l'équation de l'oscillateur harmonique ! La solution diverge : (b).

**2.13 c)** C'est le signe de  $\frac{k}{m} - \omega^2$  qui indique la solution. Ici ce terme est positif. C'est l'équation de l'oscillateur harmonique non amorti ! C'est la réponse (a).

**2.13 d)** Comme  $\omega^2 < \frac{k}{m}$ , la solution est du type oscillateur harmonique :  $x(t) = A \cos(\Omega t) + B \sin(\Omega t)$ . L'application de  $x(0) = 0$  implique que  $A = 0$ .

Ainsi,  $\dot{x}(t) = B\Omega \cos(\Omega t)$  et la condition  $\dot{x}(0) = v_0$  impliquent que  $B\Omega = v_0$ .

Finalement,  $x(t) = \frac{v_0}{\Omega} \sin(\Omega t)$ .

**2.13 e)** La solution correspondant à  $\omega^2 > \frac{k}{m}$  est de la forme  $x(t) = A \cosh(\Omega t + \varphi)$ . C'est une solution divergente ; le seul graphique qui représente une solution divergente est le (c).

## Fiche n° 3. Loi du frottement solide

### Réponses

- 3.1 a) .....  c
- 3.1 b) .....  b
- 3.1 c) .....  c
- 3.1 d) .....  a
- 3.2 a) ..... Faux
- 3.2 b) ..... Vrai
- 3.2 c) ..... Faux
- 3.3 .....  a
- 3.4 a) .....  d
- 3.4 b) ..... 2,8 N
- 3.5 a) ..... -1,5 N
- 3.5 b) ..... 3,2 N
- 3.5 c) ..... Faux
- 3.6 .....  c
- 3.7 .....  d
- 3.8 a) .....  $f_d(F \sin(\alpha) - mg)$
- 3.8 b) .....  a
- 3.8 c) .....  $\ddot{x} = -f_d g + \frac{F}{m}$
- 3.9 a) .....  a
- 3.9 b) .....  a
- 3.9 c) .....  $-\left(x_0 + \frac{fmg}{k}\right)\omega_0 \sin(\omega_0 t)\vec{u}_x$
- 3.9 d) ..... 384 ms
- 3.9 e) ..... 3,0 cm
- 3.10 a) .....  $\frac{1}{6}\left(8 - 7\frac{v^2}{gh}\right)$
- 3.10 b) ..... 0,8
- 3.11 a) .....  a
- 3.11 b) ..... 1,6 ms
- 3.11 c) ..... -70  $\mu\text{m}$
- 3.12 a) ..... 5 s
- 3.12 b) ..... 7 s
- 3.12 c) ..... 350 N
- 3.12 d) ..... 175 N
- 3.12 e) .....  b
- 3.12 f) .....  a

### Corrigés

**3.1 a)** La brosse est animée d'un mouvement relatif par rapport au tableau elle ne peut donc être en situation d'adhérence et de plus sa forme de parallélépipède empêche toute possibilité de roulement. Elle glisse sur le tableau, réponse  c.

**3.1 b)** Pour bien comprendre imaginons que les pneus du véhicule comportent en surface des points de peinture. Si le véhicule roule sur une route, alors le mouvement des roues va déposer les points de peinture sur la route : ceux-ci apparaissent nettement après le passage du véhicule : on pourrait dire métaphoriquement que le motif adhère au sol. On dit qu'il y a roulement sans glissement, car la roue adhère au sol. C'est bien le cas ici, donc réponse  b.

**3.1 c)** Pour bien comprendre imaginons que les pneus du véhicule comportent en surface des points de peinture. Si le véhicule à roue freine à tel point que les roues ne tournent plus alors on ne voit plus sur la route qu'une traînée colorée sans motif : l'un d'entre eux est étiré sur la route : on pourrait dire métaphoriquement qu'il glisse. Dans le cas où le véhicule dérape, on imagine très bien que les pneus crissent autrement dit les pneus glissent sur le sol. On dit que la voiture glisse car elle n'adhère pas au sol. C'est bien le cas ici, donc réponse **(c)**. Lorsque la roue glisse mais maintient un mouvement de rotation autour de son axe malgré le dérapage, on dit qu'il y a roulement avec glissement.

**3.1 d)** Le tapis roulant déplace le livre mais celui-ci n'a pas de mouvement relatif par rapport au tapis. La vitesse de glissement est donc nulle, la boîte adhère au tapis, réponse **(a)**.

**3.2 a)** Exprimons la vitesse du tapis en  $\text{m} \cdot \text{s}^{-1}$  :  $v_0 = 3,6 \text{ km} \cdot \text{h}^{-1} = \frac{3600 \text{ m}}{3600 \text{ s}} = 1 \text{ m} \cdot \text{s}^{-1}$ .  
Ainsi,  $\vec{v}_{\text{glissement}}(\text{valise/tapis}) = (v_1 - v_0)\vec{u}_x = 0 \text{ m} \cdot \text{s}^{-1}$ . Le valise de Sam ne glisse pas sur le tapis roulant.

**3.2 b)** Déterminons la vitesse de la valise de Paul :  $v_1 = \frac{p_1}{m} = \frac{8,0 \text{ N} \cdot \text{s}}{15 \text{ kg}} = 0,6 \text{ m} \cdot \text{s}^{-1}$   
Ainsi,  $\vec{v}_{\text{glissement}}(\text{valise/tapis}) = (v_1 - v_0)\vec{u}_x = -0,3 \text{ m} \cdot \text{s}^{-1}$ . La valise de Paul glisse sur le tapis.

**3.2 c)** On a  $\vec{v}_{\text{glissement}}(\text{valise/tapis}) = (v_1 - v_0)\vec{u}_x = -2 \text{ m} \cdot \text{s}^{-1}$ . Le sac d'Assia glisse sur le tapis.

**3.3** La réponse **(c)** est forcément exclue car les vecteurs  $\vec{F}$  et  $\vec{e}_y$  sont orthogonaux donc de produit scalaire nul. Le solide est à l'équilibre (immobile) donc la résultante des forces qui s'applique sur lui est nulle :

$$\vec{R}_T + \vec{F} + \vec{R}_N + \vec{P} = \vec{0}.$$

Par projection, on a d'une part  $\vec{R}_N + \vec{P} = \vec{0}$  sur l'axe verticale et d'autre part  $\vec{R}_T + \vec{F} = \vec{0}$  sur l'axe horizontal. En décomposant les forces à l'aide du repère introduit ces deux équations deviennent respectivement  $\vec{R}_N \cdot \vec{e}_y + \vec{P} \cdot \vec{e}_y = 0$  et  $\vec{R}_T \cdot \vec{e}_x + \vec{F} \cdot \vec{e}_x = 0$ . En développant l'expression de la force poids et en considérant la valeur de la norme de la force de tension fournie par l'énoncé on obtient  $\vec{R}_N \cdot \vec{e}_y - mg = 0$  et  $\vec{R}_T \cdot \vec{e}_x + \|\vec{F}\| = 0$  soit  $\vec{R}_N \cdot \vec{e}_y = mg = 10 \text{ N}$  et  $\vec{R}_T \cdot \vec{e}_x = -\|\vec{F}\| = -5 \text{ N}$ . Les réponses **(b)** et **(d)** sont fausses, **(a)** est vraie.

**3.4 a)** La projection du principe fondamental de la dynamique conduit aux relations suivantes :

$$\begin{cases} F - R_T - mg \sin(\alpha) = 0 & (\text{Ox}) \\ R_N - mg \cos(\alpha) = 0 & (\text{Oy}) \end{cases}$$

Nous obtenons donc  $R_N = mg \cos(\alpha)$ . De plus, le solide est à la limite de glissement donc  $R_T = \mu_s mg \cos(\alpha)$ . Ainsi,  $F = R_T + mg \sin(\alpha) = mg \cos(\alpha)(\mu_s + \tan(\alpha))$  : c'est la réponse **(d)** qui est juste.

**3.4 b)** On a  $F = mg \cos(\alpha)(\mu_s + \tan(\alpha)) = 0,35 \text{ kg} \times 10 \text{ m} \cdot \text{s}^{-2} \times \cos(20^\circ)(0,5 + \tan(20^\circ))$  puis  $F = 2,8 \text{ N}$ .

**3.5 a)** On a  $T = -\|\vec{R}\| \sin(\alpha) = -3,5 \text{ N} \times \sin(25^\circ) = -1,5 \text{ N}$ .

**3.5 b)** On a  $N = \|\vec{R}\| \cos(\alpha) = -3,5 \text{ N} \times \cos(25^\circ) = 3,2 \text{ N}$ .

**3.5 c)** D'après la loi de Coulomb, le cube ne glissera pas sur son support si, et seulement si :

$$\|\vec{T}\| < \mu_s \|\vec{N}\|.$$

Ici, on a  $\|\vec{T}\| = 1,5 \text{ N}$  et  $\mu_s \|\vec{N}\| = 0,6 \times 3,2 \text{ N} = 1,9 \text{ N}$ . Le cube ne glisse donc pas sur son support.

**3.6** Pour comparer les situations, il faut déterminer la valeur de  $\alpha$  pour chacune d'elles, et le tout avec une même unité (choisissons les degrés). La situation (b) est évidente et donne  $\alpha = 30^\circ$ . La situation (a) équivaut à  $\alpha = \arctan 0,5 = 27^\circ$ . La situation (c) équivaut à  $\alpha = \arctan 0,8 = 39^\circ$ . La situation (d) équivaut à  $\alpha = \frac{\pi}{8} = 23^\circ$ . Le couple de solides ayant le plus grand cône de frottement est donc celui utilisé dans la situation (c).

**3.8 a)** Notons que dans cette application, le glissement se fait suivant  $+\vec{e}_x$  donc  $T = \vec{T} \cdot \vec{e}_x < 0$  et  $N = \vec{N} \cdot \vec{e}_z > 0$ . D'après la loi de Coulomb et la relation (1), on a  $\|\vec{T}\| = |T| = f_d(mg - F \sin(\alpha)) > 0$ . Nous en déduisons alors l'expression de  $T$  :  $T = -|T| = f_d(F \sin(\alpha) - mg)$ .

**3.8 b)** D'après l'expression de  $T$  et la relation (2), nous obtenons :  $\ddot{x} = -f_d g + \frac{F}{m}(\cos(\alpha) + f_d \sin(\alpha))$ .

**3.8 c)** D'après la question précédente :

$$\ddot{x} = -f_d g + \frac{F}{m}.$$

Nous pouvons voir que le poids va contribuer à ralentir la luge alors que la force de traction l'accélère.

**3.9 a)** La solution de l'équation différentielle est la somme de la solution particulière  $x_p$  de l'équation totale et de la solution générale  $x_g$  de l'équation homogène :

$$x = x_p + x_g = -\frac{fmg}{k} + A \cos(\omega_0 t) + B \sin(\omega_0 t).$$

Les conditions à  $t = 0$  imposent :  $\begin{cases} x(0) = x_0 \\ \dot{x}(0) = 0 \end{cases}$  Ainsi,  $A = x_0 - \frac{fmg}{k}$  et  $B = 0$ .

Ainsi, la position du solide obéit à l'équation :  $x(t) = \left(x_0 + \frac{fmg}{k}\right) \cos(\omega_0 t) - \frac{fmg}{k}$ .

**3.9 b)** La vitesse du solide dans le référentiel d'étude s'écrit :  $\vec{v}(\text{solide})_{\mathcal{R}_0} = \dot{x}\vec{u}_x = -\left(x_0 + \frac{fmg}{k}\right)\omega_0 \sin(\omega_0 t)\vec{u}_x$ .

**3.9 c)** La vitesse du support est nulle, donc la vitesse de glissement est la vitesse du solide. Nous en déduisons que  $\vec{v}(\text{solide})_{\mathcal{R}_0} = -\left(x_0 + \frac{fmg}{k}\right)\omega_0 \sin(\omega_0 t)\vec{u}_x$ .

**3.9 d)** La phase de glissement s'arrête dès que la vitesse de glissement s'annule à nouveau. On a alors

$$\vec{v}_{\text{glissement solide/support}}(t_1) = -\left(x_0 + \frac{fmg}{k}\right)\omega_0 \sin(\omega_0 t_1)\vec{u}_x = 0.$$

Cela impose :  $\sin(\omega_0 t_1) = 0$  donc  $t_1 = \frac{\pi}{\omega_0}$ .

Ainsi,  $t_1 = \pi \sqrt{\frac{m}{k}} = \pi \sqrt{\frac{0,3 \text{ kg}}{7 \text{ N} \cdot \text{m}^{-1}}} = 384 \text{ ms}$ .

**3.9 e)** On a  $x(t_1) = \left(x_0 + \frac{fmg}{k}\right) \cos\left(\omega_0 \frac{\pi}{\omega_0}\right) - \frac{fmg}{k}$  donc  $x(t_1) = -\left(x_0 + \frac{fmg}{k}\right) - \frac{fmg}{k} = -x_0 - \frac{2fmg}{k}$ .

Ainsi,  $x(t_1) = 0,09 \text{ m} - \frac{2 \times 0,2 \times 0,3 \text{ kg} \times 10 \text{ m} \cdot \text{s}^{-2}}{20 \text{ N} \cdot \text{m}^{-1}} = 3,0 \text{ cm}$ .

**3.10 a)** On a  $f_d mgh = Mgh - \frac{1}{2}(m + M)v^2$  et donc

$$f_d = \frac{M}{m} - \frac{1}{2} \left(1 + \frac{M}{m}\right) \frac{v^2}{gh} = \frac{4}{3} - \frac{1}{2} \left(1 + \frac{4}{3}\right) \frac{v^2}{gh} = \frac{1}{6} \left(8 - \frac{7v^2}{gh}\right).$$

**3.10 b)** On a :  $f_d = \frac{1}{6} \left(8 - \frac{7 \times (0,82 \text{ m} \cdot \text{s}^{-1})^2}{0,15 \text{ m} \times 10 \text{ m} \cdot \text{s}^{-2}}\right) = 0,8$ .

**3.11 a)** Par définition de la vitesse de glissement, on a

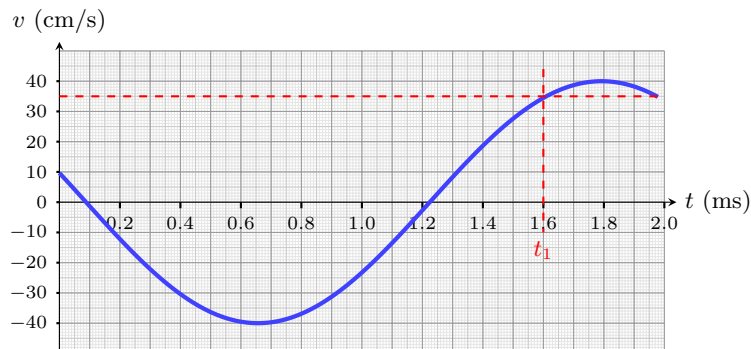
$$\vec{v}_{\text{glissement}}(\text{palet/tapis}) = \vec{v}(G, t) - \vec{v}_{\text{tapis}} = (v(t) - v_0)\vec{e}_x.$$

**3.11 b)**

Le glissement s'arrête dès que la vitesse de glissement s'annule à savoir  $v(t) = v_0$ .

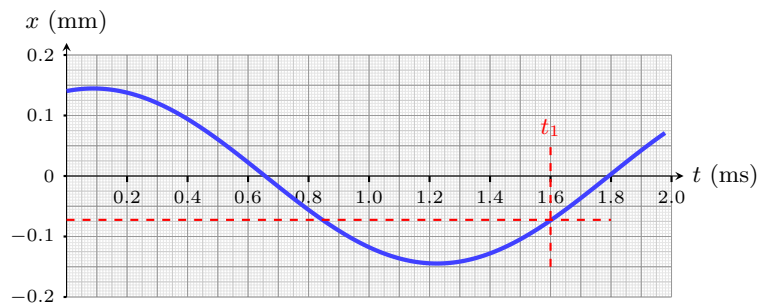
La vitesse du tapis  $v_0$  peut être écrite dans la même unité que  $v(t)$  :  $v_0 = \frac{1260 \times 100 \text{ cm}}{3600 \text{ s}} = 35 \text{ cm} \cdot \text{s}^{-1}$ .

Reportons alors la valeur de  $v_0$  sur le diagramme suivant afin de lire la date  $t_1$ .



Par lecture graphique :  $t_1 = 1,6 \text{ ms}$ .

**3.11 c)**



La lecture graphique permet de déterminer que  $x_1 = -70 \mu\text{m}$ .



**3.12 a)** L'opérateur exerce une force de plus en plus importante sur l'armoire jusqu'à atteindre la valeur critique au delà de laquelle on passe d'une phase d'adhérence à une phase de glissement. L'armoire est immobile pendant la durée où la force croît jusqu'à la force limite, soit pendant environ 5 secondes.

.....

**3.12 b)** Le sol exerce une force à peu près constante de l'instant  $t = 5$  s jusqu'à l'instant  $t = 12$  s. Au-delà celle-ci s'annule : l'armoire ne glisse plus et s'immobilise. La phase de glissement dure donc 7 s.

.....

**3.12 c)** La phase statique s'arrête à l'instant  $t = 5$  s, et correspond à la valeur de force maximale exercée par l'opérateur, soit environ 350 N.

.....

**3.12 d)** La phase dynamique commence à l'instant  $t = 5$  s. Au-delà, l'opérateur exerce une force constante en moyenne, de l'ordre de 175 N.

.....

**3.12 e)** La valeur de la force de réaction tangentielle maximale du sol sur l'armoire est la force maximale exercée par l'opérateur sur l'armoire, soit  $R_{T,\max} = 350$  N. Or à la limite d'adhérence  $R_{T,\max} = \mu_s R_N = \mu_s mg$ . D'où  $\mu_s = \frac{R_{T,\max}}{mg}$ . En prenant  $g = 10 \text{ m} \cdot \text{s}^{-2}$ , l'application numérique donne  $\mu_s \sim 0,5$ . Réponse (b).

.....

**3.12 f)** La valeur de la force de réaction tangentielle du sol sur l'armoire en glissement est la valeur de la force exercée par l'opérateur sur cette phase, soit  $R_{T,\text{gliss}} = 175$  N. Or en supposant l'armoire à l'équilibre mécanique lors du glissement on a  $R_{T,\text{gliss}} = \mu_d R_N = \mu_d mg$ . D'où  $\mu_d = \frac{R_{T,\text{gliss}}}{mg}$ . En prenant  $g = 10 \text{ m} \cdot \text{s}^{-2}$ , l'application numérique donne  $\mu_s \sim 0,25$ . Autre manière plus rapide de raisonner : la force appliquée en glissement est la moitié de la force maximale en adhérence, donc le coefficient de frottement est diminué de moitié entre les deux phases :  $\mu_s \sim 2\mu_d$ . Réponse (a).

.....

# Fiche n° 4. Électrostatique

## Réponses

- 4.1 a) .....  $R d\theta$
- 4.1 b) .....  $2\pi R$
- 4.1 c) .....  $r dr d\theta$
- 4.1 d) .....  $\pi R^2$
- 4.1 e) .....  $\frac{4}{3}\pi R^3$
- 4.2 a) .....  $\lambda_0 \ell$
- 4.2 b) .....  $2\pi^2 q_0$
- 4.3 a) .....  $+1000 \times e$
- 4.3 b) .....  $L \times \ell$
- 4.3 c) .....  $2,57 \times 10^{-15} \text{ C} \cdot \text{m}^{-2}$
- 4.4 a) .....  $(O, \vec{e}_x + \vec{e}_y, \vec{e}_z), (O, \vec{e}_x - \vec{e}_y, \vec{e}_z)$   
et  $(O, \vec{e}_x, \vec{e}_y)$
- 4.4 b) .....  $(O, \vec{e}_x, \vec{e}_z)$  et  $(O, \vec{e}_y, \vec{e}_z)$
- 4.5 a) .....  $6,5 \times 10^{-2} \text{ m}^3$
- 4.5 b) .....  $3,3 \times 10^{-9} \text{ C}$
- 4.5 c) .....  $7,9 \times 10^{-1} \text{ m}^2$
- 4.5 d) .....  $6 \times 10^{-6} \text{ C}$
- 4.6 a) ..... (b)
- 4.6 b) ..... (c)
- 4.6 c) ..... 0
- 4.7 a) ..... (b)
- 4.7 b) ..... (b)
- 4.7 c) ..... (d)
- 4.7 d) ..... (b) et (c)
- 4.8 a) .....  $-2\vec{e}_x + 8\vec{e}_y$
- 4.8 b) .....  $5\vec{e}_y$
- 4.8 c) ..... (b) et (c)
- 4.9 a) .....  $\vec{e}_y$
- 4.9 b) .....  $\vec{e}_z$
- 4.9 c) ..... (d)
- 4.10 ..... (b) et (d)
- 4.11 a) ..... (c) et (d)
- 4.11 b) ..... (a) et (d)
- 4.12 ..... (c)
- 4.13 a) ..... (d)
- 4.13 b) ..... (c)
- 4.13 c) ..... (b)
- 4.13 d) .....  $\frac{\sigma}{2\varepsilon_0} \left( 1 - \sqrt{\frac{z^2}{z^2 + R^2}} \right)$
- 4.13 e) .....  $\frac{\sigma}{2\varepsilon_0}$
- 4.13 f) .....  $\frac{Q_0}{4\pi\varepsilon_0 z^2}$
- 4.14 a) ..... (a) et (f)
- 4.14 b) ..... 0
- 4.15 a) ..... (d)
- 4.15 b) ..... (c)
- 4.15 c) .....  $\frac{q}{2\varepsilon_0} (1 - \cos \alpha)$   
 $\underbrace{\hspace{1cm}}_K$
- 4.15 d) .....  $1,8 \times 10^{-8} \text{ V} \cdot \text{m}$

- 4.16 a) .....  $4\pi r^2 E(r)$
- 4.16 b) .....  $\textcircled{c}$
- 4.16 c) .....  $q \text{ et } 0$
- 4.17 a) .....  $\text{nulle}$
- 4.17 b) .....  $\text{négative}$
- 4.17 c) .....  $\text{nulle}$
- 4.17 d) .....  $\text{positive}$
- 4.18 a) .....  $\textcircled{a}$
- 4.18 b) .....  $\textcircled{c}$
- 4.19 a) .....  $\textcircled{b}$
- 4.19 b) .....  $V(a)$
- 4.19 c) .....  $E_0 a(1 + e^{-2} - e^{-1})$
- 4.20 a) .....  $\textcircled{c}$
- 4.20 b) .....  $\frac{1}{r} \left( 1 + \frac{a \cos(\theta)}{2r} \right)$
- 4.20 c) .....  $\frac{1}{r} \left( 1 - \frac{a \cos(\theta)}{2r} \right)$
- 4.20 d) .....  $\frac{qa \cos(\theta)}{4\pi\epsilon_0 r^2}$
- 4.21 a) .....  $\textcircled{a}$
- 4.21 b) .....  $\text{positif}$
- 4.21 c) .....  $1 \times 10^2 \text{ V} \cdot \text{m}^{-1}$
- 4.21 d) .....  $\textcircled{b}$
- 4.22 a) .....  $Q = 4\rho_0 \mathcal{A}H/3, \rho_m = 2\rho_0/3$
- 4.22 b) .....  $Q = \rho_0 \pi R^2 H/2, \rho_m = \rho_0/2$
- 4.22 c) .....  $Q = \rho_0 4\pi R^3, \rho_m = 0$
- 4.23 .....  $\textcircled{a}$
- 4.24 .....  $0$
- 4.25 .....  $\textcircled{a}$
- 4.26 a) .....  $\textcircled{d}$
- 4.26 b) .....  $\textcircled{b}$
- 4.27 a) .....  $\text{Courbe } \textcircled{3}$
- 4.27 b) .....  $\text{Courbe } \textcircled{1}$
- 4.27 c) .....  $\text{Courbe } \textcircled{2}$
- 4.28 .....  $\frac{Q^2}{8\pi\epsilon_0} \frac{h}{R(R+h)}$

## Corrigés

4.1 a) Comme  $r$  et  $z$  sont constants,  $dr$  et  $dz$  sont nuls ; ainsi  $dC = R d\theta$ .

4.1 b) On a  $C = \int_0^{2\pi} R d\theta = R \int_0^{2\pi} d\theta = R[\theta]_0^{2\pi} = 2\pi R$ .

4.1 d) On a  $S = \int_{r=0}^{r=R} \int_{\theta=0}^{\theta=2\pi} r dr d\theta = \int_0^R r dr \int_0^{2\pi} d\theta = \left[ \frac{r^2}{2} \right]_0^R [\theta]_0^{2\pi} = \frac{R^2}{2} \times 2\pi = \pi R^2$ .

4.1 e) On a

$$\begin{aligned} \mathcal{V} &= \int_{r=0}^{r=R} \int_{\theta=0}^{\theta=\pi} \int_{\varphi=0}^{\varphi=2\pi} r^2 \sin(\theta) dr d\theta d\varphi = \int_0^R r^2 dr \int_0^\pi \sin(\theta) d\theta \int_0^{2\pi} d\varphi \\ &= \left[ \frac{r^3}{3} \right]_0^R \times [-\cos(\theta)]_0^\pi \times [\varphi]_0^{2\pi} = \frac{R^3}{3} \times (-(-1-1)) \times 2\pi = \frac{4}{3}\pi R^3. \end{aligned}$$

4.2 a) On a  $Q = \int_0^\ell \lambda_0 dx = \lambda_0 \int_0^\ell dx = \lambda_0 [x]_0^\ell = \lambda_0 \ell$ .

4.2 b) On a  $Q = \int_0^{2\pi} \lambda(\theta) a d\theta = \int_0^{2\pi} q_0 \frac{\theta}{a} a d\theta = q_0 \int_0^{2\pi} \theta d\theta = q_0 \left[ \frac{\theta^2}{2} \right]_0^{2\pi} = 2\pi^2 q_0$ .

4.3 a) Chaque électron porte la charge (négative)  $-e$ . En arrachant  $N$  électrons de la feuille, celle-ci se charge positivement : on a  $Q = +N \times e$ , avec  $N = 1000$ .

4.3 b) La feuille est modélisée par un rectangle d'aire  $S = L \times \ell$ .

4.3 c) Il suffit de faire l'application numérique :  $\sigma = 2,57 \times 10^{-15} \text{ C} \cdot \text{m}^{-2}$ .

4.5 a) On a  $V = \frac{4}{3}\pi R^3 = 6,5 \times 10^{-2} \text{ m}^3$ , en écriture scientifique, et en gardant deux chiffres significatifs.

4.5 b) La densité volumique de charge est uniforme donc la charge totale est donnée par

$$Q = \rho_0 V = 3,3 \times 10^{-9} \text{ C},$$

en écriture scientifique, et en ne gardant que deux chiffres significatifs.

4.5 c) On a  $\mathcal{A} = 4\pi R^2 = 7,9 \times 10^{-1} \text{ m}^2$ , en écriture scientifique, et en gardant deux chiffres significatifs.

4.5 d) La densité surfacique de charge étant uniforme,  $Q = \sigma \mathcal{A} = 6 \times 10^{-6} \text{ C}$ , en écriture scientifique, et en ne gardant qu'un chiffre significatif (autant que la donnée qui possède le moins de chiffres significatifs).

4.6 a) L'élément de surface  $dS = R d\theta dz$  est la multiplication du déplacement élémentaire  $R d\theta$  le long de la circonférence d'un cercle de rayon  $R$  et d'axe  $(Oz)$  du tube et du déplacement élémentaire  $dz$  le long de l'axe  $(Oz)$ .

4.6 b) On a  $Q = \int_{\theta=0}^{2\pi} \int_{z=0}^H \sigma(\theta) R d\theta dz$ .

4.6 c) On a  $Q = \sigma_0 R H \int_{\theta=0}^{2\pi} \cos(\theta) d\theta = 0$ . Le tube n'est globalement pas chargé. Ce résultat était attendu puisque la densité surfacique de charge est  $\sigma(\theta) = \sigma_0 \cos(\theta)$  (les charges positives et négatives se répartissent de manière égale sur sa surface).

4.7 d) Le cylindre étant désormais infini, la distribution devient invariante par translation suivant  $(Oz)$ .

4.8 a) Le principe de superposition assure que le champ électrostatique total en  $M_1$  est la somme des champs produits par les deux sources.

4.8 c) Le point  $M_3$  est le symétrique du point  $M_1$  par rapport au plan  $\mathcal{P}$ . Ainsi, le vecteur-champ en  $M_3$  est le symétrique du vecteur-champ en  $M_1$  par rapport au plan  $\mathcal{P}$ . Enfin, le point  $M_2$  appartient à ce plan de symétrie donc le vecteur-champ au point  $M_2$  appartient également à ce plan de symétrie.

4.9 a) La projection du vecteur  $\vec{e}_y$  est nulle sur le plan  $(\Pi_1)$ , donc  $\vec{e}_y$  est normal à ce plan.

4.9 b) La projection du vecteur  $\vec{e}_z$  est nulle sur le plan  $(\Pi_2)$ , donc  $\vec{e}_z$  est normal à ce plan.

4.9 c) En un point M d'un plan d'antisymétrie de la distribution de charge, le champ électrostatique est perpendiculaire à ce plan. Par exemple, si le point M est sur l'axe  $(Ox)$ , appartenant au plan  $(\Pi_2)$ , le champ électrostatique est suivant l'axe  $(Oz)$  :  $\vec{E}(M) = E(M)\vec{e}_z$ .

4.10 Le plan  $(M, \vec{e}_x, \vec{e}_y)$  est un plan de symétrie donc  $\vec{E}(M) = E_x(x, y, z)\vec{e}_x + E_y(x, y, z)\vec{e}_y$ . Enfin, l'invariance par translation selon  $\vec{e}_z$  permet d'affirmer que les composantes  $E_x$  et  $E_y$ , et donc la norme  $\|\vec{E}\|$ , de  $\vec{E}(M)$  ne dépendent pas de  $z$ .

4.13 a) En repérage cylindrique, le déplacement élémentaire est  $d\vec{\ell} = dr\vec{e}_r + r d\theta\vec{e}_\theta + dz\vec{e}_z$ . Sur le disque,  $z$  est fixé (à 0) donc l'aire s'obtient en multipliant les deux composantes non nulles du vecteur-déplacement élémentaire  $dS = r dr d\theta$ .

4.13 b) Par relation de Chasles, on a  $\vec{PM} \cdot \vec{e}_z = (\vec{PO} + \vec{OM}) \cdot \vec{e}_z = r\vec{e}_r \cdot \vec{e}_z + z\vec{e}_z \cdot \vec{e}_z = 0 + z$ .

4.13 c) On a  $\vec{PM} = \vec{PO} + \vec{OM} = r\vec{e}_r + z\vec{e}_z$  donc  $PM = \sqrt{PM^2} = \sqrt{\vec{PM} \cdot \vec{PM}} = \sqrt{z^2 + r^2}$ .

4.13 d) En séparant les variables et en effectuant le changement de variable  $u = r^2$  (d'où  $du = 2r dr$ ), il vient :

$$E_z = \frac{\sigma z}{8\pi\epsilon_0} \int_{\theta=0}^{\theta=2\pi} d\theta \times \int_{u=0}^{u=R^2} (u + z^2)^{-3/2} du = \frac{\sigma z}{4\epsilon_0} \left[ -2(u + z^2)^{-1/2} \right]_{u=0}^{u=R^2} = \frac{\sigma}{2\epsilon_0} \left( 1 - \frac{1}{\sqrt{1 + R^2/z^2}} \right).$$

4.13 e) On a  $\sqrt{1 + R^2/z^2} \xrightarrow{R/z \rightarrow +\infty} \infty$  donc  $\frac{1}{\sqrt{1 + R^2/z^2}} \xrightarrow{R/z \rightarrow \infty} 0$ . Ainsi,  $E_z \xrightarrow{R/z \rightarrow \infty} \frac{\sigma}{2\epsilon_0}$ .

4.13 f) Le développement limité fourni permet d'écrire :

$$\frac{1}{\sqrt{1 + \frac{R^2}{z^2}}} = \left( 1 + \frac{R^2}{z^2} \right)^{-1/2} \underset{R/z \rightarrow 0}{=} 1 - \frac{R^2}{2z^2} \quad \text{d'où} \quad E_z = \frac{\sigma}{2\epsilon_0} \left[ 1 - 1 + \frac{R^2}{2z^2} \right] = \overbrace{\pi R^2}^{Q_0} \sigma \frac{1}{4\pi\epsilon_0 z^2},$$

ce qui correspond bien au champ créé par une charge ponctuelle de charge  $Q_0$  et distante de  $z$  du point d'observation.

4.15 a) L'aire d'un élément de surface d'une sphère de rayon  $r$  est  $dS = r^2 \sin(\theta) d\theta d\varphi$ . Ici, le rayon de la calotte est  $R$  donc la variable  $r$  est fixée à  $R$ . En conclusion,  $dS = R^2 \sin(\theta) d\theta d\varphi$ .

4.15 b) Pour rappel, la colatitude  $\theta$  est définie sur  $[0, \pi]$  quand la longitude  $\varphi$  est décrite sur  $[0, 2\pi]$ . Pour décrire/paramétriser la calotte, on peut procéder de la sorte : on considère un point  $M(R, \theta, \varphi)$  sur la calotte, et on lui fait faire un tour complet autour de l'axe  $(Oz)$  :  $\varphi$  a parcouru l'intervalle  $[0, 2\pi]$  en décrivant un cercle. Ensuite, la calotte peut être vue comme un « accolage » de cercles de rayon allant de  $R \sin \alpha$  à 0 (le cercle de rayon nul étant confondu avec un point de l'axe  $(Oz)$ ). En d'autres termes, cela implique que  $\theta \in [\pi - \alpha, \pi]$ . Ainsi, pour totalement parcourir la calotte, il faut  $\varphi \in [0, 2\pi]$  et  $\theta \in [\pi - \alpha, \pi]$ . Il vient

$$\phi = \int_{\theta=\pi-\alpha}^{\pi} \int_{\varphi=0}^{2\pi} \vec{E} \cdot R^2 \sin(\theta) d\theta d\varphi \vec{e}_r.$$

4.15 c) Le champ  $\vec{E}$  est celui sur la calotte sphérique, soit en  $r = R$ . Ainsi, on a

$$\phi = \frac{1}{4\pi\epsilon_0 R^2} \times R^2 \int_{\theta=\pi-\alpha}^{\pi} \sin(\theta) d\theta \int_{\varphi=0}^{2\pi} d\varphi \quad \text{donc} \quad \phi = \underbrace{\frac{q}{2\epsilon_0}}_K (1 - \cos \alpha).$$

4.15 d) Pour  $\alpha = \pi$  et  $q = e$ , on a  $\phi = \frac{e}{\epsilon_0}$ . Donc, après calcul,  $\phi = 1,8 \times 10^{-8} \text{ V} \cdot \text{m}$ .

4.16 a) On a  $\phi(\vec{E}) = \oiint_S \vec{E} \cdot \vec{dS} = 4\pi r^2 E(r)$ .

4.16 b) Le théorème de Gauss assure que  $\phi(\vec{E}) = Q/\epsilon_0$  donc  $Q = \epsilon_0 \phi(\vec{E}) = \epsilon_0 4\pi r^2 E(r) = q \left(1 + \frac{r}{a}\right) e^{-r/a}$ .

4.18 a) Le gradient est dirigé dans le sens des potentiels croissants, orthogonalement aux équipotentielles.

4.18 b) Comme  $\vec{E} = -\overrightarrow{\text{grad}} V$ , la direction du champ est opposée à celle du gradient.

4.19 a) Le segment AB a une pente constante  $\frac{y_B - y_A}{x_B - x_A} = \frac{2a - 0}{2a - a} = 2$ . Or, cette dernière correspond à  $\frac{dy}{dx}$ . Ainsi,  $dy = 2 dx$ .

4.19 b) Pour  $x > 0$ , le champ  $\vec{E}$  est orienté suivant  $+\vec{e}_x$ . Il s'agit donc du sens des potentiels décroissants. Comme  $2a > a$ ,  $V(2a) < V(a)$ .  $V(a)$  est donc le potentiel le plus élevé.

4.19 c) Le champ étant porté par  $\vec{e}_x$ , on a  $\vec{E} \cdot \vec{dl} = E_x dx$ . On a alors

$$V(A) - V(B) = \int_a^{2a} E_0 (1 - e^{-x/a}) dx = E_0 \left[ x + a e^{-x/a} \right]_a^{2a} = E_0 a (1 + e^{-2} - e^{-1}).$$

4.20 a) On a  $AM^2 = \|\overrightarrow{OM} + \overrightarrow{AO}\|^2 = \|\overrightarrow{OM}\|^2 + \|\overrightarrow{AO}\|^2 + 2\overrightarrow{OM} \cdot \overrightarrow{AO} = r^2 + \left(\frac{a}{2}\right)^2 - ar \cos(\theta)$ .

4.20 b) On a  $\frac{1}{AM} = \frac{1}{r} \left(1 + \left(\frac{a}{2r}\right)^2 - \frac{a \cos(\theta)}{r}\right)^{-1/2}$ . On utilise ensuite l'approximation  $(1 + \epsilon)^\alpha = 1 + \alpha\epsilon$  à l'ordre 1 en  $\epsilon$  autour de 0. À l'ordre 1 en  $\frac{a}{r}$ , on trouve  $\frac{1}{AM} \simeq \frac{1}{r} \left(1 + \frac{a \cos(\theta)}{2r}\right)$ .

4.20 c) De manière similaire,  $BM^2 = r^2 + \left(\frac{a}{2}\right)^2 + ar \cos(\theta)$  donc  $\frac{1}{BM} = \frac{1}{r} \left(1 + \left(\frac{a}{2r}\right)^2 + \frac{a \cos(\theta)}{r}\right)^{-1/2}$  et à l'ordre 1 en  $\frac{a}{r}$ , on trouve  $\frac{1}{BM} \simeq \frac{1}{r} \left(1 - \frac{a \cos(\theta)}{2r}\right)$ .

4.20 d) On a  $V(M) = \frac{q}{4\pi\epsilon_0} \left(\frac{1}{AM} - \frac{1}{BM}\right) = \frac{q}{4\pi\epsilon_0 r} \left(1 + \frac{a \cos(\theta)}{2r} - 1 + \frac{a \cos(\theta)}{2r}\right) = \frac{qa \cos(\theta)}{4\pi\epsilon_0 r^2}$ .

4.21 a) Les lignes de champ électrostatique sont orientées vers les charges négatives.

4.21 b) Sachant que  $\vec{E} = -\overrightarrow{\text{grad}} V$ , le champ électrostatique pointe vers les valeurs de potentiel décroissantes, d'où le signe +.

**4.21 c)** En appelant  $A_{100}$  et  $A_{200}$  les projetés respectifs de A sur les équipotentielles de 100 V et 200 V, alors la relation  $\vec{E} = -\overrightarrow{\text{grad}} V = -\frac{\partial V}{\partial z} \vec{e}_z$  (car ici  $\vec{E}(A)$  est selon  $\vec{e}_z$ ) permet d'approximer la norme du champ en A :

$$E(A) = \frac{V(A_{200}) - V(A_{100})}{z_{A_{200}} - z_{A_{100}}} = \frac{200 - 100}{2,5 \text{ division} \times 40 \text{ cm} \cdot \text{division}^{-1}} = 1 \times 10^2 \text{ V} \cdot \text{m}^{-1}.$$

**4.21 d)** Du fait de la verticalité de l'individu par rapport à l'horizontalité du sol, les équipotentielles sont davantage resserrées en B qu'en A ; ainsi, le champ électrostatique est plus intense en B qu'en A : c'est l'effet de pointe.

**4.22 a)** Sachant que  $dV = dx dy dz$ , une séparation des variables conduit à :

$$Q = \rho_0 \iint_{\mathcal{A}} dS \int_{z=-H}^{z=H} \left(1 - \frac{z^2}{H^2}\right) dz = \rho_0 \mathcal{A} \left[ z - \frac{z^3}{3H^2} \right]_{-H}^H = 4\rho_0 \mathcal{A} H / 3.$$

Le volume du pavé est  $2HA$  donc la charge volumique moyenne s'exprime comme :  $\rho_m = 2\rho_0/3$ .

**4.22 b)** Sachant que  $dV = r dr d\theta dz$ , une séparation des variables conduit à :

$$Q = \rho_0 \int_{r=0}^{r=R} \left( r - \frac{r^3}{R^2} \right) dr \int_{\theta=0}^{\theta=2\pi} d\theta \int_{z=0}^{z=H} dz = \rho_0 \left[ \frac{r^2}{2} - \frac{r^4}{4R^2} \right]_0^R [\theta]_0^{2\pi} [z]_0^H = \rho_0 \pi R^2 H / 2.$$

Le volume du cylindre est  $\pi R^2 H$  donc la charge volumique moyenne s'exprime comme :  $\rho_m = \rho_0/2$ .

**4.22 c)** Sachant que  $dV = r^2 \sin(\theta) dr d\theta d\varphi$ , une séparation des variables conduit à :

$$Q = \rho_0 R^2 \int_{r=0}^{r=+\infty} e^{-r/R} dr \int_{\theta=0}^{\theta=\pi} \sin(\theta) d\theta \int_{\varphi=0}^{\varphi=2\pi} d\varphi = \rho_0 R^2 [-Re^{-r/R}]_0^{+\infty} [-\cos(\theta)]_0^{\pi} [\varphi]_0^{2\pi} = \rho_0 4\pi R^3.$$

Le volume de l'espace étant infini mais la charge totale finie, la charge volumique moyenne est nulle :  $\rho_m = 0$ .

**4.24** On a  $\text{div} \vec{E}_1 = \frac{1}{r} \frac{\partial(r \frac{\alpha}{r})}{\partial r} + \frac{1}{r} \frac{\partial 0}{\partial \theta} + \frac{\partial 0}{\partial z} = 0 + 0 + 0$ .

**4.26 a)** Le gradient est dirigé dans le sens des potentiels croissants, orthogonalement aux équipotentielles.

**4.26 b)** Comme  $\vec{E} = -\overrightarrow{\text{grad}} V$ , la direction du champ est opposée à celle du gradient.

**4.27 a)** Le potentiel s'annule en  $r = r_0$ , est positif pour  $r < r_0$  et négatif pour  $r > r_0$ .

**4.27 b)**

- Pour  $0 \leq r \leq R$ , l'expression fournie est celle d'un polynôme de degré 2 en  $r$  dont la représentation graphique est une parabole. Ici, le coefficient devant  $r^2$  est négatif donc la parabole est orientée vers les valeurs négatives.
- Pour  $r \geq R$ , l'expression fournie est une fonction inverse dont la représentation graphique est une branche d'hyperbole.

Les deux expressions prennent la même valeur en  $r = R$  : la fonction est continue.

**4.27 c)** L'équation fournie est celle d'une droite décroissante dont l'ordonnée à l'origine est non nulle : le potentiel décroît de manière affine. Seule la courbe (2) correspond à un tel cas.

.....

**4.28** Sachant que  $d\tau = r^2 \sin(\theta) dr d\theta d\varphi$ , une séparation des variables conduit à :

$$\mathcal{E} = \frac{Q^2}{32\pi^2 \varepsilon_0} \int_{r=R}^{r=R+h} \frac{dr}{r^2} \int_{\theta=0}^{\theta=\pi} \sin(\theta) d\theta \int_{\varphi=0}^{\varphi=2\pi} d\varphi = \frac{Q^2}{32\pi^2 \varepsilon_0} \left[ -\frac{1}{r} \right]_R^{R+h} [-\cos(\theta)]_0^\pi [\varphi]_0^{2\pi} = \frac{Q^2}{8\pi \varepsilon_0} \frac{h}{R(R+h)}.$$

.....



# Fiche n° 5. Magnétostatique

## Réponses

5.1 a) .....	<input type="checkbox"/> a) et <input type="checkbox"/> d)	5.13 a) .....	<input type="checkbox"/> I
5.1 b) .....	<input type="checkbox"/> d)	5.13 b) .....	<input type="checkbox"/> 0
5.1 c) .....	<input type="checkbox"/> a)	5.13 c) .....	<input type="checkbox"/> -I
5.2 .....	$2j_0 S \frac{b}{a}$	5.13 d) .....	<input type="checkbox"/> 4I
5.3 .....	$j_{s,0} \ell$	5.14 a) .....	<input type="checkbox"/> a) et <input type="checkbox"/> e)
5.4 a) .....	<input type="checkbox"/> d)	5.14 b) .....	<input type="checkbox"/> 0
5.4 b) .....	$4\pi R^2 j_r(R)$	5.15 a) .....	<input type="checkbox"/> 0
5.5 .....	<input type="checkbox"/> b) et <input type="checkbox"/> c)	5.15 b) .....	<input type="checkbox"/> -Bax
5.6 a) .....	<input type="checkbox"/> a), <input type="checkbox"/> c) et <input type="checkbox"/> d)	5.15 c) .....	<input type="checkbox"/> -Ba <sup>2</sup>
5.6 b) .....	<input type="checkbox"/> b), <input type="checkbox"/> c) et <input type="checkbox"/> d)	5.16 a) .....	<input type="checkbox"/> b)
5.6 c) .....	<input type="checkbox"/> a), <input type="checkbox"/> c) et <input type="checkbox"/> d)	5.16 b) .....	$\frac{\mu_0 NI}{2\pi r}$
5.7 a) .....	$4d\ell j_0$	5.16 c) .....	$\frac{\mu_0 NIa}{2\pi} \ln\left(\frac{R+a/2}{R-a/2}\right)$
5.7 b) .....	<input type="checkbox"/> a) et <input type="checkbox"/> c)	5.17 a) .....	<input type="checkbox"/> 1 × 10 <sup>1</sup> T
5.7 c) .....	<input type="checkbox"/> b)	5.17 b) .....	<input type="checkbox"/> 4 × 10 <sup>2</sup> Wb
5.8 a) .....	$-\mu_0 n_2 I_2 \vec{e}_y$	5.17 c) .....	<input type="checkbox"/> 3 × 10 <sup>2</sup> Wb
5.8 b) .....	<input type="checkbox"/> d)	5.18 a) .....	<input type="checkbox"/> c)
5.9 .....	<input type="checkbox"/> d)	5.18 b) .....	$\frac{\mu_0 \vec{M}}{2\pi z^3}$
5.10 .....	<input type="checkbox"/> 2)	5.19 .....	<input type="checkbox"/> d)
5.11 a) .....	<input type="checkbox"/> 2)	5.20 a) .....	<input type="checkbox"/> mB <sub>ext</sub>
5.11 b) .....	<input type="checkbox"/> b)	5.20 b) .....	$\frac{mB_{\text{ext}}}{Mg}$
5.12 a) .....	<input type="checkbox"/> 4Bd	5.21 a) .....	<input type="checkbox"/> - $\vec{e}_z$
5.12 b) .....	<input type="checkbox"/> -2Bd	5.21 b) .....	<input type="checkbox"/> + $\vec{e}_z$
5.12 c) .....	$\frac{7\pi}{2} Bd$	5.21 c) .....	<input type="checkbox"/> + $\vec{e}_z$
		5.21 d) .....	<input type="checkbox"/> + $\vec{e}_z$

- 5.22 a) .....  $-\frac{\mu_0 I m}{2\pi r^2} \vec{e}_r$       5.25 c) .....  $-\frac{e}{2m_e}$
- 5.22 b) ..... (b)      5.25 d) ..... (b)
- 5.23 ..... (c)      5.26 a) .....  $\frac{\mu_0 I \ell}{2\pi} \ln \frac{R_2}{R_1}$
- 5.24 ..... (a)      5.26 b) .....  $\frac{\mu_0}{2\pi} \ln \frac{R_2}{R_1}$
- 5.25 a) ..... (d)      5.26 c) .....  $\frac{\mu_0 I^2 \ell}{4\pi} \ln \frac{R_2}{R_1}$
- 5.25 b) .....  $-\frac{e}{T} \underbrace{\pi r^2 \vec{e}_z}_{\vec{S}}$       5.26 d) .....  $\frac{\mu_0}{2\pi} \ln \frac{R_2}{R_1}$

## Corrigés

**5.1 a)** L'intensité du courant s'exprime en fonction des densités surfacique et volumique de courant grâce aux relations  $I = \iint \vec{j} \cdot d\vec{S}$  et  $I = \int \vec{j}_s \cdot d\vec{\ell}$ .

**5.1 b)** On note  $j$  la norme du vecteur  $\vec{j}$ . On a  $I = \iint \vec{j} \cdot d\vec{S}$  donc  $I = [j] \times L^2$  et donc  $[j] = I \cdot L^{-2}$ .

**5.1 c)** On note  $j_s$  la norme du vecteur  $\vec{j}_s$ . On a  $I = \int \vec{j}_s \cdot d\vec{\ell}$  donc  $I = [j_s] \times L$  et donc  $[j_s] = I \cdot L^{-1}$ .

**5.2** On a  $I = \iint \vec{j} \cdot d\vec{S} = \iint j_0 \vec{e}_z \cdot dS \vec{e}_z = \int_0^a j_0 \frac{b}{r} 2\pi r dr = 2\pi j_0 b \times a$ , soit  $I = 2j_0 S \frac{b}{a}$ , avec  $S = \pi a^2$ .

**5.3** On a  $I = \int \vec{j}_s \cdot d\vec{\ell} = \int_0^\ell j_{s,0} \vec{e}_\theta \cdot dz \vec{e}_\theta = \int_0^\ell j_{s,0} dz = j_{s,0} \ell$ .

**5.4 a)** Le courant de particules chargées est radial : le vecteur densité de courant électrique  $\vec{j}$  est radial, c'est-à-dire porté par  $\vec{e}_r$  :  $\vec{j} = j_r(r, \theta, \varphi)$ . Aussi, l'émission est isotrope donc il y a invariance de la distribution de courant électrique par rotation autour du point O : la composante  $j_r$  n'est une fonction que de  $r$ . Il vient :  $\vec{j} = j_r(r) \vec{e}_r$ .

**5.4 b)** L'intensité du courant électrique traversant une surface élémentaire de vecteur surface élémentaire  $d\vec{S} = r^2 \sin(\theta) d\theta d\varphi \vec{e}_r$  est  $dI_r = \vec{j} \cdot d\vec{S} = j_r(r) r^2 \sin(\theta) d\theta d\varphi$ . Cette grandeur est uniforme sur une sphère de rayon  $R$  (de surface  $4\pi R^2$ ) donc  $I_R = 4\pi R^2 j_r(R)$ .

**5.5** Les plans  $(xOy)$  et  $(xOz)$  sont des plans d'antisymétrie de la distribution car les courants de la distribution sont répartis de manière strictement opposée de part et d'autre de chacun de ces plans. Par ailleurs, la longueur du solénoïde n'intervient pas dans l'étude des symétries d'une distribution, mais doit être considérée lors d'une étude de ses invariances.

**5.6 a)** En tout point M du plan  $(xOy)$ , plan d'antisymétrie pour la distribution, le champ magnétostatique appartient à ce plan. C'est bien le cas pour le point O et les différents points  $P_i$ . Il est alors possible d'écrire :  $\vec{B}(M) = B_x(M)\vec{e}_x + B_y(M)\vec{e}_y$ . Par ailleurs, le vecteur  $\vec{e}_z$  est bien normal au plan  $(xOy)$ .

**5.6 b)** Le vecteur  $\vec{e}_x$  est bien normal au plan  $(yOz)$ . En tout point M du plan  $(yOz)$ , plan de symétrie pour la distribution, le champ magnétostatique est perpendiculaire à ce plan, donc est selon  $\pm\vec{e}_x$ . Il est alors possible d'écrire :  $\vec{B}(M) = B_x(M)\vec{e}_x$ . Les différents points  $P_i$  n'appartiennent pas à ce plan, donc rien ne peut en être déduit sur le champ en ces points.

**5.6 c)** Il faut bien préciser que c'est en tout point M du plan  $(xOz)$ , plan de symétrie pour la distribution, que le champ magnétostatique est perpendiculaire à ce plan. C'est bien le cas pour le point O mais pas pour les différents points  $P_i$  (qui n'appartiennent pas à ce plan). Il est alors possible d'écrire :  $\vec{B}(M) = B(M)\vec{e}_y$ .

Le point O appartient aux plans de symétrie  $(xOz)$  et  $(yOz)$  donc le champ en ce point doit être perpendiculaire à ces deux plans : il est nécessairement nul.

Puisque le plan  $(xOy)$  est un plan d'antisymétrie pour la distribution, en tout point de ce plan le champ magnétostatique appartient à ce plan. C'est bien le cas pour les différents points  $P_i$ . Il est alors possible d'écrire :

$$\vec{B}(P_i) = B_x(P_i)\vec{e}_x + B_y(P_i)\vec{e}_y.$$

De plus, puisque le plan  $(yOz)$  est un plan de symétrie pour la distribution, c'est un plan d'antisymétrie pour le champ magnétostatique. Tout cela permet alors d'écrire :  $B_y(P_2) = -B_y(P_1)$  et  $B_x(P_2) = B_x(P_1)$ , mais pas  $\vec{B}(P_2) = -\vec{B}(P_1)$  ! En bref, il est aussi possible d'écrire :  $\vec{B}(P_2) = -\text{sym}(\vec{B}(P_1))$ , où « sym » représente l'opération de symétrie par rapport au plan  $(yOz)$ .

**5.7 a)** On a  $I = \iint_{\Sigma} \vec{j} \cdot d\vec{S} = \iint_S j_0 \vec{e}_x \cdot dy dz \vec{e}_x = j_0 \times 2\ell \times 2d = 4j_0 \ell d$ .

**5.7 b)** Le vecteur densité volumique de courant est  $\vec{j} = j_0 \vec{e}_x$  et  $j_0$  est constant donc la distribution est invariante par translation suivant  $(Ox)$  et  $(Oy)$ . La couche étant finie, elle n'est pas invariante par translation suivant  $(Oz)$ , et encore moins par rotation autour de cet axe, le vecteur  $\vec{j}$  étant porté par  $\vec{e}_x$ .

**5.7 c)** La distribution est invariante par translation suivant les axes  $(Ox)$  et  $(Oy)$ , donc la composante  $B_y$  du champ ne dépend que de  $z$ .

**5.8 a)** En tenant compte du sens du courant, on a  $\vec{B}_2(O) = -\mu_0 n_2 I_2 \vec{e}_y$ , où  $n_2$  est le nombre de spires par unité de longueur du solénoïde (2).

**5.8 b)** D'après le théorème de superposition, on a  $\vec{B}(O) = \vec{B}_1(O) + \vec{B}_2(O)$  donc  $\vec{B}(O) = \mu_0(n_1 I_1 \vec{e}_x - n_2 I_2 \vec{e}_y)$ .

**5.9** Sachant que la force magnétique s'exprime comme  $\vec{F} = q\vec{v} \wedge \vec{B}$  alors le produit  $qvB$  est homogène à une force. Si l'égalité  $B = \frac{mv}{qR}$  est vraisemblable alors  $qv \times B = qv \times \frac{mv}{qR} = \frac{mv^2}{R}$  serait homogène à une force. Or,  $mv^2$  est homogène à une énergie puisque l'énergie cinétique s'exprime comme  $\frac{mv^2}{2}$ . De plus, d'après l'expression du travail élémentaire  $\delta W = \vec{F} \cdot d\vec{\ell}$  d'une force  $\vec{F}$ , une énergie divisée par une longueur correspond à une force. Finalement, le rapport  $\frac{mv^2}{R}$  est donc bien homogène à une force et la relation  $B = \frac{mv}{qR}$  est vraisemblable du point de vue de l'analyse dimensionnelle. Bien sûr, d'autres raisonnements sont possibles en se basant sur d'autres relations !

**5.10** Le champ magnétique est linéaire pour  $0 < r < a$  et hyperbolique pour  $r > a$ .

**5.11 a)** Sachant que  $B_y = kx \neq 0$  pour tout  $M(x, y, z)$  alors le vecteur champ magnétostatique ne peut pas être constamment parallèle à  $\vec{e}_x$ , ce qui élimine la carte de champ (3). En prenant les points de l'espace où  $x = 0$ , le vecteur champ magnétostatique doit s'écrire comme  $\vec{B}(M) = ky\vec{e}_x$  : les vecteurs champs le long de cette ligne doivent être perpendiculaires à cette ligne. Parmi les cartes de champ (1), (2) et (4) restantes, seule la (2) possède cette propriété.

Autre méthode possible : En prenant les points de l'espace où  $y = 0$ , le vecteur champ magnétostatique doit s'écrire comme  $\vec{B}(M) = kx\vec{e}_y$  : les vecteurs champs le long de cette ligne doivent être perpendiculaires à cette ligne. Seule la carte de champ (2) possède cette propriété.

**5.11 b)** Le flux magnétostatique est conservatif donc le resserrement des lignes de champ constaté de M à N permet d'affirmer que le champ magnétostatique est plus intense au point N qu'au point M.

**5.12 a)** Le calcul de la circulation du champ magnétostatique de A à C se décompose en deux.

- D'une part sur [AB] :  $\mathcal{C}_{AB} = \int_A^B \vec{B} \cdot d\vec{\ell} = 0$  (chemin perpendiculaire aux lignes de champ).
- D'autre part, sur [BC] on a

$$\mathcal{C}_{BC} = \int_B^C \vec{B} \cdot d\vec{\ell} = 4Bd \text{ (chemin parallèle aux lignes de champ).}$$

**5.12 b)** D'une part sur [AB] :  $\mathcal{C}_{AB} = \int_A^B \vec{B} \cdot d\vec{\ell} = -8Bd$ . Seule la projection de  $\vec{AB}$  sur la ligne de champ doit être prise en compte. Le signe moins provient du sens de  $\vec{B}$  par rapport à celui de la projection de  $\vec{AB}$ . D'autre part sur [BC] :  $\mathcal{C}_{BC} = \int_B^C \vec{B} \cdot d\vec{\ell} = 6Bd$ .

**5.12 c)** D'une part sur [AB] :  $\mathcal{C}_{AB} = \int_A^B \vec{B} \cdot d\vec{\ell} = \frac{7\pi d}{2}B$ . Le chemin [AB] est un demi-cercle de longueur  $\frac{7\pi d}{2}$ . D'autre part sur [BC] :  $\mathcal{C}_{BC} = \int_B^C \vec{B} \cdot d\vec{\ell} = 0$  (chemin perpendiculaire aux lignes de champ).

**5.13 a)** Le contour enlace le fil. L'orientation du contour et le sens de  $I$  sont tels que  $I_{\text{enl}} = +I$ .

**5.13 b)** Le contour n'enlace pas le fil donc  $I_{\text{enl}} = 0$ , quels que soient l'orientation du contour et le sens de  $I$ .

**5.13 c)** Le contour enlace le fil. L'orientation du contour et le sens de  $I$  sont tels que  $I_{\text{enl}} = -I$ .

**5.13 d)** Le fil est positionné de façon telle que le courant passe quatre fois « à l'intérieur » du contour. L'orientation du contour et le sens de  $I$  sont tels que  $I_{\text{enl}} = +4I$ .

**5.14 a)** Le produit scalaire  $\vec{B} \cdot d\vec{S}$  est positif lorsque le champ  $\vec{B}$  et le vecteur surface élémentaire  $d\vec{S}$  (donné par l'orientation de la surface) pointent globalement dans la même direction (ils forment ainsi un angle aigu, c'est-à-dire compris entre 0 et 90°).

Pour le cas (a), le champ  $\vec{B}$  est vertical et vers le haut. De même, le vecteur surface élémentaire  $d\vec{S}$  est vertical et orienté vers le haut (d'après l'orientation du contour). Finalement :  $\vec{B} \cdot d\vec{S} > 0$ , soit  $\phi > 0$ .

Pour le cas (b), le champ  $\vec{B}$  est vertical et vers le bas. Par contre, le vecteur surface élémentaire  $\vec{dS}$  est vertical et orienté vers le haut (d'après l'orientation du contour). Finalement :  $\vec{B} \cdot \vec{dS} < 0$ , soit  $\phi < 0$ .

Pour le cas (c), le champ  $\vec{B}$  est vertical et vers le haut. Par contre, le vecteur surface élémentaire  $\vec{dS}$  est vertical et orienté vers le bas (d'après l'orientation du contour). Finalement :  $\vec{B} \cdot \vec{dS} < 0$ , soit  $\phi < 0$ .

Pour le cas (e), le champ  $\vec{B}$  pointe globalement vers le bas. Par ailleurs, le vecteur surface élémentaire  $\vec{dS}$  est vertical et orienté vers le bas (d'après l'orientation du contour). Finalement :  $\vec{B} \cdot \vec{dS} > 0$ , soit  $\phi > 0$ .

Pour le cas (f), le champ  $\vec{B}$  pointe globalement vers le haut. Par ailleurs, le vecteur surface élémentaire  $\vec{dS}$  est vertical et orienté vers le bas (d'après l'orientation du contour). Finalement :  $\vec{B} \cdot \vec{dS} < 0$ , soit  $\phi < 0$ .

5.14 b) Pour le cas (d), le champ  $\vec{B}$  est horizontal. Par contre, le vecteur surface élémentaire  $\vec{dS}$  est vertical. Finalement :  $\vec{B} \cdot \vec{dS} = 0$ , soit  $\phi = 0$ . Aucune ligne de champ ne passe à travers la surface orientée, donc le flux est nécessairement nul.

5.15 a) À ce sens de parcours de la spire est associé le vecteur normal  $\vec{n}$  opposé au champ magnétostatique. D'où  $\phi(\vec{B}) = \iint_{\Sigma} \vec{B} \cdot \vec{n} \, dS = - \iint_{\Sigma} B \, dS$  en notant  $\Sigma$  l'intersection entre le plan de la spire et la zone de champ.

Pour  $x < 0$  on a donc  $\phi(\vec{B}) = 0$ .

5.15 b) Le champ  $\vec{B}$  est uniforme donc on a  $\phi(\vec{B}) = -B\Sigma = -Bax$ .

5.15 c) Ici, on a  $\phi(\vec{B}) = -B\Sigma = -Ba^2$ .

5.16 a) Les  $N$  spires du tore traversent la surface délimitée par le cercle de centre O et de rayon  $R - \frac{a}{2} < r < R + \frac{a}{2}$ . Le courant enlacé vaut donc  $I_{\text{enl}} = NI$ .

5.16 b) Sur le contour fermé choisi,  $r$  et  $B(r)$  sont constants. Il vient :

$$\oint \vec{B} \cdot \vec{dl} = \oint B(r) \vec{e}_{\theta} \cdot r \, d\theta \vec{e}_{\theta} = 2\pi r B(r).$$

D'après le théorème d'Ampère, on a  $2\pi r B(r) = \mu_0 I_{\text{enl}}$  et donc  $B(r) = \frac{\mu_0 NI}{2\pi r}$ .

5.16 c) On a  $\phi(\vec{B}) = \iint \vec{B} \cdot \vec{n} \, dS = \int_{R-a/2}^{R+a/2} \frac{\mu_0 NI}{2\pi r} \, dr \int_{-a/2}^{a/2} dz = \frac{\mu_0 NI a}{2\pi} \ln\left(\frac{R+a/2}{R-a/2}\right)$ .

5.17 a) On a  $B = \mu_0 \mu_r \frac{N}{\ell} I$ . Donc,  $B = 4\pi \times 10^{-7} \text{ H} \cdot \text{m}^{-1} \times 4000 \times \frac{1000}{10 \times 10^{-2} \text{ m}} \times 200 \times 10^{-3} \text{ A} \approx 1 \times 10^1 \text{ T}$ .

5.17 b) On a  $\phi = NBS$ . Donc,  $\phi = 1000 \times 1 \times 10^1 \text{ T} \times (20 \times 10^{-2} \text{ m})^2 = 4 \times 10^2 \text{ Wb}$ .

5.17 c) Le champ magnétostatique est un champ à flux conservatif. Or, le circuit magnétique joue le rôle d'un tube de champ, donc la « loi des nœuds magnétique » appliquée à la jonction qui surmonte ( $S_1$ ) donne :  $\phi = \phi_1 + \phi_2$ , soit  $\phi_1 = \phi - \phi_2 = \phi - \frac{1}{4}\phi = \frac{3}{4}\phi$ . Donc,  $\phi_1 = \frac{3}{4} \times 4 \times 10^2 \text{ Wb} = 3 \times 10^2 \text{ Wb}$ .

**5.18 a)** Pour une boucle de courant plane, de surface  $S$  et parcourue par un courant d'intensité  $I$  (ce qui permet de définir le vecteur surface  $\vec{S}$ ), le moment magnétique est défini par la relation  $\vec{M} = I\vec{S}$ . Pour une spire de rayon  $R$  et d'axe  $(Oz)$ , le vecteur surface a alors pour expression  $\vec{S} = S\vec{e}_z = \pi R^2\vec{e}_z$ , donc  $\vec{M} = \pi R^2 I\vec{e}_z$ .

**5.18 b)** Dans le cadre de l'approximation dipolaire :  $z \gg R$  donc  $R^2 + z^2 = z^2$ . Le champ magnétostatique s'écrit alors :  $\vec{B}(M) = \frac{\mu_0 I R^2}{2z^3} \vec{e}_z$  ou encore  $\vec{B}(M) = \frac{\mu_0 \vec{M}}{2\pi z^3}$ .

**5.19** Des valeurs particulières de  $\theta$ , telles  $\theta = 0$  ou  $\theta = \pi/2$ , et l'étude de l'orientation du champ magnétostatique pour ces angles, permettent de conclure que  $\vec{B}(M) = \frac{\mu_0 m}{4\pi r^3} (2\cos(\theta)\vec{e}_r + \sin(\theta)\vec{e}_\theta)$ .

**5.20 a)** Le moment du couple magnétique s'exprime comme  $\Gamma_z = +mB_{\text{ext}}$  à l'équilibre, car  $\vec{m}$  et  $\vec{B}_{\text{ext}}$  sont orthogonaux.

**5.20 b)** À l'équilibre, le théorème du moment cinétique donne :  $0 = mB_{\text{ext}} - dMg$ , soit  $d = \frac{mB_{\text{ext}}}{Mg}$ .

**5.21 a)** D'après la relation  $\vec{\Gamma} = \vec{m} \wedge \vec{B}$ , le moment  $\vec{\Gamma}$  est colinéaire à  $-\vec{e}_z$  et de même sens.

**5.21 b)** D'après la relation  $\vec{\Gamma} = \vec{m} \wedge \vec{B}$ , le moment  $\vec{\Gamma}$  est colinéaire à  $+\vec{e}_z$  et de même sens.

**5.21 c)** D'après la relation  $\vec{\Gamma} = \vec{m} \wedge \vec{B}$ , le moment  $\vec{\Gamma}$  est colinéaire à  $+\vec{e}_z$  et de même sens.

**5.21 d)** D'après la relation  $\vec{\Gamma} = \vec{m} \wedge \vec{B}$ , le moment  $\vec{\Gamma}$  est colinéaire à  $+\vec{e}_z$  et de même sens.

**5.22 a)** Lorsque le dipôle est aligné sur le champ (même direction et même sens) :  $\vec{m} \cdot \vec{B}_{\text{ext}} = m\|\vec{B}_{\text{ext}}\|$ , soit  $\vec{F} = +\text{grad}\left(\frac{\mu_0 I m}{2\pi r}\right) = -\frac{\mu_0 I m}{2\pi r^2} \vec{e}_r$ .

**5.22 b)** La force  $\vec{F}$  est dirigée dans la direction et le sens du gradient de la norme du champ magnétostatique. Le dipôle est donc attiré vers les régions de champ plus intense. On peut aussi remarquer que le dipôle a tendance à se déplacer de manière à minimiser son énergie potentielle.

**5.23** La circulation du champ magnétostatique le long d'un cercle de rayon  $R$  au sein duquel passe par son centre une ligne infinie parcourue par un courant électrique stationnaire est  $2\pi RB$ . Le théorème d'Ampère appliqué au cercle permet d'écrire  $2\pi RB = \mu_0 I$  : la circulation du champ magnétostatique est homogène au produit d'une intensité électrique par une perméabilité magnétique (du vide). Ainsi, seule l'expression  $B = \frac{\mu_0 I}{2\pi R}$  est valide.

**5.24** Le flux magnétique traversant un solénoïde comportant  $N$  spires de section  $S$  est  $\phi = NBS$ . Or, l'inductance propre  $L$  permet d'exprimer le flux en fonction de l'intensité :  $\phi = LI$ . Il vient :  $B = \frac{LI}{NS}$ .

**5.25 a)** En un point de l'orbite circulaire, la charge  $-e$  de l'électron passe à chaque période de révolution  $T$ , d'où le débit de charge  $I = -e/T$ .

**5.25 b)** La norme du vecteur surface  $\vec{S}$  est l'aire du disque de rayon  $r$  et de centre  $O$  :  $\|\vec{S}\| = \pi r^2$ . De plus, le vecteur surface  $\vec{S}$  est orienté par la règle de la main droite, selon le sens du vecteur vitesse de l'électron (c'est aussi le sens choisi algébriquement pour l'intensité  $I$ ). Il vient :  $\vec{m} = -\frac{e}{T} \underbrace{\pi r^2 \vec{e}_z}_{\vec{S}}$ .

**5.25 c)** Par comparaison des expressions  $\vec{m} = -\frac{e}{T} \vec{S}$  et  $\vec{\sigma} = \frac{2m_e}{T} \vec{S}$ , il vient :  $\vec{m} = \gamma \vec{\sigma}$ , avec  $\gamma = -\frac{e}{2m_e}$ .

**5.25 d)** On a  $\|\vec{m}\| = \underbrace{|\gamma|}_{+\frac{e}{2m_e}} \underbrace{\|\vec{\sigma}\|}_{n\hbar}$ , soit  $\|\vec{m}\| = n \underbrace{\frac{e\hbar}{2m_e}}_{\mu_B}$ . Donc,

$$\mu_B = \frac{1,602 \times 10^{-19} \text{ C} \times \frac{6,63 \times 10^{-34} \text{ J} \cdot \text{s}}{2\pi}}{2 \times 9,11 \times 10^{-31} \text{ kg}} = 9,28 \times 10^{-24} \text{ A} \cdot \text{m}^2.$$

Attention : la réponse (a) n'est pas correcte car  $\gamma = -\frac{e}{2m_e}$ , donc  $\mu_B = -\hbar\gamma$ , et non pas  $\mu_B = +\hbar\gamma$ . Par ailleurs, la réponse (c) n'est pas correcte car l'unité indiquée correspond à une énergie, et non pas à un moment magnétique !

**5.26 a)** Le flux propre est  $\Phi_p = \iint \vec{B} \cdot d\vec{S} = \int_{R_1}^{R_2} B \vec{e}_\theta \cdot \ell dr \vec{e}_\theta = \int_{R_1}^{R_2} \frac{\mu_0 I}{2\pi r} \ell dr = \frac{\mu_0 I}{2\pi} \ell \int_{R_1}^{R_2} \frac{dr}{r} = \frac{\mu_0 I \ell}{2\pi} \ln \frac{R_2}{R_1}$ .

**5.26 b)** L'inductance propre par unité de longueur :  $\Lambda = \frac{L}{\ell} = \frac{\Phi_p}{\ell I} = \frac{\mu_0}{2\pi} \ln \frac{R_2}{R_1}$ .

**5.26 c)** La composante du champ ne dépendant que de  $r$ , on peut découper le volume en portions d'espace comprises entre 2 cylindres, le premier de rayon  $r$ , le deuxième de rayon  $r + dr$ , tous les deux de hauteur  $\ell$ . Le volume élémentaire vaut alors :  $d\tau = 2\pi \ell r dr$ . L'énergie magnétique correspondant à une portion de longueur  $\ell$  du câble est alors :

$$W_m = \frac{1}{2\mu_0} \iiint B^2 d\tau = \frac{\ell}{2\mu_0} \int_{R_1}^{R_2} \frac{\mu_0^2 I^2}{4\pi^2 r^2} 2\pi r dr = \frac{\mu_0 I^2 \ell}{4\pi} \ln \frac{R_2}{R_1}.$$

**5.26 d)** L'inductance propre par unité de longueur est  $\Lambda = \frac{L}{\ell} = \frac{2W_m}{\ell I^2} = \frac{\mu_0}{2\pi} \ln \frac{R_2}{R_1}$ .

# Fiche n° 6. Équations de Maxwell

## Réponses

- 6.1 a) .....  (d)
- 6.1 b) .....   $I \cdot T$
- 6.1 c) .....   $\frac{M}{I \cdot T^2}$
- 6.1 d) .....   $\frac{M \cdot L}{I \cdot T^3}$
- 6.1 e) .....   $\frac{M \cdot L}{I \cdot T^3}$
- 6.2 a) .....  (b)
- 6.2 b) .....  (c)
- 6.2 c) .....   $1,1 \times 10^{12}$
- 6.2 d) .....   $1,1 \times 10^1$
- 6.2 e) .....   $1,1 \times 10^{-8}$
- 6.3 a) ....   $E_0 \cos[\omega t - kx] \vec{e}_y + E_0 \sin[\omega t - kx] \vec{e}_z$
- 6.3 b) .....   $-E_0 \exp[i(\omega t + kz)] \vec{e}_x + iE_0 \exp[i(\omega t + kz)] \vec{e}_y$
- 6.4 a) .....  Nulle
- 6.4 b) .....  Positive
- 6.4 c) .....  Négative
- 6.4 d) .....  Negative
- 6.4 e) .....  Nulle
- 6.4 f) .....  Positive
- 6.5 a) .....  Nulle
- 6.5 b) .....  Positive
- 6.5 c) .....  Négative
- 6.5 d) .....  Nulle
- 6.5 e) .....  Positive
- 6.5 f) .....  Négative
- 6.6 a) .....   $\mu_0 \operatorname{div} \vec{j} + \varepsilon_0 \mu_0 \frac{\partial \operatorname{div} \vec{E}}{\partial t}$
- 6.6 b) .....   $\mu_0 \operatorname{div} \vec{j} + \mu_0 \frac{\partial \rho}{\partial t}$
- 6.6 c) .....  (b)
- 6.7 a) .....  m
- 6.7 b) .....  0
- 6.7 c) .....  Oui
- 6.7 d) .....  (d)
- 6.7 e) .....   $\vec{0}$
- 6.8 a) .....   $r\omega \vec{e}_\theta$
- 6.8 b) .....   $-\omega y \vec{e}_x + \omega x \vec{e}_y$
- 6.8 c) .....   $2\omega \vec{e}_z$
- 6.8 d) .....   $r\omega$
- 6.8 e) .....   $\frac{a^2}{r} \omega$
- 6.9 a) .....   $3a - 5br^2$
- 6.9 b) .....  (b)
- 6.9 c) .....   $4\pi R^3(a - bR^2)$
- 6.9 d) .....  (c)
- 6.9 e) .....   $4\pi R^3(a - bR^2)$
- 6.10 a) .....  oui
- 6.10 b) .....  non
- 6.10 c) .....  oui
- 6.11 a) .....   $E_0 \frac{k}{\omega} \cos(\omega t - kz + \varphi) \vec{e}_y$
- 6.11 b) ....   $E_0 \sqrt{\varepsilon_0 \mu_0} \sinh(\sqrt{\varepsilon_0 \mu_0} \alpha z) \exp(-\alpha t) \vec{e}_y$
- 6.11 c) .....   $-\frac{2E_0}{k^2 r^3} \int \cos(\omega t) \vec{e}_\theta dt$



6.12 a) .....  $B_0 \frac{k}{\varepsilon_0 \mu_0 \omega} \sin(\omega t - kz + \varphi) \vec{e}_x$

6.12 b) .....  $\frac{B_0}{\sqrt{\varepsilon_0 \mu_0}} \cosh(\sqrt{\varepsilon_0 \mu_0} \alpha z) \exp(-\alpha t) \vec{e}_x$

6.12 c) .....  $\frac{c^3 B_0}{k^2 \omega r^3} \cos(\omega t) \vec{e}_z$

6.13 a) ..... (a)

6.13 b) .....  $-\mu_0 n \frac{di}{dt} \frac{r}{2} \vec{e}_\theta$

6.13 c) .....  $-\mu_0 n \frac{dR^2}{dt} \frac{1}{2r} \vec{e}_\theta$

6.13 d) ..... (d)

6.13 e) .....  $-\mu_0 n \frac{di}{dt} \frac{r}{2} \vec{e}_\theta$

6.13 f) .....  $-\mu_0 n \frac{dR^2}{dt} \frac{1}{2r} \vec{e}_\theta$

6.14 a) ....  $\frac{E_0 B_0}{\mu_0} \cos(\omega t - kz + \varphi) \sin(\omega t - kz + \varphi) \vec{e}_z$

6.14 b) ....  $-\frac{E_0 B_0}{\mu_0} \cosh(\beta z) \sinh(\beta z) \exp(-2\alpha t) \vec{e}_x$

6.15 a) .....  $-\frac{E_{0y}}{c} \cos(kz - \omega t + \psi_2) \vec{e}_x$   
 $+\frac{E_{0x}}{c} \cos(kz - \omega t + \psi_1) \vec{e}_y$

6.15 b) .....  $\frac{E_x^2 + E_y^2}{\mu_0 c} \vec{e}_z$

6.15 c) .....  $E_{0x} e^{i(kz - \omega t + \psi_1)} \vec{e}_x$   
 $+ E_{0y} e^{i(kz - \omega t + \psi_2)} \vec{e}_y$

6.15 d) .....  $\frac{1}{c} \left( E_{0x} e^{i(kz - \omega t + \psi_1)} \vec{e}_y$   
 $- E_{0y} e^{i(kz - \omega t + \psi_2)} \vec{e}_x \right)$

6.15 e) .....  $\frac{1}{c} \left( E_{0x} e^{-i(kz - \omega t + \psi_1)} \vec{e}_y$   
 $- E_{0y} e^{-i(kz - \omega t + \psi_2)} \vec{e}_x \right)$

6.15 f) .....  $\frac{E_{0x}^2 + E_{0y}^2}{2 \mu_0 c} \vec{e}_z$

6.15 g) ..... (a)

6.16 a) .....  $\frac{LQ^2}{2\varepsilon_0 S}$

6.16 b) .....  $-\frac{R}{2\varepsilon_0 S^2} Q \frac{dQ}{dt} \vec{e}_r$

6.16 c) .....  $-\frac{L}{\varepsilon_0 S} Q \frac{dQ}{dt}$

6.16 d) ..... (c)

6.16 e) ..... (b)

## Corrigés

6.1 a) Les trois premières équations correspondent aux équations de Maxwell-Gauss, Maxwell-Faraday et Maxwell-Ampère. La dernière est une formulation de l'équation de conservation de la charge, qui n'est pas une des équations de Maxwell mais une conséquence de deux d'entre elles.

6.1 b) La définition de l'intensité du courant électrique est :  $i(t) = \frac{dq}{dt}$ , donc  $\dim(q) = I \cdot T$ .

6.1 c) Par analyse dimensionnelle de la force de Lorentz, on a

$$\dim(\vec{B}) = \frac{\dim(\vec{F})}{\dim(q) \dim(\vec{v})} = \frac{M \cdot L \cdot T^{-2}}{I \cdot T \cdot L \cdot T^{-1}} = \frac{M}{I \cdot T^2}.$$

6.1 d) Par analyse dimensionnelle de la force de Lorentz, on a  $\dim(\vec{E}) = \frac{\dim(\vec{F})}{\dim(q)} = \frac{M \cdot L \cdot T^{-2}}{I \cdot T} = \frac{M \cdot L}{I \cdot T^3}$ .

**6.1 e)** Par analyse dimensionnelle de l'équation de Maxwell-Faraday, on a

$$\dim(\text{rot}(\vec{E})) = \frac{\dim(\vec{E})}{L} = \frac{\dim(\vec{B})}{T} \quad \text{donc} \quad \dim(\vec{E}) = \frac{\dim(\vec{B}) \cdot L}{T} = \frac{M \cdot I^{-1} \cdot T^{-2} \cdot L}{T} = \frac{M \cdot L}{I \cdot T^3}.$$

**6.2 a)** On a  $\|\vec{j}_{\text{cond}}\| = \|\sigma E_0 \cos(\omega t + \varphi)\| < \|\sigma E_0\|$  et  $\|\vec{j}_{\text{dép}}\| = \|\varepsilon_0 \omega E_0 \sin(\omega t + \varphi)\| < \|\varepsilon_0 \omega E_0\|$ . Donc,

$$\alpha \text{ a pour ordre de grandeur } \frac{\sigma E_0}{\varepsilon_0 \omega E_0} = \frac{\sigma}{\varepsilon_0 \omega}.$$

**6.2 b)** On a  $\alpha \gg 1 \iff f \ll \frac{\sigma}{2\pi\varepsilon_0} = \frac{1 \times 10^7 \text{ S} \cdot \text{m}^{-1}}{2\pi \times 8,8 \times 10^{-12} \text{ F} \cdot \text{m}^{-1}} = 1,8 \times 10^{17} \text{ Hz}$ .

**6.2 c)** On a  $\alpha = \frac{\sigma}{\varepsilon_0 \omega} = \frac{1,0 \times 10^7 \text{ S} \cdot \text{m}^{-1}}{8,8 \times 10^{-12} \text{ F} \cdot \text{m}^{-1} \times 1,0 \times 10^6 \text{ rad} \cdot \text{s}^{-1}} = 1,1 \times 10^{12} \gg 1$ .

**6.2 d)** On a  $\alpha = \frac{\sigma}{\varepsilon_0 \omega} = \frac{1,0 \times 10^{-4} \text{ S} \cdot \text{m}^{-1}}{8,8 \times 10^{-12} \text{ F} \cdot \text{m}^{-1} \times 1,0 \times 10^6 \text{ rad} \cdot \text{s}^{-1}} = 1,1 \times 10^1$ , dont l'ordre de grandeur est 1.

**6.2 e)** On a  $\alpha = \frac{\sigma}{\varepsilon_0 \omega} = \frac{1,0 \times 10^{-13} \text{ S} \cdot \text{m}^{-1}}{8,8 \times 10^{-12} \text{ F} \cdot \text{m}^{-1} \times 1,0 \times 10^6 \text{ rad} \cdot \text{s}^{-1}} = 1,1 \times 10^{-8} \ll 1$ .

**6.3 a)** On a

$$\begin{aligned} \vec{E}_1 &= E_0 \exp[i(\omega t - kx)]\vec{e}_y - iE_0 \exp[i(\omega t - kx)]\vec{e}_z \\ &= E_0(\cos(\omega t - kx) + i\sin(\omega t - kx))\vec{e}_y - iE_0(\cos(\omega t - kx) + i\sin(\omega t - kx))\vec{e}_z. \end{aligned}$$

Donc,  $\vec{E}_1 = \text{Re}(\vec{E}_1) = E_0 \cos[\omega t - kx]\vec{e}_y + E_0 \sin[\omega t - kx]\vec{e}_z$ .

**6.5 a)** On peut estimer le rotationnel selon un axe en observant si le champ de vecteurs « tourne » dans le sens direct ou indirect. Si le champ de vecteurs ne « tourne » pas autour d'un axe alors le rotationnel est nul. Si le champ de vecteurs semble « tourner » dans le sens direct alors le rotationnel est positif, dans le cas contraire, il est négatif.

**6.6 a)** Avec la relation de Maxwell-Ampère et le théorème de Schwarz, on a :

$$\text{div}(\text{rot} \vec{B}) = \text{div} \left( \mu_0 \vec{j} + \varepsilon_0 \mu_0 \frac{\partial \vec{E}}{\partial t} \right) = \mu_0 \text{div} \vec{j} + \varepsilon_0 \mu_0 \frac{\partial \text{div} \vec{E}}{\partial t}.$$

**6.6 b)** Avec la relation de Maxwell-Gauss, on a :

$$\text{div}(\text{rot} \vec{B}) = \mu_0 \text{div} \vec{j} + \varepsilon_0 \mu_0 \frac{\partial(\frac{\rho}{\varepsilon_0})}{\partial t} = \mu_0 \left( \text{div} \vec{j} + \frac{\partial \rho}{\partial t} \right).$$

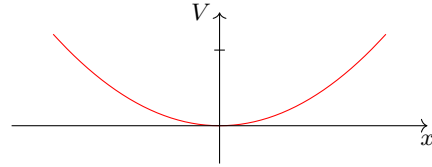
**6.6 c)** Comme  $\text{div}(\text{rot} \vec{B}) = 0$ , on obtient :  $\text{div} \vec{j} + \frac{\partial \rho}{\partial t} = 0$ .

**6.7 a)** En utilisant l'homogénéité, on voit que  $a$  est une longueur, en mètres ( $m$ ).

**6.7 b)** On a  $\Delta V = \frac{\partial^2 V}{\partial x^2} + \frac{\partial^2 V}{\partial y^2} + \frac{\partial^2 V}{\partial z^2} = \frac{V_0}{a^2} (2 + 4 - 6) = 0$ .

6.7 c) L'équation de Poisson  $\Delta V = -\frac{\rho}{\epsilon_0}$  est vérifiée en prenant  $\rho = 0$  car l'énoncé impose un espace vide de charges.

6.7 d) On a  $V(x, 0, 0) = \frac{V_0}{a^2}x^2$  : c'est une parabole.  
En voici l'allure :



6.7 e) Le champ électrique est donné par :

$$\vec{E} = -\text{grad} V = -\frac{\partial V}{\partial x}\vec{e}_x - \frac{\partial V}{\partial y}\vec{e}_y - \frac{\partial V}{\partial z}\vec{e}_z = 2\frac{V_0}{a^2}(-x\vec{e}_x - 2y\vec{e}_y + 3z\vec{e}_z).$$

En O, origine du repère, ce champ est nul.

6.8 a) On a  $\vec{v} = \omega\vec{e}_z \wedge (r\vec{e}_r + z\vec{e}_z) = r\omega\vec{e}_\theta$ .

6.8 b) On a  $\vec{v} = \omega\vec{e}_z \wedge (x\vec{e}_x + y\vec{e}_y + z\vec{e}_z) = -\omega y\vec{e}_x + \omega x\vec{e}_y$ .

6.8 c) En coordonnées cartésiennes, on obtient :  $\text{rot} \vec{v} = 2\omega\vec{e}_z$ .

6.8 d) L'expression  $\oint_{\Gamma} \vec{v}_{(M)} \cdot d\vec{l}_{(M)} = \iint_{\Sigma} \text{rot}(\vec{v})_{(M)} \cdot \vec{n} dS_{(M)}$  s'écrit, avec  $d\vec{l} = r d\theta\vec{e}_\theta$  et  $\vec{n} dS_{(M)} = r dr d\theta\vec{e}_z$ ,  
d'où  $v2\pi r = \int_0^r 4\omega\pi r dr$ , soit  $v = r\omega$ .

6.8 e) L'expression  $\oint_{\Gamma} \vec{v}_{(M)} \cdot d\vec{l}_{(M)} = \iint_{\Sigma} \text{rot}(\vec{v})_{(M)} \cdot \vec{n} dS_{(M)}$  s'écrit, avec  $d\vec{l} = r d\theta\vec{e}_\theta$  et  $\vec{n} dS_{(M)} = r dr d\theta\vec{e}_z$ ,  
d'où  $v2\pi r = \int_0^a 4\omega\pi r dr + \int_a^r 0 \times \pi r dr$ , soit  $v = \frac{a^2}{r}\omega$ .

6.9 a) On a  $\text{div} \vec{A} = \frac{1}{r^2} \frac{\partial(r^2 A_r)}{\partial r} = \frac{1}{r^2} (3ar^2 - 5br^4) = 3a - 5br^2$ .

6.9 c) On a

$$\begin{aligned} \oiint_{\text{sphère}} \vec{A} \cdot d\vec{S} &= \iiint_{\text{boule}} \text{div} \vec{A} d\tau \\ &= \int_{r=0}^{r=R} \int_{\theta=0}^{\theta=2\pi} \int_{\varphi=0}^{\varphi=\pi} (3a - 5br^2)r^2 \sin(\varphi) dr d\theta d\varphi \\ &= [\theta]_0^{2\pi} \times [-\cos(\varphi)]_0^\pi \times [ar^3 - br^5]_0^R \\ &= 4\pi R^3(a - bR^2). \end{aligned}$$

6.9 e) On a

$$\oiint_{\text{sphère}} \vec{A} \cdot d\vec{S} = \int_{\theta=0}^{\theta=2\pi} \int_{\varphi=0}^{\varphi=\pi} (aR - bR^3)R^2 \sin(\varphi) d\theta d\varphi = 4\pi R^3(a - bR^2).$$

On retrouve bien le résultat de la question c).

**6.10 a)** Il faut vérifier que les équations de Maxwell sont respectées les unes après les autres. On a :

- $\operatorname{div} \vec{E} = \frac{\partial E_x}{\partial x} + \frac{\partial E_y}{\partial y} + \frac{\partial E_z}{\partial z} = 0$
- $\operatorname{div} \vec{B} = \frac{\partial B_x}{\partial x} + \frac{\partial B_y}{\partial y} + \frac{\partial B_z}{\partial z} = 0$
- $\operatorname{rot} \vec{E} = \left( \frac{\partial E_z}{\partial y} - \frac{\partial E_y}{\partial z} \right) \vec{e}_x + \left( \frac{\partial E_x}{\partial z} - \frac{\partial E_z}{\partial x} \right) \vec{e}_y + \left( \frac{\partial E_y}{\partial x} - \frac{\partial E_x}{\partial y} \right) \vec{e}_z = \frac{\partial E_y}{\partial x} \vec{e}_z = E_0 k \sin(\omega t - kx + \varphi_0) \vec{e}_z$
- $\frac{\partial \vec{B}}{\partial t} = -E_0 k \sin(\omega t - kx + \varphi_0) \vec{e}_z$
- Enfin,

$$\begin{aligned} \operatorname{rot} \vec{B} &= \left( \frac{\partial B_z}{\partial y} - \frac{\partial B_y}{\partial z} \right) \vec{e}_x + \left( \frac{\partial B_x}{\partial z} - \frac{\partial B_z}{\partial x} \right) \vec{e}_y + \left( \frac{\partial B_y}{\partial x} - \frac{\partial B_x}{\partial y} \right) \vec{e}_z \\ &= -\frac{\partial B_z}{\partial x} \vec{e}_y = -\frac{E_0 k^2}{\omega} \sin(\omega t - kx + \varphi_0) \vec{e}_y \end{aligned}$$

$$\frac{\partial \vec{E}}{\partial t} = -E_0 \omega \sin(\omega t - kx + \varphi_0) \vec{e}_y \text{ donc } \varepsilon_0 \mu_0 \frac{\partial \vec{E}}{\partial t} = -\frac{E_0 k^2}{\omega} \sin(\omega t - kx + \varphi_0) \vec{e}_y$$

Les quatre équations de Maxwell sont respectées donc le champ électromagnétique peut exister.

**6.10 b)** On a

$$\operatorname{div} \vec{E} = \frac{\partial E_y}{\partial y} = -E_0 k \sin(\omega t + ky).$$

L'équation de Maxwell-Gauss dans le vide n'est pas respectée donc ce champ électromagnétique ne peut pas exister.

**6.10 c)** On a

- $\operatorname{div} \vec{E} = \frac{\partial E_x}{\partial x} + \frac{\partial E_y}{\partial y} + \frac{\partial E_z}{\partial z} = 0$
- $\operatorname{div} \vec{B} = \frac{\partial B_x}{\partial x} + \frac{\partial B_y}{\partial y} + \frac{\partial B_z}{\partial z} = 0$
- 

$$\begin{aligned} \operatorname{rot} \vec{E} &= \left( \frac{\partial E_z}{\partial y} - \frac{\partial E_y}{\partial z} \right) \vec{e}_x + \left( \frac{\partial E_x}{\partial z} - \frac{\partial E_z}{\partial x} \right) \vec{e}_y + \left( \frac{\partial E_y}{\partial x} - \frac{\partial E_x}{\partial y} \right) \vec{e}_z = -\frac{\partial E_y}{\partial z} \vec{e}_x + \frac{\partial E_x}{\partial z} \vec{e}_y \\ &= E_2 k \sin(\omega t + kz + \varphi_2) \vec{e}_x - E_1 k \sin(\omega t + kz + \varphi_1) \vec{e}_y \end{aligned}$$

$$\frac{\partial \vec{B}}{\partial t} = -E_2 k \sin(\omega t + kz + \varphi_2) \vec{e}_x + E_1 k \sin(\omega t + kz + \varphi_1) \vec{e}_y$$

- Enfin,

$$\begin{aligned} \operatorname{rot} \vec{B} &= \left( \frac{\partial B_z}{\partial y} - \frac{\partial B_y}{\partial z} \right) \vec{e}_x + \left( \frac{\partial B_x}{\partial z} - \frac{\partial B_z}{\partial x} \right) \vec{e}_y + \left( \frac{\partial B_y}{\partial x} - \frac{\partial B_x}{\partial y} \right) \vec{e}_z = -\frac{\partial B_y}{\partial z} \vec{e}_x + \frac{\partial B_x}{\partial z} \vec{e}_y \\ &= -\frac{E_1 k^2}{\omega} \sin(\omega t + kz + \varphi_1) \vec{e}_x + \frac{E_2 k^2}{\omega} \sin(\omega t + kz + \varphi_2) \vec{e}_y \end{aligned}$$

$$\frac{\partial \vec{E}}{\partial t} = -E_1 \omega \sin(\omega t + kz + \varphi_1) \vec{e}_x - \omega E_2 \sin(\omega t + kz + \varphi_2) \vec{e}_y \text{ donc}$$

$$\varepsilon_0 \mu_0 \frac{\partial \vec{E}}{\partial t} = -\frac{E_1 k^2}{\omega} \sin(\omega t + kz + \varphi_1) \vec{e}_x - \frac{E_2 k^2}{\omega} \sin(\omega t + kz + \varphi_2) \vec{e}_y$$

Les quatre équations de Maxwell sont respectées donc le champ électromagnétique peut exister.

**6.11 a)** Le champ électrique est de la forme  $\vec{E} = E_x(z, t)\vec{e}_x$  avec  $E_x(z, t) = E_0 \cos(\omega t - kz + \varphi)$ .

D'après l'expression du rotationnel en coordonnées cartésiennes, on a

$$\text{rot}(\vec{E}) = \frac{\partial E_x}{\partial z} \vec{e}_y = E_0 k \sin(\omega t - kz + \varphi) \vec{e}_y.$$

D'après l'équation de Maxwell-Faraday :

$$\vec{B} = \int -\text{rot}(\vec{E}) dt = -E_0 k \vec{e}_y \int \sin(\omega t - kz + \varphi) dt = E_0 \frac{k}{\omega} \cos(\omega t - kz + \varphi) \vec{e}_y + \vec{Cste}.$$

Comme le milieu est vide de charge et de courant, il n'y a aucun champ statique donc  $\vec{Cste} = \vec{0}$ .

**6.11 b)** Le champ électrique est de la forme  $\vec{E} = E_x(z, t)\vec{e}_x$  avec  $E_x(z, t) = E_0 \cosh(\sqrt{\varepsilon_0 \mu_0} \alpha z) \exp(-\alpha t)$ .

D'après l'expression du rotationnel en coordonnées cartésiennes, on a

$$\text{rot}(\vec{E}) = \frac{\partial E_x}{\partial z} \vec{e}_y = E_0 \sqrt{\varepsilon_0 \mu_0} \alpha \sinh(\sqrt{\varepsilon_0 \mu_0} \alpha z) \exp(-\alpha t) \vec{e}_y.$$

D'après l'équation de Maxwell-Faraday :

$$\vec{B} = \int -\text{rot}(\vec{E}) dt = -E_0 \sqrt{\varepsilon_0 \mu_0} \alpha \sinh(\sqrt{\varepsilon_0 \mu_0} \alpha z) \vec{e}_y \int \exp(-\alpha t) dt = E_0 \sqrt{\varepsilon_0 \mu_0} \sinh(\sqrt{\varepsilon_0 \mu_0} \alpha z) \exp(-\alpha t) \vec{e}_y + \vec{Cste}.$$

Comme le milieu est vide de charge et de courant, il n'y a aucun champ statique donc  $\vec{Cste} = \vec{0}$ .

**6.11 c)** Le champ électrique est de la forme  $\vec{E} = E_z(r, t)\vec{e}_z$  avec

$$E_x(z, t) = \frac{E_0}{(kr)^2} \cos(\omega t).$$

D'après l'expression du rotationnel en coordonnées cylindriques, on a

$$\text{rot}(\vec{E}) = -\frac{\partial E_z}{\partial r} \vec{e}_\theta = \frac{2E_0}{k^2 r^3} \cos(\omega t) \vec{e}_\theta.$$

D'après l'équation de Maxwell-Faraday :

$$\vec{B} = \int -\text{rot}(\vec{E}) dt = -\frac{2E_0}{k^2 r^3} \int \cos(\omega t) \vec{e}_\theta dt.$$

Comme  $\vec{e}_\theta$  est un vecteur dont l'orientation dépend du temps (base cylindrique), on ne peut développer plus le calcul car on ne connaît pas l'évolution temporelle de l'angle  $\theta$ .

**6.12 a)** Le champ magnétique est de la forme  $\vec{B} = B_y(z, t)\vec{e}_y$  avec  $B_y(z, t) = B_0 \sin(\omega t - kz + \varphi)$ .

D'après l'expression du rotationnel en coordonnées cartésiennes, on a

$$\text{rot}(\vec{B}) = -\frac{\partial B_y}{\partial z} \vec{e}_x = B_0 k \cos(\omega t - kz + \varphi) \vec{e}_x.$$

D'après l'équation de Maxwell-Ampère vide de courant ( $\vec{j} = \vec{0}$ ) :

$$\vec{E} = \frac{1}{\varepsilon_0 \mu_0} \int \text{rot}(\vec{B}) dt = \frac{B_0 k}{\varepsilon_0 \mu_0} \vec{e}_x \int \cos(\omega t - kz + \varphi) dt = \frac{B_0 k}{\varepsilon_0 \mu_0 \omega} \sin(\omega t - kz + \varphi) \vec{e}_x + \vec{Cste}.$$

Comme le milieu est vide de charge et de courant, il n'y a aucun champ statique donc  $\vec{Cste} = \vec{0}$ .

**6.12 b)** Le champ magnétique est de la forme  $\vec{B} = B_y(z, t)\vec{e}_y$  avec  $B_y(z, t) = B_0 \sinh(\sqrt{\varepsilon_0\mu_0}\alpha z) \exp(-\alpha t)$ .

D'après l'expression du rotationnel en coordonnées cartésiennes, on a

$$\text{rot}(\vec{B}) = -\frac{\partial B_y}{\partial z}\vec{e}_x = -B_0\sqrt{\varepsilon_0\mu_0}\alpha \cosh(\sqrt{\varepsilon_0\mu_0}\alpha z) \exp(-\alpha t)\vec{e}_x.$$

D'après l'équation de Maxwell-Faraday :

$$\begin{aligned}\vec{E} &= \frac{1}{\varepsilon_0\mu_0} \int \text{rot}(\vec{B}) dt = -\frac{1}{\varepsilon_0\mu_0} B_0\sqrt{\varepsilon_0\mu_0}\alpha \cosh(\sqrt{\varepsilon_0\mu_0}\alpha z)\vec{e}_x \int \exp(-\alpha t) dt \\ &= \frac{B_0}{\sqrt{\varepsilon_0\mu_0}} \cosh(\sqrt{\varepsilon_0\mu_0}\alpha z) \exp(-\alpha t)\vec{e}_x + \vec{Cste}.\end{aligned}$$

Comme le milieu est vide de charge et de courant, il n'y a aucun champ statique donc  $\vec{Cste} = \vec{0}$ .

Ce champ électromagnétique  $(\vec{E}, \vec{B})$  est le même que celui de la question b) de l'entraînement précédent, en posant  $E_0 = \frac{B_0}{\sqrt{\varepsilon_0\mu_0}}$ .

**6.12 c)** Le champ magnétique est de la forme  $\vec{B} = B_\theta(r, t)\vec{e}_\theta$  avec  $B_\theta(r, t) = \frac{cB_0}{(kr)^2} \sin(\omega t)$ .

D'après l'expression du rotationnel en coordonnées cylindriques, on a

$$\text{rot}(\vec{B}) = \frac{1}{r} \frac{\partial r B_\theta}{\partial r} \vec{e}_z = -\frac{cB_0}{k^2 r^3} \sin(\omega t)\vec{e}_z.$$

D'après l'équation de Maxwell-Faraday :

$$\vec{E} = \frac{1}{\varepsilon_0\mu_0} \int \text{rot}(\vec{B}) dt = -\frac{cB_0}{\varepsilon_0\mu_0 k^2 r^3} \vec{e}_z \int \sin(\omega t) dt = \frac{c^3 B_0}{k^2 \omega r^3} \cos(\omega t)\vec{e}_z + \vec{Cste}.$$

Comme le milieu est vide de charge et de courant, il n'y a aucun champ statique donc  $\vec{Cste} = \vec{0}$ . Contrairement aux cas précédents, on ne retrouve pas le champ de la question c) de l'entraînement précédent : ces champs électromagnétiques  $(\vec{E}, \vec{B})$  ne sont pas solutions d'une seule équation de Maxwell et pas de l'ensemble (équation de propagation!) donc il ne s'agit pas de champs électromagnétiques qui se propagent.

**6.13 a)** Le solénoïde étant invariant par rotation autour de l'axe (Oz) et par translation le long du même axe, la norme du champ électrique ne dépend que de  $r$ .

**6.13 b)** L'équation de Maxwell-Faraday est  $\text{rot} \vec{E} = -\frac{\partial \vec{B}}{\partial t}$ . On calcule d'abord le rotationnel de  $\vec{E}$ . Le champ magnétique étant porté par (Oz), il reste :  $\text{rot} \vec{E} = \frac{1}{r} \frac{\partial r E_\theta}{\partial r} \vec{e}_z$ .

On calcule la dérivée du champ magnétique par rapport au temps pour  $r < R$  :  $\frac{\partial \vec{B}}{\partial t} = \mu_0 n \frac{di}{dt} \vec{e}_z$ .

Enfin, on a  $r E_\theta = -\mu_0 n \frac{di}{dt} \frac{r^2}{2}$  donc  $E_\theta = -\mu_0 n \frac{di}{dt} \frac{r}{2}$ .

**6.13 c)** Le champ magnétique étant nul à l'extérieur du solénoïde, on a :

$$\frac{1}{r} \frac{\partial r E_\theta}{\partial r} = 0 \quad \text{donc} \quad E_\theta = \frac{C}{r}$$

avec  $C$  une constante. Il reste à déterminer cette constante. Par continuité du champ électrique en  $r = R$ , on a

$$\frac{C}{R} = -\mu_0 n \frac{di}{dt} \frac{R}{2} \quad \text{donc} \quad C = -\mu_0 n \frac{di}{dt} \frac{R^2}{2}.$$

Ainsi, on a  $\vec{E} = -\mu_0 n \frac{di}{dt} \frac{R^2}{2r} \vec{e}_\theta$ .

**6.13 d)** La forme intégrale de l'équation de Maxwell-Faraday est  $\oint_{\Gamma} \vec{E} \cdot d\vec{\ell} = - \iint_{\Sigma} \frac{\partial \vec{B}}{\partial t} \cdot d\vec{S}$ .

Nous sommes donc amenés à calculer la circulation de  $\vec{E}$  sur le contour délimitant la surface  $\Sigma$  que l'on va choisir et à calculer le flux de  $\vec{B}$  à travers cette même surface.

Pour que le calcul de la circulation soit simple, il faut trouver une surface dont le contour ne dépend pas de  $r$ , ainsi le champ électrique sera constant sur ce contour.

Pour que le calcul du flux soit simple, il faut dans un premier temps trouver une surface dont la surface élémentaire ne s'exprime pas en fonction des variables de  $B$  :  $B$  étant constant ici, la question ne se pose pas. Dans un deuxième temps, on choisit une surface telle que  $\vec{B}$  et le vecteur normal à la surface soient colinéaires afin que le produit scalaire se calcule facilement : on choisit une surface perpendiculaire à  $\vec{e}_z$ .

On souhaite donc une surface de rayon constant  $r$ , perpendiculaire à  $\vec{e}_z$ , il s'agit donc d'un disque de rayon  $r$  et d'axe ( $Oz$ ).

**6.13 e)** La forme intégrale de l'équation de Maxwell-Faraday est  $\oint_{\Gamma} \vec{E} \cdot d\vec{\ell} = - \iint_{\Sigma} \frac{\partial \vec{B}}{\partial t} \cdot d\vec{S}$ .

On choisit comme surface  $\Sigma$ , le disque de rayon  $r$  et donc comme contour  $\Gamma$  le cercle de rayon  $r$ . La circulation de  $\vec{E}$  donne :

$$\oint_{\Gamma} \vec{E} \cdot d\vec{\ell} = 2\pi r E(r, t).$$

Le flux de la dérivée du champ magnétique donne :  $\iint_{\Sigma} \frac{\partial \vec{B}}{\partial t} \cdot d\vec{S} = \pi r^2 \mu_0 n \frac{di}{dt}$ . Finalement,  $\vec{E} = -\mu_0 n \frac{di}{dt} \frac{r}{2} \vec{e}_{\theta}$ .

**6.13 f)** La forme intégrale de l'équation de Maxwell-Faraday est  $\oint_{\Gamma} \vec{E} \cdot d\vec{\ell} = - \iint_{\Sigma} \frac{\partial \vec{B}}{\partial t} \cdot d\vec{S}$ .

On choisit comme surface  $\Sigma$ , le disque de rayon  $r$  et donc comme contour  $\Gamma$  le cercle de rayon  $r$ . La circulation de  $\vec{E}$  donne :

$$\oint_{\Gamma} \vec{E} \cdot d\vec{\ell} = 2\pi r E(r, t).$$

Le flux de la dérivée du champ magnétique donne :  $\iint_{\Sigma} \frac{\partial \vec{B}}{\partial t} \cdot d\vec{S} = \pi R^2 \mu_0 n \frac{di}{dt}$ . Finalement,  $\vec{E} = -\mu_0 n \frac{di}{dt} \frac{R^2}{2r} \vec{e}_{\theta}$ .

**6.14 a)** On a

$$\vec{\Pi} = \frac{1}{\mu_0} E_0 \cos(\omega t - kz + \varphi) \vec{e}_x \wedge B_0 \sin(\omega t - kz + \varphi) \vec{e}_y = \frac{E_0 B_0}{\mu_0} \cos(\omega t - kz + \varphi) \sin(\omega t - kz + \varphi) \vec{e}_z.$$

L'énergie se propage dans une direction orthogonale à celles des champs électrique et magnétique.

**6.14 b)** On a

$$\vec{\Pi} = \frac{1}{\mu_0} E_0 \cosh(\beta z) \exp(-\alpha t) \vec{e}_z \wedge B_0 \sinh(\beta z) \exp(-\alpha t) \vec{e}_y = -\frac{E_0 B_0}{\mu_0} \cosh(\beta z) \sinh(\beta z) \exp(-2\alpha t) \vec{e}_x.$$

L'énergie se propage dans une direction orthogonale à celles des champs électrique et magnétique.

**6.15 a)** Pour une onde plane progressive, on a la relation de structure :

$$\vec{B} = \frac{\vec{k} \wedge \vec{E}}{\omega} = \frac{\vec{e}_z \wedge \vec{E}}{c} = \frac{1}{c} \begin{vmatrix} 0 \\ E_x \\ E_y \\ 1 \end{vmatrix} \wedge \begin{vmatrix} E_x \\ E_y \\ E_z \\ 0 \end{vmatrix} = \frac{1}{c} \begin{vmatrix} -E_y \\ E_x \\ 0 \end{vmatrix}.$$

On en déduit :  $\vec{B} = -\frac{E_{0y}}{c} \cos(kz - \omega t + \psi_2) \vec{e}_x + \frac{E_{0x}}{c} \cos(kz - \omega t + \psi_1) \vec{e}_y$ .

**6.15 b)** Le vecteur de Poynting est donné par :

$$\vec{\Pi} = \frac{\vec{E} \wedge \vec{B}}{\mu_0} = \frac{1}{\mu_0 c} \begin{vmatrix} E_x & -E_y & 0 \\ E_y & E_x & 0 \\ 0 & 0 & E_x^2 + E_y^2 \end{vmatrix} = \frac{1}{\mu_0 c} \begin{pmatrix} 0 \\ 0 \\ E_x^2 + E_y^2 \end{pmatrix} = \frac{E_x^2 + E_y^2}{\mu_0 c} \vec{e}_z.$$

**6.15 c)** En notation complexe, avec  $\vec{r} = \overrightarrow{OM}$  et  $\vec{k}$  le vecteur d'onde, le champ électrique peut s'écrire :

$$\vec{E} = \vec{E}_0 \exp[i(\vec{k} \cdot \vec{r} - \omega t)] = \vec{E}_0 \exp[i(kz - \omega t)]$$

avec  $\vec{E}_0 = E_{0x} e^{i\psi_1} \vec{e}_x + E_{0y} e^{i\psi_2} \vec{e}_y$ ;  $\vec{E}_0$  est l'amplitude complexe du champ électrique.

**6.15 d)** L'équation de Maxwell-Faraday  $\text{rot } \vec{E} = -\frac{\partial \vec{B}}{\partial t}$  donne :  $i \vec{k} \wedge \vec{E} = +i\omega \vec{B}$ . Donc,

$$\vec{B} = \frac{\vec{k}}{\omega} \wedge \vec{E} = \frac{\vec{e}_z}{c} \wedge (E_{0x} e^{i(kz - \omega t + \psi_1)} \vec{e}_x + E_{0y} e^{i(kz - \omega t + \psi_2)} \vec{e}_y) = \frac{1}{c} (E_{0x} e^{i(kz - \omega t + \psi_1)} \vec{e}_y - E_{0y} e^{i(kz - \omega t + \psi_2)} \vec{e}_x).$$

**6.15 e)** On en déduit le conjugué :  $\vec{B}^* = \frac{1}{c} (E_{0x} e^{-i(kz - \omega t + \psi_1)} \vec{e}_y - E_{0y} e^{-i(kz - \omega t + \psi_2)} \vec{e}_x)$ .

**6.15 f)** Le produit vectoriel  $\vec{E} \wedge \vec{B}^*$  vaut :

$$\begin{aligned} \vec{E} \wedge \vec{B}^* &= (E_{0x} e^{i(kz - \omega t + \psi_1)} \vec{e}_x + E_{0y} e^{i(kz - \omega t + \psi_2)} \vec{e}_y) \wedge \left( \frac{1}{c} (E_{0x} e^{-i(kz - \omega t + \psi_1)} \vec{e}_y - E_{0y} e^{-i(kz - \omega t + \psi_2)} \vec{e}_x) \right) \\ &= \frac{E_{0x}^2}{c} \vec{e}_z + \frac{E_{0y}^2}{c} \vec{e}_z = \frac{(E_{0x}^2 + E_{0y}^2) \vec{e}_z}{c}. \end{aligned}$$

On en déduit le vecteur complexe  $\frac{1}{2\mu_0} \vec{E} \wedge \vec{B}^* = \frac{E_{0x}^2 + E_{0y}^2}{2\mu_0 c} \vec{e}_z$ .

**6.15 g)** Avec  $\langle \cos^2 \rangle = \frac{1}{2}$ , la valeur moyenne du vecteur de Poynting  $\vec{\Pi}$  vaut :

$$\langle \vec{\Pi} \rangle = \left\langle \frac{(E_{0x} \cos(kz - \omega t + \psi_1))^2 + (E_{0y} \cos(kz - \omega t + \psi_2))^2}{\mu_0 c} \vec{e}_z \right\rangle = \frac{E_{0x}^2 + E_{0y}^2}{2\mu_0 c} \vec{e}_z.$$

La valeur moyenne du vecteur  $\left\langle \frac{\vec{E} \wedge \vec{B}^*}{2\mu_0} \right\rangle$  est identique : on peut donc choisir l'une ou l'autre des deux méthodes.

**6.16 a)** On intègre la densité volumique d'énergie électromagnétique dans tout le volume  $\mathcal{V}$  séparant les deux armatures :

$$\mathcal{E} = \iiint_{\mathcal{V}} \frac{\varepsilon_0 E^2}{2} d\tau = \iiint_{\mathcal{V}} \frac{Q^2}{2\varepsilon_0 S^2} d\tau = \frac{Q^2}{2\varepsilon_0 S^2} LS = \frac{LQ^2}{2\varepsilon_0 S}.$$

**6.16 b)** On a  $\vec{\Pi} = \frac{\vec{E} \wedge \vec{B}}{\mu_0} = \frac{Q}{\varepsilon_0 S} \vec{e}_z \cdot \frac{\mu_0}{2S} \frac{dQ}{dt} R \vec{e}_\theta = -\frac{R}{2\varepsilon_0 S^2} Q \frac{dQ}{dt} \vec{e}_r$ .

**6.16 c)** On cherche le flux sortant du vecteur de Poynting à travers la surface  $\Sigma$  du cylindre de rayon  $R$  et de hauteur  $L$  formé par les deux armatures du condensateur soit

$$\oiint_{\Sigma} \vec{\Pi} \cdot d\vec{S} = -\frac{R}{2\varepsilon_0 S^2} Q \frac{dQ}{dt} \times 2\pi RL = -\frac{L\pi R^2}{\varepsilon_0 S^2} Q \frac{dQ}{dt} = -\frac{L}{\varepsilon_0 S} Q \frac{dQ}{dt}.$$



**6.16 d)** On a  $\frac{\partial \mathcal{E}}{\partial t} = \frac{\partial \left( \frac{LQ(t)^2}{2\varepsilon_0 S} \right)}{\partial t} = \frac{L}{2\varepsilon_0 S} 2Q(t) \frac{dQ}{dt}(t) = \frac{L}{\varepsilon_0 S} Q \frac{dQ}{dt} = -\phi.$

.....

**6.16 e)** On a  $\frac{\partial \mathcal{E}}{\partial t} + \phi = 0.$

En utilisant le théorème de Green-Ostrogradski, qui dit  $\oint_{\Sigma} \vec{\Pi} \cdot d\vec{S} = \iiint_{\mathcal{V}} \text{div } \vec{\Pi} d\tau$  et en utilisant que  $\mathcal{E} = \iiint_{\mathcal{V}} e d\tau$ , on obtient :

$$\iiint_{\mathcal{V}} \frac{\partial e}{\partial t} d\tau + \iiint_{\mathcal{V}} \text{div } \vec{\Pi} d\tau = 0 \quad \text{donc} \quad \frac{\partial e}{\partial t} + \text{div } \vec{\Pi} = 0,$$

ce qui correspond au théorème de Poynting en l'absence de courant de conduction.

.....

## Fiche n° 7. Induction

### Réponses

- 7.1 a) .....  $\vec{e}_z$
- 7.1 b) .....  $-\vec{e}_z$
- 7.1 c) .....  $\vec{e}_y$
- 7.1 d) .....  $\vec{e}_y$
- 7.1 e) .....  $\frac{\sqrt{2}}{2}(\vec{e}_y + \vec{e}_z)$
- 7.1 f) .....  $-\frac{\sqrt{2}}{2}(\vec{e}_y + \vec{e}_z)$
- 7.2 a) .....  $\textcircled{d}$
- 7.2 b) ..... aucune
- 7.2 c) .....  $\textcircled{b}$
- 7.2 d) .....  $\textcircled{a}$
- 7.3 a) ..... oui
- 7.3 b) ..... oui
- 7.3 c) ..... non
- 7.3 d) ..... non
- 7.3 e) ..... oui
- 7.3 f) ..... non
- 7.4 a) ..... 0
- 7.4 b) .....  $-Bx_c\ell$
- 7.4 c) .....  $-B\ell^2$
- 7.4 d) .....  $-B(a - (x_c - \ell))\ell$
- 7.4 e) ..... 0
- 7.4 f) .....  $-Bv\ell$
- 7.4 g) ..... 0
- 7.4 h) .....  $Bv\ell$
- 7.5 a) .....  $\pi R^2 B_m \cos(\omega t)$
- 7.5 b) .....  $\pi a^2 B_m \cos(\omega t)$
- 7.5 c) .....  $dS = r d\theta dr$
- 7.5 d) .....  $2\pi B_0 \left( \frac{R^2}{2} - \frac{R^3}{3a} \right)$
- 7.5 e) .....  $2\pi B_0 \frac{a^2}{6}$
- 7.6 a) .....  $B\pi R^2 \cos(\omega t)$
- 7.6 b) ..... 0
- 7.6 c) .....  $-\frac{B\pi R^2}{2}$
- 7.6 d) .....  $\frac{\sqrt{3}}{2} B\pi R^2$
- 7.6 e) .....  $B\pi R^2$
- 7.7 a) .....  $\textcircled{a}$
- 7.7 b) .....  $\textcircled{a}$
- 7.7 c) .....  $\frac{\mu_0 N I a}{2\pi} \ln\left(\frac{d+a}{d}\right)$
- 7.7 d) .....  $\frac{\mu_0 N^2 a}{2\pi} \ln\left(\frac{d+a}{d}\right)$
- 7.8 a) .....  $\textcircled{c}$
- 7.8 b) .....  $B_0 \omega \sin(\omega t) \frac{r}{2}$
- 7.9 a) .....  $\textcircled{c}$
- 7.9 b) .....  $\textcircled{a}$
- 7.10 a) .....  $\textcircled{c}$
- 7.10 b) .....  $\frac{-\alpha B I}{h + j(m\omega - \frac{k}{\omega})}$
- 7.10 c) .....  $\textcircled{c}$
- 7.11 a) .....  $-Ri^2$

- 7.11 b) .....  $mv \frac{dv}{dt} - fv$  (d)
- 7.11 c) .....  $\frac{dE_c}{dt} + \mathcal{P}_J$  (b)
- 7.12 a) .....  $-iaB\vec{e}_y$
- 7.12 b) .....  $ibB\vec{e}_x$
- 7.12 c) .....  $iaB\vec{e}_y$
- 7.12 d) .....  $-ibB\vec{e}_x$
- 7.12 e) .....  $\vec{0}$
- 7.13 a) .....  $\vec{0}$
- 7.13 b) .....  $-i\frac{\sqrt{3}}{2}aB\vec{e}_z$
- 7.13 c) .....  $i\frac{\sqrt{3}}{2}aB\vec{e}_x$
- 7.14 a) .....  $S\vec{e}_y$
- 7.14 b) .....  $-IBS\vec{e}_z$
- 7.14 c) .....  $\vec{0}$
- 7.14 d) .....  $IBS\vec{e}_x$
- 7.14 e) ..... (c)
- 7.14 f) ..... (d)
- 7.14 g) ..... (d)
- 7.15 a) .....  $\frac{dv}{dt} + \frac{B^2\ell^2}{mR}v = 0$
- 7.15 b) ..... (c)
- 7.16 a) .....  $\frac{dv(t)}{dt} + \frac{B^2\ell^2}{mr}v(t) = -\frac{BlE}{mr}$
- 7.16 b) .....  $-\frac{E}{Bl}$
- 7.17 a) .....  $\frac{d^2i(t)}{dt^2} + \frac{r}{L}\frac{di(t)}{dt} + \frac{B^2\ell^2}{mL}i(t) = 0$
- 7.17 b) ..... (a)
- 7.17 c) ..... (c)
- 7.17 d) ..... (d)
- 7.18 a) ..... (b)
- 7.18 b) .....  $E - Ba\dot{x} - Ri$
- 7.18 c) .....  $-\frac{(Ba)^2}{m}i - R\frac{di}{dt}$
- 7.18 d) .....  $R\frac{di}{dt} + \frac{(Ba)^2}{m}i = 0$
- 7.18 e) .....  $R\frac{di}{dt} + \left(\frac{(Ba)^2}{m} + \frac{1}{C}\right)i = 0$
- 7.18 f) .....  $L\frac{d^2i}{dt^2} + R\frac{di}{dt} + \left(\frac{(Ba)^2}{m} + \frac{1}{C}\right)i = 0$
- 7.19 a) ..... (b)
- 7.19 b) .....  $x_0 + \frac{e}{Ba} \left( t + \tau e^{-\frac{t}{\tau}} - \tau \right)$
- 7.20 a) ..... (b)
- 7.20 b) ..... (b)
- 7.21 a) ..... (d)
- 7.21 b) .....  $-iB2\pi RN\vec{e}_z$
- 7.22 a) ..... (a)
- 7.22 b) .....  $-S\vec{e}_z$
- 7.22 c) .....  $-B\frac{t}{\tau}S$
- 7.22 d) .....  $\frac{BS}{\tau}$
- 7.22 e) ..... 300 mV
- 7.22 f) ..... (b)
- 7.22 g) .....  $S\vec{e}_z$
- 7.22 h) .....  $\frac{BS}{\tau}$
- 7.22 i) .....  $-\frac{BS}{\tau}$

7.22 j) .....  $300 \text{ mV}$

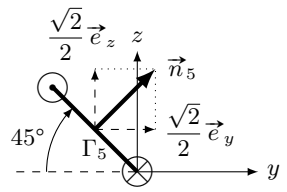
7.23 a) .....  $Ei - Ri^2$

7.23 b) .....  $mv \frac{dv}{dt} + kxv + \alpha v^2$

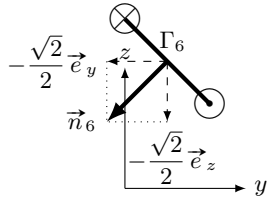
7.23 c) .....  $\frac{dE_c}{dt} + \frac{dE_p}{dt} + \mathcal{P}_f + \mathcal{P}_J$

## Corrigés

7.1 e)



7.1 f)



7.3 a) Il y a trois façons de modifier un flux : modifier la surface, modifier le champ, changer l'angle entre le vecteur normal à la surface et le champ. Ici, comme  $\vec{B} \wedge \vec{n} = \vec{0}$  à  $t = 0$ , les deux vecteurs sont colinéaires. Comme le cadre tourne autour d'un de ses côtés, l'angle entre  $\vec{n}$  et  $\vec{B}$  va varier au cours du temps.

7.3 b) La surface où le champ est non nul augmente au cours du temps tant que le cadre n'est pas entièrement dans la zone où règne le champ.

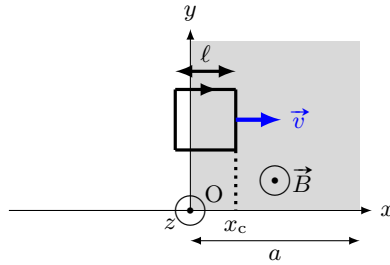
7.3 c) Le produit scalaire entre  $\vec{B}(t)$  et  $\vec{n}$  est nul.

7.3 d) Ni la surface, ni l'angle entre  $\vec{B}$  et  $\vec{n}$  ne varie.

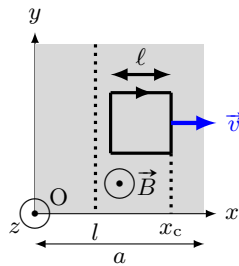
7.3 e) La surface varie.

7.3 f) Il ne faut pas confondre les termes « uniforme » (ne varie pas dans l'espace) et « constant » (ne varie pas dans le temps).

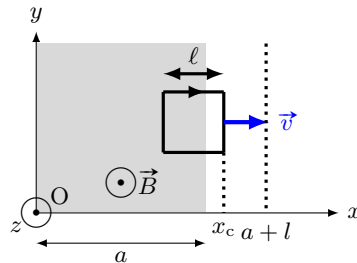
7.4 b)



7.4 c)



7.4 d)



7.5 a) On a  $\Phi = \int_{r=0}^R \int_{\theta=0}^{2\pi} B_m \cos(\omega t) r \, dr \times d\theta = B_m \cos(\omega t) \int_{r=0}^R \int_{\theta=0}^{2\pi} r \, dr \times d\theta.$

7.5 b) On a  $\Phi = \int_{r=0}^a \int_{\theta=0}^{2\pi} B_m \cos(\omega t) r \, dr \times d\theta = B_m \cos(\omega t) \int_{r=0}^a \int_{\theta=0}^{2\pi} r \, dr \times d\theta.$

7.5 d) On a  $\Phi' = \int_{r=0}^R \int_{\theta=0}^{2\pi} B_0 \left(1 - \frac{r}{a}\right) r \, dr \times d\theta = B_0 \int_{r=0}^R \int_{\theta=0}^{2\pi} \left(r - \frac{r^2}{a}\right) \, dr \times d\theta = 2\pi B_0 \left[\frac{R^2}{2} - \frac{R^3}{3a}\right].$

7.5 e) On a  $\Phi' = \int_{r=0}^a \int_{\theta=0}^{2\pi} B_0 \left(1 - \frac{r}{a}\right) r \, dr \times d\theta = B_0 \int_{r=0}^a \int_{\theta=0}^{2\pi} \left(r - \frac{r^2}{a}\right) \, dr \times d\theta = 2\pi B_0 \frac{a^2}{6}.$

7.6 a) L'angle entre la normale à la spire et le champ magnétique  $\vec{B}$  étant  $\omega t$ , le calcul du flux s'écrit

$$\Phi = \iint_S \vec{B} \cdot \vec{n} \, dS = \iint_S B \cos(\omega t) \, dS = B \cos(\omega t) \iint_S dS = B\pi R^2 \cos(\omega t).$$

**7.7 d)** Le flux propre à travers les N spires sera  $\frac{\mu_0 N^2 I a}{2\pi} \ln\left(\frac{d+a}{d}\right) = LI$ .

**7.8 b)** On a  $\frac{d(rE(r))}{dr} = B_0 r \omega \sin(\omega t)$ . Donc,  $E = \int_{r'=0}^r B_0 r' \omega \sin(\omega t) dr' = B_0 \omega \sin(\omega t) \int_{r'=0}^r r' dr'$ .

**7.9 b)** Chaque terme de l'équation doit avoir même dimension. Or  $\frac{dv}{dt}$  a pour dimension  $\frac{L \cdot T^{-1}}{T}$ , donc  $\frac{a^2 B^2 v}{Rm}$  a pour dimension  $L \cdot T^{-2}$ . On déduit la dimension de  $\frac{a^2 B^2}{Rm}$  en divisant  $L \cdot T^{-2}$  par la dimension de la vitesse  $L \cdot T^{-1}$ . Donc  $\frac{a^2 B^2}{Rm}$  a pour dimension  $T^{-1}$ .

**7.11 a)** On a  $e \times i = Ri \times i$  donc  $-Bav \times i = Ri^2$  donc  $Bavi = -Ri^2$ .

**7.11 b)** On a  $m \frac{dv}{dt} \times v = f \times v + f_L \times v$  donc  $mv \frac{dv}{dt} = f \times v + Bai \times v$  donc  $Bavi = mv \frac{dv}{dt} - fv$ .

**7.11 c)** D'après les questions précédentes, on peut égaliser les deux expressions de  $Bavi$ ; on a donc

$$-Ri^2 = mv \frac{dv}{dt} - fv \quad \text{donc} \quad fv = mv \frac{dv}{dt} + Ri^2 = \frac{1}{2} m \frac{dv^2}{dt} + \mathcal{P}_J = \frac{d}{dt} \left( \frac{1}{2} mv^2 \right) + \mathcal{P}_J = \frac{dE_c}{dt} + \mathcal{P}_J.$$

**7.12 e)** Dans le cas d'un champ uniforme (égal à la même valeur en tout point de l'espace), la résultante des forces de Laplace s'exerçant sur un circuit fermé est nulle.

**7.13 a)** Le champ magnétique  $\vec{B}$  et le vecteur  $\vec{QR}$  sont tous deux portés par  $\vec{e}_x$ . Le produit vectoriel  $\vec{QR} \wedge \vec{B}$  étant nul, on a  $\vec{F}_L = \vec{0}$ .

**7.13 b)** Le courant étant uniforme, la force de Laplace s'écrit :  $\vec{F}_L = i \vec{RS} \wedge \vec{B}$ . On a

$$\vec{RS} = a \left( \cos\left(\frac{\pi}{3}\right) \vec{e}_y + \sin\left(\frac{\pi}{3}\right) \vec{e}_z \right) = \frac{a}{2} (\vec{e}_y + \sqrt{3} \vec{e}_z) \quad \text{donc} \quad \vec{F}_L = i \frac{a}{2} (\vec{e}_y + \sqrt{3} \vec{e}_z) \wedge (B \vec{e}_y) = -i \frac{\sqrt{3}}{2} a B \vec{e}_z.$$

**7.13 c)** Le courant étant uniforme, la force de Laplace s'écrit :  $\vec{F}_L = i \vec{SQ} \wedge \vec{B}$ . On a

$$\vec{SQ} = a \left( \cos\left(\frac{\pi}{3}\right) \vec{e}_y - \sin\left(\frac{\pi}{3}\right) \vec{e}_z \right) = \frac{a}{2} (\vec{e}_y - \sqrt{3} \vec{e}_z) \quad \text{donc} \quad \vec{F}_L = i \frac{a}{2} (\vec{e}_y - \sqrt{3} \vec{e}_z) \wedge (B \vec{e}_y) = i \frac{\sqrt{3}}{2} a B \vec{e}_z.$$

**7.14 a)** D'après la règle de la main droite, le sens circulation du courant d'intensité  $I$  impose que  $\vec{S} = S \vec{e}_y$ .

**7.14 b)** D'après l'expression du couple des forces de Laplace, on a  $\vec{\Gamma}_L = \vec{M} \wedge \vec{B}_1 = IS \vec{e}_y \wedge B \vec{e}_x = -IBS \vec{e}_z$ .

**7.14 c)** D'après l'expression du couple des forces de Laplace, on a  $\vec{\Gamma}_L = \vec{M} \wedge \vec{B}_1 = IS \vec{e}_y \wedge B \vec{e}_y = \vec{0}$ .

**7.14 d)** D'après l'expression du couple des forces de Laplace, on a  $\vec{\Gamma}_L = \vec{M} \wedge \vec{B}_1 = IS \vec{e}_y \wedge B \vec{e}_z = IBS \vec{e}_x$ .

**7.14 e)** Le couple des forces de Laplace produit par  $\vec{B}_3$  est orienté selon les  $x > 0$ , d'après la règle de la main droite, la spire va donc tourner autour de l'axe  $(Ox)$  dans le sens direct.

**7.14 f)** Aucun couple calculé plus tôt n'est orienté selon  $\vec{e}_y$ , il n'y a donc pas de champ magnétique qui provoque une rotation de la spire autour de l'axe  $(Oy)$ .

**7.14 g)** Le couple des forces de Laplace produit par  $\vec{B}_1$  est orienté selon les  $z < 0$ , d'après la règle de la main droite, la spire va donc tourner autour de l'axe  $(Oz)$  dans le sens indirect. Il n'y a donc pas de champ magnétique qui provoque une rotation de la spire autour de l'axe  $(Oz)$  dans le sens direct.

**7.15 a)** L'équation électrique permet d'établir que  $i(t) = \frac{B\ell v}{R}$ . En injectant cette relation dans l'équation mécanique, on obtient

$$\frac{dv}{dt} + \frac{B^2\ell^2}{mR}v = 0.$$

**7.15 b)** La résolution de l'équation différentielle sur  $v$  donne  $v(t) = A \exp\left(-\frac{B^2\ell^2}{mR}t\right)$ . À l'instant  $t = 0$ , on a  $v(0) = v_0$ , donc  $A \exp(0) = v_0$  et donc  $A = v_0$ . Ainsi, on a  $v(t) = v_0 \exp\left(-\frac{B^2\ell^2}{mR}t\right)$ .

**7.16 a)** On isole  $i(t)$  dans l'équation électrique pour obtenir  $i = \frac{B\ell v(t)}{r} + \frac{E}{r}$ . En injectant ce résultat dans l'équation mécanique, on obtient

$$m \frac{dv(t)}{dt} = -\frac{B^2\ell^2}{r}v(t) - \frac{B\ell E}{r} \quad \text{donc} \quad \frac{dv(t)}{dt} + \frac{B^2\ell^2}{mr}v(t) = -\frac{B\ell E}{mr}.$$

**7.16 b)** La vitesse limite  $v_{\text{lim}}$  correspond à la vitesse atteinte en régime permanent soit quand  $\frac{dv(t)}{dt} = 0$ .

On a donc  $\frac{B^2\ell^2}{r}v_{\text{lim}} = -\frac{B\ell E}{r}$ . On en déduit  $v_{\text{lim}} = -\frac{E}{B\ell}$ .

**7.17 a)** À partir de l'équation électrique, on a  $v = \frac{1}{B\ell} \left( L \frac{di(t)}{dt} + ri(t) \right)$ , qu'on injecte dans l'équation mécanique.

On obtient  $\frac{m}{B\ell} \frac{d}{dt} \left( L \frac{di}{dt} + ri \right) = -B\ell i$ , et ainsi  $\frac{d^2i}{dt^2} + \frac{r}{L} \frac{di}{dt} + \frac{B^2\ell^2}{mL} i = 0$ .

**7.17 c)** On calcule son discriminant  $\Delta = \frac{r^2}{L^2} - 4 \frac{B^2\ell^2}{mL} = \frac{1}{0,25} - 4 \times \frac{1 \times 10^{-2}}{0,01 \times 0,5} = 4 - 4 \times 2 = -4$ .

**7.17 d)** Le discriminant étant négatif, les racines complexes sont

$$\rho_{1/2} = -\frac{r}{2L} \pm j \frac{1}{2} \sqrt{4 \frac{B^2\ell^2}{mL} - \frac{r^2}{L^2}} = -\frac{r}{2L} \pm j\omega$$

avec  $\omega = \frac{1}{2} \sqrt{4 \frac{B^2\ell^2}{mL} - \frac{r^2}{L^2}}$ . On obtient  $i(t) = e^{-\frac{r}{2L}t} (\alpha \cos(\omega t) + \beta \sin(\omega t))$ .

**7.18 a)** Avec la règle de main droite, en utilisant l'orientation du contour, on oriente la surface pour le calcul du flux (suivant  $-\vec{e}_z$ ). La source de tension induite de fém  $e$  a une polarité (sa flèche tension) dans le même sens que l'orientation du contour.

**7.18 b)** D'après la loi des mailles, on a  $E + e = u + Ri$ , donc  $E - Ba\dot{x} = u + Ri$ , et donc  $u = E - Ba\dot{x} - Ri$ .

**7.18 c)** D'après la question précédente,  $\frac{du}{dt} = \frac{d}{dt}(E - Ba\dot{x} - Ri) = -Ba\ddot{x} - R\frac{di}{dt}$ . Comme  $\ddot{x} = \frac{Ba}{m}i$ , on a

$$\frac{du}{dt} = -\frac{(Ba)^2}{m}i - R\frac{di}{dt}.$$

**7.18 d)** Le dipôle 1 est un fil, sa tension  $u$  est donc nulle, ainsi  $-\frac{(Ba)^2}{m}i - R\frac{di}{dt} = 0$ , ou  $R\frac{di}{dt} + \frac{(Ba)^2}{m}i = 0$ .

**7.18 e)** Le dipôle 2 est un condensateur traversé par un courant d'intensité  $i = C\frac{du}{dt}$ , soit  $\frac{du}{dt} = \frac{i}{C}$ . D'où

$$\frac{i}{C} = -\frac{(Ba)^2}{m}i - R\frac{di}{dt} \quad \text{et donc} \quad R\frac{di}{dt} + \left(\frac{(Ba)^2}{m} + \frac{1}{C}\right)i = 0.$$

**7.18 f)** Le dipôle 4 est une association série d'une bobine et d'un condensateur. La tension à ses bornes est donc  $u = L\frac{di}{dt} + u_C$  avec  $u_C$  la tension aux bornes du condensateur. Donc  $\frac{du}{dt} = L\frac{d^2i}{dt^2} + \frac{du_C}{dt} = L\frac{d^2i}{dt^2} + \frac{i}{C}$ . D'où

$$L\frac{d^2i}{dt^2} + \frac{i}{C} = -\frac{(Ba)^2}{m}i - R\frac{di}{dt} \quad \text{et donc} \quad L\frac{d^2i}{dt^2} + R\frac{di}{dt} + \left(\frac{(Ba)^2}{m} + \frac{1}{C}\right)i = 0.$$

**7.19 a)** L'argument  $-\frac{t}{\tau}$  de l'exponentielle doit être sans dimension. Donc  $\tau$  a la même dimension que  $t$ , soit T.

**7.20 b)** Chaque terme de l'équation doit avoir même dimension.

On pouvait aussi exploiter le fait que  $\left[\frac{R}{L}\right] = T^{-1}$  et  $[g] = L \cdot T^{-2}$ .

**7.21 b)** On a  $\vec{F}_L = \int_{\theta=0}^{2\pi N} iR d\theta \vec{e}_\theta \wedge (B\vec{e}_r) = -iRB \int_{\theta=0}^{2\pi N} d\theta \vec{e}_z = -iB2\pi RN\vec{e}_z$ .

**7.22 a)** La flèche de tension de la fém  $e$  induite est orientée dans le même sens que le courant induit  $i_{\text{ind}}$ , soit horaire, donc elle est orientée dans le même sens que  $E$ .

**7.22 b)** D'après la règle de la main droite, le vecteur surface du circuit  $\vec{S}$  est orienté selon  $-\vec{e}_z$ ,  $S$  étant positif, il vient que  $\vec{S} = -S\vec{e}_z$ .

**7.22 c)** Le flux magnétique traversant le circuit est tel que  $\phi = \vec{B} \cdot \vec{S} = B\frac{t}{\tau}\vec{e}_z \cdot (-S\vec{e}_z) = -B\frac{t}{\tau}S$ .

**7.22 d)** La fém apparaissant dans le circuit est telle que  $e = -\frac{d\phi}{dt} = -\frac{1}{\tau} \frac{d(-BtS)}{dt} = \frac{BS}{\tau}$ .

**7.22 e)** D'après la loi des mailles  $u = E + e = E + \frac{BS}{\tau}$ . D'où

$$u = 2,00 \times 10^{-3} \text{ V} + \frac{2 \text{ T}}{1 \text{ s}} \times 500 \times 10^{-4} \text{ m}^2 = 300 \text{ mV}.$$



**7.22 f)** La flèche de tension de la fém  $e$  induite est orientée dans le même sens que le courant induit  $i_{\text{ind}}$ , soit anti-horaire, donc elle est orientée dans le sens opposé à  $E$ .

**7.22 g)** D'après la règle de la main droite, le vecteur surface du circuit  $\vec{S}$  est orienté selon  $\vec{e}_z$ ,  $S$  étant positif, il vient que  $\vec{S} = S\vec{e}_z$ .

**7.22 h)** Le flux magnétique traversant le circuit est tel que  $\phi = \vec{B} \cdot \vec{S} = B \frac{l}{\tau} \vec{e}_z \cdot S\vec{e}_z = \frac{BSl}{\tau}$ .

**7.22 i)** La fém apparaissant dans le circuit est telle que  $e = -\frac{d\phi}{dt} = -\frac{1}{\tau} \frac{d(BtS)}{dt} = -\frac{BS}{\tau}$ .

**7.22 j)** D'après la loi des mailles  $u = E - e = E + \frac{BS}{\tau}$ . D'où

$$u = 2,00 \times 10^{-3} \text{ V} + \frac{2 \text{ T}}{1 \text{ s}} \times 500 \times 10^{-4} \text{ m}^2 = 300 \text{ mV}.$$

**7.23 a)** On a  $E \times i + e \times i = Ri \times i$  donc  $Ei - Bav \times i = Ri^2$  et donc  $Bavi = Ei - Ri^2$ .

**7.23 b)** On a  $m \frac{dv}{dt} \times v = f_L \times v - kx \times v - \alpha v \times v$  donc  $m v \frac{dv}{dt} = Bai \times v - kxv - \alpha v^2$ . Finalement, on a

$$Bavi = m v \frac{dv}{dt} + kxv + \alpha v^2.$$

**7.23 c)** D'après les questions précédentes, on peut égaliser les deux expressions de  $Bavi$ .

On a donc  $Ei - Ri^2 = m v \frac{dv}{dt} + kxv + \alpha v^2$  et donc

$$Ei = m v \frac{dv}{dt} + kxv + \alpha v^2 + Ri^2 = \frac{dE_c}{dt} + \frac{1}{2} k \frac{dx^2}{dt} + \mathcal{P}_f + \mathcal{P}_J = \frac{dE_c}{dt} + \frac{d}{dt} \left( \frac{1}{2} kx^2 \right) + \mathcal{P}_f + \mathcal{P}_J = \frac{dE_c}{dt} + \frac{dE_p}{dt} + \mathcal{P}_f + \mathcal{P}_J.$$

# Fiche n° 8. Ondes électromagnétiques I

## Réponses

8.1 a) .....  $3 \times 10^8 \text{ m} \cdot \text{s}^{-1}$

8.1 b) .....  $5 \times 10^{14} \text{ Hz}$

8.1 c) .....  $1 \times 10^{-1} \text{ m}$

8.1 d) .....  $1 \times 10^{-20} \text{ s}$

8.2 a) .....  $\frac{E_0^2 S}{2\mu_0 c}$

8.2 b) .....  $1 \times 10^{-5} \text{ W}$

8.2 c) ..... Ampoule classique

8.3 a) .....  $B_0 = \sqrt{\frac{2\mu_0 \langle P \rangle}{cS}}$

8.3 b) ..... (b)

8.4 a) .....  $-\omega E_0 \sin(\omega t - kx) \vec{e}_z$

8.4 b) .....  $k E_0 \sin(\omega t - kx) \vec{e}_z$

8.4 c) .....  $\vec{0}$

8.4 d) .....  $-k^2 E_0 \cos(\omega t - kx) \vec{e}_z$

8.4 e) .....  $-\omega^2 E_0 \cos(\omega t - kx) \vec{e}_z$

8.5 a) .....  $-\omega B_0 \sin\left(\frac{\pi y}{a}\right) \sin(\omega t - kx) \vec{e}_z$

8.5 b) .....  $k B_0 \sin\left(\frac{\pi y}{a}\right) \sin(\omega t - kx) \vec{e}_z$

8.5 c) .....  $\frac{\pi}{a} B_0 \cos\left(\frac{\pi y}{a}\right) \cos(\omega t - kx) \vec{e}_z$

8.5 d) .....  $-\omega^2 B_0 \sin\left(\frac{\pi y}{a}\right) \cos(\omega t - kx) \vec{e}_z$

8.5 e) .....  $-k^2 B_0 \sin\left(\frac{\pi y}{a}\right) \cos(\omega t - kx) \vec{e}_z$

8.5 f) .....  $-\left(\frac{\pi}{a}\right)^2 B_0 \sin\left(\frac{\pi y}{a}\right) \cos(\omega t - kx) \vec{e}_z$

8.6 a) .....  $\vec{0}$

8.6 b) .....  $-k E_0 \sin(\omega t - kx) \vec{e}_y$

8.6 c) .....  $k^2 E_0 \cos(\omega t - kx) \vec{e}_z$

8.7 a) .....  $E_0 \sin\left(\frac{\pi y}{a}\right) \left( -\frac{\pi}{a} \cos(\omega t - kz) + k\alpha \sin(\omega t - kz) \right)$

8.7 b) .....  $E_0 \cos\left(\frac{\pi y}{a}\right) \left( \frac{\pi}{a} \alpha \cos(\omega t - kz) - k \sin(\omega t - kz) \right) \vec{e}_x$

8.7 c) .....  $-E_0 \cos(\omega t - kz) \left( \left(\frac{\pi}{a}\right)^2 + k^2 \right) \times \left( \cos\left(\frac{\pi y}{a}\right) + \alpha \sin\left(\frac{\pi y}{a}\right) \right) \vec{e}_x$

8.8 a) ..... (c)

8.8 b) .....  $-\vec{\Delta} \vec{E}$

8.8 c) .....  $c = \frac{1}{\sqrt{\mu_0 \epsilon_0}}$

8.9 a) ..... signal n° 1

8.9 b) ..... signal n° 2

8.9 c) ..... signal n° 3

8.10 a) ..... Progressive

8.10 b) ..... Stationnaire, donc non progressive et harmonique

8.10 c) ..... Progressive et harmonique

8.11 ..... (a)

8.12 a) .....  $-(\alpha^2 + k^2) \vec{E}$

8.12 b) .....  $-\omega^2 \vec{E}$

8.12 c) .....  $k^2 = \frac{\omega^2}{c^2} - \alpha^2$

8.12 d) ..... Oui

8.13 a) .....  $\frac{ak}{r} \sin(\omega t - kr) \vec{e}_\varphi$

8.13 b) .....  $\frac{ak}{\omega r} \cos(\omega t - kr) \vec{e}_\varphi$

8.13 c) ..... (a), (c) et (e)

8.14 a) .....  $z = ct - (2p + 1) \frac{\lambda}{4}$

8.14 b) .....  $x = qa$

8.15 a) .....  $j\omega \vec{E}$

8.15 b) .....  $-jk_x E_x$

8.15 c) .....  $-jk_z E_x \vec{e}_y + jk_y E_x \vec{e}_z$

8.15 d) .....  $-k^2 \vec{E}$

8.15 e) ..... (d)

8.15 f) ..... (a)

8.15 g) ..... (c)

8.15 h) ..... (b)

8.16 a) .....  $v_\varphi = \frac{c}{\sqrt{1 - \left(\frac{\omega_0}{\omega}\right)^2}}$

8.16 b) .....  $v_g = c \sqrt{1 - \left(\frac{\omega_0}{\omega}\right)^2}$

8.17 a) .....  $\varepsilon_0 c E_0^2 \cos^2(\omega t - ky) \vec{e}_y$

8.17 b) .....  $\varepsilon_0 E_0^2 \cos^2(\omega t - ky)$

8.18 a) .....  $\frac{\varepsilon_0 c a^2}{r^2} \cos^2(\omega t - kr) \vec{e}_r$

8.18 b) .....  $\frac{\varepsilon_0 a^2}{r^2} \cos^2(\omega t - kr)$

8.18 c) .....  $4\pi \varepsilon_0 c a^2 \cos^2(\omega t - kr)$

8.19 a) .....  $\frac{E_0}{\omega} \left[ -k \sin\left(\frac{\pi x}{a}\right) \cos(\omega t - kz) \vec{e}_x - \frac{\pi}{a} \cos\left(\frac{\pi x}{a}\right) \sin(\omega t - kz) \vec{e}_z \right]$

8.19 b) .....  $\frac{E_0^2}{\mu_0} \sin\left(\frac{\pi x}{a}\right) \left[ \frac{1}{c} \sin\left(\frac{\pi x}{a}\right) \cos^2(\omega t - kz) \vec{e}_z - \frac{\pi}{a\omega} \cos\left(\frac{\pi x}{a}\right) \cos(\omega t - kz) \sin(\omega t - kz) \vec{e}_x \right]$

8.19 c) .....  $\frac{\varepsilon_0 c E_0^2}{2} \sin^2\left(\frac{\pi x}{a}\right) \vec{e}_z$

8.20 a) ..... (a)

8.20 b) ..... (f)

8.20 c) ..... (c)

8.20 d) ..... (d)

8.20 e) ..... (c)

8.20 f) ..... (a)

8.20 g) ..... (b)

8.20 h) ..... (d)

## Corrigés

8.2 a) La puissance rayonnée par le LASER a alors pour expression  $P = \iint \vec{\Pi} \cdot d\vec{S} = \Pi S$ . Le vecteur de Poynting vaut

$$\vec{\Pi} = \frac{\vec{E} \wedge \vec{B}}{\mu_0} = -\frac{E_0^2}{\mu_0 c} \cos^2(\omega t - kx) \vec{e}_z \wedge \vec{e}_y = \frac{E_0^2}{\mu_0 c} \cos^2(\omega t - kx) \vec{e}_x.$$

En moyenne, puisque  $\langle \cos^2 \rangle = \frac{1}{2}$ , on a alors :  $\langle P \rangle = \frac{E_0^2 S}{2\mu_0 c}$ .

8.2 b) Numériquement, on a  $\langle P \rangle = \frac{1 \times 10^2 \text{ V}^2 \cdot \text{m}^{-1} \cdot 1 \times 10^{-6} \text{ mm}^2}{2(4\pi \times 10^{-7} \text{ H} \cdot \text{m}^{-1})(3 \times 10^8 \text{ m} \cdot \text{s}^{-1})} = \frac{10^{-4}}{750} \text{ W} = 1 \times 10^{-5} \text{ W}$ .

8.2 c) Contrairement à ce que l'on pourrait penser, c'est l'ampoule classique à filament qui est la plus puissante.

**8.3 a)** La puissance moyenne de l'onde s'exprime en fonction de la norme de  $B_0$  :

$$\langle P \rangle = \frac{E_0^2 S}{2\mu_0 c} = \frac{c B_0^2 S}{2\mu_0} \quad \text{donc} \quad B_0 = \sqrt{\frac{2\mu_0 \langle P \rangle}{cS}}.$$

**8.3 b)** Numériquement, on a  $B_0 = \sqrt{\frac{2(4\pi \times 10^{-7} \text{ H} \cdot \text{m}^{-1})(1 \text{ W})}{1 \text{ m}^2 \cdot 3 \times 10^8 \text{ m} \cdot \text{s}^{-1}}} = 1 \times 10^{-8} \text{ T}$ . Le champ terrestre est plus intense que le champ de l'onde radiofréquence.

**8.6 a)** L'unique composante de  $\vec{E}$ , ici suivant  $\vec{e}_z$ , ne dépend pas de  $z$ , donc

$$\text{div } \vec{E} = \frac{\partial E_x}{\partial x} + \frac{\partial E_y}{\partial y} + \frac{\partial E_z}{\partial z} = 0 + 0 + 0 = 0.$$

**8.6 b)** On a  $\text{rot } \vec{E} = \left(\frac{\partial E_z}{\partial y} - \frac{\partial E_y}{\partial z}\right)\vec{e}_x + \left(\frac{\partial E_x}{\partial z} - \frac{\partial E_z}{\partial x}\right)\vec{e}_y + \left(\frac{\partial E_y}{\partial x} - \frac{\partial E_x}{\partial y}\right)\vec{e}_z$ , ce qui donne

$$\text{rot } \vec{E} = (0 - 0)\vec{e}_x + \left(0 - \frac{\partial E_z}{\partial x}\right)\vec{e}_y + (0 - 0)\vec{e}_z = -kE_0 \sin(\omega t - kx)\vec{e}_y.$$

**8.6 c)** On a  $\Delta \vec{E} = \Delta E_x \vec{e}_x + \Delta E_y \vec{e}_y + \Delta E_z \vec{e}_z$ . Ici, comme  $E_y = E_x = 0$ , il reste donc

$$\Delta \vec{E} = \Delta E_z \vec{e}_z = \left(\frac{\partial^2 E_z}{\partial x^2} + \frac{\partial^2 E_z}{\partial y^2} + \frac{\partial^2 E_z}{\partial z^2}\right)\vec{e}_z = \left(\frac{\partial^2 E_z}{\partial x^2} + 0 + 0\right)\vec{e}_z.$$

Enfin, comme on a  $\frac{\partial^2 E_z}{\partial x^2} = (-k)^2 E_0 \cos(\omega t - kx) = k^2 E_0 \cos(\omega t - kx)$ , on a  $\Delta \vec{E} = k^2 E_0 \cos(\omega t - kx)\vec{e}_z = k^2 \vec{E}$ .

**8.7 a)** On a

$$\begin{aligned} \text{div } \vec{E} &= \frac{\partial E_x}{\partial x} + \frac{\partial E_y}{\partial y} + \frac{\partial E_z}{\partial z} = -\frac{\pi}{a} E_0 \sin\left(\frac{\pi y}{a}\right) \cos(\omega t - kz) + k\alpha E_0 \sin\left(\frac{\pi y}{a}\right) \sin(\omega t - kz) \\ &= E_0 \sin\left(\frac{\pi y}{a}\right) \left(-\frac{\pi}{a} \cos(\omega t - kz) + k\alpha \sin(\omega t - kz)\right). \end{aligned}$$

**8.7 b)** On a

$$\begin{aligned} \text{rot } \vec{E} &= \left(\frac{\partial E_z}{\partial y} - \frac{\partial E_y}{\partial z}\right)\vec{e}_x + \left(\frac{\partial E_x}{\partial z} - \frac{\partial E_z}{\partial x}\right)\vec{e}_y + \left(\frac{\partial E_y}{\partial x} - \frac{\partial E_x}{\partial y}\right)\vec{e}_z \\ &= \left(\frac{\partial E_z}{\partial y} - \frac{\partial E_y}{\partial z}\right)\vec{e}_x + (0 - 0)\vec{e}_y + (0 - 0)\vec{e}_z = \left(\frac{\partial E_z}{\partial y} - \frac{\partial E_y}{\partial z}\right)\vec{e}_x. \end{aligned}$$

En calculant les dérivées partielles, on trouve

$$\begin{aligned} \text{rot } \vec{E} &= \left(\frac{\pi}{a} \alpha E_0 \cos\left(\frac{\pi y}{a}\right) \cos(\omega t - kz) + kE_0 \cos\left(\frac{\pi y}{a}\right) \sin(\omega t - kz)\right)\vec{e}_x \\ &= E_0 \cos\left(\frac{\pi y}{a}\right) \left(\frac{\pi}{a} \alpha \cos(\omega t - kz) + k \sin(\omega t - kz)\right)\vec{e}_x \end{aligned}$$

**8.7 c)** On a  $\vec{\Delta E} = \Delta E_x \vec{e}_x + \Delta E_y \vec{e}_y + \Delta E_z \vec{e}_z$ . Ici,  $E_x = 0$ , il reste donc

$$\begin{aligned} \vec{\Delta E} &= \Delta E_y \vec{e}_y + \Delta E_z \vec{e}_z = \left( \frac{\partial^2 E_y}{\partial x^2} + \frac{\partial^2 E_y}{\partial y^2} + \frac{\partial^2 E_y}{\partial z^2} \right) \vec{e}_y + \left( \frac{\partial^2 E_z}{\partial x^2} + \frac{\partial^2 E_z}{\partial y^2} + \frac{\partial^2 E_z}{\partial z^2} \right) \vec{e}_z \\ &= \left( 0 + \frac{\partial^2 E_y}{\partial y^2} + \frac{\partial^2 E_y}{\partial z^2} \right) \vec{e}_y + \left( 0 + \frac{\partial^2 E_z}{\partial y^2} + \frac{\partial^2 E_z}{\partial z^2} \right) \vec{e}_z = \left( \frac{\partial^2 E_y}{\partial y^2} + \frac{\partial^2 E_y}{\partial z^2} \right) \vec{e}_y + \left( \frac{\partial^2 E_z}{\partial y^2} + \frac{\partial^2 E_z}{\partial z^2} \right) \vec{e}_z. \end{aligned}$$

En calculant les dérivées partielles,

$$\begin{aligned} \frac{\partial^2 E_y}{\partial y^2} + \frac{\partial^2 E_y}{\partial z^2} &= -\left(\frac{\pi}{a}\right)^2 E_0 \cos\left(\frac{\pi y}{a}\right) \cos(\omega t - kz) - k^2 E_0 \cos\left(\frac{\pi y}{a}\right) \cos(\omega t - kz) \\ &= -\left(\left(\frac{\pi}{a}\right)^2 + k^2\right) E_0 \cos\left(\frac{\pi y}{a}\right) \cos(\omega t - kz) \\ \text{et } \frac{\partial^2 E_z}{\partial y^2} + \frac{\partial^2 E_z}{\partial z^2} &= -\left(\frac{\pi}{a}\right)^2 \alpha E_0 \sin\left(\frac{\pi y}{a}\right) \cos(\omega t - kz) - k^2 \alpha E_0 \sin\left(\frac{\pi y}{a}\right) \cos(\omega t - kz) \\ &= -\left(\left(\frac{\pi}{a}\right)^2 + k^2\right) \alpha E_0 \sin\left(\frac{\pi y}{a}\right) \cos(\omega t - kz), \end{aligned}$$

on obtient  $\vec{\Delta E} = -E_0 \cos(\omega t - kz) \left( \left(\frac{\pi}{a}\right)^2 + k^2 \right) \left( \cos\left(\frac{\pi y}{a}\right) + \alpha \sin\left(\frac{\pi y}{a}\right) \right) \vec{e}_x$ .

**8.8 a)** L'équation de Maxwell-Faraday s'écrit  $\vec{\text{rot}} \vec{E} = -\frac{\partial \vec{B}}{\partial t}$ . En lui appliquant le rotationnel, on obtient :

$$\vec{\text{rot}}(\vec{\text{rot}} \vec{E}) = -\frac{\partial}{\partial t} \vec{\text{rot}} \vec{B} = -\frac{\partial}{\partial t} \left( \mu_0 \varepsilon_0 \frac{\partial \vec{E}}{\partial t} \right) = -\mu_0 \varepsilon_0 \frac{\partial^2 \vec{E}}{\partial t^2}$$

où l'on a utilisé l'équation de Maxwell-Ampère dans le vide. Ainsi,  $\alpha = -\mu_0 \varepsilon_0$ .

**8.8 b)** Grâce à la formule du double rotationnel, on obtient :  $\vec{\text{rot}}(\vec{\text{rot}} \vec{E}) = \vec{\text{grad}}(\text{div} \vec{E}) - \vec{\Delta E}$ . Or, d'après l'équation de Maxwell-Gauss dans le vide, on a  $\text{div} \vec{E} = 0$ . Donc,  $\vec{\text{rot}}(\vec{\text{rot}} \vec{E}) = -\vec{\Delta E}$ .

**8.8 c)** Les deux formules obtenues précédemment donnent :

$$-\vec{\Delta E} = -\mu_0 \varepsilon_0 \frac{\partial^2 \vec{E}}{\partial t^2} \quad \text{soit} \quad \vec{\Delta E} = \frac{1}{c^2} \frac{\partial^2 \vec{E}}{\partial t^2} \quad \text{avec} \quad \frac{1}{c^2} = \mu_0 \varepsilon_0 \quad \text{d'où} \quad c = \frac{1}{\sqrt{\mu_0 \varepsilon_0}}.$$

**8.12 a)** Le champ électrique n'a qu'une composante selon  $\vec{e}_y$  qui dépend de  $x$  et de  $z$ .

Ainsi, le laplacien vectoriel s'écrit :

$$\vec{\Delta E} = \frac{\partial^2 E_y}{\partial x^2} \vec{e}_y + \frac{\partial^2 E_y}{\partial z^2} \vec{e}_y = E_0 \cos(\alpha z) \frac{d^2}{dx^2} (\sin(\omega t - kx)) \vec{e}_y + E_0 \sin(\omega t - kx) \frac{d^2}{dz^2} (\cos(\alpha z)) \vec{e}_y$$

avec  $\frac{d^2}{dx^2} (\sin(\omega t - kx)) = -k^2 \sin(\omega t - kx)$  et  $\frac{d^2}{dz^2} (\cos(\alpha z)) = -\alpha^2 \cos(\alpha z)$ . Ainsi,  $\vec{\Delta E} = (-k^2 - \alpha^2) \vec{E} = -(k^2 + \alpha^2) \vec{E}$ .

**8.12 b)** On a :  $\frac{\partial^2 \vec{E}}{\partial t^2} = E_0 \cos(\alpha z) \frac{\partial^2}{\partial t^2} (\sin(\omega t - kx)) \vec{e}_y = -\omega^2 E_0 \cos(\alpha z) \sin(\omega t - kx) \vec{e}_y = -\omega^2 \vec{E}$ .

**8.12 c)** On utilise l'équation de d'Alembert avec les deux termes calculés précédemment, on obtient :

$$-(\alpha^2 + k^2) \vec{E} = -\frac{\omega^2}{c^2} \vec{E} \quad \text{soit} \quad \alpha^2 + k^2 = \frac{\omega^2}{c^2} \quad \text{d'où} \quad k^2 = \frac{\omega^2}{c^2} - \alpha^2.$$

**8.12 d)** La relation de dispersion précédente se réécrit :  $\frac{\omega^2}{k^2} = \frac{\omega^2 c^2}{\omega^2 - c^2 \alpha^2}$  d'où  $v_\varphi = \frac{\omega}{k} = c \frac{1}{\sqrt{1 - \left(\frac{c\alpha}{\omega}\right)^2}}$ .

La vitesse de phase  $v_\varphi$  dépend ici de la pulsation  $\omega$  : il y a donc dispersion.

**8.13 a)** On a  $\overrightarrow{\text{rot}} \vec{E} = \frac{1}{r} \frac{\partial(rE_\theta)}{\partial r} \vec{e}_\varphi = \frac{a}{r} \frac{\partial}{\partial r} \cos(\omega t - kr) \vec{e}_\varphi = \frac{a}{r} k \sin(\omega t - kr) \vec{e}_\varphi$ .

**8.13 b)** Avec Maxwell-Faraday, on a  $\overrightarrow{\text{rot}} \vec{E} = \frac{a}{r} k \sin(\omega t - kr) \vec{e}_\varphi = -\frac{\partial \vec{B}}{\partial t}$ . Donc,  $\vec{B} = \frac{ak}{\omega r} \cos(\omega t - kr) \vec{e}_\varphi$ .

**8.13 c)** Les vecteurs  $(\vec{k}, \vec{E}, \vec{B})$  sont respectivement colinéaires aux vecteurs  $(\vec{e}_r, \vec{e}_\theta, \vec{e}_\varphi)$  donc le champ est transverse électromagnétique et forme un trièdre direct.

**8.14 a)** Pour que  $\cos(\omega t - kz) = 0$ , il faut que  $\omega t - kz = (2p+1)\frac{\pi}{2}$  avec  $p \in \mathbb{Z}$  et donc que  $z = \frac{\omega}{k}t - (2p+1)\frac{\pi}{2k}$ . Or, dans le vide  $k = \frac{\omega}{c} = \frac{2\pi}{\lambda}$  d'où  $z = ct - (2p+1)\frac{\lambda}{4}$ . La structure est analogue à une onde progressive selon  $z$ .

**8.14 b)** Pour que  $\sin\left(\frac{\pi x}{a}\right) = 0$ , il faut que  $\frac{\pi x}{a} = q\pi$  avec  $q \in \mathbb{Z}$  et donc que  $x = qa$ . Ces plans sont indépendants du temps comme une onde stationnaire selon  $x$ .

**8.15 a)** On a  $\frac{\partial \vec{E}}{\partial t} = j\omega \vec{E}$ .

**8.15 b)** La seule composante non nulle de  $\vec{E}$  est la composante  $E_x$  sur l'axe  $x$ . On a donc

$$\text{div} \vec{E} = \frac{\partial E_0 \exp[j(\omega t - k_x x - k_y y - k_z z)]}{\partial x} = -jk_x E_x.$$

**8.15 c)** Seule composante  $E_x$  de  $\vec{E}$  est non nulle. Donc,  $\overrightarrow{\text{rot}} \vec{E} = -jk_z E_x \vec{e}_y + jk_y E_x \vec{e}_z$ .

**8.15 d)** La seule composante non nulle de  $\vec{E}$  est la composante  $E_x$  sur l'axe  $x$ . Donc,

$$\begin{aligned} \Delta \vec{E} &= \Delta(\exp[-j(k_x x + k_y y + k_z z)]) E_0 \exp(j\omega t) \vec{e}_x \\ &= [(-jk_x)^2 + (-jk_y)^2 + (-jk_z)^2] \exp[-j(k_x x + k_y y + k_z z)] E_0 \exp(j\omega t) \vec{e}_x = -k^2 \vec{E}. \end{aligned}$$

**8.15 e)** On a  $\frac{\partial \vec{E}}{\partial t} = j\omega \vec{E}$ .

**8.15 f)** On a  $\text{div} \vec{E} = -j\vec{k} \cdot \vec{E}$ .

**8.15 g)** On a  $\overrightarrow{\text{rot}} \vec{E} = -j\vec{k} \wedge \vec{E}$ .

**8.15 h)** On a  $\Delta \vec{E} = -k^2 \vec{E}$ .

**8.16 a)** On divise la relation de dispersion par  $\omega^2$  : on obtient  $\frac{k^2}{\omega^2} = \frac{1 - \left(\frac{\omega_0}{\omega}\right)^2}{c^2}$  donc  $v_\varphi = \frac{\omega}{k} = \frac{c}{\sqrt{1 - \left(\frac{\omega_0}{\omega}\right)^2}}$ .

**8.16 b)** On différencie la relation de dispersion donnée : on a  $d(k^2) = d\left(\frac{\omega^2 - \omega_0^2}{c^2}\right)$ , donc  $2k dk = \frac{2\omega}{c^2} d\omega$ , donc  $\frac{d\omega}{dk} = c^2 \frac{k}{\omega} = \frac{c^2}{v_\varphi}$ . On en déduit ainsi, grâce à la vitesse de phase trouvée précédemment :  $v_g = c\sqrt{1 - \left(\frac{\omega_0}{\omega}\right)^2}$ .

**8.17 a)** On a  $\vec{\Pi} = \frac{\vec{E} \wedge \vec{B}}{\mu_0} = \frac{E_0^2}{\mu_0 c} \cos^2(\omega t - ky) \vec{e}_z \wedge \vec{e}_x = \varepsilon_0 c E_0^2 \cos^2(\omega t - ky) \vec{e}_y$  avec  $\mu_0 \varepsilon_0 c^2 = 1$ .

**8.17 b)** On a  $w_{em} = \frac{\varepsilon_0 E^2}{2} + \frac{B^2}{2\mu_0} = \frac{\varepsilon_0 E_0^2}{2} \cos^2(\omega t - ky) + \frac{E_0^2}{2\mu_0 c^2} \cos^2(\omega t - ky) = \varepsilon_0 E_0^2 \cos^2(\omega t - ky)$ , avec  $\mu_0 \varepsilon_0 c^2 = 1$ .

**8.18 a)** On a  $\vec{\Pi} = \frac{\vec{E} \wedge \vec{B}}{\mu_0} = \frac{a^2}{\mu_0 c r^2} \cos^2(\omega t - kr) \vec{e}_\theta \wedge \vec{e}_\varphi = \frac{\varepsilon_0 c a^2}{r^2} \cos^2(\omega t - kr) \vec{e}_r$  avec  $\mu_0 \varepsilon_0 c^2 = 1$ .

**8.18 b)** On a  $w_{em} = \frac{\varepsilon_0 E^2}{2} + \frac{B^2}{2\mu_0} = \frac{\varepsilon_0 a^2}{2r^2} \cos^2(\omega t - kr) + \frac{a^2}{2\mu_0 c^2 r^2} \cos^2(\omega t - kr) = \frac{\varepsilon_0 a^2}{r^2} \cos^2(\omega t - kr)$ , avec  $\mu_0 \varepsilon_0 c^2 = 1$ .

**8.18 c)** On calcule la puissance rayonnée, avec  $d\vec{S} = r^2 \sin(\theta) d\theta d\varphi \vec{e}_r$  :

$$\begin{aligned} P &= \iint \frac{\varepsilon_0 c a^2}{r^2} \cos^2(\omega t - kr) \vec{e}_r \cdot r^2 \sin(\theta) d\theta d\varphi \vec{e}_r = \iint \frac{\varepsilon_0 c a^2}{r^2} \cos^2(\omega t - kr) r^2 \sin(\theta) d\theta d\varphi \\ &= \frac{\varepsilon_0 c a^2}{r^2} \cos^2(\omega t - kr) r^2 \iint \sin(\theta) d\theta d\varphi = \frac{\varepsilon_0 c a^2}{r^2} \cos^2(\omega t - kr) r^2 \int_0^\pi \sin(\theta) d\theta \int_0^{2\pi} d\varphi. \end{aligned}$$

La double intégrale donne  $4\pi$ , donc l'expression de la puissance est :

$$P = 4\pi \frac{\varepsilon_0 c a^2}{r^2} \cos^2(\omega t - kr) r^2 = 4\pi \varepsilon_0 c a^2 \cos^2(\omega t - kr).$$

**8.19 a)** Avec l'équation de Maxwell-Faraday, on a

$$\text{rot } \vec{E} = -\frac{\partial E_y}{\partial z} \vec{e}_x + \frac{\partial E_y}{\partial x} \vec{e}_z = -k E_0 \sin\left(\frac{\pi x}{a}\right) \sin(\omega t - kz) \vec{e}_x + \frac{\pi}{a} E_0 \cos\left(\frac{\pi x}{a}\right) \cos(\omega t - kz) \vec{e}_z = -\frac{\partial \vec{B}}{\partial t}$$

donc  $\vec{B} = -\frac{k}{\omega} E_0 \sin\left(\frac{\pi x}{a}\right) \cos(\omega t - kz) \vec{e}_x - \frac{\pi}{a\omega} E_0 \cos\left(\frac{\pi x}{a}\right) \sin(\omega t - kz) \vec{e}_z$ .

**8.19 b)** On a

$$\begin{aligned} \vec{\Pi} &= \frac{\vec{E} \wedge \vec{B}}{\mu_0} = \frac{E_y \vec{e}_y}{\mu_0} \wedge (B_x \vec{e}_x + B_z \vec{e}_z) = -\frac{E_y B_x}{\mu_0} \vec{e}_z + \frac{E_y B_z}{\mu_0} \vec{e}_x \\ &= \frac{E_0^2}{\mu_0} \left[ \frac{1}{c} \sin^2\left(\frac{\pi x}{a}\right) \cos^2(\omega t - kz) \vec{e}_z - \frac{\pi}{a\omega} \cos\left(\frac{\pi x}{a}\right) \sin\left(\frac{\pi x}{a}\right) \cos(\omega t - kz) \sin(\omega t - kz) \vec{e}_x \right] \\ &= \frac{E_0^2}{\mu_0} \sin\left(\frac{\pi x}{a}\right) \left[ \frac{1}{c} \sin\left(\frac{\pi x}{a}\right) \cos^2(\omega t - kz) \vec{e}_z - \frac{\pi}{a\omega} \cos\left(\frac{\pi x}{a}\right) \cos(\omega t - kz) \sin(\omega t - kz) \vec{e}_x \right]. \end{aligned}$$

**8.19 c)** On a  $\langle \vec{\Pi} \rangle = \frac{E_0^2}{2\mu_0 c} \sin^2\left(\frac{\pi x}{a}\right) \vec{e}_z = \frac{\varepsilon_0 c E_0^2}{2} \sin^2\left(\frac{\pi x}{a}\right) \vec{e}_z$  avec  $\mu_0 \varepsilon_0 c^2 = 1$ .

**8.20 a)** L'onde associée à  $\vec{E}_1$  est rectiligne se propageant selon  $+z$ .

**8.20 b)** L'onde associée à  $\vec{E}_2$  est circulaire droite se propageant selon  $-z$ .

**8.20 c)** L'onde associée à  $\vec{E}_3$  est circulaire gauche se propageant selon  $+z$ .

**8.20 d)** L'onde associée à  $\vec{E}_4$  est circulaire gauche se propageant selon  $-z$ .

**8.20 e)** On a  $\vec{E}_1\left(t = \frac{T}{3}, z = 0\right) = \begin{cases} E_0 \cos \alpha \cos\left(\frac{2\pi T}{T} \frac{T}{3}\right) \vec{e}_x \\ E_0 \sin \alpha \cos\left(\frac{2\pi T}{T} \frac{T}{3}\right) \vec{e}_y \end{cases} = E_0 \cos\left(\frac{2\pi}{3}\right) \begin{cases} \cos \alpha \vec{e}_x \\ \sin \alpha \vec{e}_y \end{cases} = -\frac{E_0}{2} \begin{cases} \cos \alpha \vec{e}_x \\ \sin \alpha \vec{e}_y \end{cases}$ .

Le vecteur est opposé au cas initial donc d'angle  $\alpha + \pi$  et la norme est réduite de moitié d'où le cas (c).

**8.20 f)** On a  $\vec{E}_2\left(t = \frac{T}{2}, z = 0\right) = \begin{cases} E_0 \cos\left(\frac{2\pi T}{T} \frac{T}{2} + \alpha\right) \vec{e}_x \\ E_0 \sin\left(\frac{2\pi T}{T} \frac{T}{2} + \alpha\right) \vec{e}_y \end{cases} = \begin{cases} E_0 \cos(\pi + \alpha) \vec{e}_x \\ E_0 \sin(\pi + \alpha) \vec{e}_y \end{cases} = \begin{cases} -E_0 \cos(\alpha) \vec{e}_x \\ -E_0 \sin(\alpha) \vec{e}_y \end{cases}$ .

Le vecteur est opposé au cas initial donc d'angle  $\alpha + \pi$  d'où le cas (a).

**8.20 g)** On a

$$\begin{aligned} \vec{E}_3\left(t = \frac{T}{4}, z = 0\right) &= E_0 \exp\left[j\left(\frac{2\pi T}{T} \frac{T}{4} + \alpha\right)\right] (\vec{e}_x - j\vec{e}_y) = E_0 \exp\left(j\frac{\pi}{2}\right) \exp(j\alpha) (\vec{e}_x - j\vec{e}_y) \\ &= E_0 j \exp(j\alpha) (\vec{e}_x - j\vec{e}_y) = E_0 [\cos(\alpha) + j \sin(\alpha)] (j\vec{e}_x + \vec{e}_y) \\ &= \begin{cases} -E_0 \sin(\alpha) \vec{e}_x \\ E_0 \cos(\alpha) \vec{e}_y \end{cases} \end{aligned}$$

Le champ est déphasé de  $\frac{\pi}{2}$  par rapport à l'angle initial d'où le cas (b).

**8.20 h)** On a  $\vec{E}_4\left(t = \frac{T}{4}, z = 0\right) = \begin{cases} E_0 \cos\left(\frac{2\pi T}{T} \frac{T}{4} + \alpha\right) \vec{e}_x \\ -E_0 \sin\left(\frac{2\pi T}{T} \frac{T}{4} - \alpha\right) \vec{e}_y \end{cases} = \begin{cases} E_0 \cos\left(\frac{\pi}{2} + \alpha\right) \vec{e}_x \\ -E_0 \sin\left(\frac{\pi}{2} - \alpha\right) \vec{e}_y \end{cases} = \begin{cases} -E_0 \sin(\alpha) \vec{e}_x \\ -E_0 \cos(\alpha) \vec{e}_y \end{cases}$ .

Le vecteur fait un angle  $\alpha$  avec le vecteur  $-\vec{e}_y$  et  $\frac{\pi}{2} + \alpha$  avec  $\vec{e}_x$  d'où le cas (d).



# Fiche n° 9. Ondes électromagnétiques II

## Réponses

- 9.1 a) .....  oui
- 9.1 b) .....  non
- 9.1 c) .....  oui
- 9.2 a) .....  $k^2 = \frac{i\omega}{\alpha}$
- 9.2 b) .....  $k^3 = \frac{\omega^3}{\alpha} - \frac{\beta}{\alpha}\omega$
- 9.2 c) .....  $k = \frac{\beta - \omega^2}{i\alpha}$
- 9.3 a) .....  $\rho \left( \frac{\alpha}{\varepsilon_0} + i\omega \right)$
- 9.3 b) .....  $i\omega\rho \left( 1 - \frac{\omega_p^2}{\omega^2} \right) = 0$
- 9.4 a) .....  $\pm \frac{1+i}{\delta}$  avec  $\delta = \sqrt{\frac{2}{\mu_0\alpha\omega}}$
- 9.4 b) .....  $\pm i \frac{\omega}{c} \sqrt{\omega_p^2 - \omega^2}$
- 9.4 c) .....  $\pm \frac{\sqrt{\omega^2 - \omega_p^2}}{c}$
- 9.4 d) .....  $\pm \frac{\omega}{c}$
- 9.5 a) .....  $v_\varphi = \frac{c}{\sqrt{1 - \frac{\omega_p^2}{\omega^2}}}$
- 9.5 b) .....  $v_g = c \sqrt{1 - \frac{\omega_p^2}{\omega^2}}$
- 9.6 a) .....  $\frac{nE_0^2}{\mu_0 c} \cos^2(\omega t - kz) \vec{e}_z$
- 9.6 b) .....  $\frac{nE_0^2}{2\mu_0 c} \vec{e}_z$
- 9.6 c) .....  $\frac{\varepsilon_0 E_0^2}{2} (1 + n^2) \cos^2(\omega t - kz)$
- 9.6 d) .....  $\frac{\varepsilon_0 E_0^2}{4} (1 + n^2)$
- 9.7 a) .....  $\frac{E_0^2}{2\mu_0\omega\delta} e^{-\frac{2x}{\delta}} \vec{e}_x$
- 9.7 b) .....  $\frac{\gamma E_0^2}{2} e^{-\frac{2x}{\delta}}$
- 9.8 .....  $\frac{|E_0|^2}{2\mu_0 c} \text{Re}(\underline{n}) \vec{e}_z$
- 9.9 .....  $k^2 = \frac{\omega^2 - \omega_p^2}{c^2}$
- 9.10 a) .....  $\text{div } \vec{E} = 0$
- 9.10 b) .....  $\text{rot } \vec{B} = \mu_0 \gamma \vec{E} + \frac{1}{c^2} \frac{\partial \vec{E}}{\partial t}$
- 9.10 c) .....  $\Delta \vec{E} - \frac{1}{c^2} \frac{\partial^2 \vec{E}}{\partial t^2} = \mu_0 \gamma \frac{\partial \vec{E}}{\partial t}$
- 9.11 a) .....  non
- 9.11 b) .....  non
- 9.11 c) .....  non
- 9.11 d) .....  oui
- 9.12 a) .....  oui
- 9.12 b) .....  oui
- 9.12 c) .....  oui
- 9.12 c) .....  oui
- 9.12 d) .....  oui
- 9.13 a) .....  c
- 9.13 b) .....  a
- 9.13 c) .....  b
- 9.14 a) .....  1 et 4
- 9.14 b) .....  1 et 2
- 9.14 c) .....  1 et 3

- 9.15 a) .....  $\begin{cases} r + 1 = t \\ n_1 - rn_1 = tn_2 \end{cases}$
- 9.15 b) .....  $\begin{cases} r = \frac{n_1 - n_2}{n_1 + n_2} \\ t = \frac{2n_1}{n_1 + n_2} \end{cases}$
- 9.16 a) ..... 2 m et 4 m
- 9.16 b) .....  $\frac{1}{3}$  et  $\frac{4}{3}$
- 9.16 c) .....  $\frac{1}{2}$
- 9.16 d) .....  $\frac{1}{9}$  et  $\frac{8}{9}$
- 9.17 a) .....  $\frac{|E|^2}{2\mu_0\omega} \operatorname{Re}(\vec{k}_1)$
- 9.17 b) .....  $-\frac{|E|^2|r|^2}{2\mu_0\omega} \operatorname{Re}(\vec{k}_1) + \frac{|E|^2|t|^2}{2\mu_0\omega} \operatorname{Re}(\vec{k}_2)$
- 9.17 c) .....  $|r|^2$  et  $|t|^2 \operatorname{Re}(\frac{k_2}{k_1})$

## Corrigés

9.1 a) La première équation indique que  $\vec{a}$  et  $\vec{b}$  doivent être orthogonaux. Les deux équations suivantes indiquent que  $\vec{a}$  et  $\vec{c}$  sont orthogonaux et de même pour  $\vec{b}$  et  $\vec{c}$ .

9.1 b) Les trois vecteurs doivent être orthogonaux et le sens de  $\vec{c}$  doit respecter la règle de la main droite, ce qui n'est pas le cas ici.

9.1 c) Les vecteurs  $\vec{a}$  et  $\vec{b}$  doivent être colinéaires et orthogonaux à  $\vec{c}$ .

9.2 a) On a  $\frac{\partial \vec{E}}{\partial t} = i\omega \vec{E}$  et  $\frac{\partial^2 \vec{E}}{\partial z^2} = -k^2 \vec{E}$ .

9.2 b) On peut écrire  $\frac{\partial^3 \vec{E}}{\partial t^3} = -i\omega^3 \vec{E}$  et  $\frac{\partial^3 \vec{E}}{\partial z^3} = -ik^3 \vec{E}$ .

9.2 c) On a  $\frac{\partial^2 \vec{E}}{\partial t^2} = -\omega^2 \vec{E}$ .

9.3 a) En régime sinusoïdal forcé, l'équation de conservation de la charge devient, en tenant compte de la loi d'Ohm locale, s'écrit  $i\omega \underline{\rho} + \underline{\alpha} \operatorname{div} \vec{E} = 0$ . Avec l'équation de Maxwell-Gauss, on a  $\underline{\rho} \left( \frac{\alpha}{\varepsilon_0} + i\omega \right)$ .

9.3 b) En injectant l'expression de la conductivité complexe, l'équation de précédente devient :

$$\underline{\rho} \left( \frac{N e^2}{i m \omega \varepsilon_0} + i\omega \right) = i\omega \underline{\rho} \left( 1 - \frac{N e^2}{m \varepsilon_0 \omega^2} \right) = i\omega \underline{\rho} \left( 1 - \frac{\omega_p^2}{\omega^2} \right) = 0.$$

9.4 a) Si  $\omega \ll \frac{1}{\tau} \ll \omega_p$ , alors :

$$\underline{k}^2 = \frac{\omega^2}{c^2} \left[ 1 + i \frac{\omega_p^2 \tau^2}{\omega \tau (1 - i \omega \tau)} \right] \sim \frac{\omega^2}{c^2} i \frac{\omega_p^2 \tau}{\omega} = i \frac{\omega_p^2 \tau}{c^2} \omega = i \alpha_0 \mu_0 \omega.$$

En utilisant  $i = \frac{(1+i)^2}{2}$ , on en déduit  $\underline{k} = \pm \frac{1+i}{\sqrt{2}} \sqrt{\alpha_0 \mu_0 \omega} = \pm \frac{1+i}{\delta}$ .

9.4 b) Si  $\frac{1}{\tau} \ll \omega < \omega_p$ , alors :

$$\underline{k}^2 = \frac{\omega^2}{c^2} \left[ 1 + i \frac{\omega_p^2 \tau^2}{\omega \tau (1 - i \omega \tau)} \right] \sim \frac{\omega^2}{c^2} \left[ 1 + i \frac{\omega_p^2 \tau^2}{-i \omega^2 \tau^2} \right] = \frac{\omega^2}{c^2} \left[ 1 - \frac{\omega_p^2}{\omega^2} \right].$$

Il vient ainsi  $\underline{k} = \pm i \frac{\omega}{c} \sqrt{-1 + \frac{\omega_p^2}{\omega^2}}$ .

9.4 c) Si  $\frac{1}{\tau} \ll \omega_p < \omega$ , alors :

$$\underline{k}^2 = \frac{\omega^2}{c^2} \left[ 1 + i \frac{\omega_p^2 \tau^2}{\omega \tau (1 - i \omega \tau)} \right] \sim \frac{\omega^2}{c^2} \left[ 1 + i \frac{\omega_p^2 \tau^2}{-i \omega^2 \tau^2} \right] = \frac{\omega^2}{c^2} \left[ 1 - \frac{\omega_p^2}{\omega^2} \right] = \frac{\omega^2 - \omega_p^2}{c^2}.$$

Il vient ainsi :  $\underline{k} = \pm \frac{\sqrt{\omega^2 - \omega_p^2}}{c}$ .

9.4 d) Si  $\frac{1}{\tau} \ll \omega_p \ll \omega$ , alors :

$$\underline{k}^2 = \frac{\omega^2}{c^2} \left[ 1 + i \frac{\omega_p^2 \tau^2}{\omega \tau (1 - i \omega \tau)} \right] \sim \frac{\omega^2}{c^2} \left[ 1 + i \frac{\omega_p^2 \tau^2}{-i \omega^2 \tau^2} \right] \sim \frac{\omega^2}{c^2}.$$

Il vient ainsi :  $\underline{k} = \pm \frac{\omega}{c}$ .

9.5 a) Si  $\omega > \omega_p$ , alors  $\underline{k}^2 > 0$  : le nombre d'onde est réel. On a  $k'' = 0$  et  $k' = \pm \frac{\sqrt{\omega^2 - \omega_p^2}}{c}$ .

Le champ en notation réelle a pour expression :  $\vec{E} = E_0 \cos(\omega t - k' z) \vec{e}_x$ . L'onde est progressive et sa vitesse de phase vaut :

$$v_\varphi = \frac{\omega}{|k'|} = \frac{c}{\sqrt{1 - \frac{\omega_p^2}{\omega^2}}}.$$

9.5 b) La vitesse de groupe est définie par  $v_g = \frac{d\omega}{dk}$ . En dérivant la relation de dispersion, on obtient :

$$v_g = c^2 \frac{|k'|}{\omega} = c \sqrt{1 - \frac{\omega_p^2}{\omega^2}}.$$

9.6 a) On a  $\vec{\Pi} = \frac{\vec{E} \wedge \vec{B}}{\mu_0} = \frac{nE_0^2}{\mu_0 c} \cos^2(\omega t - kz) \vec{e}_z$ .

9.6 b) On peut écrire  $\langle \vec{\Pi} \rangle = \frac{nE_0^2}{\mu_0 c} \langle \cos^2(\omega t - kz) \rangle \vec{e}_z = \frac{nE_0^2}{2\mu_0 c} \vec{e}_z$ .

9.6 c) On a  $w_{EM} = \frac{\varepsilon_0 E^2}{2} + \frac{B^2}{2\mu_0} = \left( \frac{\varepsilon_0 E_0^2}{2} + \frac{n^2 E_0^2}{2\mu_0 c^2} \right) \cos^2(\omega t - kz) = \frac{\varepsilon_0 E_0^2}{2} (1 + n^2) \cos^2(\omega t - kz)$ .

**9.6 d)** On peut écrire  $\langle w_{EM} \rangle = \frac{\varepsilon_0 E_0^2}{2} (1 + n^2) \langle \cos^2(\omega t - kz) \rangle = \frac{\varepsilon_0 E_0^2}{4} (1 + n^2)$ .

**9.7 a)** On a

$$\vec{\Pi} = \frac{\vec{E} \wedge \vec{B}}{\mu_0} = \frac{E_0^2}{\mu_0 \omega \delta} e^{-\frac{2x}{\delta}} \left[ \cos\left(\omega t - \frac{x}{\delta}\right) \sin\left(\omega t - \frac{x}{\delta}\right) + \cos^2\left(\omega t - \frac{x}{\delta}\right) \right] \vec{e}_x$$

donc  $\langle \vec{\Pi} \rangle = \frac{E_0^2}{2\mu_0 \omega \delta} e^{-\frac{2x}{\delta}} \vec{e}_x$ .

**9.7 b)** On peut écrire  $\langle p_J \rangle = \langle \vec{j} \cdot \vec{E} \rangle = \langle \gamma |\vec{E}|^2 \rangle = \gamma E_0^2 e^{-\frac{2x}{\delta}} \langle \cos^2\left(\omega t - \frac{x}{\delta}\right) \rangle = \frac{\gamma E_0^2}{2} e^{-\frac{2x}{\delta}}$ .

**9.8** On a  $\langle \vec{\Pi} \rangle = \frac{1}{2\mu_0} \operatorname{Re} \left( \underline{E}_0^* e^{-i(\omega t - kz)} \vec{e}_x \wedge \frac{n E_0}{c} e^{i(\omega t - kz)} \vec{e}_y \right) = \frac{1}{2\mu_0 c} \operatorname{Re}(|E_0|^2 n \vec{e}_z) = \frac{|E_0|^2}{2\mu_0 c} \operatorname{Re}(n) \vec{e}_z$ .

**9.9** Le laplacien  $\Delta \vec{E}$  se réduit ici à  $\frac{\partial^2 \vec{E}}{\partial z^2}$ . La dérivée partielle de  $\vec{E}$  par rapport à  $z$  vaut  $-k^2 \vec{E}$ . La dérivée partielle de  $\vec{E}$  par rapport à  $t$  vaut  $-\omega^2 \vec{E}$ . La dérivée partielle  $\frac{\partial \vec{j}}{\partial t}$  vaut  $i\omega \underline{\alpha} \vec{E}$ .

Il vient ainsi :  $-k^2 \vec{E} + \frac{1}{c^2} \omega^2 \vec{E} = i\omega \underline{\alpha} \mu_0 \vec{E} = \frac{n c^2}{m} \underline{\alpha} \mu_0 \vec{E}$ . En posant  $\omega_p^2 = \frac{n c^2}{m} \underline{\alpha} \mu_0 c^2 = \frac{n c^2}{m} \underline{\alpha} \frac{1}{\varepsilon_0}$  et avec  $\vec{E}$  non nul, on obtient :

$$k^2 = \frac{\omega^2 - \omega_p^2}{c^2}.$$

**9.10 a)** Les équations de Maxwell s'écrivent  $\operatorname{div} \vec{E} = 0$  et  $\operatorname{rot} \vec{B} = \mu_0 \gamma \vec{E} + \frac{1}{c^2} \frac{\partial \vec{E}}{\partial t}$ .

**9.10 c)** On exprime le rotationnel  $\operatorname{rot}(\operatorname{rot} \vec{E}) = \operatorname{grad}(\operatorname{div} \vec{E}) - \Delta \vec{E} = -\Delta \vec{E}$ . On peut alors écrire

$$\operatorname{rot}(\operatorname{rot} \vec{E}) = \operatorname{rot} \left( -\frac{\partial \vec{B}}{\partial t} \right) = -\frac{\partial}{\partial t} (\operatorname{rot} \vec{B}) = -\frac{\partial}{\partial t} \left( \mu_0 \gamma \vec{E} + \frac{1}{c^2} \frac{\partial \vec{E}}{\partial t} \right).$$

Donc,  $\Delta \vec{E} - \frac{1}{c^2} \frac{\partial^2 \vec{E}}{\partial t^2} = \mu_0 \gamma \frac{\partial \vec{E}}{\partial t}$ .

**9.11 a)** On a  $\operatorname{div} \vec{E} = \frac{\partial E}{\partial z} \neq 0$ .

**9.11 b)** On a  $\operatorname{rot} \vec{E} = \vec{0} \neq -\frac{\partial \vec{B}}{\partial t}$ .

**9.11 c)** On peut écrire  $\operatorname{rot} \vec{B} = -\frac{\omega E_0}{c^2} \cos(\omega t - kz) \vec{e}_y$  et  $\mu_0 \epsilon_0 \frac{\partial \vec{E}}{\partial t} = \frac{\omega E_0}{c^2} \cos(\omega t - kz) \vec{e}_z$ .

**9.11 d)** On a  $\operatorname{div} \vec{B} = \frac{\partial B}{\partial x} = 0$ .

**9.12 a)** On a  $\operatorname{div} \vec{E} = \frac{\partial E}{\partial x} = 0$ .

**9.12 b)** On peut écrire  $\operatorname{rot} \vec{E} = -k E_0 \exp[i(\omega t - kz)] \vec{e}_y$  et  $-\frac{\partial \vec{B}}{\partial t} = -k E_0 \exp[i(\omega t - kz)] \vec{e}_y$ .

9.12 c) On a  $\text{rot } \vec{B} = \frac{\omega E_0}{c^2} \exp[i(\omega t - kz)] \vec{e}_x$  et  $\mu_0 \epsilon_0 \frac{\partial \vec{E}}{\partial t} = \frac{\omega E_0}{c^2} \exp[i(\omega t - kz)] \vec{e}_x$ .

9.12 d) On a  $\text{div } \vec{B} = \frac{\partial B}{\partial y} = 0$ .

9.13 a) On a  $\underline{k}^2$  est complexe donc  $\underline{k} = k + ik''$ .

9.13 b) On a  $\underline{k}^2 > 0$  donc  $\underline{k}$  est réel et  $\underline{k} = k'$ .

9.13 c) On a  $\underline{k}^2 < 0$  donc  $\underline{k}$  est un imaginaire pur et  $\underline{k} = ik''$ .

9.14 a) La norme de  $\vec{E}$  est une fonction sinusoidale de  $x$  et de  $t$ .

9.14 b) La norme de  $\vec{E}$  est une fonction sinusoidale de  $t$  et décroît exponentiellement avec  $x$ .

9.14 c) La norme de  $\vec{E}$  est une fonction sinusoidale de  $t$ . Elle décroît exponentiellement avec  $x$  mais en présentant des oscillations.

9.15 a) La continuité du champ électrique impose

$$\vec{E}_i(0, t) + \vec{E}_r(0, t) = \vec{E}_t(0, t) \quad \text{donc} \quad E_0 \cos(\omega t) + r E_0 \cos(\omega t) = t E_0 \cos(\omega t) \quad \text{donc} \quad 1 + r = t.$$

La continuité du champ magnétique impose

$$\vec{B}_i(0, t) + \vec{B}_r(0, t) = \vec{B}_t(0, t) \quad \text{donc} \quad \frac{n_1 E_0}{c} \cos(\omega t) - \frac{n_1 r E_0}{c} \cos(\omega t) = \frac{n_2 t E_0}{c} \cos(\omega t) \quad \text{donc} \quad n_1 - r n_1 = t n_2.$$

9.15 b) On déduit de la question précédente

$$n_1 - r n_1 = t n_2 = n_2 + r n_2 \quad \text{donc} \quad n_1 - n_2 = r(n_1 + n_2) \quad \text{donc} \quad r = \frac{n_1 - n_2}{n_1 + n_2}$$

et

$$t = 1 + r = \frac{n_1 + n_2 + n_1 - n_2}{n_1 + n_2} = \frac{2n_1}{n_1 + n_2}.$$

9.16 a) Dans le vide,  $\lambda_1 = 2$  m et dans le plasma,  $\lambda_2 = 4$  m.

9.16 b) On lit sur la figure  $r = \frac{E_r}{E_i} = \frac{1}{3}$  et  $t = \frac{E_t}{E_i} = \frac{4}{3}$ .

9.16 c) On peut écrire

$$r = \frac{1 - n_2}{1 + n_2} = \frac{1}{3} \quad \text{donc} \quad 3 - 3n_2 = 1 + n_2 \quad \text{donc} \quad 2 = 4n_2 \quad \text{donc} \quad n_2 = \frac{1}{2}.$$

On peut aussi écrire

$$t = \frac{2}{1 + n_2} = \frac{4}{3} \quad \text{donc} \quad 6 = 4 + 4n_2 \quad \text{donc} \quad n_2 = \frac{1}{2}.$$

**9.16 d)** On écrit  $R = |r|^2 = \frac{1}{9}$  et  $T = |t|^2 n_2 = \frac{16}{9} \times \frac{1}{2} = \frac{8}{9}$ .

---

**9.17 a)** On a

$$\langle \vec{\Pi} \rangle = \frac{1}{2\mu_0} \operatorname{Re}(\vec{E}^* \wedge \vec{E}) = \frac{1}{2\mu_0} \operatorname{Re} \left[ \vec{E}^* \wedge \left( \frac{\vec{k}_1 \wedge \vec{E}}{\omega} \right) \right] = \frac{1}{2\mu_0 \omega} \operatorname{Re} [(\vec{E}^* \cdot \vec{E}) \vec{k}_1 - (\vec{E}^* \cdot \vec{k}_1) \vec{E}].$$

On en déduit  $\langle \vec{\Pi} \rangle = \frac{|\underline{E}|^2}{2\mu_0 \omega} \operatorname{Re}(\vec{k}_1)$ .

---

**9.17 b)** On écrit  $\langle \vec{\Pi}_r \rangle = -\frac{|\underline{E}|^2 |r|^2}{2\mu_0 \omega} \operatorname{Re}(\vec{k}_1)$  et  $\langle \vec{\Pi}_t \rangle = \frac{|\underline{E}|^2 |t|^2}{2\mu_0 \omega} \operatorname{Re}(\vec{k}_2)$ .

---

**9.17 c)** On a  $R = |r|^2$  et  $T = |t|^2 \operatorname{Re} \left( \frac{k_2}{k_1} \right)$ .

---

# Fiche n° 10. Modèle scalaire de la lumière

## Réponses

- 10.1 a) .....  $n_{\text{air}} \times h$
- 10.1 b) .....  $n_{\text{eau}} \times H$
- 10.1 c) .....  $n_{\text{air}} \times h + n_{\text{eau}} \times H$
- 10.1 d) .....  $1 \times h + n_{\text{eau}} \times H$
- 10.2 a) .....  $n \times e$
- 10.2 b) .....  $1 \times (AA' - e)$
- 10.2 c) .....  $AA' + (n - 1)e$
- 10.3 a) .....  $AB \sin(\alpha)$
- 10.3 b) .....  $-AB \sin(\alpha)$
- 10.4 a) ..... Convergente
- 10.4 b) ..... Convergente
- 10.4 c) ..... Divergente
- 10.4 d) ..... Convergente
- 10.5 a) ..... (a) et (c)
- 10.5 b) ..... (c)
- 10.6 a) ..... (b) et (c)
- 10.6 b) ..... (b)
- 10.6 c) .....  $n_1 a \sin \alpha$
- 10.6 d) ..... (a)
- 10.6 e) .....  $n_2 a \sin \beta$
- 10.6 f) .....  $n_1 \sin i_1 = n_2 \sin i_2$
- 10.7 a) ..... (a) et (b)
- 10.7 b) .....  $\frac{2\pi}{\lambda_0} ((SA') + d + e)$
- 10.7 c) .....  $\frac{2\pi}{\lambda_0} ((SA) + d + ne)$
- 10.7 d) .....  $\frac{2\pi}{\lambda_0} (n - 1)e$
- 10.8 a) .....  $\frac{\pi}{\lambda_0} \frac{h}{\sin \theta_1}$
- 10.8 b) .....  $\frac{2\pi}{\lambda_0} \frac{h}{\sin \theta_1} + \pi$
- 10.8 c) .....  $2e \tan \theta_2$
- 10.8 d) .....  $\frac{h}{2} - e \tan \theta_2$
- 10.8 e) ..... (b)
- 10.8 f) .....  $\frac{4\pi}{\lambda_0} \left( \frac{h}{2 \sin \theta_1} + \left( n - \frac{1}{n} \right) \frac{e}{\cos \theta_2} \right)$
- 10.8 g) .....  $\frac{4\pi}{\lambda_0} \frac{e}{\cos \theta_2} \left( n - \frac{1}{n} \right) - \pi$
- 10.8 h) ..... (a)
- 10.9 a) .....  $\frac{2\pi}{\lambda_0} e(n - 1)$
- 10.9 b) .....  $\frac{e}{\cos \theta_2}$
- 10.9 c) .....  $I_1 I_2 \cos(\theta_1 - \theta_2)$
- 10.9 d) .....  $\frac{2\pi}{\lambda_0} \frac{e}{\cos \theta_2} (n - \cos(\theta_1 - \theta_2))$
- 10.9 e) ..... (c)
- 10.9 f) .....  $\frac{2\pi}{\lambda_0} e(n \cos \theta_2 - \cos \theta_1)$
- 10.10 a) .....  $2\pi$
- 10.10 b) .....  $\pi$
- 10.10 c) .....  $\frac{e}{\cos \theta_2}$
- 10.10 d) .....  $\frac{4\pi}{\lambda_0} \frac{ne}{\cos \theta_2} - \pi$

- 10.11 a) .....  $\Delta f = 1,0 \times 10^{11}$  Hz
- 10.11 b) .....  $\Delta f = 1,0 \times 10^7$  Hz
- 10.11 c) .....  $\tau_c = 45 \times 10^3$  ps
- 10.11 d) ..... (2), (1) puis (3)
- 10.12 a) .....  $K_1 S_0 \frac{T}{2\pi\tau} \sin\left(2\pi \frac{\tau}{T}\right)$
- 10.12 b) ..... (d)
- 10.12 c) ..... 100 GHz
- 10.12 d) .....  $\frac{K_2 S_0^2}{2\tau} \left( \tau + \frac{T}{4\pi} \sin\left(4\pi \frac{\tau}{T}\right) \right)$
- 10.12 e) ..... (b)
- 10.12 f) ..... non
- 10.13 a) .....  $1,00 \times 10^{-10}$  W
- 10.13 b) .....  $7,50 \times 10^{-10}$  W
- 10.13 c) .....  $6,67 \times 10^{-9}$  W
- 10.13 d) .....  $2 \times 10^{-17}$  J
- 10.13 e) .....  $3,38 \times 10^{-16}$  J
- 10.13 f) .....  $3,33 \times 10^{-16}$  J
- 10.13 g) ..... (a)

## Corrigés

10.1 a) L'air a pour indice optique  $n_{\text{air}}$ . Du point S au point I, le rayon lumineux parcourt la distance  $h$ .

10.1 b) L'eau a pour indice optique  $n_{\text{eau}}$ . Du point I au point F, le rayon lumineux parcourt la distance  $H$ .

10.1 c) Les chemins optiques se somment :  $(SF) = (SI) + (IF) = n_{\text{air}} \times h + n_{\text{eau}} \times H$ .

10.1 d) L'indice optique du vide est égal à 1.

10.2 a) Entre les points B et C, le rayon confondu avec l'axe optique parcourt la distance géométrique  $e$ .

10.2 b) L'indice optique du vide est égal à 1. De plus, à la distance totale  $AA'$ , il faut retrancher l'épaisseur  $e$  de la lentille pour obtenir la distance géométrique parcourue par le rayon lumineux dans l'air.

10.2 c) Les chemins optiques se somment :  $(AA') = n \times e + 1 \times (AA' - e) = AA' + (n - 1)e$ . Cette expression est valable quel que soit le rayon issu de A et arrivant en A' puisque les points A et A' sont conjugués!

10.3 a) En décomposant le chemin optique de la source S jusqu'au point A, la différence de chemin optique demandée s'écrit :  $(SA) - (SB) = (SH) + (HA) - (SB)$ . Par ailleurs, le plan passant par H et B étant une surface d'onde issu de S, il vient :  $(SA) - (SB) = (HA)$ . Dans l'air, cela donne :  $(SA) - (SB) = HA = AB \sin(\alpha)$ .

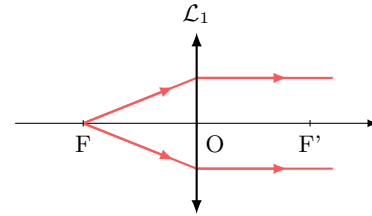
10.3 b) Il y a égalité des chemins optiques :  $(SAS') = (SBS')$ , c'est-à-dire  $(SA) + (AS') = (SB) + (BS')$ .

On en déduit :  $(AS') - (BS') = (SB) - (SA) = -AB \sin(\alpha)$ .

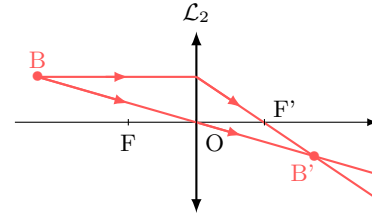


**10.4 a)**

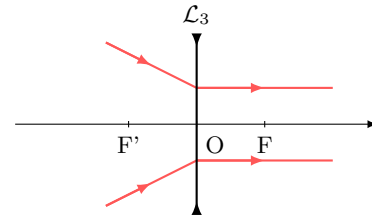
En vertu du théorème de Malus, les rayons en aval de la lentille sont parallèles à l'axe optique. En amont, les surfaces d'ondes sont des cercles concentriques centrés sur un point (lui aussi en amont), qui est donc le conjugué d'une image à l'infini sur l'axe optique, à savoir le foyer principal objet. Ainsi,  $\mathcal{L}_1$  est convergente.

**10.4 b)**

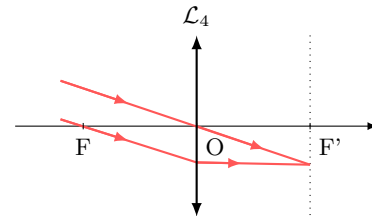
Les surfaces d'onde permettent de voir qu'il y a conjugaison entre un objet réel et une image réelle (de même taille, et renversée) :  $\mathcal{L}_2$  est donc nécessairement convergente.

**10.4 c)**

Les surfaces d'onde incidentes sont des cercles concentriques centrés sur un point en aval de la lentille. De plus, en vertu du théorème de Malus, les rayons émergents sont parallèles à l'axe optique. Le point en question est donc le foyer objet de la lentille, situé après son centre optique :  $\mathcal{L}_3$  est donc divergente.

**10.4 d)**

En vertu du théorème de Malus, les rayons incidents, parallèles entre eux, proviennent d'un objet à l'infini, qui est conjugué par la lentille d'un point hors de l'axe optique : il s'agit d'un foyer image secondaire, situé après le centre optique.  $\mathcal{L}_4$  est donc convergente.



**10.5 a)** Les rayons incidents étant parallèles à l'axe optique, d'après le théorème de Malus, les surfaces d'onde sont perpendiculaires à l'axe optique.

**10.5 b)** Tout se passe comme si  $F'$  était une source ponctuelle émettant une onde sphérique : les surfaces d'onde sont donc des cercles concentriques centrés sur  $F'$ .

**10.6 a)** Le point  $H_1$  est le projeté orthogonal de  $I_2$  : d'après le théorème de Malus, ils se situent donc sur la même surface d'onde. De même,  $H_2$  et  $I_1$  appartiennent à un même front d'onde issu de  $M_\infty$  (principe du retour inverse de la lumière).

**10.6 b)** On voit sur le schéma que  $i_1 + \left(\frac{\pi}{2} - \alpha\right) = \frac{\pi}{2}$  d'où directement  $\alpha = i_1$ .

**10.6 c)** Dans le triangle  $H_1I_1I_2$ , on a  $\sin \alpha = \frac{H_1I_1}{a}$ . De plus,  $(H_1I_1) = n_1H_1I_1$ , d'où  $(H_1I_1) = n_1a \sin \alpha$ .

**10.6 d)** Dans le triangle  $H_2I_1I_2$ , on a  $\beta + \frac{\pi}{2} + \left(\frac{\pi}{2} - i_2\right) = \pi$  d'où  $\beta = i_2$ .

**10.6 e)** Dans le triangle  $H_2I_1I_2$ , on a  $\sin \beta = \frac{I_2H_2}{a}$ . De plus,  $(I_2H_2) = n_2I_2H_2$ , d'où  $(I_2H_2) = n_2a \sin \beta$ .

**10.6 f)** Les chemins optiques  $(H_1I_1)$  et  $(I_2H_2)$  étant identiques, on retrouve la loi de la réfraction de Snell-Descartes :  $n_1 \sin i_1 = n_2 \sin i_2$ .

**10.7 a)** L'indice de la lame étant différent de celui de l'air, C et C' ne sont pas sur la même surface d'onde.

**10.7 b)** On a  $\phi(C') = \frac{2\pi}{\lambda_0}(SC') = \frac{2\pi}{\lambda_0}(SA') + \frac{2\pi}{\lambda_0}(A'B') + \frac{2\pi}{\lambda_0}(B'C') = \frac{2\pi}{\lambda_0}((SA') + d + e)$ .

**10.7 c)** On a  $\phi(C) = \frac{2\pi}{\lambda_0}(SC) = \frac{2\pi}{\lambda_0}(SA) + \frac{2\pi}{\lambda_0}(AB) + \frac{2\pi}{\lambda_0}(BC) = \frac{2\pi}{\lambda_0}((SA) + d + ne)$ .

**10.7 d)** Les points A et A' appartenant à la même surface d'onde, les chemins optiques (SA) et (SA') sont égaux donc le déphasage est  $\Delta\phi = \frac{2\pi}{\lambda_0}(n-1)e$ .

**10.8 a)** D'après la loi de la réflexion de Snell-Descartes, au niveau du point d'incidence A, l'angle réfléchi est égal à l'angle incident en valeur absolue. Le triangle SAM est donc un triangle isocèle qu'on peut subdiviser en deux triangles rectangles. Ainsi, en se plaçant dans celui d'hypoténuse SA et de côté  $h/2$ , le chemin optique (SA) est tel que

$$(SA) = n_{\text{air}} \times SA = 1 \times \frac{h}{2 \sin \theta_1} = \frac{h}{2 \sin \theta_1}$$

donc la phase  $\phi_1(A) = \frac{2\pi}{\lambda_0} \frac{h}{2 \sin \theta_1} = \frac{\pi}{\lambda_0} \frac{h}{\sin \theta_1}$ .

**10.8 b)** Le chemin optique (AM) est égal au chemin optique (SA), ainsi (SM) = 2 × (SA). Donc, avec le déphasage induit par la réflexion, la phase est telle que  $\phi_1(M) = 2 \times \phi_1(A) + \pi = \frac{4\pi}{\lambda_0} \frac{h}{2 \sin \theta_1} + \pi = \frac{2\pi}{\lambda_0} \frac{h}{\sin \theta_1} + \pi$ .

**10.8 c)** En se plaçant dans le triangle rectangle d'hypoténuse BC, on constate que

$$\tan \theta_2 = \frac{BD/2}{e} \quad \text{donc} \quad BD = 2e \tan \theta_2.$$

**10.8 d)** La distance EB est telle que  $EB = \frac{h - BD}{2} = \frac{h}{2} - e \tan \theta_2$ .

**10.8 e)** En se plaçant dans le triangle rectangle SEB, le chemin optique (SB) est tel que

$$(SB) = n_{\text{air}} \times SB = 1 \times \frac{EB}{\sin \theta_1} = \frac{h}{2 \sin \theta_1} - \frac{e \tan \theta_2}{\sin \theta_1} = \frac{h}{2 \sin \theta_1} - \frac{e \sin \theta_2}{\cos \theta_2 \sin \theta_1} = \frac{h}{2 \sin \theta_1} - \frac{e}{n \cos \theta_2}$$

donc la phase  $\phi_2(B) = \frac{2\pi}{\lambda_0} \left( \frac{h}{2 \sin \theta_1} - \frac{e}{n \cos \theta_2} \right)$ .

**10.8 f)** En se plaçant dans le triangle rectangle d'hypoténuse BC, le chemin optique (BC) est tel que

$$(BC) = n \times BC = \frac{ne}{\cos \theta_2}.$$

Le chemin optique (SC) est donc tel que

$$(SC) = (SB) + (BC) = \frac{h}{2 \sin \theta_1} - \frac{e}{n \cos \theta_2} + \frac{ne}{\cos \theta_2} = \frac{h}{2 \sin \theta_1} + \left(n - \frac{1}{n}\right) \frac{e}{\cos \theta_2}.$$

Le chemin optique (SM) est égal au double de (SC). Ainsi la phase est  $\phi_2(M) = \frac{4\pi}{\lambda_0} \left( \frac{h}{2 \sin \theta_1} + \left(n - \frac{1}{n}\right) \frac{e}{\cos \theta_2} \right)$ .

**10.8 g)** On a

$$\Delta\phi = \phi_2(M) - \phi_1(M) = \frac{4\pi}{\lambda_0} \left( \frac{h}{2 \sin \theta_1} + \left(n - \frac{1}{n}\right) \frac{e}{\cos \theta_2} \right) - \frac{4\pi}{\lambda_0} \frac{h}{2 \sin \theta_1} - \pi = \frac{4\pi}{\lambda_0} \frac{e}{\cos \theta_2} \left(n - \frac{1}{n}\right) - \pi.$$

**10.8 h)** On a

$$\Delta\phi = \frac{4\pi}{\lambda_0} \frac{e}{\cos \theta_2} \left(n - \frac{1}{n}\right) - \pi = \frac{4\pi}{\lambda_0} \frac{e}{\sqrt{1 - \sin^2 \theta_2}} - \pi.$$

Or, d'après la loi de la réflexion de Snell-Descartes, il vient que

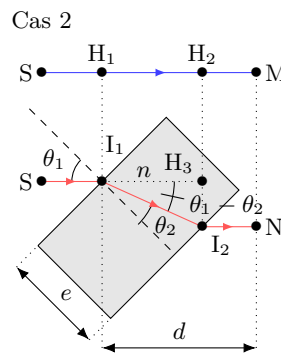
$$\Delta\phi = \left(n - \frac{1}{n}\right) = \frac{4\pi}{\lambda_0} \frac{ne}{\sqrt{n^2 - \sin^2 \theta_1}} \left(n - \frac{1}{n}\right) - \pi = \frac{4\pi}{\lambda_0} \frac{e(n^2 - 1)}{\sqrt{n^2 - \sin^2 \theta_1}} - \pi.$$

**10.9 a)** Les chemins optiques (SI<sub>1</sub>) et (SH<sub>1</sub>), ainsi que (I<sub>2</sub>N) et (H<sub>2</sub>M) sont égaux, on peut donc écrire

$$\Delta\phi = \phi(N) - \phi(M) = \frac{2\pi}{\lambda_0} ((SM) - (SN)) = \frac{2\pi}{\lambda_0} (nI_1I_2 - H_1H_2) = \frac{2\pi}{\lambda_0} (ne + d - e) - \frac{2\pi}{\lambda_0} d = \frac{2\pi}{\lambda_0} e(n - 1).$$

**10.9 b)** Dans le triangle rectangle d'hypoténuse I<sub>1</sub>I<sub>2</sub>, on a  $\cos \theta_2 = \frac{e}{I_1I_2}$ .

**10.9 c)** On identifie un triangle rectangle I<sub>1</sub>I<sub>2</sub>H<sub>3</sub> d'hypoténuse I<sub>1</sub>I<sub>2</sub> avec un angle  $\theta_1 - \theta_2$  de côté adjacent H<sub>1</sub>H<sub>2</sub>. Il vient que  $H_1H_2 = I_1I_2 \cos(\theta_1 - \theta_2)$ .



**10.9 d)** Les chemins optiques (SI<sub>1</sub>) et (SH<sub>1</sub>), ainsi que (I<sub>2</sub>N) et (H<sub>2</sub>M) sont égaux, on peut donc écrire

$$\Delta\phi = \phi(N) - \phi(M) = \frac{2\pi}{\lambda_0}((SM) - (SN)) = \frac{2\pi}{\lambda_0}(nI_1I_2 - H_1H_2).$$

En utilisant les expressions obtenues précédemment, on a

$$\Delta\phi = \frac{2\pi}{\lambda_0}(nI_1I_2 - I_1I_2 \cos(\theta_1 - \theta_2)) = \frac{2\pi}{\lambda_0} \frac{e}{\cos\theta_2} (n - \cos(\theta_1 - \theta_2)).$$

**10.9 e)** En utilisant l'identité trigonométrique, il vient que  $\cos(\theta_1 - \theta_2) = \cos\theta_1 \cos\theta_2 + \sin\theta_1 \sin\theta_2$ . De plus, la loi de Snell-Descartes de la réfraction nous permet d'écrire  $\cos(\theta_1 - \theta_2) = \cos\theta_1 \cos\theta_2 + n \sin^2\theta_2$ . Enfin, en utilisant l'identité trigonométrique  $1 = \sin^2\theta_2 + \cos^2\theta_2$ , il vient que

$$\cos(\theta_1 - \theta_2) = \cos\theta_1 \cos\theta_2 + n - n \cos^2\theta_2.$$

**10.9 f)** En utilisant les expressions obtenues précédemment, on a

$$\begin{aligned} \Delta\phi &= \frac{2\pi}{\lambda_0} \frac{e}{\cos\theta_2} (n - \cos(\theta_1 - \theta_2)) = \frac{2\pi}{\lambda_0} \frac{e}{\cos\theta_2} (n - \cos\theta_1 \cos\theta_2 - n + \cos^2\theta_2) \\ &= \frac{2\pi}{\lambda_0} \frac{e}{\cos\theta_2} (-\cos\theta_1 \cos\theta_2 + n \cos^2\theta_2). \end{aligned}$$

Donc,  $\Delta\phi = \frac{2\pi}{\lambda_0} e (n \cos\theta_2 - \cos\theta_1)$ .

**10.10 a)** Le rayon est d'abord réfléchi par la lame semi-réfléchissante. L'indice de réfraction de la lame est supérieur à celui de l'air, il y a donc un déphasage de  $\pi$ . Puis, le rayon est réfléchi par le miroir et est donc, de nouveau, déphasé de  $\pi$ .

**10.10 b)** Le rayon passe une première fois dans la lame, puis est réfléchi par M<sub>2</sub> : le rayon est déphasé de  $\pi$ . Il traverse une deuxième fois la lame et est réfléchi une seconde fois par la lame. Dans ce cas, le milieu de propagation du rayon incident est le plus réfringent : il n'y a pas de déphasage supplémentaire.

**10.10 c)** On considère le triangle rectangle d'hypoténuse I<sub>1</sub>I<sub>2</sub> et on utilise la relation trigonométrique  $\cos\theta_2 = \frac{e}{I_2I_2}$ .

**10.10 d)** Le rayon réfléchi par M<sub>1</sub> traverse la lame entre I<sub>1</sub> et I<sub>3</sub> avant la réflexion par M<sub>1</sub>. Le rayon réfléchi par M<sub>2</sub> traverse la lame entre I<sub>1</sub> et I<sub>2</sub> avant la réflexion par M<sub>2</sub>, puis entre I<sub>2</sub> et I<sub>1</sub> après la réflexion par M<sub>2</sub>, puis entre I<sub>1</sub> et I<sub>3</sub>. En tenant compte du déphasage dû au réflexion, et comme I<sub>1</sub>I<sub>2</sub> = I<sub>1</sub>I<sub>3</sub>, il vient que

$$\Delta\phi = \frac{2\pi}{\lambda_0}(3nI_1I_2) + \pi - \frac{2\pi}{\lambda_0}(nI_1I_2 + 2\pi) = \frac{4\pi}{\lambda_0}nI_1I_2 - \pi = \frac{4\pi}{\lambda_0} \frac{ne}{\cos\theta_2} - \pi.$$

**10.11 a)** Attention à la conversion des picosecondes en secondes : on a 1 ps = 1 × 10<sup>-12</sup> s.

**10.11 b)** Attention à la conversion des microsecondes en secondes : on a 1 μs = 1 × 10<sup>-6</sup> s.

**10.11 c)** La relation  $\frac{\Delta\lambda}{\lambda} = \frac{\Delta f}{f}$  se réécrit  $\frac{\Delta\lambda}{\lambda} = \frac{1}{\tau_c f}$ , soit  $\tau_c = \frac{\lambda^2}{c\Delta\lambda}$ . Ainsi, on a :

$$\tau_c = \frac{(820 \times 10^{-9} \text{ m})^2}{3 \times 10^8 \text{ m} \cdot \text{s}^{-1} \times 50 \times 10^{-9} \text{ m}} = 45 \times 10^{-15} \text{ s} = 45 \times 10^3 \text{ ps}.$$

**10.11 d)** Une source possède une cohérence temporelle d'autant plus forte que le temps de cohérence est long (trains d'onde avec une durée importante). Parmi les trois sources, c'est le laser qui possède la meilleure cohérence temporelle. La source de lumière blanche munie du filtre possède la moins bonne cohérence temporelle.

**10.12 a)** La tension  $u_1$  vérifie

$$\begin{aligned} u_1 &= K_1 \langle s(t) \rangle = \frac{K_1}{\tau} \int_0^\tau s(t) dt = \frac{K_1}{\tau} \int_0^\tau S_0 \cos(\omega t) dt = \frac{K_1 S_0}{\tau} \left[ \frac{\sin(\omega t)}{\omega} \right]_0^\tau \\ &= K_1 S_0 \frac{1}{\omega \tau} \sin(\omega \tau) = K_1 S_0 \frac{T}{2\pi \tau} \sin\left(2\pi \frac{\tau}{T}\right). \end{aligned}$$

**10.12 b)** La valeur maximale de la fonction  $\sin\left(2\pi \frac{\tau}{T}\right)$  est 1, donc la valeur maximale de  $u_1$  est  $K_1 S_0 \frac{T}{2\pi \tau}$ .

**10.12 c)** La valeur maximale du signal  $u_1$  est  $K_1 S_0 \frac{T}{2\pi \tau}$ . Ce signal est exploitable lorsque

$$K_1 S_0 \frac{T}{2\pi \tau} \geq \frac{K_1 S_0}{2\pi \times 100} \quad \text{soit} \quad T \geq \frac{\tau}{100} \quad \text{soit} \quad f \leq \frac{100}{\tau}.$$

Ainsi la fréquence maximale du signal exploitable par le capteur A est  $f = \frac{100}{1 \times 10^{-9} \text{ s}} = 1 \times 10^{11} \text{ Hz} = 100 \text{ GHz}$ .

**10.12 d)** La tension  $u_2$  vérifie

$$\begin{aligned} u_2 &= K_2 \langle s^2(t) \rangle = \frac{K_2}{\tau} \int_0^\tau s^2(t) dt = \frac{K_2 S_0^2}{\tau} \int_0^\tau \cos^2(\omega t) dt = \frac{K_2 S_0^2}{2\tau} \left( \int_0^\tau dt + \int_0^\tau \cos(2\omega t) dt \right) \\ &= \frac{K_2 S_0^2}{2\tau} \left( \tau + \frac{T}{4\pi} \sin\left(4\pi \frac{\tau}{T}\right) \right). \end{aligned}$$

**10.12 e)** La valeur maximale de la fonction  $\sin\left(4\pi \frac{\tau}{T}\right)$  est 1, donc la valeur maximale de  $u_2$  est  $\frac{K_2 S_0^2}{2\tau} \left( \tau + \frac{T}{4\pi} \right)$ .

**10.12 f)** La valeur maximale du signal  $u_2$  est  $\frac{K_2 S_0^2}{2\tau} \left( \tau + \frac{T}{4\pi} \right)$ . Ce signal est exploitable lorsque

$$\frac{K_2 S_0^2}{2\tau} \left( \tau + \frac{T}{4\pi} \right) \geq \frac{K_2 S_0^2}{2} \quad \text{soit} \quad K_2 S_0^2 \frac{T}{8\pi \tau} \geq 0 \quad \text{soit} \quad f < +\infty.$$

Ainsi, théoriquement, il n'y a pas de limite à la fréquence du signal exploitable par le capteur B.

**10.13 a)** On a  $\mathcal{P}_{\min 1} = \frac{I_{\text{obs } 1}}{s_1} = \frac{3 \times 10^{-11} \text{ A}}{0,3 \text{ A} \cdot \text{W}^{-1}} = 1,00 \times 10^{-10} \text{ W}$ .

**10.13 d)** On a  $E_{\min 1} = \mathcal{P}_{\min 1} \times \tau = 1,00 \times 10^{-10} \text{ W} \times 2,00 \times 10^{-7} \text{ s} = 2,00 \times 10^{-17} \text{ J}$ .

**10.13 g)** Le nombre minimal de photons reçus par une photodiode  $N_{\min}$  vérifie  $N_{\min} = \frac{E_{\min}}{h\nu} = \frac{E_{\min} \lambda_0}{hc}$ .

Ainsi, on a  $N_{\min 1} = 47$ ,  $N_{\min 2} = 935$  et  $N_{\min 3} = 1104$ .

# Fiche n° 11. Interférences à deux ondes

## Réponses

- 11.1 a) ..  $\cos(a) \cos(b) = \frac{\cos(a-b) + \cos(a+b)}{2}$
- 11.1 b) .....  $\cos^2 a = \frac{1 + \cos(2a)}{2}$
- 11.1 c) .....  $\sin^2 a = \frac{1 - \cos(2a)}{2}$
- 11.1 d) .....  $\sin(a) \cos(a) = \frac{\sin(2a)}{2}$
- 11.2 a) .....  $\cos(\omega t - kx)$
- 11.2 b) .....  $-\sin(\omega t - kx)$
- 11.2 c) ..... (c)
- 11.3 a) .....  $\frac{2\pi}{\omega_1}$
- 11.3 b) ..... 0
- 11.3 c) .....  $\frac{2\pi}{\omega_2}$
- 11.3 d) ..... 0
- 11.3 e) .....  $\frac{\pi}{\omega_1}$
- 11.3 f) .....  $\frac{S_1^2}{2}$
- 11.3 g) .....  $\frac{\pi}{\omega_2}$
- 11.3 h) .....  $\frac{S_2^2}{2}$
- 11.4 a) .....  $1 + \cos(\pm\varphi_1 \mp \varphi_2)$
- 11.4 b) .....  $A^2$
- 11.4 c) .....  $\frac{A^2 + B^2}{2}$
- 11.4 d) .....  $\frac{A^2}{8} \left( \frac{5}{4} + \cos(\varphi_0) \right)$
- 11.5 ..... (c)
- 11.6 a) .....  $k(x' - x)$
- 11.6 b) ..... (a)
- 11.6 c) .....  $\omega(t - t')$
- 11.6 d) ..... (a)
- 11.7 a) ..... (c)
- 11.7 b) ..... 1,3 cm
- 11.7 c) ..... 48  $\mu\text{m}$
- 11.8 a) ..... (b)
- 11.8 b) ..... 0,57 cm
- 11.8 c) ..... 0,76  $\mu\text{m}$
- 11.8 d) ..... 6,4 cm
- 11.8 e) ..... 0,14  $\mu\text{m}$
- 11.9 a) .....  $a \sin(\theta_1)$
- 11.9 b) .....  $\arctan\left(\frac{y}{f'_2}\right)$
- 11.9 c) .....  $\frac{nay}{f'_2}$
- 11.9 d) .....  $\frac{f'_2 \lambda}{na}$
- 11.9 e) ..... (b)
- 11.10 a) ..... (a)
- 11.10 b) .....  $(n-1)\alpha y$
- 11.10 c) .....  $\frac{\lambda_0}{(n-1)\alpha}$
- 11.10 d) ..... (b)
- 11.11 a) .....  $\frac{e}{\cos(\theta)}$

- 11.11 b) .....  $2e \tan(\theta)$
- 11.11 c) .....  $IK \sin(\theta)$
- 11.11 d) .....  $2e \frac{1 - \cos^2(\theta)}{\cos(\theta)}$
- 11.11 e) .....  $2ne \cos(\theta)$
- 11.11 f) ..... (c)
- 11.12 a) ..... (b)
- 11.12 b) .....  $\frac{2e \sin^2 i}{\cos(i)}$
- 11.12 c) .....  $\frac{e}{\cos(i)}$
- 11.12 d) .....  $2ne \cos(i)$
- 11.12 e) ..... (c)
- 11.13 a) .....  $1,0 \times 10^{-1} \text{ s}$
- 11.13 b) .....  $2,2 \times 10^{-1} \text{ m}$
- 11.13 c) .....  $2,6 \times 10^{-3} \text{ s}^{-1}$
- 11.13 d) .....  $9,5 \times 10^{-3} \text{ m}^{-1}$
- 11.13 e) .....  $1,9 \text{ rad} \cdot \text{s}^{-1}$
- 11.13 f) .....  $1,3 \times 10^{-9} \text{ rad} \cdot \text{m}^{-1}$

- 11.14 a) .....  $\frac{c}{\nu_1 - \nu_2}$
- 11.14 b) .....  $6,00 \times 10^{11} \text{ Hz}$
- 11.14 c) .....  $\frac{c}{\nu_1 + \nu_2}$
- 11.14 d) .....  $6,00 \times 10^{12} \text{ Hz}$
- 11.14 e) .....  $599,8 \text{ nm}$
- 11.14 f) .....  $600,2 \text{ nm}$
- 11.15 a) ..... (a)
- 11.15 b) ..... (b)
- 11.15 c) ..... (c)
- 11.16 a) .....  $f' \tan(\theta)$
- 11.16 b) .....  $1\,555,2$
- 11.16 c) ..... (b)
- 11.16 d) ..... (a)
- 11.16 e) .....  $8,22 \text{ mm}$
- 11.16 f) ..... (a)
- 11.16 g) .....  $19,7 \text{ mm}$
- 11.16 h) .....  $5,47 \text{ cm}$

## Corrigés

**11.1 a)** Si on somme les relations (1) et (2), il vient que

$$\cos(a-b) + \cos(a+b) = \cos(a)\cos(b) + \sin(a)\sin(b) + \cos(a)\cos(b) - \sin(a)\sin(b) = 2\cos(a)\cos(b).$$

Donc,  $\cos(a)\cos(b) = \frac{\cos(a-b) + \cos(a+b)}{2}$ .

---

**11.1 b)** En remplaçant  $b$  par  $a$  dans la relation précédente, il vient que

$$\cos(a)\cos(a) = \frac{\cos(a-a) + \cos(a+a)}{2} \quad \text{donc} \quad \cos^2 a = \frac{1 + \cos(2a)}{2}.$$

---

**11.2 a)** On a

$$\begin{aligned} s(x, t) &= S_0 \cos(\omega t - kx) + S_0 \cos(\omega t - kx + \varphi) = S_0 (\cos(\omega t - kx) + \cos(\omega t - kx + \varphi)) \\ &= S_0 (\cos(\omega t - kx) + \cos(\omega t - kx)\cos(\varphi) - \sin(\omega t - kx)\sin(\varphi)) \\ &= S_0 (\cos(\omega t - kx) (1 + \cos(\varphi)) - \sin(\omega t - kx)\sin(\varphi)) \\ &= S_0 (f(x, t) (1 + \cos(\varphi)) + g(x, t) \sin(\varphi)). \end{aligned}$$

Par identification, on a  $f(x, t) = \cos(\omega t - kx)$  et  $g(x, t) = -\sin(\omega t - kx)$ .

---

**11.2 c)** La fonction  $s(x, t)$  s'annule si, et seulement si,

$$\begin{cases} 1 + \cos(\varphi) = 0 \\ \sin(\varphi) = 0 \end{cases} \quad \text{soit} \quad \begin{cases} \varphi = \pi [2\pi] \\ \varphi = \pi [\pi]. \end{cases}$$

On en déduit que l'unique condition d'annulation est  $\varphi = \pi [2\pi]$ .

---

**11.3 a)** La pulsation du signal  $s_1(t) = S_1 \cos(\omega_1 t - k_1 x)$  est  $\omega_1$  donc sa période est  $T_1 = \frac{2\pi}{\omega_1}$ .

---

**11.3 b)** On a

$$\begin{aligned} \langle s_1(t) \rangle &= \frac{1}{T_1} \int_0^{T_1} S_1 \cos(\omega_1 t - k_1 x) dt = \frac{1}{T_1} \frac{1}{\omega_1} S_1 \left[ \sin(\omega_1 t - k_1 x) \right]_0^{T_1} \\ &= \frac{\omega_1}{2\pi} \frac{1}{\omega_1} S_1 (\sin(\omega_1 T_1 - k_1 x) - \sin(-k_1 x)) = \frac{1}{2\pi} S_1 (\sin(2\pi - k_1 x) - \sin(-k_1 x)). \end{aligned}$$

Comme  $\sin(2\pi - k_1 x) = \sin(-k_1 x)$ , on voit que  $\langle s_1(t) \rangle = 0$ .

---

**11.3 d)** On a

$$\begin{aligned} \langle s_2(t) \rangle &= \frac{1}{T_2} \int_0^{T_2} S_2 \sin(\omega_2 t - k_2 x + \varphi_2) dt = -\frac{1}{T_2} \frac{1}{\omega_2} S_2 \left[ \cos(\omega_2 t - k_2 x + \varphi_2) \right]_0^{T_2} \\ &= -\frac{\omega_2}{2\pi} \frac{1}{\omega_2} S_2 (\cos(\omega_2 T_2 - k_2 x + \varphi_2) - \cos(-k_2 x + \varphi_2)) = -\frac{1}{2\pi} S_2 (\cos(2\pi - k_2 x + \varphi_2) - \cos(-k_2 x + \varphi_2)). \end{aligned}$$

Comme  $\cos(2\pi - k_2 x + \varphi_2) = \cos(-k_2 x + \varphi_2)$ , on voit que  $\langle s_2(t) \rangle = 0$ .

---



**11.3 e)** Le signal  $f_1(t) = s_1^2(t) = S_1^2 \cos^2(\omega_1 t - k_1 x)$ . Or, on a

$$\cos(a) \cos(a) = \frac{\cos(a-a) + \cos(a+a)}{2} \quad \text{donc} \quad \cos^2(a) = \frac{1 + \cos(2a)}{2}.$$

Donc,  $f_1(t) = \frac{S_1^2}{2} + \frac{S_1^2}{2} \cos(2\omega_1 t - 2k_1 x)$ .

Ainsi, la pulsation du signal  $f_1(t)$  est  $2\omega_1$  donc sa période est  $T_3 = \frac{2\pi}{2\omega_1} = \frac{\pi}{\omega_1}$ .

**11.3 f)** On a

$$\begin{aligned} \langle f_1(t) \rangle &= \frac{1}{T_3} \int_0^{T_3} \frac{S_1^2}{2} + \frac{S_1^2}{2} \cos(2\omega_1 t - 2k_1 x) dt = \frac{1}{T_3} \frac{S_1^2}{2} \left( \int_0^{T_3} dt + \int_0^{T_3} \cos(2\omega_1 t - 2k_1 x) dt \right) \\ &= \frac{1}{T_3} \frac{S_1^2}{2} \left( [t]_0^{T_3} + \frac{1}{2\omega_1} [\sin(2\omega_1 t - 2k_1 x)]_0^{T_3} \right) = \frac{1}{T_3} \frac{S_1^2}{2} \left( T_3 + \frac{1}{2\omega_1} (\sin(2\omega_1 T_3 - 2k_1 x) - \sin(-2k_1 x)) \right) \\ &= \frac{S_1^2}{2} \left( 1 + \frac{\omega_1}{\pi} \frac{1}{2\omega_1} (\sin(2\pi - 2k_1 x) - \sin(-2k_1 x)) \right). \end{aligned}$$

Comme  $\sin(2\pi - 2k_1 x) = \sin(-2k_1 x)$ , on voit que  $\langle f_1(t) \rangle = \frac{S_1^2}{2}$ .

**11.3 g)** Le signal  $f_2(t) = s_2^2(t) = S_2^2 \sin^2(\omega_2 t - k_2 x + \varphi_2)$ . Or, on a

$$\sin(a) \sin(a) = \frac{\cos(a-a) - \cos(a+a)}{2} \quad \text{donc} \quad \sin^2 a = \frac{1 - \cos(2a)}{2}.$$

Donc,  $f_2(t) = \frac{S_2^2}{2} - \frac{S_2^2}{2} \cos(2\omega_2 t - 2k_2 x + 2\varphi_2)$ .

Ainsi, la pulsation du signal  $f_2(t)$  est  $2\omega_2$  donc sa période est  $T_4 = \frac{2\pi}{2\omega_2} = \frac{\pi}{\omega_2}$ .

**11.3 h)** On a

$$\begin{aligned} \langle f_2(t) \rangle &= \frac{1}{T_4} \int_0^{T_4} \frac{S_2^2}{2} - \frac{S_2^2}{2} \cos(2\omega_2 t - 2k_2 x + 2\varphi_2) dt = \frac{1}{T_4} \frac{S_2^2}{2} \left( \int_0^{T_4} dt - \int_0^{T_4} \cos(2\omega_2 t - 2k_2 x + 2\varphi_2) dt \right) \\ &= \frac{1}{T_4} \frac{S_2^2}{2} \left( [t]_0^{T_4} - \frac{1}{2\omega_2} [\sin(2\omega_2 t - 2k_2 x + 2\varphi_2)]_0^{T_4} \right) \\ &= \frac{1}{T_4} \frac{S_2^2}{2} \left( T_4 - \frac{1}{2\omega_2} (\sin(2\omega_2 T_4 - 2k_2 x + 2\varphi_2) - \sin(-2k_2 x + 2\varphi_2)) \right) \\ &= \frac{S_2^2}{2} \left( 1 - \frac{\omega_2}{\pi} \frac{1}{2\omega_2} (\sin(2\pi - 2k_2 x + 2\varphi_2) - \sin(-2k_2 x + 2\varphi_2)) \right). \end{aligned}$$

Comme  $\sin(2\pi - 2k_2 x + 2\varphi_2) = \sin(-2k_2 x + 2\varphi_2)$ , on voit que  $\langle f_2(t) \rangle = \frac{S_2^2}{2}$ .

**11.4 a)** On a

$$\begin{aligned} &\langle [\cos(\omega_0 t + \varphi_1) + \cos(\omega_0 t + \varphi_2)]^2 \rangle \\ &= \langle [\cos(\omega_0 t + \varphi_1)]^2 + 2 \cos(\omega_0 t + \varphi_1) \cos(\omega_0 t + \varphi_2) + [\cos(\omega_0 t + \varphi_2)]^2 \rangle \\ &= \left\langle \frac{\cos(0) + \cos(2\omega_0 t + 2\varphi_1)}{2} \right\rangle + \left\langle \frac{2 \cos(\varphi_1 - \varphi_2) + \cos(2\omega_0 t + \varphi_1 + \varphi_2)}{2} \right\rangle + \left\langle \frac{\cos(0) + \cos(2\omega_0 t + 2\varphi_2)}{2} \right\rangle \\ &= \frac{1}{2} + 0 + \cos(\varphi_1 - \varphi_2) + 0 + \frac{1}{2} + 0 = 1 + \cos(\pm\varphi_1 \mp \varphi_2). \end{aligned}$$

11.4 b) On a

$$\begin{aligned} & \langle [A \cos(3\omega_0 t + \varphi_1) + A \cos(\omega_0 t + \varphi_2)]^2 \rangle \\ &= \langle [A \cos(3\omega_0 t + \varphi_1)]^2 + 2A^2 \cos(3\omega_0 t + \varphi_1) \cos(\omega_0 t + \varphi_2) + [A \cos(\omega_0 t + \varphi_2)]^2 \rangle \\ &= \left\langle A^2 \frac{\cos(0) + \cos(6\omega_0 t + 2\varphi_1)}{2} \right\rangle + \left\langle 2A^2 \frac{\cos(2\omega_0 t + \varphi_1 - \varphi_2) + \cos(4\omega_0 t + \varphi_1 + \varphi_2)}{2} \right\rangle \\ & \quad + \left\langle A^2 \frac{\cos(0) + \cos(2\omega_0 t + 2\varphi_2)}{2} \right\rangle \\ &= A^2 \left[ \frac{1}{2} + 0 + 0 + 0 + \frac{1}{2} + 0 \right] = A^2. \end{aligned}$$

11.4 c) On a

$$\begin{aligned} & \langle [A \cos(42\omega_0 t + \varphi_1) + B \sin(43\omega_0 t + \varphi_2)]^2 \rangle \\ &= \langle [A \cos(42\omega_0 t + \varphi_1)]^2 + 2AB \cos(42\omega_0 t + \varphi_1) \sin(43\omega_0 t + \varphi_2) + [B \sin(43\omega_0 t + \varphi_2)]^2 \rangle \\ &= \left\langle A^2 \frac{\cos(0) + \cos(84\omega_0 t + 2\varphi_1)}{2} \right\rangle + \left\langle 2AB \frac{\sin(\omega_0 t - \varphi_1 + \varphi_2) + \sin(85\omega_0 t + \varphi_1 + \varphi_2)}{2} \right\rangle \\ & \quad + \left\langle B^2 \frac{\cos(0) - \cos(86\omega_0 t + 2\varphi_2)}{2} \right\rangle \\ &= \left[ \frac{A^2}{2} + 0 + 0 + 0 + \frac{B^2}{2} - 0 \right] = \frac{A^2 + B^2}{2}. \end{aligned}$$

11.4 d) On a

$$\begin{aligned} & \left\langle \left[ \frac{A}{4} \sin\left(\frac{\omega_0}{2}t + \varphi_0\right) + \frac{A}{2} \sin\left(\frac{\omega_0}{2}t + 2\varphi_0\right) \right]^2 \right\rangle \\ &= \left\langle \left[ \frac{A}{4} \sin\left(\frac{\omega_0}{2}t + \varphi_0\right) \right]^2 + \frac{A^2}{4} \sin\left(\frac{\omega_0}{2}t + \varphi_0\right) \sin\left(\frac{\omega_0}{2}t + 2\varphi_0\right) + \left[ \frac{A}{2} \sin\left(\frac{\omega_0}{2}t + 2\varphi_0\right) \right]^2 \right\rangle \\ &= \left\langle \frac{A^2 \cos(0) - \cos(\omega_0 t + 2\varphi_0)}{16} \right\rangle + \left\langle \frac{A^2 \cos(\varphi_0) - \cos(\omega_0 t + 3\varphi_0)}{4} \right\rangle + \left\langle \frac{A^2 \cos(0) - \cos(\omega_0 t + 4\varphi_0)}{4} \right\rangle \\ &= \left[ \frac{A^2}{32} - 0 + \frac{A^2}{8} \cos(\varphi_0) - 0 + \frac{A^2}{8} - 0 \right] = \frac{A^2}{8} \left( \frac{1}{4} + \cos(\varphi_0) + 1 \right) = \frac{A^2}{8} \left( \frac{5}{4} + \cos(\varphi_0) \right). \end{aligned}$$

11.5

- Pour (a), on a  $C = \frac{10,0 \times 10^6 \text{ W} \cdot \text{m}^{-2} - 1,00 \text{ MW} \cdot \text{m}^{-2}}{10,0 \times 10^6 \text{ W} \cdot \text{m}^{-2} + 1,00 \text{ MW} \cdot \text{m}^{-2}} = \frac{1,00 \times 10^7 \text{ W} \cdot \text{m}^{-2} - 1,00 \times 10^6 \text{ W} \cdot \text{m}^{-2}}{1,00 \times 10^7 \text{ W} \cdot \text{m}^{-2} + 1,00 \times 10^6 \text{ W} \cdot \text{m}^{-2}} = 0,82.$
- Pour (b), on a  $C = \frac{660 \text{ mW} \cdot \text{mm}^{-2} - 0,220 \text{ kW} \cdot \text{dm}^{-2}}{660 \text{ mW} \cdot \text{mm}^{-2} + 0,220 \text{ kW} \cdot \text{dm}^{-2}} = \frac{6,60 \times 10^5 \text{ W} \cdot \text{m}^{-2} - 2,20 \times 10^4 \text{ W} \cdot \text{m}^{-2}}{6,60 \times 10^5 \text{ W} \cdot \text{m}^{-2} + 2,20 \times 10^4 \text{ W} \cdot \text{m}^{-2}} = 93,5.$
- Pour (c), on a  $C = \frac{5,00 \text{ mW} \cdot \text{mm}^{-2} - 2,00 \text{ mW} \cdot \text{cm}^{-2}}{5,00 \text{ mW} \cdot \text{mm}^{-2} + 2,00 \text{ mW} \cdot \text{cm}^{-2}} = \frac{5,00 \times 10^3 \text{ W} \cdot \text{m}^{-2} - 20,0 \text{ W} \cdot \text{m}^{-2}}{5,00 \times 10^3 \text{ W} \cdot \text{m}^{-2} + 20,0 \text{ W} \cdot \text{m}^{-2}} = 99,2.$
- Pour (d), on a  $C = \frac{72,0 \text{ pW} \cdot \mu\text{m}^{-2} - 3,00 \text{ MW} \cdot \text{km}^{-2}}{72,0 \text{ pW} \cdot \mu\text{m}^{-2} + 3,00 \text{ MW} \cdot \text{km}^{-2}} = \frac{72,0 \text{ W} \cdot \text{m}^{-2} - 3,00 \text{ W} \cdot \text{m}^{-2}}{72,0 \text{ W} \cdot \text{m}^{-2} + 3,00 \text{ W} \cdot \text{m}^{-2}} = 92,0.$

11.6 a) On a  $\Delta\varphi = \omega t_0 - kx - (\omega t_0 - kx') = k(x' - x).$

11.6 b) Le déphasage  $\Delta\varphi_n$  entre deux positions successives est constant si  $k(x_n - x_{n+1}) = 0$   $[2\pi] = n2\pi.$

Autrement dit, on a  $\Delta x_n = n \frac{2\pi}{k} = n \frac{2\pi\lambda}{2\pi} = n\lambda.$  Pour un instant donné, les positions distantes d'un nombre entier de fois la longueur d'onde de la vibration lumineuse sont en phases : réponse (a).

**11.6 c)** On a  $\Delta\varphi = \omega t - kx_0 - (\omega t' - kx_0) = \omega(t - t')$ .

**11.6 d)** Le déphasage  $\Delta\varphi_n$  entre deux instants successifs est constant si  $\omega(t_n - t_{n+1}) = 0 \ [2\pi] = n2\pi$ .

Autrement dit, on a  $\Delta t_n = n \frac{2\pi}{\omega} = n \frac{2\pi T}{2\pi} = nT$ . Pour une position donnée, les instants séparés d'un nombre entier de fois la période de la vibration lumineuse sont en phase : réponse (a).

**11.7 a)** On a  $I(M) = 2I_0 \left(1 + \cos\left(\frac{2\pi x}{i}\right)\right)$ ; on identifie donc  $i = \frac{\lambda D}{na}$ .

**11.7 b)** Par lecture graphique, on constate qu'entre  $x = -20$  mm et  $x = +20$  mm se trouve 3 interfranges.

Donc, on a  $i = \frac{4,0 \text{ cm}}{3} = 1,3 \text{ cm}$ .

**11.7 c)** On a  $a = \frac{\lambda D}{ni}$ . Donc,  $a = \frac{630 \times 10^{-9} \text{ m} \times 1,0 \text{ m}}{1,0 \times 1,3 \times 10^{-2} \text{ m}} = 48 \text{ } \mu\text{m}$ .

**11.8 a)** On a  $C(x) = \cos\left(\frac{2\pi x}{X}\right)$ ; on identifie donc  $X = \frac{2\lambda_{\text{moy}}^2 D}{na\Delta\lambda}$ .

**11.8 c)** On a  $\lambda_{\text{moy}} = \frac{ina}{D}$ . Donc,  $\lambda_{\text{moy}} = \frac{0,57 \times 10^{-3} \text{ m} \times 1,0 \times 0,20 \times 10^{-3} \text{ m}}{1,5 \text{ m}} = 0,76 \text{ } \mu\text{m}$ .

**11.8 e)** On a  $\Delta\lambda = \frac{2\lambda_{\text{moy}}^2 D}{naX}$ . Donc,  $\Delta\lambda = \frac{2 \times (0,76 \cdot 10^{-6})^2 \times 1,5}{1,0 \times 0,20 \cdot 10^{-3} \times 6,4 \cdot 10^{-2}} = 0,14 \text{ } \mu\text{m}$ .

**11.9 a)** On a  $\sin(\theta_1) = \frac{S_2H}{a}$  donc  $S_2H = a \sin(\theta_1)$ .

**11.9 b)** À l'aide du tracé en pointillé, on obtient un triangle avec :  $\tan(\theta_1) = \frac{y}{f'_2}$ . On en déduit  $\theta_1 = \arctan\left(\frac{y}{f'_2}\right)$ .

**11.9 c)** On sait que  $\delta_{SM} = \mathcal{L}_{S_2H} = nS_2H = na \sin(\theta_1)$ . À l'ordre 1, on a  $\sin(\theta_1) = \theta_1$  et  $\tan(\theta_1) = \theta_1 = \frac{y}{f'_2}$ .

Donc, on a  $\delta_{SM} = \frac{nay}{f'_2}$ .

**11.9 d)** En identifiant, on a :  $\frac{y}{i} = \frac{\delta_{SM}}{\lambda} = \frac{nay}{f'_2\lambda}$ . Donc :  $i = \frac{\lambda f'_2}{na}$ .

**11.9 e)** L'éclairement ne dépend que de la variable  $y$ , ainsi pour une valeur de  $y$  fixée l'éclairement doit être constant, ce qui est seulement le cas pour la figure 2 soit la réponse (b).

**11.10 a)** Dans l'interféromètre, un rayon est atténué par deux lames séparatrices, ainsi son éclairement en sortie  $I'$  est tel que  $I' = I_0/4$ . Donc son amplitude en sortie  $S'$  est telle que  $S'^2 = S_0^2/4$ , soit  $S' = S_0/2$ .

**11.10 b)** En considérant  $l$  la distance parcourue par un rayon dans un des bras de l'interféromètre de S jusqu'à l'écran, la différence de marche entre les rayons passant par les deux bras de l'interféromètre est

$$\delta = n_{\text{air}}(l - e) + ne - (n_{\text{air}}(l - e') + ne') = l + (n - 1)e - l - (n - 1)e' = (n - 1)(e - e') = (n - 1)\alpha y.$$

**11.10 c)** Le déphasage entre les deux rayons est  $\Delta\varphi = \frac{2\pi}{\lambda_0}\delta = \frac{2\pi}{\lambda_0}(n-1)\alpha y$ . Par identification, on a

$$2\pi\frac{y}{i} = \frac{2\pi}{\lambda_0}(n-1)\alpha y \quad \text{donc} \quad i = \frac{\lambda_0}{(n-1)\alpha}.$$

**11.10 d)** L'éclairement ne dépend que de la variable  $y$ , ainsi pour une valeur de  $y$  fixée l'éclairement doit être constant, ce qui est seulement le cas pour la figure 2. Réponse (b).

**11.11 a)** On a  $\cos(\theta) = \frac{e}{IJ} = \frac{e}{JK}$ ; donc,  $IJ = JK = \frac{e}{\cos(\theta)}$ .

**11.11 b)** On a  $\tan(\theta) = \frac{IK}{e} = \frac{IK}{2e}$ ; donc,  $IK = 2e \tan(\theta)$ .

**11.11 c)** On a  $\sin(\theta) = \frac{IH}{IK}$ ; donc,  $IH = IK \sin(\theta)$

**11.11 d)** On a  $IH = IK \sin(\theta) = 2e \tan(\theta) \sin(\theta) = 2e \frac{\sin^2(\theta)}{\cos(\theta)}$  car  $\tan(\theta) = \frac{\sin(\theta)}{\cos(\theta)}$ . Or,  $\sin^2(\theta) = 1 - \cos^2(\theta)$ .

Donc,  $IH = 2e \frac{1 - \cos^2(\theta)}{\cos(\theta)}$ .

**11.11 e)** On a  $\delta_{SM} = \mathcal{L}_{IJ} + \mathcal{L}_{JK} - \mathcal{L}_{IH} = n(IJ + JK - IH)$ . En injectant les résultats précédents on obtient :

$$\delta_{SM} = n \left( 2 \frac{e}{\cos(\theta)} - 2e \frac{1 - \cos^2(\theta)}{\cos(\theta)} \right) = \frac{2ne}{\cos(\theta)} [1 - (1 - \cos^2(\theta))] = \frac{2ne}{\cos(\theta)} \cos^2(\theta) = 2ne \cos(\theta).$$

**11.11 f)** La différence de marche ne dépend que de la variable  $\theta$ . Or l'éclairement dépend de la différence de marche (formule de Fresnel) donc l'éclairement dépend uniquement de la variable  $\theta$ . Cela signifie que l'on retrouve une valeur fixée d'éclairement pour une valeur fixée de  $\theta$ ! Autrement dit, l'ensemble des points de même éclairement correspond à un cercle, conformément à ce qui est observé dans la figure 3. Réponse (c).

**11.12 a)** La rayon inférieur d'amplitude  $S'$  en M est réfléchi deux fois de plus que le rayon supérieur d'amplitude  $S$  en M. Ainsi  $S' = r^2 S$ . Comme l'éclairement  $I$  est proportionnel au carré de l'amplitude, on a  $I' = r^4 I$  et

$$I' = \left( \frac{1}{\sqrt{2}} \right)^4 I = \frac{I}{4} \quad \text{donc} \quad \frac{I'}{I} = \frac{1}{4}.$$

**11.12 b)** D'après la loi de la réflexion, on a  $\tan(i) = \frac{\frac{1}{2}BE}{e}$  et donc  $BE = 2e \tan(i)$ . Par ailleurs, on a  $\sin(i) = \frac{BH}{BE}$ , d'où  $BH = BE \sin(i)$ . En injectant la première relation dans la seconde, il vient

$$BH = 2e \tan(i) \sin(i) = \frac{2e \sin^2 i}{\cos(i)}.$$

**11.12 c)** D'après la loi de la réflexion, il vient  $\cos(i) = \frac{e}{BD}$ . On en déduit  $BD = \frac{e}{\cos(i)}$ .

11.12 d) On a

$$\begin{aligned}\delta_{SM} &= \mathcal{L}_{SABDFM} - \mathcal{L}_{SABHCM} \\ &= (SA + nAB + nBD + nDE + EF + FM) - (SA + nAB + BH + HC + CM).\end{aligned}$$

Or, on a  $BD = DE$ ,  $EF = HC$  et  $FM = CM$  donc

$$\delta_{SM} = 2nBD - BH = 2n \frac{e}{\cos(i)} - \frac{2e \sin^2 i}{\cos(i)} = 2ne \frac{1 - \sin^2 i}{\cos(i)} = 2ne \frac{\cos^2 i}{\cos(i)} = 2ne \cos(i).$$

11.12 e) Les franges d'interférences sont isophases, donc telles que  $\delta_{SM}$  soit constant. Or  $\delta_{SM}$  ne dépend que de l'angle  $i$ , donc les franges d'interférences coïncident avec des cercles épais concentriques. Réponse (c).

11.13 a) On identifie la période  $\frac{2\pi}{T_1}t = 60t$  donc  $T_1 = \frac{2\pi}{60} \text{ s} = 1,0 \times 10^{-1} \text{ s}$ .

11.13 b) On identifie la longueur d'onde  $\frac{2\pi}{\lambda_1}x = 28x$  donc  $\lambda_1 = \frac{2\pi}{28} \text{ m} = 2,2 \times 10^{-1} \text{ m}$ .

11.13 c) On identifie la fréquence  $2\pi\nu_2t = \left(\frac{t}{21} - \frac{t}{32}\right)$  donc  $\nu_2 = \frac{1}{2\pi} \left(\frac{1}{21} - \frac{1}{32}\right) \text{ s}^{-1} = 2,6 \times 10^{-3} \text{ s}^{-1}$ .

11.13 d) On identifie le nombre d'onde  $2\pi\sigma_2t = \left(\frac{x}{7} - \frac{x}{12}\right)$  donc  $\sigma_2 = \frac{1}{2\pi} \left(\frac{1}{7} - \frac{1}{12}\right) \text{ m}^{-1} = 9,5 \times 10^{-3} \text{ m}^{-1}$ .

11.13 e) Attention : le terme  $\frac{\pi}{2}$  correspond à la valeur de la phase du signal à l'origine (argument de la fonction cosinus pour  $t = 0$  et  $x = 0$ ), il n'entre ni dans l'expression de la pulsation temporelle, ni dans celle de la pulsation spatiale.

Ainsi, on identifie la pulsation temporelle  $\omega_3t = \frac{3\pi}{5}t + \frac{t}{23}$  ; donc  $\omega_3 = \frac{3\pi}{5} + \frac{1}{23} \text{ rad} \cdot \text{s}^{-1} = 1,9 \text{ rad} \cdot \text{s}^{-1}$ .

11.13 f) On identifie la pulsation spatiale  $k_3x = \frac{2\pi\nu_3}{5c}x$  ; donc  $k_3 = \frac{1,9}{5 \times 3 \times 10^8} \text{ rad} \cdot \text{m}^{-1} = 1,3 \times 10^{-9} \text{ rad} \cdot \text{m}^{-1}$ .

11.14 a) La période spatiale de  $\cos\left(2\pi \frac{\nu_1 - \nu_2}{c}x\right)$  est telle que  $\lambda = \frac{c}{\nu_1 - \nu_2}$ .

11.14 b) D'après la figure, on a  $\frac{\lambda}{2} = 0,5000 \text{ mm}$  donc  $\lambda = 1,000 \times 10^{-3} \text{ m}$ . Or, on a vu que  $\lambda = \frac{c}{\nu_1 - \nu_2}$ . Donc,

$$\Delta\nu = \frac{c}{\lambda} = \frac{3 \times 10^8 \text{ m} \cdot \text{s}^{-1}}{1,000 \times 10^{-3} \text{ m}} = 3,000 \times 10^{11} \text{ Hz}.$$

11.14 c) La période spatiale de  $\cos\left(2\pi \frac{\nu_1 + \nu_2}{c}x\right)$  est telle que  $\lambda' = \frac{c}{\nu_1 + \nu_2}$ .

11.14 d) D'après la figure, on a  $8\lambda' = 2,400 \mu\text{m}$  donc  $\lambda' = 3,000 \times 10^{-7} \text{ m}$ . Or, on a vu que  $\lambda' = \frac{c}{\nu_1 + \nu_2}$ . Donc,

$$\nu_0 = \frac{c}{2\lambda'} = \frac{3 \times 10^8 \text{ m} \cdot \text{s}^{-1}}{2 \times 3,000 \times 10^{-7} \text{ m}} = 5,000 \times 10^{14} \text{ Hz}.$$

11.14 e) En sommant  $2\nu_0$  et  $\Delta\nu$ , il vient que  $2\nu_0 + \Delta\nu = \nu_1 + \nu_2 + \nu_1 - \nu_2 = 2\nu_1$ , donc  $\nu_1 = \nu_0 + \frac{\Delta\nu}{2}$  et donc

$$\lambda_1 = \frac{c}{\nu_1} = \frac{3 \times 10^8 \text{ m} \cdot \text{s}^{-1}}{5,00 \times 10^{14} \text{ Hz} + \frac{3,00 \times 10^{11} \text{ Hz}}{2}} = 599,8 \text{ nm}.$$

**11.14 f)** En soustrayant  $\Delta\nu$  à  $2\nu_0$ , il vient que  $2\nu_0 - \Delta\nu = \nu_1 + \nu_2 - \nu_1 + \nu_2 = 2\nu_2$ , donc  $\nu_2 = \nu_0 - \frac{\Delta\nu}{2}$  et donc

$$\lambda_2 = \frac{c}{\nu_2} = \frac{3 \times 10^8 \text{ m} \cdot \text{s}^{-1}}{5,00 \times 10^{14} \text{ Hz} - \frac{3,00 \times 10^{11} \text{ Hz}}{2}} = 600,2 \text{ nm}.$$

**11.15 a)** La figure est dans le plan  $(zOx)$ . L'ensemble des points d'éclairement constant correspond à des franges linéaires de direction parallèle à l'axe  $(Oz)$ . Autrement dit, les ensembles de points isophases ne dépendent ni de la coordonnée  $y$  (figure plane) ni de la coordonnée  $z$  (orientation des franges), donc uniquement de la coordonnée  $x$ . De manière analogue, on peut dire qu'il n'y a aucune variation d'éclairement selon la coordonnée  $z$ . Réponse (a).

**11.15 b)** La figure est dans le plan  $(yOz)$ . L'ensemble des points d'éclairement constant correspond à des franges linéaires de direction parallèle à l'axe  $(Oz)$ . Autrement dit, les ensembles de points isophases ne dépendent ni de la coordonnée  $x$  (figure plane) ni de la coordonnée  $z$  (orientation des franges), donc uniquement de la coordonnée  $y$ . De manière analogue, on peut dire qu'il n'y a aucune variation d'éclairement selon la coordonnée  $z$ . Réponse (b).

**11.15 c)** La figure est dans le plan  $(zOy)$ . L'ensemble des points d'éclairement constant correspond à des franges circulaires. Les ensembles de points d'éclairement constant sont définis pour une valeur constante de distance au centre de la figure  $r = \sqrt{y^2 + z^2}$  issu du point O. Réponse (c).

**11.16 a)** On a  $\tan(\theta) = \frac{r}{f'}$ ; donc  $r = f' \tan(\theta)$ .

**11.16 b)** On a  $p_0 = \frac{2ne \cos(0)}{\lambda} = \frac{2ne}{\lambda}$ . Donc,  $p_0 = \frac{2 \times 1,00 \times 500 \times 10^{-6}}{6,43 \times 10^{-7}} = 1555,2$ .

**11.16 d)** Lorsque  $\theta$  augmente,  $\cos(\theta)$  diminue donc  $p$  diminue aussi. Le premier anneau brillant correspond au premier entier de  $p$  plus petit que  $p_0 = 1555,2$ . Donc  $p_1 = 1555$ .

**11.16 e)** On a  $r_1 = f' \tan(\theta_1) = f' \tan\left(\arccos\left(\frac{p_1 \lambda}{2ne}\right)\right)$ . Donc,

$$r_1 = 50,0 \times 10^{-2} \tan\left(\arccos\left(\frac{1555 \times 643 \times 10^{-9}}{2 \times 1,00 \times 500 \times 10^{-6}}\right)\right) = 8,22 \text{ mm}.$$

**11.16 f)** Pour voir le deuxième anneau brillant, il faut que  $\theta$  augmente encore donc que  $p$  diminue d'un entier : on a donc  $p_2 = 1554$ .

**11.16 g)** On a  $r_2 = f' \tan(\theta_2) = f' \tan\left(\arccos\left(\frac{p_2 \lambda}{2ne}\right)\right)$ . Donc,

$$r_2 = 50,0 \times 10^{-2} \tan\left(\arccos\left(\frac{1554 \times 643 \times 10^{-9}}{2 \times 1,00 \times 500 \times 10^{-6}}\right)\right) = 19,7 \text{ mm}.$$

**11.16 h)** On a  $p_{10} = 1555 - 9 = 1546$  et  $r_{10} = f' \tan(\theta_{10}) = f' \tan\left(\arccos\left(\frac{p_{10} \lambda}{2ne}\right)\right)$ . Donc,

$$r_{10} = 50,0 \times 10^{-2} \tan\left(\arccos\left(\frac{1546 \times 643 \times 10^{-9}}{2 \times 1,00 \times 500 \times 10^{-6}}\right)\right) = 5,47 \text{ cm}.$$

## Fiche n° 12. Outils mathématiques pour la diffusion

### Réponses

- 12.1 a) .....  $abc$
- 12.1 b) .....  $abc \sin(\alpha)$
- 12.1 c) .....  $\pi r^2 h$
- 12.1 d) .....  $\pi r^2 h \cos(\alpha)$
- 12.2 a) ..... négatif
- 12.2 b) ..... positif
- 12.2 c) ..... (b)
- 12.2 d) ..... (b)
- 12.2 e) ..... (a)
- 12.2 f) ..... (c)
- 12.3 a) .....  $\frac{2\pi r h}{3}$
- 12.3 b) .....  $\frac{\pi r^2}{3}$
- 12.3 c) ..... (c)
- 12.4 a) ..... (c)
- 12.4 b) ..... (b)
- 12.4 c) .....  $\pi R^2 + 2\frac{V}{R}$
- 12.4 d) ..... (b)
- 12.4 e) ..... (a) et (c)
- 12.5 a) .....  $n(x, t) = j_0 x + n_0$
- 12.5 b) .....  $n(x, t) = \frac{n_1 - n_0}{L} x + n_0$
- 12.5 c) .....  $\frac{p}{2} x(x - L) + n_0$
- 12.6 a) .....  $n(x, t) = n_0 \exp\left(\frac{t}{\tau}\right)$
- 12.6 b) .....  $n(t) = \frac{n_0}{1 + \frac{n_0 t}{n_c \tau}}$
- 12.6 c) .....  $n_0 \left(1 - \frac{x}{L}\right) \exp\left(-\frac{t}{\tau}\right) + p\tau \left(1 - \exp\left(-\frac{t}{\tau}\right)\right)$

### Corrigés

**12.2 )** Le point B est au niveau d'un col de la fonction  $f(x, y)$ . À partir du point B, en se déplaçant dans la direction  $y$  croissant en gardant  $x$  fixe à  $x = x_B$ , la quantité  $f(x_B, y)$  décroît de plus en plus. La dérivée seconde par rapport à  $y$  est donc négative. De même, en se déplaçant dans la direction  $x$  croissant à  $y$  fixe à  $y = y_B$ , la quantité  $f(x, y_B)$  croît de plus en plus. La dérivée seconde par rapport à  $x$  est donc positive.

**12.3 c)** On a les équivalences suivantes :

$$\frac{\partial V}{\partial h} > \frac{\partial V}{\partial r} \iff \frac{\pi r^2}{3} > \frac{2\pi r h}{3} \iff r > 2h.$$

**12.4 a)** Il faut sommer la surface du fond de la casserole et la surface latérale.

**12.4 b)** C'est le volume d'un cylindre de rayon  $R$  et de hauteur  $H$ .

12.4 c) Il faut utiliser les deux résultats précédents.

12.4 d) On fait varier le rayon  $R$  pour une valeur de  $V$  fixée à  $V_0$ . La notation  $\frac{dS}{dR}(R, V_0)$  n'est pas adéquate, la notation « d » étant réservée aux fonctions d'une seule variable.

12.4 e) Pour minimiser la surface on cherche :  $\left(\frac{\partial S}{\partial R}\right)_{V_0} = 2\pi R + 2V\left(-\frac{1}{R^2}\right) = 0$ , soit  $V = \pi R^3$ . Or  $V = \pi R^2 H$ , on en déduit donc  $R = H$  par identification. On peut vérifier dans sa cuisine que cela correspond bien au choix « standard » des industriels.

12.5 c) Par intégration successives on obtient :

$$\frac{\partial n}{\partial x}(x, t) = px + A \quad \text{donc} \quad n(x, t) = \frac{px^2}{2} + Ax + B.$$

Les conditions aux limites imposent :

$$\begin{cases} n(0, t) = B & = n_0 \\ n(L, t) = \frac{pL^2}{2} + AL + B & = n_0 \end{cases} \quad \text{donc} \quad \begin{cases} B & = n_0 \\ A & = -\frac{pL}{2}. \end{cases}$$

La fonction  $n$  s'écrit alors :

$$n(x, t) = \frac{px^2}{2} - \frac{pL}{2}x + n_0 = \frac{p}{2}x(x - L) + n_0.$$

12.6 b) On a une fonction qui dépend que de  $t$ . On sépare les variables, en écrivant

$$-\frac{dn}{n^2} = \frac{dt}{n_c\tau} \quad \text{donc} \quad d\left(\frac{1}{n}\right) = d\left(\frac{t}{n_c\tau}\right).$$

On intègre :

$$\frac{1}{n(t)} - \frac{1}{n_0} = \frac{t}{n_c\tau} \quad \text{donc} \quad n(t) = \frac{n_0}{1 + \frac{n_0 t}{n_c\tau}}.$$

12.6 c) On a une équation différentielle sur  $t$  :  $\frac{\partial n}{\partial t}(x, t) + \frac{n(x, t)}{\tau} = p$ . C'est une équation linéaire dont la solution est de la forme  $n(x, t) = A \exp\left(-\frac{t}{\tau}\right) + p\tau$ . La condition initiale impose  $n(x, 0) = n_0\left(1 - \frac{x}{L}\right)$ . On a donc

$$A = n_0\left(1 - \frac{x}{L}\right) - p\tau = A(x).$$

La solution est donc de la forme :

$$n(x, t) = n_0\left(1 - \frac{x}{L}\right) \exp\left(-\frac{t}{\tau}\right) + p\tau\left(1 - \exp\left(-\frac{t}{\tau}\right)\right).$$



# Fiche n° 13. Diffusion thermique

## Réponses

- 13.1 a) .....  d
- 13.1 b) .....  b
- 13.1 c) .....  c
- 13.1 d) .....  $dU = \mu c \frac{\partial T}{\partial t} S dx dt$
- 13.1 e) .....  b
- 13.1 f) .....  a
- 13.1 g) .....  c
- 13.1 h) .....  $-\frac{\partial j_Q}{\partial x} S dx dt$
- 13.2 a) .....  a
- 13.2 b) .....  a
- 13.2 c) .....  b
- 13.3 a) .....  $\sqrt{2}$
- 13.3 b) .....  $1/\sqrt{2}$
- 13.3 c) ..... 4
- 13.3 d) ..... 2
- 13.4 a) .....  a
- 13.4 b) .....  $2 \times 10^{-3}$
- 13.4 c) ..... Oui
- 13.5 a) .....  $T(x) = \frac{T_2 - T_1}{L} x + T_1$
- 13.5 b) .....  b et  c
- 13.5 c) .....  a
- 13.6 a) .....  b
- 13.6 b) .....  c
- 13.6 c) .....  d
- 13.6 d) .....  a
- 13.7 a) .....  a
- 13.7 b) .....  c
- 13.7 c) .....  c
- 13.7 d) ..... en série
- 13.7 e) .....  $1,1 \times 10^3 \text{ W}$
- 13.8 .....  $\frac{T_1 + R_{th} h_2 S T_2}{1 + R_{th} h_2 S}$
- 13.9 a) .....  $4,5 \times 10^{-2} \text{ K} \cdot \text{W}^{-1}$
- 13.9 b) .....  $0,53 \text{ K} \cdot \text{W}^{-1}$
- 13.9 c) .....  c
- 13.9 d) .....  $3,2 \times 10^{-1} \text{ K} \cdot \text{W}^{-1}$
- 13.9 e) ..... 47,5 W
- 13.10 a) ..... 0,7 m
- 13.10 b) ..... 0,8 m
- 13.10 c) ..... (cub.,  c) (cyl.,  a) (sph.,  b)
- 13.10 d) ..... Sphérique
- 13.10 e) ..... 11 °C
- 13.11 .....  c
- 13.12 a) ..  $\frac{d\theta_i}{dt} + \frac{\theta_i}{R_{th} C_{th}} = \frac{1}{R_{th} C_{th}} (R_{th} \phi_i + \theta_e)$
- 13.12 b) .....  $\frac{1}{R_{th}} (\theta_{i0} - \theta_{e0} - \theta_{e1} \cos(\omega t))$
- 13.13 a) .....  a
- 13.13 b) .....  a

13.14 ..... Les bottes de paille

13.15 a) .....  $dU = \mu c \frac{\partial T}{\partial t} S dx dt$

13.15 b) .....  $\lambda \frac{\partial^2 T}{\partial x^2} S dx dt$

13.15 c) .....  $p_{\text{prod}} S dx dt$

13.15 d) .....  $\mu c \frac{\partial T}{\partial t} = \lambda \frac{\partial^2 T}{\partial x^2} + p_{\text{prod}}$

13.16 a) .....  $dU = \mu c \frac{\partial T}{\partial t} S dx dt$

13.16 b) .....  $\lambda \frac{\partial^2 T}{\partial x^2} S dx dt$

13.16 c) ..... (c)

13.16 d) ...  $\mu c \frac{\partial T}{\partial t} = \lambda \frac{\partial^2 T}{\partial x^2} - h \frac{p}{S} (T(x, t) - T_{\text{ext}})$

13.17 a) ..... (b)

13.17 b) .  $\frac{R_{\text{th}} h_1 S + \frac{h_1}{h_2}}{1 + \frac{h_1}{h_2} + R_{\text{th}} h_1 S} T_1 + \frac{1}{1 + \frac{h_1}{h_2} + R_{\text{th}} h_1 S} T_2$

13.17 c) ..  $\frac{1}{1 + \frac{h_2}{h_1} + R_{\text{th}} h_2 S} T_1 + \frac{\frac{h_2}{h_1} + R_{\text{th}} h_2 S}{1 + \frac{h_2}{h_1} + R_{\text{th}} h_2 S} T_2$

13.18 a) .....  $dU = 0$

13.18 b) .....  $\delta Q = 0$

13.18 c) ..... (b)

13.18 d) .....  $\frac{dT}{dr} = -\frac{\Phi_0}{2\pi\lambda h} \frac{1}{r}$

13.19 a) .....  $T(r) = T_1 + \frac{\Phi_0}{2\pi\lambda h} \ln\left(\frac{r_1}{r}\right)$

13.19 b) .....  $T(r) = T_1 + (T_2 - T_1) \frac{\ln\left(\frac{r_1}{r}\right)}{\ln\left(\frac{r_1}{r_2}\right)}$

13.20 a) ..... (c)

13.20 b) ..... (b)

13.20 c) .....  $\frac{\lambda dz r d\theta}{dr}$

13.20 d) ..... (b)

13.20 e) .....  $\frac{2\pi\lambda r dz}{dr}$

13.20 f) ..... (b)

13.20 g) .....  $\frac{2\pi\lambda L r}{dr}$

13.20 h) ..... (a)

13.20 i) .....  $\frac{\ln\left(\frac{r_2}{r_1}\right)}{2\pi\lambda L}$

13.20 j) .....  $\frac{2\pi\lambda L}{\ln(r_2/r_1)} (T_a - T_e)$

13.21 a) ..... 0

13.21 b) ..... 0

13.21 c) ..... (b)

13.21 d) .....  $\frac{dT}{dr} = -\frac{\Phi_0}{4\pi\lambda} \frac{1}{r^2}$

13.22 a) .....  $T_1 + \frac{\Phi_0}{4\pi\lambda} \left(\frac{1}{r} - \frac{1}{r_1}\right)$

13.22 b) .....  $T(r) = T_1 + (T_2 - T_1) \frac{\frac{1}{r} - \frac{1}{r_1}}{\frac{1}{r_2} - \frac{1}{r_1}}$

## Corrigés

**13.1 a)** On utilise l'analyse dimensionnelle.

**13.1 c)** Il faut utiliser la première loi de Joule, en supposant la tranche suffisamment fine pour considérer la température uniforme. À l'instant  $t$ , l'énergie interne de l'élément de volume de section  $S$  et de longueur  $dx$  peut s'écrire :  $U(t) = \mu(S dx)cT(x, t)$ .

**13.1 d)** On exprime l'énergie interne à l'instant  $t + dt$  :  $U(t + dt) = \mu c S dx T(t + dt)$  puis on calcule la différence  $dU = U(t + dt) - U(t)$ .

**13.1 e)** On considère  $dt$  suffisamment court pour considérer  $\vec{j}_Q$  constant entre  $t$  et  $t + dt$ . Le vecteur  $\vec{S}$  entrant est orienté suivant  $\vec{e}_x$ .

**13.1 f)** Attention aux conventions de signe ! Le vecteur  $\vec{S}$  entrant est orienté dans le sens  $-\vec{e}_x$ .

**13.1 g)** Il n'y a pas de transfert thermique au niveau de la surface latérale du fait des orientations réciproques de  $\vec{j}_Q$  et de la surface considérée.

**13.1 h)** On a  $j_Q(x, t)S dt - j_Q(x + dx, t)S dt = -\frac{\partial j_Q}{\partial x} S dt dx$ . On peut vérifier qualitativement le signe pour éviter les étourderies.

**13.2 a)** La situation est unidimensionnelle : la température ne dépend spatialement que de  $x$ .

**13.2 b)** Le courant thermique  $\vec{j}_Q = -\lambda \overrightarrow{\text{grad}} T$  est donc dirigé seulement selon  $\vec{e}_x$ .

**13.2 c)** La variation d'énergie interne pendant  $dt$  est  $dU = \mu(S dx)c \frac{\partial T}{\partial t} dt$ . Cette variation est due au flux thermique  $\Phi dt = j_Q(x, t)S dt - j_Q(x + dx, t)S dt = -\frac{\partial j_Q}{\partial x} S dt dx$ . Comme  $j_Q = -\lambda \frac{\partial T}{\partial x}$  on a :

$$\mu(S dx)c \frac{\partial T}{\partial t} dt = \lambda \frac{\partial^2 T}{\partial x^2} S dt dx$$

qui se simplifie en  $\frac{\partial T}{\partial t} = D \frac{\partial^2 T}{\partial x^2}$  avec  $D = \frac{\lambda}{\mu c}$ . On vérifie donc l'équation de diffusion libre à une dimension sans source.

**13.4 a)** Lorsque  $Fo \ll 1$ , il ne s'est pas écoulé suffisamment de temps pour que la diffusion ait lieu : le processus peut être considéré comme adiabatique.

Lorsque  $Fo \gg 1$ , suffisamment de temps s'est écoulé pour que la diffusion ait eu lieu.

**13.4 c)** Le nombre de Fourier vaut :

$$Fo = \frac{13 \text{ W} \cdot \text{m}^{-1} \cdot \text{K}^{-1} \times 1,5 \times 10^{-2} \text{ s}}{7800 \text{ kg} \cdot \text{m}^{-3} \times 480 \text{ J} \cdot \text{K}^{-1} \cdot \text{kg}^{-1} \times (5 \times 10^{-3} \text{ m})^2} = 2 \times 10^{-3} \ll 1.$$

L'hypothèse d'une transformation adiabatique est donc valide.

**13.5 a)** L'équation de la diffusion devient  $\frac{\partial^2 T}{\partial x^2} = 0$  soit  $T(x) = Ax + B$ . On utilise enfin les conditions limites  $T(0) = T_1$  et  $T(L) = T_2$ . Le profil de température est donc linéaire dans la barre en régime permanent.

**13.5 b)** L'hypothèse de barre homogène permet d'affirmer que la conductivité est identique dans toute la barre. L'hypothèse de régime permanent permet d'affirmer que  $\vec{j}_Q$  est à flux conservatif. L'hypothèse des parois latérales calorifugées permet d'affirmer que le flux n'est orienté que suivant  $\vec{e}_x$ .

**13.5 c)** On a  $\Phi(x) = \iint_S \vec{j}_Q(x) \cdot \vec{dS} = j(x)S = -\lambda S \frac{dT}{dx} = \frac{\lambda S}{L}(T_1 - T_2)$ .

**13.6 a)** La contrainte est due à l'inhomogénéité spatiale d'une grandeur intensive.

**13.6 b)** La réponse correspond au flux d'une grandeur, le processus tendant à diminuer l'inhomogénéité spatiale liée à la contrainte.

**13.6 c)** Le modèle proposé correspond donc au cas où l'on fait l'hypothèse d'une réponse linéaire du système.

**13.6 d)** C'est donc une propriété intrinsèque du milieu.

**13.7 a)** On a  $R_{th,v} = \frac{L}{\lambda S} = \frac{5 \times 10^{-3} \text{ m}}{1 \text{ W} \cdot \text{K}^{-1} \cdot \text{m}^{-1} \times 1 \text{ m}^2} = 5 \times 10^{-3} \text{ K} \cdot \text{W}^{-1}$ .

**13.7 b)** On a  $\Delta T = 19^\circ\text{C} - 9^\circ\text{C} = 10^\circ\text{C}$ . Le flux  $\Phi$  vaut donc  $\Phi = \frac{\Delta T}{R_{th}} = \frac{10}{5 \times 10^{-3}} \text{ W} = 2 \times 10^3 \text{ W}$ .

**13.7 c)** On a  $\phi = \frac{T_1 - T(0)}{R_{th,i}} = h_1 S(T_1 - T(0))$ ,  $\phi = \frac{T(L) - T_2}{R_{th,i}} = h_2 S(T(L) - T_2)$ .

**13.7 d)** Les couches sont traversées par le même flux thermique : ainsi, les résistances thermiques sont en série.

**13.7 e)** On a  $\Phi' = \frac{1}{R'_{th}}(T_1 - T_2)$ . Les résistances thermiques sont en série ; donc

$$R'_{th} = R_{th} + R_{th,1} + R_{th,2} = \frac{L}{\lambda S} + 2 \times \frac{1}{hS} = 9 \times 10^{-3} \text{ K} \cdot \text{W}^{-1}.$$

On a donc  $\Phi' = \frac{10 \text{ K}}{9 \times 10^{-3} \text{ K} \cdot \text{W}^{-1}} \approx 1,1 \times 10^3 \text{ W}$ . Les pertes sont presque deux fois plus faibles que dans le cas du premier modèle : des conditions limites peu réalistes peuvent conduire à surestimer fortement les pertes thermiques.

**13.8** Par substitution, on élimine  $\phi$  : on a  $T_1 - T(L) = R_{th} h_2 S(T(L) - T_2)$  puis on isole  $T(L)$ . Ainsi,

$$T(L) = \frac{T_1 + R_{th} h_2 S T_2}{1 + R_{th} h_2 S}.$$

**13.9 a)** La surface du mur en brique est de  $7,5 \text{ m}^2 - 1,2 \text{ m}^2 = 6,3 \text{ m}^2$ . La résistance de la brique est

$$R_b = \frac{e_b}{\lambda_b (S_{tot} - S_f)} = 4,53 \times 10^{-2} \text{ K} \cdot \text{W}^{-1}.$$

**13.9 b)** Celle de l'isolant est  $R_i = \frac{e_i}{\lambda_i (S_{tot} - S_f)} = 5,29 \times 10^{-1} \text{ K} \cdot \text{W}^{-1}$ .

**13.9 d)** La résistance de la brique et de l'isolant sont en série; d'où  $R_{\text{mur}} = R_b + R_i = 5,74 \times 10^{-1} \text{ K} \cdot \text{W}^{-1}$ .

Les résistances  $R_{\text{mur}}$  et  $R_f$  sont en parallèle. La résistance équivalente du mur est alors :

$$R_{\text{eq}} = \frac{R_{\text{mur}} R_f}{R_{\text{mur}} + R_f} = 3,16 \times 10^{-1} \text{ K} \cdot \text{W}^{-1}.$$

**13.9 e)** Pour maintenir cet écart, le système de chauffage doit fournir un flux thermique  $\phi$  tel que

$$\phi = \frac{\Delta T}{R_{\text{eq}}} = \frac{15 \text{ K}}{3,16 \times 10^{-1} \text{ K} \cdot \text{W}^{-1}} = 47,5 \text{ W}.$$

**13.10 c)** Il faut calculer les surfaces d'échange pour les différents igloo pour identifier le dénominateur des intégrales. En notant  $r$  la variable d'espace, on a  $S_{\text{cub.}} = 5r^2$ ,  $S_{\text{cyl.}} = \pi r^2 + 2\pi r \times r = 3\pi r^2$  et  $S_{\text{sph.}} = 2\pi r^2$ .

**13.10 d)** Toutes les résistances thermiques sont de la forme  $R_{\text{th}} = \int_a^{a+e} \frac{dr}{\alpha r^2} = \frac{1}{\alpha} \left[ \frac{1}{a} - \frac{1}{a+e} \right] = \frac{e}{\alpha a(a+e)}$ .

On peut alors facilement calculer les résistances thermiques pour les différents igloo en identifiant pour chacun la valeur de  $\alpha$  et  $a$ . D'où,

$$R_{\text{th, cub.}} = \frac{0,1 \text{ m}}{5 \times 0,2 \text{ W} \cdot \text{m}^{-1} \cdot \text{K}^{-1} \times 1 \text{ m} \times 1,1 \text{ m}} = \frac{1}{55 \times 0,2} \text{ K} \cdot \text{W}^{-1} = \frac{1}{11} \text{ K} \cdot \text{W}^{-1}$$

$$R_{\text{th, cyl.}} = \frac{0,1 \text{ m}}{3\pi \times 0,2 \text{ W} \cdot \text{m}^{-1} \cdot \text{K}^{-1} \times 0,7 \text{ m} \times 0,8 \text{ m}} = \frac{1}{52,1 \times 0,2} \text{ K} \cdot \text{W}^{-1} = \frac{1}{10,4} \text{ K} \cdot \text{W}^{-1}$$

$$R_{\text{th, sph.}} = \frac{0,1 \text{ m}}{2\pi \times 0,2 \text{ W} \cdot \text{m}^{-1} \cdot \text{K}^{-1} \times 0,8 \text{ m} \times 0,9 \text{ m}} = \frac{1}{44,6 \times 0,2} \text{ K} \cdot \text{W}^{-1} = \frac{1}{8,9} \text{ K} \cdot \text{W}^{-1}.$$

**13.10 e)** On a  $\Delta T = R_{\text{th,C}} \phi = \frac{100 \text{ W}}{8,9 \text{ W} \cdot \text{K}^{-1}} = 11,2^\circ \text{C}$ .

**13.12 a)** La loi des nœuds en terme de potentiels appliquée en N donne :

$$C_{\text{th}} \frac{d\theta_i}{dt} = \phi_i + \frac{1}{R_{\text{th}}} (\theta_e - \theta_i) \quad \text{donc} \quad \frac{d\theta_i}{dt} + \frac{\theta_i}{R_{\text{th}} C_{\text{th}}} = \frac{1}{R_{\text{th}} C_{\text{th}}} (R_{\text{th}} \phi_i + \theta_e).$$

**13.12 b)** Si  $\theta_i$  est une constante, l'équation différentielle se simplifie en :  $\phi_i(t) = \frac{1}{R_{\text{th}}} (\theta_{i0} - \theta_{e0} - \theta_{e1} \cos(\omega t))$ .

Le chauffage est donc en opposition de phase avec la température extérieure.

**13.13 b)** Les résistances thermiques des isolants (a) et (b) s'écrivent respectivement :

$$R_a = \frac{1}{2\pi \lambda_a L} \ln\left(\frac{5}{1}\right) = \frac{1}{2\pi L} \left( \frac{1}{\lambda_a} \ln(5) \right) \quad \text{et} \quad R_b = \frac{1}{2\pi \lambda_b L} \ln\left(\frac{7}{5}\right) = \frac{1}{2\pi L} \left( \frac{1}{\lambda_b} [\ln(7) - \ln(5)] \right).$$

Les deux résistances étant en série et comme on cherche la température à l'interface entre ces deux isolants, la formule du pont diviseur de tension appliqué au potentiel donne :

$$\theta_M = 20^\circ \text{C} + \frac{R_b}{R_a + R_b} \times 80^\circ \text{C} = 20^\circ \text{C} + \frac{80^\circ \text{C}}{1 + \frac{\lambda_b}{\lambda_a} \frac{\ln(5)}{\ln(7) - \ln(5)}} = 20^\circ \text{C} + \frac{80^\circ \text{C}}{1 + 3 \frac{1}{\frac{\ln(7)}{\ln(5)} - 1}}$$

$$= 20^\circ \text{C} + \frac{80^\circ \text{C}}{1 + 3 \frac{1}{\frac{\ln(7)}{\ln(5)} - 1}} = 20^\circ \text{C} + \frac{80^\circ \text{C}}{1 + \frac{1}{0,07}} = 20^\circ \text{C} + \frac{7 \times 80^\circ \text{C}}{107} \approx 25,2^\circ \text{C}.$$

**13.14**

Isolants	Épaisseur pour $r = 7$	Déphasage (pour $r = 7$ )	Énergie grise surfacique
	$e$ (cm)	$\Delta\tau$	$\mathcal{E}_S$ (kWh · m <sup>-2</sup> )
Fibres de bois	26	17 h 00	78
Bottes de paille	36	14 h 30	3,6
Laines minérales	21	4 h 30	50
Vermiculite	35	19 h 20	84
Polystyrène expansé	22	4 h 40	140
Polyuréthane	16	4 h 30	160

**13.15 a)** Il faut utiliser la première loi de Joule, en supposant la tranche suffisamment fine pour considérer la température uniforme. À l'instant  $t$ , l'énergie interne de l'élément de volume de section  $S$  et de longueur  $dx$  peut s'écrire :  $U(t) = \mu(S dx)cT(x, t)$ .

**13.15 b)** Le transfert reçu en  $x$  est  $\vec{j}_Q(x, t) \cdot S\vec{e}_x dt$ . Le transfert reçu en  $x + dx$  est  $\vec{j}_Q(x + dx, t) \cdot S(-\vec{e}_x) dt$ , le signe étant dû à l'orientation de  $\vec{S}$ . Le flux total reçu est la somme des flux précédents :

$$\Phi(x + dx, t) = [j_Q(x, t) - j_Q(x + dx, t)]S dt = -\frac{\partial j_Q}{\partial x}(x + dx, t) dx S dt = \lambda \frac{\partial^2 T}{\partial x^2} S dx dt.$$

**13.15 c)** L'énergie produite est proportionnelle au volume de la tranche et vaut  $p_{\text{prod}} S dx dt$ .

**13.16 a)** Raisonnement identique à celui de l'entraînement précédent.

**13.16 b)** Raisonnement identique à celui de l'entraînement précédent.

**13.16 d)** La surface latérale vaut  $p dx$  : attention à l'algébrisation.

La variation d'énergie interne de l'élément de volume de section  $S$  et de longueur  $dx$  est due aux flux thermiques conductifs suivant l'axe ( $Ox$ ) et conducto-convectif en radial :

$$dU = \mu c \frac{\partial T}{\partial t} S dx dt = \lambda \frac{\partial^2 T}{\partial x^2} S dx dt - h(T(x, t) - T_{\text{ext}})p dx dt$$

soit  $\mu c \frac{\partial T}{\partial t} = \lambda \frac{\partial^2 T}{\partial x^2} - h \frac{p}{S} (T(x, t) - T_{\text{ext}})$ .

**13.17 a)** Le premier graphique correspond au premier modèle ne prenant pas en compte les pertes conducto-convectives.

**13.17 b)** À partir de la première et la troisième ligne du système on obtient :

$$h_1 S (T_1 - T(0)) = h_2 S (T(L) - T_2) \quad \text{donc} \quad T(L) = \frac{h_1}{h_2} (T_1 - T(0)) + T_2.$$

En injectant cette expression dans la seconde équation, on trouve :

$$T(0) \left[ 1 + \frac{h_1}{h_2} \right] - \left( \frac{h_1}{h_2} T_1 + T_2 \right) = R_{\text{th}} h_1 S (T_1 - T(0)) \quad \text{donc} \quad T(0) \left[ 1 + \frac{h_1}{h_2} + R_{\text{th}} h_1 S \right] = \left( R_{\text{th}} h_1 S + \frac{h_1}{h_2} \right) T_1 + T_2$$

$$\text{donc} \quad T(0) = \frac{R_{\text{th}} h_1 S + \frac{h_1}{h_2}}{1 + \frac{h_1}{h_2} + R_{\text{th}} h_1 S} T_1 + \frac{1}{1 + \frac{h_1}{h_2} + R_{\text{th}} h_1 S} T_2.$$

**13.17 c)** On fait de même pour obtenir  $T(L)$  : à partir de la 1<sup>e</sup> et la 3<sup>e</sup> ligne on a :  $T(0) = T_1 - \frac{h_2}{h_1}(T(L) - T_2)$ .  
On injecte dans la seconde équation :

$$T_1 + \frac{h_2}{h_1}T_2 - \left[1 + \frac{h_2}{h_1}\right]T(L) = R_{th}h_2S(T(L) - T_2)$$

soit :

$$T(L) = \frac{1}{1 + \frac{h_2}{h_1} + R_{th}h_2S}T_1 + \frac{\frac{h_2}{h_1} + R_{th}h_2S}{1 + \frac{h_2}{h_1} + R_{th}h_2S}T_2.$$

**13.18 a)** La quantité  $U$  est une fonction d'état. Comme on est en régime permanent, l'énergie interne du système fermé considéré est donc constante.

**13.18 b)** En appliquant le premier principe, on a  $dU = \delta W + \delta Q$ . Ici, il n'y a pas de travail fourni au système, donc  $\delta Q = 0$ .

**13.18 c)** On a  $0 = \delta Q = (\Phi(r) - \Phi(r + dr)) dt$ .

**13.18 d)** La loi de Fourier donne  $-\lambda \frac{dT}{dr} 2\pi r h = \Phi_0$ .

**13.19 a)** On a  $\int_{T_1}^{T_r} dT = T(r) - T_1 = \int_{r_1}^r -\frac{\Phi_0}{2\pi\lambda h} \frac{dr}{r} = -\frac{\Phi_0}{2\pi\lambda h} \ln\left(\frac{r}{r_1}\right)$ .

La valeur de  $\Phi_0$  peut être imposée par continuité du flux par un autre processus physique (transfert conducto-convectif par exemple) ; cela permet alors de mesurer la température sur une isotherme, par exemple  $T_2$  (souvent une température de surface).

**13.19 b)** On a  $T_2 = T_1 + \frac{\Phi_0}{2\pi\lambda h} \ln\left(\frac{r_1}{r_2}\right)$  et donc  $\Phi_0 = (T_2 - T_1) \frac{2\pi\lambda h}{\ln\left(\frac{r_1}{r_2}\right)}$ . Dans le cas où l'on impose les températures

$T_1$  et  $T_2$ , on peut à partir du champ de température déterminé ici calculer  $\Phi_0$ , ce qui permet alors d'évaluer par exemple des pertes énergétiques.

**13.20 a)** Le système est invariant par rotation autour de l'axe  $(O, \vec{e}_z)$  et par translation le long du même axe.

**13.20 b)** La variation de température étant uniquement radiale le flux thermique sera selon cette direction. Sinon, on peut aussi utiliser la loi de Fourier sachant que le gradient s'écrit

$$\vec{\text{grad}}(f) = \frac{\partial f}{\partial r} \vec{e}_r + \frac{1}{r} \frac{\partial f}{\partial \theta} \vec{e}_\theta + \frac{\partial f}{\partial z} \vec{e}_z$$

en cylindrique.

**13.20 c)** On a  $\delta^3 G_{th} = \frac{\lambda \delta S}{\delta L} = \frac{\lambda dz r d\theta}{dr}$ . On utilise l'expression précédente de la conductance.

**13.20 d)** Les isothermes sont communes aux « bornes » de tous les éléments de volumes.

**13.20 e)** On a  $\delta^2 G_{th} = \sum \delta^3 G_{th} = \int_0^{2\pi} \frac{\lambda dz r d\theta}{dr} = \frac{2\pi\lambda r dz}{dr}$ .

**13.20 f)** Les isothermes sont communes aux « bornes » de tous les éléments de volumes.

**13.20 g)** On a  $\delta G_{\text{th}} = \sum \delta^2 G_{\text{th}} = \int_0^L \frac{2\pi\lambda r dz}{dr} = \frac{2\pi\lambda L r}{dr}$ .

**13.20 h)** Les cylindres évidés sont traversés par des flux identiques.

**13.20 i)** On a  $R_{\text{th}} = \sum \delta R_{\text{th}} = \sum \frac{1}{\delta G_{\text{th}}} = \int_{r_1}^{r_2} \frac{dr}{2\pi\lambda L r}$ .

**13.20 j)** On a  $T_a - T_e = R_{\text{th}}\Phi_0 = \frac{1}{2\pi\lambda L} \ln\left(\frac{r_2}{r_1}\right)\Phi_0$ .

**13.21 a)** La quantité  $U$  est une fonction d'état. Comme on est en régime permanent, l'énergie interne du système fermé considéré est donc constante.

**13.21 b)** On peut appliquer le premier principe :  $dU = \delta W + \delta Q$ . Ici, il n'y a pas de travail fourni au système ; donc, on a  $\delta Q = 0$ .

**13.21 c)** On a  $0 = \delta Q = (\Phi(r) - \Phi(r + dr)) dt$ .

**13.21 d)** La loi de Fourier donne  $-\lambda \frac{dT}{dr} 4\pi r^2 = \Phi_0$ .

**13.22 a)** On a  $\int_{T_1}^{T_r} dT = T(r) - T_1 = \int_{r_1}^r -\frac{\Phi_0}{4\pi\lambda} \frac{dr}{r^2} = \frac{\Phi_0}{2\pi\lambda} \left(\frac{1}{r} - \frac{1}{r_1}\right)$ .

**13.22 b)** On a  $T_2 = T_1 + \frac{\Phi_0}{4\pi\lambda} \left(\frac{1}{r_2} - \frac{1}{r_1}\right)$ , donc  $\Phi_0 = (T_2 - T_1) \frac{4\pi\lambda}{\left(\frac{1}{r_2} - \frac{1}{r_1}\right)}$ . Dans le cas où l'on impose les températures  $T_1$  et  $T_2$  on peut à partir du champ de température déterminé ici calculer  $\Phi_0$ , ce qui permet alors d'évaluer par exemple des pertes énergétiques.



# Fiche n° 14. Transferts thermiques

## Réponses

- 14.1 a) ..... positif
- 14.1 b) ..... négatif
- 14.1 c) ..... nul
- 14.2 a) ..... (b) et (e)
- 14.2 b) .....  $60 \text{ W} \cdot \text{m}^{-2}$
- 14.3 a) ..... (b)
- 14.3 b) ..... (b)
- 14.3 c) ..... Même sens que  $\vec{e}_r$
- 14.3 d) ..... Même sens que  $\vec{e}_r$
- 14.3 e) .....  $2,9 \times 10^5 \text{ W} \cdot \text{m}^{-2}$
- 14.3 f) .....  $1,4 \times 10^5 \text{ W} \cdot \text{m}^{-2}$
- 14.4 .....  $\text{W} \cdot \text{K}^{-1} \cdot \text{m}^{-2}$
- 14.5 a) ..... (b)
- 14.5 b) .....  $65^\circ\text{C}$
- 14.6 a) ..... (c)
- 14.6 b) .....  $\lambda \frac{\pi a^2}{b} (T_0 - T_a)$
- 14.7 a) .....  $62,9 \text{ MW} \cdot \text{m}^{-2}$
- 14.7 b) .....  $3,8 \times 10^{26} \text{ W}$
- 14.7 c) ..... (c)
- 14.7 d) ..... (c)
- 14.8 a) ..... (b)
- 14.8 b) ..... (b)
- 14.8 c) .....  $1,5 \text{ m}^2$
- 14.9 .....  $\text{L}^2 \cdot \text{T}^{-1}$
- 14.10 a) ..... (c)
- 14.10 b) ..... (b)
- 14.11 a) .....  $\frac{p_v}{2\lambda} x(L-x) + (T_1 - T_0) \frac{x}{L} + T_0$
- 14.11 b) ..... (d)
- 14.11 c) .....  $60 \text{ W} \cdot \text{m}^{-3}$
- 14.12 a) .....  $T_0 + \frac{I^2}{2\gamma\lambda S^2} \left( \left( \frac{L}{2} \right)^2 - x^2 \right)$
- 14.12 b) ..... 0
- 14.12 c) .....  $T_0 + \frac{I^2}{\lambda\gamma S^2} \frac{L^2}{8}$
- 14.12 d) ..... (b) et (c)
- 14.13 a) .....  $1,0 \times 10^{-2} \text{ K} \cdot \text{W}^{-1}$
- 14.13 b) .....  $1,2 \text{ W} \cdot \text{K}^{-1} \cdot \text{m}^{-1}$
- 14.13 c) ..... 4,0 cm
- 14.14 a) ..... (a)
- 14.14 b) ..... (c)
- 14.15 a) .....  $0,50 \mu\text{m}$
- 14.15 b) .....  $5,8 \times 10^3 \text{ K}$
- 14.15 c) .....  $9,35 \mu\text{m}$
- 14.16 a) ..... (c)
- 14.16 b) .....  $260 \text{ K}$

## Corrigés

**14.2 a)** Le profil de température dans le mur est une fonction affine en régime stationnaire.

On a alors  $\overrightarrow{\text{grad}} T = \frac{dT}{dx} \vec{e}_x$  indépendant de  $x$ . La loi de Fourier donne alors  $\vec{j}_{\text{th}} = -\lambda \overrightarrow{\text{grad}} T = -\lambda \frac{T_C - T_A}{e} \vec{e}_x$  pour tous les points de la dalle. Ici,  $\overrightarrow{\text{grad}} T = \frac{T_C - T_A}{e} \vec{e}_x$  avec  $\frac{T_C - T_A}{e} = 50 \text{ K} \cdot \text{m}^{-1}$ .

**14.2 b)** On a  $\|\vec{j}_{\text{th}}(\text{B})\| = \lambda \frac{|T_C - T_A|}{e} = 1,2 \text{ W} \cdot \text{m}^{-1} \cdot \text{K}^{-1} \times \frac{10 \text{ K}}{0,2 \text{ m}} = 60 \text{ W} \cdot \text{m}^{-2}$ .

**14.3 a)** La température ne dépend spatialement que de la distance  $r$  à l'axe (Oz). Par conséquent, on a

$$\overrightarrow{\text{grad}} T = \frac{dT}{dr} \vec{e}_r.$$

**14.3 b)** La température ne dépend spatialement que de la distance  $r$  à l'axe (Oz). Par conséquent, on a

$$\overrightarrow{\text{grad}} T = \frac{dT}{dr} \vec{e}_r.$$

**14.3 c)** On constate que  $\overrightarrow{\text{grad}} T \cdot \vec{e}_r = \frac{dT}{dr} < 0$  donc  $\vec{j}_{\text{th}} \cdot \vec{e}_r > 0$ .

**14.3 d)** On constate que  $\overrightarrow{\text{grad}} T \cdot \vec{e}_r = \frac{dT}{dr} < 0$  donc  $\vec{j}_{\text{th}} \cdot \vec{e}_r > 0$ .

**14.3 e)** On a  $\frac{dT}{dr} = \frac{T_C - T_A}{\ln\left(\frac{c}{a}\right)} \frac{1}{r}$  donc  $\|\vec{j}_{\text{th}}(\text{A})\| = \vec{j}_{\text{th}}(\text{A}) \cdot \vec{e}_r = -\lambda \frac{T_C - T_A}{\ln\left(\frac{c}{a}\right)} \frac{1}{a}$ . Donc,

$$\lambda \frac{T_A - T_C}{\ln\left(\frac{c}{a}\right)} \frac{1}{a} = 400 \text{ W} \cdot \text{m}^{-1} \cdot \text{K}^{-1} \times \frac{10 \text{ K}}{\ln(2)} \frac{1}{2 \times 10^{-2} \text{ m}} = 2,9 \times 10^5 \text{ W} \cdot \text{m}^{-2}.$$

**14.3 f)** On obtient  $\vec{j}_{\text{th}}(\text{C}) \cdot \vec{e}_r = -\lambda \frac{T_C - T_A}{\ln\left(\frac{c}{a}\right)} \frac{1}{c} = \frac{1}{2} \vec{j}_{\text{th}}(\text{A}) \cdot \vec{e}_r$ .

**14.5 a)** La puissance transmise par la paroi au fluide est  $P_{p \rightarrow f} = hS(T_p - T_f)$ . Par définition de la résistance thermique, on a  $R_{cc} = \frac{T_p - T_f}{P_{p \rightarrow f}}$  donc  $R_{cc} = \frac{1}{hS}$ .

**14.5 b)** On a  $T_{\text{toit}} - T_{\text{air}} = \frac{P_{\text{toit} \rightarrow \text{air}}}{hS} = \frac{40 \times 10^3 \text{ W}}{20 \text{ W} \cdot \text{K}^{-1} \cdot \text{m}^{-2} \times 50 \text{ m}^2} = 40 \text{ K}$ .

**14.6 b)** On obtient  $P_0 = -\lambda \frac{dT}{dx}(0) \pi a^2$  avec  $\frac{dT}{dx}(0) = \frac{T_a - T_0}{b}$ .

**14.7 a)** On calcule  $\varphi_{\odot} = 5,67 \times 10^{-8} \text{ W} \cdot \text{m}^{-2} \cdot \text{K}^{-4} \times (5772 \text{ K})^4 = 6,29 \times 10^7 \text{ W} \cdot \text{m}^{-2}$ .

**14.7 b)** On a  $P_S = \varphi_{\odot} 4\pi R_{\odot}^2 = 6,29 \times 10^7 \text{ W} \cdot \text{m}^{-2} \times 4\pi (696 \times 10^6 \text{ m})^2 = 3,83 \times 10^{26} \text{ W}$ .

**14.7 c)** La puissance  $\varphi(r)4\pi r^2$  traversant la sphère de rayon  $r$  étant identique à celle émise par le Soleil  $\varphi_{\odot}4\pi R_{\odot}^2$ , il vient  $\varphi(r) = \varphi_{\odot} \left(\frac{R_{\odot}}{r}\right)^2$ .

**14.7 d)** On trouve  $\varphi(D_{ST}) = \varphi_{\odot} \left(\frac{R_{\odot}}{D_{ST}}\right)^2$ . Donc,

$$\varphi(D_{ST}) = 6,29 \times 10^7 \text{ W} \cdot \text{m}^{-2} \times \left(\frac{696 \times 10^3 \text{ km}}{150 \times 10^6 \text{ km}}\right)^2 = 1,35 \times 10^3 \text{ W} \cdot \text{m}^{-2} \quad \text{arrondi à } 1,4 \times 10^3 \text{ W} \cdot \text{m}^{-2}.$$

**14.8 a)** La radiateur rayonne vers l'air la puissance  $P_r = \sigma T_s^4 S$  et reçoit la puissance  $P_a = \sigma T_a^4 S$  de la part de l'air. La puissance cédée par le radiateur à l'air est donc  $P = P_r - P_a$ .

**14.8 b)** La loi de Newton rappelée dans la fiche donne le résultat.

**14.8 c)** La puissance totale cédée par le radiateur à l'air est  $P = (\sigma(T_s^4 - T_a^4) + h(T_s - T_a))S$ .

On a

$$\begin{aligned} \sigma(T_s^4 - T_a^4) + h(T_s - T_a) &= 5,67 \times 10^{-8} \text{ W} \cdot \text{m}^{-2} \cdot \text{K}^{-4} \times (333^4 - 293^4) \text{ K}^4 + 10 \text{ W} \cdot \text{m}^{-2} \cdot \text{K}^{-1} \times 40 \text{ K} \\ &= 679 \text{ W} \cdot \text{m}^{-2}. \end{aligned}$$

$$\text{Donc } S = \frac{P}{\sigma(T_s^4 - T_a^4) + h(T_s - T_a)} = \frac{1,0 \times 10^3 \text{ W}}{679 \text{ W} \cdot \text{m}^{-2}} = 1,5 \text{ m}^2.$$

**14.10 b)** La durée caractéristique  $\tau$  de la diffusion thermique est liée à la longueur caractéristique  $L$  de l'œuf et à sa diffusivité thermique  $D$  par  $\tau = \frac{L^2}{D}$ . On en déduit que  $\frac{\tau_a}{\tau_p} = \left(\frac{L_a}{L_p}\right)^2 \approx 3^2$  (où l'indice « a » est pour l'œuf d'autruche et « p » pour l'œuf de poule).

**14.11 a)** En intégrant  $\frac{d^2 T}{dx^2} = -\frac{p_v}{\lambda}$  par rapport à  $x$ , on obtient  $\frac{dT}{dx} = -\frac{p_v}{\lambda}x + A$  puis  $T(x) = -\frac{p_v}{\lambda} \frac{x^2}{2} + Ax + B$ . Les conditions aux limites  $T(0) = T_0$  et  $T(L) = T_1$  mènent à  $B = T_0$  et  $A = \frac{T_1 - T_0}{L} + \frac{p_v L}{2\lambda}$ .

**14.11 b)** On pose  $A = \frac{p_v L}{2\lambda} + \frac{T_1 - T_0}{L}$ . La température est maximale en  $x_1 = 3L/10$ . Or  $\frac{dT}{dx} = -\frac{p_v}{\lambda}x + A$ . On a donc  $\frac{dT}{dx} = 0$  pour  $x_1 = \frac{\lambda A}{p_v}$ . Après calculs, on obtient  $p_v = \frac{5\lambda}{L^2}(T_0 - T_1)$ .

**14.11 c)** On a  $p_v = \frac{5 \times 1,2 \text{ W} \cdot \text{K}^{-1} \cdot \text{m}^{-1}}{1 \text{ m}^2} \times 10 \text{ K} = 60 \text{ W} \cdot \text{m}^{-3}$ .

**14.12 a)** On note  $A = \frac{I^2}{\lambda\gamma S^2}$ . En intégrant  $\frac{d^2 T}{dx^2} = -A$  par rapport à  $x$ , on obtient  $\frac{dT}{dx} = -Ax + B$  puis  $T(x) = -A \frac{x^2}{2} + Bx + C$ . Les conditions aux limites  $T\left(\pm \frac{L}{2}\right) = T_0$  mènent à  $B = 0$  et  $C = T_0 + AL^2/8$ .

On peut aussi justifier  $B = 0$  par un argument de symétrie du profil de température par rapport au plan  $x = 0$ . Le profil étant parabolique et  $T\left(\pm \frac{L}{2}\right) = T_0$  prouvent que  $x \mapsto T(x)$  est une fonction paire donc que  $\frac{dT}{dx}(0) = 0$ .

**14.12 d)** On a  $\vec{j}_{\text{th}}\left(-\frac{L}{2}\right) \cdot \vec{e}_x = -\lambda \left. \frac{dT}{dx} \right|_{-L/2} < 0$  car  $\left. \frac{dT}{dx} \right|_{-L/2} > 0$  et  $\vec{j}_{\text{th}}\left(\frac{L}{2}\right) \cdot \vec{e}_x = -\lambda \left. \frac{dT}{dx} \right|_{L/2} > 0$  car  $\left. \frac{dT}{dx} \right|_{L/2} < 0$ .

**14.13 a)** Par définition de la résistance thermique du mur, on a  $R = \frac{T_1 - T_2}{P_{1 \rightarrow 2}} = \frac{10}{10^3} = 1,0 \times 10^{-2} \text{ K} \cdot \text{W}^{-1}$ .

**14.13 b)** En notant  $S = hL = 25 \text{ m}^2$ , la conductivité du béton est alors  $\lambda_1 = \frac{e}{SR} = \frac{0,3}{25 \times 10^{-2}} = 1,2 \text{ W} \cdot \text{K}^{-1} \cdot \text{m}^{-1}$ .

**14.13 c)** Les deux matériaux sont associés en série. Afin que la puissance traversant le mur isolé soit divisée par 5 pour la même différence de température, il faut que la résistance thermique soit multipliée par 5. En notant  $R_1$  la résistance du mur de béton et  $R_2$  celle de la plaque de polystyrène,  $R_1 + R_2 = 5R_1$  soit  $R_2 = 4R_1$ .

Ceci s'écrit alors  $\frac{e_2}{\lambda_2 S} = 4 \frac{e_1}{\lambda_1 S}$ . L'épaisseur  $e_2$  de polystyrène est donc  $e_2 = 4e_1 \frac{\lambda_2}{\lambda_1} = 4,0 \text{ cm}$ .

**14.14 a)** La conductance est proportionnelle à la surface du mur. En écrivant que  $G_m = K S_m$ , on en déduit que  $G'_m = K(S_m - S_f)$  et donc  $G'_m = \frac{S_m - S_f}{S_m} G_m$ .

**14.14 b)** Le mur percé et la fenêtre sont associés en parallèle. La conductance thermique équivalente est la somme de la conductance de la fenêtre  $G_f$  et de celle du mur percé  $G'_m$  différente de  $G_m$ . Donc, on a

$$G = G_f + \frac{S_m - S_f}{S_m} G_m = G_m \left(1 - \frac{S_f}{S_m}\right) + G_f.$$

**14.15 b)** Avec la loi de Wien, on obtient  $T = \frac{2898 \mu\text{m} \cdot \text{K}}{0,50 \mu\text{m}} = 5,8 \times 10^3 \text{ K}$ .

**14.15 c)** On calcule  $\lambda'_m = \frac{2898 \mu\text{m} \cdot \text{K}}{310 \text{ K}} = 9,35 \mu\text{m}$ .

**14.16 a)** La puissance émise par un élément de surface  $S$  d'atmosphère est  $P_e = \varphi_a \times 2S$  et la puissance reçue est  $P_r = \varphi_S S + \varphi_T S$ . En régime stationnaire,  $P_r = P_e$  donc  $\varphi_a = \frac{\varphi_S + \varphi_T}{2}$ .

**14.16 b)** On a  $\varphi_a = \frac{(70 + 450) \text{ W} \cdot \text{m}^{-2}}{2} = 260 \text{ W} \cdot \text{m}^{-2}$ . On en déduit que

$$T_a = \left(\frac{\varphi_a}{\sigma}\right)^{1/4} = \left(\frac{260 \text{ W} \cdot \text{m}^{-2}}{5,67 \times 10^{-8} \text{ W} \cdot \text{m}^{-2} \cdot \text{K}^{-4}}\right)^{1/4} = 260 \text{ K}.$$

# Fiche n° 15. Tables et diagrammes thermodynamiques

## Réponses

- 15.1 a) ..  $9,1 \times 10^{-4} \text{ g} \cdot \text{mL}^{-1}$
- 15.1 b) ..... (b)
- 15.1 c) ..... (a)
- 15.2 a) ..... ①
- 15.2 b) ..... ③
- 15.2 c) ..... ②
- 15.2 d) ..... 760,8 mmHg
- 15.2 e) ..... diphasé
- 15.2 f) ...  $1,017 \times 10^{-3} \text{ m}^3/\text{kg}$
- 15.2 g) .....  $7,6672 \text{ m}^3/\text{kg}$
- 15.2 h) ..... (c)
- 15.3 a) ..... isobare
- 15.3 b) ..... isotherme
- 15.3 c) ..... isochore
- 15.3 d) .....  $2V_1$
- 15.4 a) ..... (b)
- 15.4 b) ..... (a)
- 15.4 c) ..... (d)
- 15.5 a) ..... 0
- 15.5 b) .....  $-\frac{p_0}{v_0}$
- 15.5 c) .....  $\infty$
- 15.5 d) .....  $-\gamma \frac{p_0}{v_0}$
- 15.5 e) ..... isochore
- 15.5 f) ..... isobare
- 15.5 g) ..... isotherme
- 15.5 h) ..... isentrope
- 15.6 a) .....  $\frac{dT}{ds} - \frac{T}{c_p} = 0$
- 15.6 b) ..... (b)
- 15.6 c) ..... (b)
- 15.6 d) ..... (a)
- 15.7 ..... (a)
- 15.8 a) ..... (a), (c)
- 15.8 b) ..... (a), (d)
- 15.8 c) ..... (b), (d)
- 15.8 d) ..... (c), (d)
- 15.8 e) .....  $800 \text{ J} \cdot \text{K}^{-1} \cdot \text{kg}^{-1}$
- 15.8 f) ...  $-5\,000 \text{ J} \cdot \text{K}^{-1} \cdot \text{kg}^{-1}$
- 15.8 g) .....  $-1\,650 \text{ kJ} \cdot \text{kg}^{-1}$
- 15.9 a) ..... (b)
- 15.9 b) ..... (d)
- 15.9 c) ..... (c)
- 15.10 a) ..... (a), (d)
- 15.10 b) ..... (b), (c), (d)
- 15.10 c) ..... (b) et (c)
- 15.10 d) ..... (a)
- 15.11 a) .....  $\frac{R}{\ln(10)Mv c_p}$
- 15.11 b) ..... isochore
- 15.11 c) ..... isobare
- 15.11 d) ..... isotherme
- 15.11 e) ..... isentrope
- 15.12 a) ..... (a)
- 15.12 b) .....  $1\,320 \text{ kJ} \cdot \text{kg}^{-1}$
- 15.12 c) .....  $2\,650 \text{ kJ} \cdot \text{kg}^{-1}$
- 15.12 d) .....  $420 \text{ kJ} \cdot \text{kg}^{-1}$
- 15.12 e) ..... (b)
- 15.12 f) .....  $x_B = 40\%$
- 15.12 g) ..... (b)
- 15.13 a) ..... (b)
- 15.13 b) ..... (d)
- 15.13 c) .....  $2,45 \text{ m}^3/\text{kg}$
- 15.13 d) ..... (d)
- 15.13 e) .....  $2,45 \text{ m}^3/\text{kg}$
- 15.14 a) .....  $2\,675,6 \text{ kJ} \cdot \text{kg}^{-1}$
- 15.14 b) .....  $419,2 \text{ kJ} \cdot \text{kg}^{-1}$
- 15.14 c) ..... (c)
- 15.14 d) ...  $-2\,031 \text{ kJ} \cdot \text{kg}^{-1}$
- 15.15 a) ..... (c)
- 15.15 b) ..... (b)
- 15.16 a) ..... (b)
- 15.16 b) ..... isotherme
- 15.16 c) ..... isentrope
- 15.16 d) ..... isochore
- 15.16 e) ..... isobare

- 15.17 a) .....  $\frac{T_0}{c_p}$       15.17 f) ..... isobare      15.19 b) ..... (c)
- 15.17 b) ..... 0      15.17 g) ..... isochores      15.19 c) .....  $8 \text{ kJ} \cdot \text{K}^{-1} \cdot \text{kg}^{-1}$
- 15.17 c) .....  $\frac{T_0}{c_v}$       15.17 h) ..... isotherme      15.19 d) .....  $300 \text{ kJ} \cdot \text{kg}^{-1}$
- 15.17 d) .....  $\infty$       15.18 a) ..... (c)      15.19 e) .....  $250^\circ\text{C}$
- 15.17 e) ..... isentrope      15.18 b) ..... (b)      15.19 f) .....  $400^\circ\text{C}$
- 15.19 a) .....  $2680 \text{ kJ} \cdot \text{kg}^{-1}$       15.19 g) ..... (a)

## Corrigés

**15.1 a)** On a  $v(T = 200^\circ\text{C}, p = 200 \text{ kPa}) = 1,0805 \text{ m}^3/\text{kg} = 1,0805 \times 10^6 \text{ mL} \cdot \text{kg}^{-1} = 1,0805 \times 10^3 \text{ mL} \cdot \text{g}^{-1} \approx 1,1 \times 10^3 \text{ mL} \cdot \text{g}^{-1}$  donc  $\rho = \frac{1}{v} = \frac{1}{1,1 \times 10^3} = 0,9090 \dots \times 10^{-3} \text{ g} \cdot \text{mL}^{-1} \approx 9,1 \times 10^{-4} \text{ g} \cdot \text{mL}^{-1}$ .

*Remarque : La division ci-dessus « se pose à la main ». Il est aussi possible d'utiliser le développement limité autour de 0 de  $(1+x)^\alpha = 1 + \alpha x$  à l'ordre 1 :  $\frac{1}{1,1 \times 10^3} = (1+0,1)^{-1} \times 10^{-3} \approx (1-0,1) \times 10^{-3} = 9 \times 10^{-4}$ .*

**15.1 b)** Par lecture de la table, on a  $T_{\text{sat}}(200 \text{ kPa}) = 120,21^\circ\text{C}$ .

**15.1 c)** Par lecture de la table, on a  $100^\circ\text{C} < T_{\text{sat}}(200 \text{ kPa}) = 120,21^\circ\text{C}$  : le fluide est donc monophasé sous forme de liquide.

**15.2 d)** À  $100^\circ\text{C}$ , on a

$$p_{\text{sat}} = 0,10142 \text{ MPa} = 0,10142 \times 10^6 \times 1 \text{ Pa} = 0,10142 \times 10^6 \times \frac{1}{133,3} \text{ mmHg} = 760,8 \text{ mmHg}.$$

**15.2 e)** On a  $v = 1,03 \text{ cm}^3/\text{g} = 1,03 \times 10^{-3} \text{ m}^3/\text{kg}$ . Or, par lecture de la table, le volume massique du liquide saturant est  $v_\ell(60^\circ\text{C}) = 1,017 \times 10^{-3} \text{ m}^3/\text{kg}$  et celui de la vapeur saturante est  $v_g(60^\circ\text{C}) = 7,6672 \text{ m}^3/\text{kg}$ . Il vient que  $v_\ell(60^\circ\text{C}) \leq v \leq v_g(60^\circ\text{C})$  : le système est alors diphasé, c'est-à-dire un mélange de vapeur et de liquide.

**15.2 h)** Le théorème des moments exprimé en terme de volume massique est  $x_g = \frac{v - v_\ell}{v_g - v_\ell}$ .

Or,  $v_g = 7,6672 \text{ m}^3/\text{kg} \approx 7v \approx 7 \times 10^3 v_\ell$  donc il est numériquement raisonnable de considérer que  $v_g - v_\ell \approx v_g$  et  $v - v_\ell \approx v$ , d'où  $x_g \approx v/v_g$ .

**15.3 d)** La transformation est isobare donc  $V_2 = \frac{T_2 V_1}{T_1} = 2V_1$ .

**15.4 a)** La transformation est isotherme donc  $PV = nRT$  est une constante.

15.4 b)

- Lors de la transformation (A) isobare, le volume augmente donc (b) ne convient pas. Dans le cas de (d), la transformation (C) isochore a lieu au volume minimal, ce qui est en contradiction avec la fiche synoptique où le volume prend sa valeur maximale pendant cette transformation ( $V = 3V_1$ ) : la (d) ne convient donc pas.
- Pour la transformation (B) isotherme, la pression et le volume vérifient la relation  $P = \frac{\text{cste}}{V}$  donc, en échelle linéaire, la représentation graphique de  $P = f(V)$  est une branche d'hyperbole, ce qui ne peut que correspondre à (a).

15.4 c) Le sens de rotation est horaire : le travail total reçu au cours du cycle est négatif, le cycle est moteur.

15.5 h) La courbe isobare est de pente nulle donc la courbe ① est la courbe isobare. La courbe isochore est de pente infinie donc la courbe ② est la courbe isochore.

Il reste deux courbes à identifier : la courbe isotherme vérifiant  $p_{\text{iso-T}} = \frac{A}{v}$  et la courbe isentropique  $p_{\text{iso-s}} = \frac{B}{v^\gamma}$  où  $A = nrT = p_0v_0$  et  $B = p_0v_0^\gamma$  sont des constantes. L'identification des courbes se fait par un calcul de dérivée au point  $M_0$  de coordonnées  $(p_0, v_0)$  :

$$\left(\frac{dp_{\text{iso-T}}}{dv}\right)(v_0) = -\frac{A}{v_0^2} = -\frac{p_0}{v_0} \quad \text{et} \quad \left(\frac{dp_{\text{iso-s}}}{dv}\right)(v_0) = -\gamma \frac{B}{v_0^{\gamma+1}} = -\gamma \frac{p_0}{v_0} = \gamma \left(\frac{dp_{\text{iso-T}}}{dv}\right)(v_0).$$

Au point  $M_0$ , la courbe isentropique est donc la courbe la plus pentue : la courbe ④ est la courbe isentropique et la courbe ③ est la courbe isotherme.

15.6 a) En combinant la 2<sup>ème</sup> identité thermodynamique et la seconde loi de Joule, il vient :  $c_P dT = T ds + v dp$ . Le long d'une courbe isobare,  $dp = 0$ . L'équation différentielle en  $T(s)$  s'obtient en réorganisant les variables  $s$  et  $T$  de telle sorte qu'une dérivée  $\frac{dT}{ds}$  apparaisse :  $\frac{dT}{ds} - \frac{T}{c_p} = 0$ .

15.6 b) L'équation différentielle  $\frac{dT}{ds} - \frac{T}{c_p} = 0$  est une équation différentielle linéaire du premier ordre à coefficients constants et sans second membre dont la solution est de la forme  $T(s) = A \exp\left(\frac{s}{c_p}\right)$ . Le choix (arbitraire) de la constante d'intégration  $A$  est ici fait de telle sorte que la courbe isobare passe par un état de référence  $(s_0, T_0)$  :  $A = T_0 \exp\left(-\frac{s_0}{c_p}\right)$ , d'où  $T(s) = T_0 \exp\left(\frac{s - s_0}{c_p}\right)$ .

Conseil : Tester la vraisemblance en remarquant que, d'une part,  $T(s = s_0) = T_0$  et, d'autre part,  $\dim(s - s_0) = \dim(c_p)$  : l'argument d'exponentielle est bien sans dimension.

15.6 c) La loi de Laplace donne  $p_1^{1-\gamma} T_1^\gamma = p_2^{1-\gamma} T_2^\gamma$  soit  $p_2^{1-\gamma} = \left(\frac{T_1}{T_2}\right)^\gamma p_1^{1-\gamma}$ , d'où  $p_1 \left(\frac{T_1}{T_2}\right)^{\gamma/(1-\gamma)}$ .

15.6 d) Graphiquement,  $T_1 < T_2$ , soit  $\frac{T_1}{T_2} < 1$ . Or,  $\frac{p_2}{p_1} = \left(\frac{T_1}{T_2}\right)^{\gamma/(1-\gamma)}$  avec  $\gamma > 1$ , c'est-à-dire que  $\frac{\gamma}{1-\gamma} < 0$ . Ainsi,  $\frac{T_1}{T_2} < 1$  implique que  $\left(\frac{T_1}{T_2}\right)^{\gamma/(1-\gamma)} > 1$ . Autrement dit,  $\frac{p_2}{p_1} > 1$  donc  $p_2 > p_1$ .

15.7 Le transfert thermique correspond géométriquement à l'aire du cycle parcouru dans le diagramme entropique. Il est compté positivement si le cycle est parcouru dans le sens horaire (moteur) et négativement si le cycle est parcouru dans le sens trigonométrique (récepteur). Attention ici, l'entropie est donnée en  $\text{kJ} \cdot \text{K}^{-1}$  donc  $Q_{\text{ABCD}} = (T_B - T_A)(S_C - S_B) = 100 \cdot 1,5 \times 10^3 = 1,5 \times 10^5 \text{ J}$ .

**15.8 a)** Une enthalpie massique est indiquée en  $\text{J} \cdot \text{kg}^{-1}$ , et non en J. Le point A est à droite de la courbe de saturation et en-dessous du point critique donc le fluide est à l'état gazeux. Les courbes isenthalpes ( $dh = 0$ ) sont quasiment horizontales, c'est-à-dire presque confondues avec des courbes isothermes ( $dT = 0$ ) : le modèle du gaz parfait peut être considéré comme valide au point A car la relation  $dh = c dT$  n'est pas mise en défaut au point A. Enfin, le point A passe par la courbe isobare 0,05 bar représentée en pointillés.

**15.8 b)** Le point B est à gauche de la courbe de saturation et en-dessous du point critique donc le fluide est à l'état liquide. Une lecture graphique, réalisée à l'aide d'une règle graduée, puis l'application d'une « règle de trois », conduit à évaluer l'abscisse du point B comme étant  $600 \text{ J} \cdot \text{kg}^{-1} \cdot \text{K}^{-1}$ .

**15.8 c)** La grandeur  $x$  représente le titre massique en vapeur dans le mélange. Le point E se situe à équidistance (le long de la courbe isotherme passant par le point E) des courbes isotitres  $x = 0,6$  et  $x = 0,8$ . Ainsi,  $x_E = 0,7$ .

**15.8 d)** En passant de l'état E à l'état F (situé sur la courbe d'ébullition), le système passe d'un état diphasé à un état de liquide juste saturant : la vapeur saturante se liquéfie. De plus, cette transformation est isotherme ; or, l'eau étant un corps pur, elle est également isobare.

**15.8 f)** Par lecture graphique,  $s_E = 800 \text{ J} \cdot \text{K}^{-1} \cdot \text{kg}^{-1}$ . Ainsi,  $s_F - s_E = 800 - 5800 = -5000 \text{ J} \cdot \text{K}^{-1} \cdot \text{kg}^{-1}$ .

**15.8 g)** L'incrément des courbes isenthalpes est de  $200 \text{ J} \cdot \text{kg}^{-1}$ . Aussi, le point E étant situé à équidistance (le long de la courbe isotherme passant par le point E) des courbes isenthalpes  $1800$  et  $2000 \text{ kJ} \cdot \text{kg}^{-1}$ , il vient que  $h_E = 1900 \text{ kJ} \cdot \text{kg}^{-1}$ . De même,  $h_F = 250 \text{ kJ} \cdot \text{kg}^{-1}$ , d'où  $h_F - h_E = 250 - 1900 = -1650 \text{ kJ} \cdot \text{kg}^{-1}$ .

**15.9 a)** Pour une phase condensée incompressible indilatable (domaine liquide, à gauche de la courbe de saturation),  $dh = c_p dT$  donc à  $T$  constante,  $h$  est constante. Une courbe isotherme doit donc être verticale dans cette zone.

Pour un mélange liquide-vapeur d'un corps pur (zone sous la courbe de saturation) à l'équilibre, si  $T$  est fixée alors  $p$  est fixée aussi. Une courbe isotherme doit donc être horizontale dans cette zone.

Pour un gaz parfait (domaine vapeur, à droite de la courbe de saturation, et pour une faible pression),  $dh = c_p dT$  donc à  $T$  constante,  $h$  est constante. Une courbe isotherme doit donc être verticale dans cette zone.

**15.9 b)** On peut procéder par élimination :

- Il ne s'agit pas d'isobares car nous aurions alors des droites horizontales.
- Il ne s'agit pas d'isenthalpes car nous aurions alors des droites verticales.
- Il ne s'agit pas d'isothermes car dans la zone gaz à faible pression (domaine de validité de l'hypothèse gaz parfait), nous aurions alors des droites verticales.
- Il ne s'agit pas d'isotitres car certaines courbes sont en dehors du domaine liquide + vapeur.

Il s'agit donc nécessairement d'isentrope.

**15.9 c)** Ces courbes n'existent que dans le domaine Liquide + Vapeur et se rejoignent toutes au point critique, il s'agit donc d'isotitres.

**15.10 a)** La pression est de 100 bar donc  $100 \times 1,00 \times 10^5 \text{ Pa} = 1,00 \times 10^7 \text{ Pa}$ .

La température est indiquée en °C donc la réponse (b) ne convient pas. Le point A est à gauche de la courbe de saturation et en-dessous du point critique donc le fluide est à l'état liquide.



**15.10 b)** Par lecture graphique, la pression est de  $10^0 \text{ bar} = 1 \text{ bar} \neq 1 \text{ Pa}$  donc la **(a)** ne convient pas. Le point B est sous la courbe de saturation donc la réponse **(b)** convient. La valeur de  $x$  indiquée correspond au titre massique en vapeur. Sa valeur est de 0,4 donc le titre en liquide est  $1 - 0,4 = 0,6$ .

**15.10 c)** Le long d'une isotherme  $dT = 0$  ce qui, avec la seconde loi de Joule, implique :  $dh = 0$ . Les courbes isenthalpes sont donc des portions de droites parallèles à l'axe des ordonnées (puisque  $h$  est la grandeur en abscisses).

**15.10 d)** Le modèle du gaz parfait est une bonne approximation lorsque les courbes isothermes ( $dT = 0$ ) sont également des courbes isenthalpes ( $dh = c_p dT = 0$ ), ce qui tend à être le cas en zone (a).

**15.11 a)** L'équation d'état donne  $p = \frac{R}{Mv}T$  donc, en différenciant à  $v$  fixé, il vient  $dp = \frac{R}{Mv}dT$ . L'utilisation de la 2<sup>nde</sup> loi de Joule puis la division par  $p \ln(10)$  permet d'écrire :

$$\frac{dp}{p} \frac{1}{\ln(10)} = \frac{R}{Mv} \frac{1}{p \ln(10)} \frac{dh}{c_p} \quad \text{soit} \quad \frac{d(\ln p / \ln(10))}{dh} = \frac{R}{c_p Mv \ln(10)} \frac{1}{p} \quad \text{d'où} \quad \frac{d \log(p)}{dh} = \frac{A}{p} \quad \text{avec} \quad A = \frac{R}{\ln(10) Mv c_p}$$

une constante pour une transformation isochore ( $v = \text{cste}$ ).

**15.11 e)** La courbe isobare est de pente nulle donc la courbe **(4)** est la courbe isobare. Du fait de la seconde loi de Joule, la courbe isotherme est également une courbe isenthalpe, c'est-à-dire de pente infinie. Ainsi, la courbe isotherme est la courbe **(1)**.

Pour une courbe isochore, il a été montré que  $\frac{d \log(p)}{dh} = \frac{A}{p}$  avec  $A$  une constante. Ainsi, dans un diagramme  $(\log(p), h)$ , il apparaît que la pente n'est pas constante ; elle tend vers l'infini lorsque  $h$  tend vers 0 : la courbe **(3)** est donc la courbe isochore et, par élimination, la courbe **(2)** est la courbe isentrope.

**15.12 a)** L'échelle des abscisses étant linéaire, il est possible d'utiliser la position du point B par rapport à la courbe de saturation pour déterminer si le fluide contient plus de liquide ou plus de vapeur. Ici, le point B est plus proche de la courbe de bulle (isotitre  $x = 0$  en trait plein) que de la courbe de rosée (isotitre  $x = 1$  en trait plein) donc il y a davantage de liquide que de vapeur.

**15.12 b)** L'enthalpie massique du fluide diphasé correspond à l'abscisse du point B :  $h_B = 1320 \text{ kJ} \cdot \text{kg}^{-1}$ .

**15.12 c)** L'enthalpie massique de la vapeur saturante de l'état représenté par le point B correspond à l'abscisse du projeté de B sur la courbe de rosée :  $h_{v,B} = 2650 \text{ kJ} \cdot \text{kg}^{-1}$ .

**15.12 d)** L'enthalpie massique du liquide saturant de l'état représenté par le point B correspond à l'abscisse du projeté de B sur la courbe de bulle :  $h_{l,B} = 420 \text{ kJ} \cdot \text{kg}^{-1}$ .

**15.12 f)** On a

$$x_B = \frac{h_B - h_{l,B}}{h_{v,B} - h_{l,B}} = \frac{1320 - 420}{2650 - 420} = \frac{900}{2230} \approx \frac{900}{2250} = \frac{9000}{2250} \times 10^{-1} = 0,40,$$

ce qui est cohérent avec le fait que le point B soit placé sur la courbe isotitre  $x = 0,4$ .

**15.12 g)** Pour rappel, l'enthalpie massique du liquide saturant d'un mélange diphasé correspond à l'abscisse du projeté de cet état sur la courbe de bulle tandis que l'enthalpie massique de la vapeur saturante correspond à l'abscisse du projeté sur la courbe de rosée. Dans le diagramme  $\log(p) - h$ , la distance entre ces deux projetés est  $h_v - h_l = \Delta_{\text{vap}}h$ .

Graphiquement, il apparaît que  $h_v$  diminue et que  $h_l$  augmente avec la pression, d'où une enthalpie de vaporisation  $\Delta_{\text{vap}}h$  qui diminue lorsque la pression augmente.

**15.13 b)** L'équation d'état des gaz parfaits est  $PV = nRT$  avec  $n$  la quantité de matière et  $V$  le volume.

Or,  $n = m/M$  ( $m$  est la masse) donc il vient  $PV = mTR/M$  soit  $Pv = rT$  avec  $v = V/m$ .

**15.13 c)** On a  $v = \frac{rT}{p} = \frac{0,46 \times 10^3 \times (260 + 273)}{100 \times 10^3} = 2,45 \text{ m}^3/\text{kg}$ .

**15.13 d)** De manière générale, les points  $M(x, y)$  le long d'un segment défini par les points  $M_1(x_1, y_1)$  et  $M_2(x_2, y_2)$  vérifient  $y = y_1 + (x - x_1) \frac{y_2 - y_1}{x_2 - x_1}$ .

**15.14 c)** Par extensivité et additivité de l'enthalpie,  $h_i = xh_g + (1 - x)h_l$  avec  $x$  le titre massique de la vapeur saturante. Ici,  $x = 90\% = 0,90$  et  $1 - x = 10\% = 0,10$ .

**15.14 d)** On a  $q = \Delta h = h_\ell(P = 1,0142 \text{ bar}) - h_i$  avec  $h_i$  l'enthalpie massique initiale du mélange et

$$h_i = 10\% \times h_\ell(P = 1,0142 \text{ bar}) + 90\% \times h_g(P = 1,0142 \text{ bar}) = 10\% \times 419,2 + 90\% \times 2675,6 = 2450 \text{ kJ} \cdot \text{kg}^{-1}.$$

Ainsi, le transfert thermique massique est  $q = 419,2 - 2450 = -2031 \text{ kJ} \cdot \text{kg}^{-1}$ .

**15.15 a)** La transformation (D) étant isentropique, la loi de Laplace est valide :  $PV^\gamma = \text{cste}$ . De plus, le gaz est parfait donc l'injection de l'équation d'état  $PV = nRT$  dans la loi de Laplace aboutit à  $TV^{\gamma-1} = \text{cste}$ .

**15.15 b)** Lors de la transformation (D) isentrope, le volume décroît de  $3V_1$  à  $V_1$ . De plus, le volume et la température ne sont pas reliés par une relation linéaire ( $TV^{\gamma-1} = \text{cste}$ ). Ainsi, seule la réponse (b) vérifie ces deux conditions.

**15.16 a)** L'équation d'état des gaz parfaits donne  $p = \frac{nR}{V}T$ .

Or, ici,  $V = m \times v_0 = nMv_0$ . Ainsi,  $p = \frac{R}{Mv_0}T$  d'où  $\frac{\partial p}{\partial T} = \frac{R}{Mv_0} = \text{cste}$  : une courbe isochore est une courbe de pente constante (et positive) dans un diagramme  $(p, T)$ .

**15.16 e)** La courbe isobare est de pente nulle donc la courbe ① est la courbe isobare. La courbe isotherme est de pente infinie donc la courbe ④ est la courbe isotherme. La courbe isochore est une courbe de pente constante (finie et non nulle) donc la courbe ③ est la courbe isochore. Par élimination, la courbe ② est la courbe isentrope.

**15.17 h)** La courbe isotherme est de pente nulle donc la courbe ④ est la courbe isotherme. La courbe isentrope est de pente infinie donc la courbe ① est la courbe isentrope.

Il reste deux courbes à identifier : la courbe isobare de pente  $\frac{T_0}{c_p}$  et la courbe isochore de pente  $\frac{T_0}{c_v}$ . Le rapport de

la pente de la courbe isochore par celle de la courbe isobare est  $\frac{T_0}{c_v} \times \left(\frac{T_0}{c_p}\right)^{-1} = \frac{c_p}{c_v} = \gamma > 1$  : au point M<sub>0</sub>, la courbe isochore est plus pentue que la courbe isobare donc la courbe ② est la courbe isochore et la courbe ③ est la courbe isobare.

.....  
**15.18 a)** La transformation (D) étant isentropique, la loi de Laplace est valide :  $PV^\gamma = \text{cste}$ . De plus, le gaz est parfait donc l'injection de l'équation d'état  $PV = nRT$  dans la loi de Laplace aboutit à  $P^{1-\gamma}T^\gamma = \text{cste}$ .

.....  
**15.18 b)** Lors de la transformation (A) isobare, la température augmente donc la réponse (a) est à rejeter. La transformation (C) étant isochore, la relation entre la pression et la température est une relation linéaire  $P = \frac{nRT}{V}$ , ce qui correspond à une portion de droite. Pour la transformation (D) isentropique, la pression et la température vérifient  $P = \frac{\text{cste}}{T^{1-\gamma}}$ , ce qui ne peut pas être une portion de droite puisque  $\gamma > 1$ ; la (c) ne convient pas.

.....  
**15.19 a)** Le point I se trouve à l'intersection de la courbe isobare  $250 \text{ mbar} = 2,5 \times 10^{-1} \text{ bar}$  et de la courbe isotherme  $100^\circ\text{C}$ . La courbe isobare de  $2,5 \times 10^{-1} \text{ bar}$  est la droite horizontale située à peu près à mi-chemin entre la deuxième et la troisième graduation en partant de la graduation associée à  $10^{-1} \text{ bar}$ . La courbe isotherme de  $100^\circ\text{C}$  correspond à la courbe en pointillés dont le label est  $T = 100^\circ\text{C}$ . Par lecture graphique de l'abscisse du I,  $h_I = 2680 \text{ kJ} \cdot \text{kg}^{-1}$

.....  
**15.19 b)** Le point I se trouve à droite de la courbe de saturation (et bien en-dessous de l'isobare critique, une droite horizontale passant par le sommet de la courbe de saturation). Ainsi, le fluide est initialement une vapeur sèche.

.....  
**15.19 c)** Le point I passe par une courbe isentrope qui est ici représentée à l'aide de tirets. La valeur associée n'est pas indiquée, mais les deux courbes isentropes voisines indiquent  $7 \text{ kJ} \cdot \text{K}^{-1} \cdot \text{kg}^{-1}$  et  $9 \text{ kJ} \cdot \text{K}^{-1} \cdot \text{kg}^{-1}$ . L'incrément du réseau des courbes isentropes est de  $1 \text{ kJ} \cdot \text{K}^{-1} \cdot \text{kg}^{-1}$  donc  $s_I = 8 \text{ kJ} \cdot \text{K}^{-1} \cdot \text{kg}^{-1}$ .

.....  
**15.19 d)** Le point F est à l'intersection de la courbe isentrope  $s_F = s_I = 8 \text{ kJ} \cdot \text{K}^{-1} \cdot \text{kg}^{-1}$  avec la courbe isobare  $p_F = 1 \text{ bar}$ , c'est-à-dire la droite passant par l'ordonnée  $10^0 \text{ bar}$ . Par lecture graphique de l'abscisse du point F, on a  $h_F = 2980 \text{ kJ} \cdot \text{kg}^{-1}$  donc  $w = 2980 - 2680 = 300 \text{ kJ} \cdot \text{kg}^{-1}$ .

.....  
**15.19 e)** Le point F passe la courbe isotherme comprise entre les courbes isothermes de  $200^\circ\text{C}$  et  $300^\circ\text{C}$ . L'incrément étant de  $50^\circ\text{C}$ , cette isotherme est associée à  $250^\circ\text{C}$  donc  $T_F = 250^\circ\text{C}$ .

.....  
**15.19 f)** L'entropie finale est désormais  $s_{F'} = (1 + 6\%)s_F = (1 + 0,06) \times 8 = 8 + 0,48 \approx 8,5 \text{ kJ} \cdot \text{K}^{-1} \cdot \text{kg}^{-1}$ . Or, il n'y a aucune courbe isentrope tracée pour cette valeur d'entropie massique. Il faut interpoler la position du point F' dans le diagramme  $\log(p) - h$ . Pour cela, il suffit de tracer un segment horizontal le long de la courbe isobare de 1 bar qui relie les courbes isentropes de  $8 \text{ kJ} \cdot \text{K}^{-1} \cdot \text{kg}^{-1}$  et  $9 \text{ kJ} \cdot \text{K}^{-1} \cdot \text{kg}^{-1}$ . La position du point F' est approximativement au milieu du segment tracé. Le point F' passe par la courbe isotherme de  $400^\circ\text{C}$  donc  $T_{F'} = 400^\circ\text{C}$ .

.....  
**15.19 g)** L'élévation totale de température s'exprime comme  $T_{F'} - T_I$  tandis que celle due à la compression (réversible) est  $T_F - T_I$ . L'élévation de température due aux irréversibilités est donc  $T_{F'} - T_F$ . Sa proportion relativement à l'élévation totale est donc  $\frac{T_{F'} - T_F}{T_{F'} - T_I} \times 100$ .

## Fiche n° 16. Signaux

### Réponses

- 16.1 a) ..... 0
- 16.1 b) .....  $\frac{1}{2}$
- 16.1 c) ..... 0
- 16.2 a) ..... c
- 16.2 b) ..... d
- 16.3 a) ..... instable
- 16.3 b) ..... stable
- 16.3 ..... instable
- 16.3 ..... stable
- 16.3 ..... instable
- 16.4 a) ..... c
- 16.4 b) ..... a
- 16.4 c) ..... a
- 16.5 a) ..... a
- 16.5 b) ..... c
- 16.5 c) ..... c
- 16.6 a) ..... 0,75 A
- 16.6 b) ..... 4 V
- 16.6 c) ..... 333 Hz
- 16.6 d) ..... a
- 16.6 e) ..... b
- 16.6 f) ..... a
- 16.6 g) ..... 2,56 mH
- 16.7 a) ..... b
- 16.7 b) ..... a
- 16.7 c) ..... b
- 16.7 d) .....  $1,6 \mu\text{F}$
- 16.8 a) ..... b
- 16.8 b) ..... c
- 16.9 a) ..... b
- 16.9 b) ..... a
- 16.9 c) ..... c
- 16.9 d) .....  $50 \Omega$
- 16.9 e) ..... 7 mH
- 16.10 a) .....  $4x^0$
- 16.10 b) .....  $4x^{-2}$
- 16.10 c) .....  $1x^0$
- 16.10 d) .....  $\frac{2}{3}x^0$
- 16.10 e) .....  $\frac{2}{5}x^1$
- 16.10 f) .....  $\frac{3}{5}x^0$
- 16.11 a) ..... 1 ms
- 16.11 b) ..... 2 V
- 16.11 c) ..... 1 kHz
- 16.11 d) ..... b
- 16.11 e) ..... 0
- 16.11 f) ..... a et d
- 16.11 g) ..... a
- 16.12 a) ..... 20 ms
- 16.12 b) ..... 0,1 V
- 16.12 c) ..... 0,1 V
- 16.12 d) ..... 50 Hz
- 16.12 e) ..... 0,1 V
- 16.12 f) ..... b et c
- 16.12 g) ..... a
- 16.13 a) ..... 1 Hz
- 16.13 b) ..... 16,7 Hz
- 16.13 c) ..... 12,5 Hz
- 16.13 d) ..... 9,61 Hz
- 16.13 e) ..... a
- 16.13 f) .. Repliement de spectre
- 16.13 g) ..... d
- 16.14 a) ..... a
- 16.14 b) ..  $\frac{ds}{dt} + \omega_0 s = H_0 \omega_0 e$
- 16.14 c) ..... b
- 16.15 a) ..... B
- 16.15 b) ..... A
- 16.15 c) ..... C
- 16.15 d) ..... E
- 16.15 e) ..... D
- 16.16 a) ..... 0,1 ms
- 16.16 b) ..... 0,005 ms
- 16.16 c) ..... 10 V
- 16.16 d) ..... 0,6
- 16.16 e) ..... 200 kHz
- 16.16 f) ..... 10 kHz

## Corrigés

**16.1 a)** On a  $\frac{1}{T} \int_0^T \cos(\omega t) dt = \left[ \frac{\sin(\omega t)}{\omega} \right]_0^T = 0$  car la fonction  $t \mapsto \sin(\omega t)$  est  $T$ -périodique.

**16.1 b)** Il faut commencer par linéariser le  $\cos^2$  :

$$\frac{1}{T} \int_0^T \cos^2(\omega t) dt = \frac{1}{T} \int_0^T \frac{1 + \cos(2\omega t)}{2} dt = \frac{1}{2}$$

comme la fonction  $\cos(2\omega t)$  est périodique de période  $\frac{T}{2}$ .

**16.1 c)** Il faut faire une intégration par parties. On a

$$\frac{1}{T} \int_0^T t \cos(\omega t) dt = \frac{1}{T} \left[ \frac{t}{\omega} \sin(\omega t) \right]_0^T - \frac{1}{T} \int_0^T \frac{1}{\omega} \sin(\omega t) dt = 0.$$

**16.2** On commence par remarquer que les deux graphiques tendent vers une valeur non nulle : cela élimine la proposition (b) et les propositions (a) et (f) qui ne sont pas stables.

La proposition (e) est l'équation d'un oscillateur harmonique : elle ne correspond pas aux graphiques.

Le signal  $s_1(t)$  présente une discontinuité de sa pente : il est donc régi par une équation différentielle du premier ordre : c'est la proposition (c).

On en déduit que le signal  $s_2(t)$  est associé à la proposition (d).

**16.3** Pour une équation différentielle linéaire à coefficients constants une condition nécessaire de stabilité, et suffisante pour les systèmes du premier et second ordre, est que tous les coefficients de l'équation différentielle soient de même signe.

**16.4** En régime permanent, le condensateur se comporte comme un interrupteur ouvert et la bobine comme un fil : on a  $u_C(0^-) = E, i(0^-) = i_C(0^-) = 0$ .

La bobine impose la continuité de l'intensité électrique qui la traverse et le condensateur la tension à ses bornes : on a  $u_C(0^+) = E, i(0^+) = 0$ . Comme  $u_R = u_C$ , on a donc :  $i_R(0^+) = \frac{E}{R}$  soit d'après la loi des nœuds

$$i_C(0^+) = -i_R(0^+) = -\frac{E}{R}.$$

En régime permanent, le condensateur se comporte comme un interrupteur ouvert et la bobine comme un fil : ainsi, on a  $u_C(+\infty) = \frac{R}{R+r} E, i(0^-) = i_R(0^-) = \frac{E}{R+r}$  et  $i_C(0^-) = 0$ .

**16.5** L'interrupteur étant ouvert et le régime permanent étant atteint :  $i_2(0^-) = 0$  et  $i_1(0^-) = i(0^-) = \frac{E_1}{2R}$ .

La bobine impose la continuité du courant qui la traverse :  $i(0^+) = i(0^-) = \frac{E_1}{2R}$ . Pour déterminer  $i_1$  et  $i_2$  il nous faut deux équations : on utilise la loi des mailles dans la grande maille et la loi des nœuds :

$$\begin{cases} i_1(0^+) + i_2(0^+) = \frac{E_1}{2R} \\ E_1 - Ri_1(0^+) = E_2 - Ri_2(0^+) \end{cases} \quad \text{donc} \quad \begin{cases} i_1(0^+) + i_2(0^+) = \frac{E_1}{2R} \\ i_1(0^+) - i_2(0^+) = \frac{E_1 - E_2}{R} \end{cases} \quad \text{donc} \quad \begin{cases} i_1(0^+) = \frac{3E_1 - 2E_2}{4R} \\ i_2(0^+) = \frac{2E_2 - E_1}{4R}. \end{cases}$$

En régime permanent, la bobine se comporte comme un fil. On a donc directement  $i_1(+\infty) = \frac{E_1}{R}$ ,  $i_2(+\infty) = \frac{E_2}{R}$  donc  $i(+\infty) = \frac{E_1 + E_2}{R}$ . On a donc le système :

$$\begin{cases} i_1(+\infty) + i_2(+\infty) &= i(+\infty) \\ E_1 - Ri_1(+\infty) &= Ri(+\infty) \\ E_2 - Ri_2(+\infty) &= Ri(+\infty). \end{cases}$$

En sommant les deux dernières lignes, on a directement  $i(+\infty) = \frac{E_1 + E_2}{3R}$ . On a alors le système :

$$\begin{cases} i_1(+\infty) + i_2(+\infty) &= \frac{E_1 + E_2}{3R} \\ i_1(+\infty) - i_2(+\infty) &= \frac{E_1 - E_2}{R}. \end{cases}$$

On a alors  $i_1(+\infty) = \frac{2E_1 - E_2}{3R}$  et  $i_2(+\infty) = \frac{2E_2 - E_1}{3R}$ .

**16.6 g)** Le module de  $Z$  est tel que  $|Z| = \left| \frac{U}{I} \right| = \frac{4\text{ V}}{0,75\text{ A}} = \frac{16}{3}\ \Omega$ . Or, on a  $|Z| = L\omega$ ; donc

$$L = \frac{|Z|}{\omega} = \frac{16/3\ \Omega}{2\pi \frac{1000}{3}} = \frac{8 \times 10^{-3}}{\pi} = 2,56 \times 10^{-3}\text{ H} = 2,56\text{ mH}.$$

**16.7 d)** Graphiquement, on trouve  $T = 1\text{ ms}$ . Le module de l'impédance est  $|Z| = \left| \frac{U}{I} \right| = \frac{2\text{ V}}{0,02\text{ A}} = 100\ \Omega$ . Donc,

$$C = \frac{1}{|Z|\omega} = \frac{T}{2\pi|Z|} \simeq 0,16 \frac{10^{-3}\text{ s}}{100\ \Omega} = 1,6\ \mu\text{F}.$$

**16.8** On a une association de dipôles en série :  $Z = R + jL\omega$ . Comme  $|Z|$  est le rapport des amplitudes de la tension et de l'intensité électrique, on a  $|Z|^2 = R^2 + (L\omega)^2 = \left( \frac{U_0}{I_0} \right)^2$ .

L'argument de l'impédance vaut  $\varphi = \arctan\left(\frac{L\omega}{R}\right)$ .

**16.9** L'analyse graphique donne :

$$U_0 = 8\text{ V}, \quad I_0 = 100\text{ mA}, \quad T = 0,7\text{ ms} \quad \text{et} \quad \delta t_{u/i} = -100\ \mu\text{s}.$$

La pulsation est donc  $\omega = \frac{2\pi}{T} = \frac{2\pi}{7} \cdot 10^4 = 8,97 \times 10^3\text{ rad} \cdot \text{s}^{-1}$ . Le déphasage de la tension par rapport à l'intensité électrique :

$$\varphi = -2\pi \frac{\delta t}{T} = 2\pi \frac{1/10}{0,7} = \frac{2\pi}{7} = \frac{2}{7}\pi$$

À partir des relevés graphiques, on a le système :

$$\begin{cases} R^2 + (L\omega)^2 &= (80)^2 \\ \frac{L\omega}{R} &= \tan\left(\frac{2}{7}\pi\right). \end{cases}$$

On a donc  $R^2 \left[ 1 + \tan^2\left(\frac{2\pi}{7}\right) \right] = \left( \frac{U_0}{I_0} \right)^2 = \left( \frac{8}{0,1} \right)^2$  donc  $R = \frac{U_0/I_0}{\sqrt{1 + \tan^2\left(\frac{2\pi}{7}\right)}} = \frac{U_0}{I_0} \cos\left(\frac{2\pi}{7}\right) = 50\ \Omega$ .

On en déduit  $L = 7\text{ mH}$ .

**16.11 c)** La période étant de  $T = 1 \text{ ms}$ , la fréquence du fondamental est  $f = \frac{1}{T} = 1 \text{ kHz}$ .

**16.11 d)** La fonction  $u(t)$  est décroissante sur l'intervalle  $[0, T/2]$  : cela élimine les propositions (a) et (d).

En  $T/2$ , on a  $u(T/2) = -U$  : c'est donc la réponse (b).

**16.11 e)** La valeur  $a_0$  correspond à la valeur moyenne : elle est donc nulle ici.

**16.11 f)** Par intégration par parties, on trouve :

$$\begin{aligned} a_n &= \frac{4}{T} \int_0^{T/2} U \left(1 - \frac{4t}{T}\right) \cos(2\pi f n t) dt = \frac{4U}{T} \left( \left[ \left(1 - \frac{4t}{T}\right) \frac{\sin(2\pi f n t)}{2\pi f n} \right]_0^{T/2} + \frac{4}{T} \int_0^{T/2} \frac{\sin(2\pi f n t)}{2\pi f n} dt \right) \\ &= \frac{4U}{T} \left( 0 + \frac{4}{T} \left[ -\frac{\cos(2\pi f n t)}{(2\pi f n)^2} \right]_0^{T/2} \right) = \frac{16U}{4\pi^2 T^2 f^2 n^2} \times (-\cos(\pi n) + 1) = \frac{4U}{\pi^2 n^2} (1 - \cos(\pi n)) \end{aligned}$$

On a donc  $a_n = 0$  si  $n$  est pair et  $a_n = \frac{8U}{\pi^2 n^2}$ .

**16.12 d)** La fréquence fondamentale est  $\nu = \frac{1}{T} = \frac{1}{20 \text{ ms}} = 50 \text{ Hz}$ .

**16.12 e)** Par définition, on a  $c_0 = \frac{1}{T} \int_0^T s(t) dt = s_0 = 0,1 \text{ V}$ .

**16.12 f)** Pour ce signal carré particulier, numériquement,  $s_0 = S_m$ . Ainsi,  $s(t \in [0, T/2]) = s_0 + S_m = 2S_m$  et  $s(t \in [T/2, T]) = 0$ . Il vient alors :

$$\begin{aligned} \underline{c}_n &= \frac{1}{T} \int_0^{T/2} 2S_m e^{-in 2\pi\nu t} dt = \frac{2S_m}{-in 2\pi\nu} [e^{-in 2\pi\nu t}]_0^{T/2} \\ &= \frac{2S_m}{-in 2\pi\nu} \left[ e^{-in\pi \overbrace{\nu T}^1} - 1 \right] = \frac{2S_m}{-in 2\pi\nu} ((-1)^n - 1) = \begin{cases} 0 & \text{si } n \text{ pair} \\ \frac{2S_m}{in\pi\nu} & \text{si } n \text{ impair.} \end{cases} \end{aligned}$$

**16.12 g)** Les harmoniques de rang pair doivent être nulles, ce qui exclut le cas (b).

De plus, numériquement, on a  $s_0 = S_m$  et  $2/\pi \approx 0,64 < 1$ , d'où  $s_0 > 2s_0/\pi = 2S_m/\pi$  : cette relation n'est pas vérifiée dans le cas du spectre (c).

**16.13 b)** La période  $T_e$  d'échantillonnage est la durée entre deux points d'acquisition successifs. La fréquence d'échantillonnage  $f_e$  vaut donc :

$$f_e = \frac{1}{T_e} = \frac{N}{T_{\max}} = \frac{500}{30} = 16,7 \text{ Hz.}$$

**16.13 e)** Le spectre (a) car les autres font apparaître des pics « fantômes » car la  $\frac{f_e}{2}$  est inférieure à la fréquence des harmoniques.

**16.13 g)** C'est le critère de Shannon-Nyquist.

**16.14 a)** On a  $\underline{H} \xrightarrow{\omega \rightarrow 0} H_0$  et  $\underline{H} \xrightarrow{\omega \rightarrow +\infty} \frac{\omega_0 H_0}{j\omega} \xrightarrow{\omega \rightarrow +\infty} 0$  le filtre est donc un passe-bas. Le dénominateur étant d'ordre 1, c'est un passe-bas d'ordre 1.

**16.14 b)** On a

$$\frac{\underline{s}}{\underline{e}} = \frac{H_0}{1 + j\frac{\omega}{\omega_0}} \quad \text{donc} \quad \left(1 + j\frac{\omega}{\omega_0}\right)\underline{s} = H_0\underline{e}.$$

Multiplier par  $j\omega$  est équivalent à dériver en réel ; on trouve donc l'équation différentielle  $s + \frac{1}{\omega_0} \frac{ds}{dt} = H_0 e$ .

**16.15 a)** Le pré-amplificateur ne change que l'amplitude du signal pas son spectre : le spectre B correspond à  $u_2(t)$ .

**16.15 b)** Le filtre passe-bande à une bande passante assez étroite pour ne garder que  $f_p - f_m$ ,  $f_p$  et  $f_p + f_m$  : le spectre A correspond donc à  $u_3(t)$ .

**16.15 d)** Le multiplieur donne en sortie :

- pour une fréquence en entrée de  $f_p$  :

$$k(A \cos(2\pi f_p t)) \times U_p \cos(2\pi f_p t) = kAU_p \cos^2(2\pi f_p t) = kAU_p \frac{1 + \cos(2\pi[2f_p]t)}{2}.$$

- pour une fréquence en entrée de  $f_p \pm f_m$  :

$$\begin{aligned} k(A \cos(2\pi[f_p \pm f_m]t)) \times U_p \cos(2\pi f_p t) &= kAU_p \cos(2\pi[f_p \pm f_m]t) \cos(2\pi f_p t) \\ &= kAU_p \frac{\cos(2\pi[f_m]t) + \cos(2\pi[2f_p + f_m]t)}{2}. \end{aligned}$$

Le signal  $u_4(t)$  correspond au spectre E.

**16.16 )** La tension  $u_+(t)$  oscille entre 4 V et 16 V. En identifiant les valeurs extrêmes à partir de son expression, on a le système :

$$\begin{cases} U_p(1 + m) = 16 \text{ V} \\ U_p(1 - m) = 4 \text{ V} \end{cases} \quad \text{donc} \quad \begin{cases} U_p = 10 \text{ V} \\ m = 0,6. \end{cases}$$



# Fiche n° 17. Circuits logiques

## Réponses

- |              |   |              |   |               |                                   |
|--------------|---|--------------|---|---------------|-----------------------------------|
| 17.1 a)..... | <input type="radio"/> c                         | 17.4 b)....  | $1 \times 3^2 + 2 \times 3^1 + 1 \times 3^0$    | 17.7 a).....  | <input type="checkbox"/> 1 V      |
| 17.1 b)..... | <input type="radio"/> c                         | 17.4 c)..... | <input type="radio"/> a <input type="radio"/> c | 17.7 b).....  | <input type="checkbox"/> 0 V      |
| 17.1 c)..... | <input type="radio"/> b                         | 17.4 d)....  | $1 \times b^2 + 2 \times b^1 + 1 \times b^0$    | 17.7 c).....  | <input type="checkbox"/> 0 V      |
| 17.2 a)..... | <input type="radio"/> b                         | 17.4 e)..... | <input type="radio"/> d                         | 17.7 d).....  | <input type="checkbox"/> 0 V      |
| 17.2 b)..... | <input type="radio"/> b                         | 17.5 a)..... | $1 - A \times B$                                | 17.7 e).....  | <input type="checkbox"/> NOR      |
| 17.2 c)..... | <input type="radio"/> a                         | 17.5 b) ..   | $1 - (A + B) + A + B$                           | 17.8 a).....  | <input type="checkbox"/> 0 V      |
| 17.2 d)..... | <input type="radio"/> c                         | 17.5 c)..... | $A \cap B$                                      | 17.8 b).....  | <input type="checkbox"/> 0 V      |
| 17.2 e)..... | <input type="checkbox"/> 256                    | 17.5 d)..... | $A \cup B$                                      | 17.8 c).....  | <input type="checkbox"/> 0 V      |
| 17.3 a)..... | <input type="radio"/> b                         | 17.5 e)..... | <input type="radio"/> b <input type="radio"/> d | 17.8 d).....  | <input type="checkbox"/> 1 V      |
| 17.3 b)..... | <input type="radio"/> c                         | 17.6 a)..... | <input type="checkbox"/> 2                      | 17.8 e).....  | <input type="checkbox"/> AND      |
| 17.3 c)..... | <input type="radio"/> a                         | 17.6 b)..... | <input type="checkbox"/> 4                      | 17.9 a).....  | <input type="checkbox"/> 0        |
| 17.3 d)..... | <input type="radio"/> b                         | 17.6 c)..... | <input type="checkbox"/> 3                      | 17.9 b).....  | <input type="checkbox"/> 0        |
| 17.3 e)..... | <input type="checkbox"/> 10101                  | 17.6 d)..... | <input type="checkbox"/> 1                      | 17.9 c).....  | <input type="checkbox"/> 1        |
| 17.4 a) ..   | $1 \times 10^2 + 2 \times 10^1 + 1 \times 10^0$ | 17.6 e)..... | <input type="radio"/> c                         | 17.9 d).....  | <input type="checkbox"/> 1        |
|              |   |              |   | 17.9 e).....  | <input type="checkbox"/> XOR      |
|              |   |              |   | 17.10 a)..... | <input type="checkbox"/> Vrai     |
|              |   |              |   | 17.10 b)..... | <input type="checkbox"/> Faux     |
|              |   |              |   | 17.10 c)..... | <input type="checkbox"/> Faux     |
|              |   |              |   | 17.10 d)..... | <input type="checkbox"/> Bistable |

## Corrigés

17.1 a) On a

$$3\,746 \text{ ko} = 3,746 \times 10^6 \text{ o}, \quad 3\,221 \text{ Kio} = 3,298 \times 10^6 \text{ o} \quad \text{et} \quad 3,746 \text{ Mio} = 3,928 \times 10^3 \text{ o}.$$

Par comparaison, la valeur la plus faible est la réponse  c.

17.1 b) On a

$$4,588 \text{ Gio} = 4,926 \times 10^9 \text{ o}, \quad 2^{10} \times 4,482 \text{ Mio} = 2^{30} \times 4,482 \text{ o} = 4,813 \times 10^9 \text{ o} \quad \text{et} \quad 2^{10} \times 4,653 \text{ Mo} = 4,765 \times 10^3 \text{ o}.$$

Par comparaison, la valeur la plus faible est la réponse  c.

17.1 c) On a

$$2^{32} \times 2,845 \text{ ko} = 1,222 \times 10^{13} \text{ o} \quad 2^{10} \times 1,368 \text{ Gio} = 2^{40} \times 1,368 \text{ o} = 1,504 \times 10^9 \text{ o}$$
$$2^3 \times 0,158 \text{ To} = 2^3 \times 0,158 \times 10^{12} \text{ o} = 1,264 \times 10^{12} \text{ o}.$$

Par comparaison, la valeur la plus faible est la réponse (b).

17.2 a) On a

$$12/2 \xrightarrow{\text{reste } 0} 6/2 \xrightarrow{\text{reste } 0} 3/2 \xrightarrow{\text{reste } 1} 1/2 \xrightarrow{\text{reste } 1} 0 \quad \text{soit} \quad 1100 \text{ (réponse (b))}.$$

17.2 b) On a

$$35/2 \xrightarrow{\text{reste } 1} 17/2 \xrightarrow{\text{reste } 1} 8/2 \xrightarrow{\text{reste } 0} 4/2 \xrightarrow{\text{reste } 0} 2/2 \xrightarrow{\text{reste } 0} 1/2 \xrightarrow{\text{reste } 1} 0 \quad \text{soit} \quad 100011 \text{ (réponse (b))}.$$

17.2 c) On a

$$123/2 \xrightarrow{\text{reste } 1} 61/2 \xrightarrow{\text{reste } 1} 30/2 \xrightarrow{\text{reste } 0} 15/2 \xrightarrow{\text{reste } 1} 7/2 \xrightarrow{\text{reste } 1} 3/2 \xrightarrow{\text{reste } 1} 1/2 \xrightarrow{\text{reste } 1} 0.$$

Donc, l'écriture en base 2 de 123 est 1111011 : la bonne réponse est (b).

17.2 d) On a

$$255/2 \xrightarrow{\text{reste } 1} 127/2 \xrightarrow{\text{reste } 1} 63/2 \xrightarrow{\text{reste } 1} 31/2 \xrightarrow{\text{reste } 1} 15/2 \xrightarrow{\text{reste } 1} 7/2 \xrightarrow{\text{reste } 1} 3/2 \xrightarrow{\text{reste } 1} 1/2 \xrightarrow{\text{reste } 1} 0.$$

Donc, l'écriture en base 2 de 255 est 11111111 : la bonne réponse est (c).

17.2 e) Le nombre binaire 11111111 correspond à 255 en décimal ; comme le nombre binaire 00000000 correspond à 0 en décimal, un nombre binaire composé de 8 chiffres peut donc prendre  $255 - 0 + 1 = 256$  valeurs.

17.3 a) On a

$$1111 \rightarrow 1 \times 2^3 + 1 \times 2^2 + 1 \times 2^1 + 1 \times 2^0 = 15 \text{ (réponse (b))}.$$

17.3 b) On a

$$10101 \rightarrow 1 \times 2^4 + 0 \times 2^3 + 1 \times 2^2 + 0 \times 2^1 + 1 \times 2^0 = 21 \text{ (réponse (c))}.$$

17.3 c) On a

$$101010 \rightarrow 1 \times 2^5 + 0 \times 2^4 + 1 \times 2^3 + 0 \times 2^2 + 1 \times 2^1 + 1 \times 2^0 = 42 \text{ (réponse (a))}.$$

17.3 d) On a

$$10111101 \rightarrow 1 \times 2^7 + 0 \times 2^6 + 1 \times 2^5 + 1 \times 2^4 + 1 \times 2^3 + 1 \times 2^2 + 0 \times 2^1 + 1 \times 2^0 = 189 \text{ (réponse (b))}.$$

**17.3 e)** D'après l'énoncé et les réponses aux questions a) et c), ce calcul correspond en décimal à  $\frac{42}{15-13}$ , soit  $21|_{10}$ . D'après la question on a  $21|_{10} = 10101|_2$ .

**17.4 a)** La base étant 10, on peut s'appuyer sur l'exemple fourni dans l'énoncé.

On a  $121|_{10} = 1 \times 10^2 + 2 \times 10^1 + 1 \times 10^0$ .

**17.4 b)** La décomposition est similaire à la question précédente, mais la base est désormais 3 et non 10.

On a  $121|_3 = 1 \times 3^2 + 2 \times 3^1 + 1 \times 3^0$ .

**17.4 c)**

- On a  $121|_3 = 1 \times 3^2 + 2 \times 3^1 + 1 \times 3^0 = 9 + 6 + 1 = 16 \neq 121 = 121|_{10}$ . La réponse (a) est vraie.
- Dans une même base, deux nombres d'écriture différentes sont forcément différents. La réponse (b) est fausse.
- On a  $121|_3 = 1 \times 3^2 + 2 \times 3^1 + 1 \times 3^0 = 9 + 6 + 1 = 16$ . La réponse (c) est vraie.
- Raisonnons par contre exemple : si  $b = 10$  le résultat est faux (questions précédentes). La réponse (d) est fausse (sauf si  $b = 3$  mais c'est un cas particulier).

**17.4 d)** La décomposition est similaire aux questions précédentes, mais la base est désormais  $b$ .

On a  $121|_b = 1 \times b^2 + 2 \times b^1 + 1 \times b^0 = b^2 + 2b + 1$ .

**17.4 e)** On a  $121|_b = b^2 + 2b + 1 = (b + 1)^2$  donc  $121|_b$  est pour toute base le carré du nombre  $b + 1$ . Ainsi, la bonne réponse est (d).

Vérifions ce résultat. Si  $b = 10$  alors  $b + 1 = 11|_{10}$  et effectivement  $11^2 = 121|_{10}$ ; si  $b = 3$  alors  $b + 1 = 10|_3 = 9|_{10}$  et effectivement  $4^2 = 16 = 121|_3$ .

**17.5 a)** On remplace  $\bar{A}$ ,  $\bar{B}$  par les formules correspondantes, soit  $\bar{A} \cup \bar{B} = (1 - A) \cup (1 - B)$ .

On remplace alors  $\cup$  par la formule correspondante. On a

$$\begin{aligned} (1 - A) \cup (1 - B) &= (1 - A) + (1 - B) - (1 - A) \times (1 - B) \\ &= 1 - A + 1 - B - (1 - B - A + A \times B) = 1 - A \times B. \end{aligned}$$

**17.5 b)** On remplace  $\bar{A}$ ,  $\bar{B}$  par les formules correspondantes, soit  $\bar{A} \cap \bar{B} = (1 - A) \cap (1 - B)$ .

On remplace alors  $\cap$  par la formule correspondante. On a

$$(1 - A) \cap (1 - B) = (1 - A) \times (1 - B) = 1 - B - A + A \times B = 1 - (A + B) + A \times B.$$

**17.5 c)** On constate que la formule  $1 - A \times B$  correspond à une fonction NON appliquée à une fonction ET appliquée sur les deux entrées  $A$  et  $B$ , soit  $1 - A \times B = \overline{A \times B} = \overline{A \cap B}$ .

**17.5 d)** On constate que la formule  $1 - (A + B) + A \times B$  correspond à une fonction NON appliquée à une fonction OU appliquée sur les deux entrées  $A$  et  $B$ , soit  $1 - (A + B) + A \times B = \overline{A + B - A \times B} = \overline{A \cup B}$ .

**17.5 e)** En identifiant les énoncés de la première question de l'entraînement et les réponses obtenues à la deuxième, on constate que les propositions valides sont (a) (d).

**17.7 a)** Comme  $V_A = V_B = 0$  V, les deux transistors de type 2 sont fermés et les deux transistors de type 1 sont ouverts. La sortie est donc directement liée à  $V_E = 1$  V, donc  $V_S = 1$  V.

**17.7 b)** Comme  $V_A = 1$  V, un des transistors de type 2 est ouvert et un des transistors de type 1 est fermé. La sortie est donc directement liée à la masse, donc  $V_S = 0$  V.

**17.7 c)** Comme  $V_B = 1$  V, un des transistors de type 2 est ouvert et un des transistors de type 1 est fermé. La sortie est donc directement liée à la masse, donc  $V_S = 0$  V.

**17.7 d)** Comme  $V_1 = V_B = 1$  V, les deux transistors de type 2 sont ouverts et les deux transistors de type 1 sont fermés. La sortie est donc directement liée à la masse, donc  $V_S = 0$  V.

**17.7 e)**

On constate que la table de vérité de ce circuit électrique correspond à celle d'une porte NOR. Réponse (c).

$V_A$	$V_B$	$V_S$
0	0	1
1	0	0
0	1	0
1	1	0

**17.8 a)** Comme  $V_1 = V_B = 0$  V, les deux transistors de type 2 sont fermés et les deux transistors de type 1 sont ouverts. La sortie est donc directement liée à la masse, donc  $V_S = 0$  V.

**17.8 b)** Comme  $V_B = 0$ , un des transistors de type 1 est ouvert et un des transistors de type 2 est fermé. La sortie est donc directement liée à la masse, donc  $V_S = 0$  V.

**17.8 c)** Comme  $V_1 = 0$ , un des transistors de type 1 est ouvert et un des transistors de type 2 est fermé. La sortie est donc directement liée à la masse, donc  $V_S = 0$  V.

**17.8 d)** Comme  $V_A = V_B = 1$  V, les deux transistors de type 2 sont ouverts et les deux transistors de type 1 sont fermés. La sortie est donc directement liée à  $V_E = 1$  V, donc  $V_S = 1$  V.

**17.8 e)**

On constate que la table de vérité de ce circuit électrique correspond à celle d'une porte AND. Réponse (b).

$V_A$	$V_B$	$V_S$
0	0	0
1	0	0
0	1	0
1	1	1

**17.9 a)** Si  $A = B = 0$  alors les deux portes ET sont alimentées par une entrée 0 et une entrée 1, donc renvoient chacune 0. La porte OU est donc connectée à deux entrées 0 et renvoie donc 0.

**17.9 b)** Si  $A = B = 1$  alors les deux portes ET sont alimentées par une entrée 0 et une 1, donc renvoient chacune 0. La porte OU est donc connectée à deux entrées 0 et renvoie donc 0.

**17.9 c)** Si  $A = 0$  et  $B = 1$  alors la porte ET en haut est alimentée par deux entrées 1 et renvoie 1, tandis que la porte ET en bas est alimentée par deux entrées 0 et renvoie 0. La porte OU est donc connectée à une entrée 0 et une entrée 1 : elle renvoie donc 1.

.....

**17.9 d)** Si  $A = 1$  et  $B = 0$  alors la porte ET en haut est alimentée par deux entrées 0 et renvoie 0, tandis que la porte ET en bas est alimentée par deux entrées 1 et renvoie 1. La porte OU est donc connectée à une entrée 0 et une entrée 1 : elle renvoie donc 1.

.....

**17.9 e)** Le signal en sortie sera nul si et seulement si les deux entrées sont de même niveau logique. Cela correspond à la fonction OU EXCLUSIF, aussi notée XOR.

.....

**17.10 a)** Cette situation se produit notamment avant l'instant  $t_1$  (on a  $Q = 0$ ), entre les instants  $t_4$  et  $t_5$  (on a  $Q = 1$ ) et après l'instant  $t_8$  (on a  $Q = 1$ ). On constate qu'alors la valeur de  $Q$  correspond à celle avant que la situation ne se produise : la sortie reste dans son état antérieur. L'affirmation est vraie.

.....

**17.10 b)** Lorsque  $R$  passe du niveau logique 0 à 1 (aux instants  $t_1$  et  $t_5$ ), la sortie  $Q$  passe immédiatement de son état antérieur à 0, et non pas à l'état 1. La commande permet au contraire d'assurer que  $Q$  vaut 0 (on parle de commande *Reset* en anglais signifiant réinitialiser). L'affirmation est donc fausse.

.....

**17.10 c)** Lorsque  $S$  passe du niveau logique 0 à 1 (aux instants  $t_3$  et  $t_7$ ) la sortie  $Q$  passe à 1 (on parle de commande *Set* en anglais signifiant initialiser), mais lorsque  $S$  repasse à 0 depuis l'état 1 (aux instants  $t_4$  et  $t_8$ ) on constate que la sortie  $Q$  reste à l'état 1 (elle ne passe pas mais reste!). L'affirmation est donc fausse.

.....

**17.10 d)** Une fois la sortie  $Q$  dans un état, seule l'activation de l'une des commandes ( $R$  ou  $S$ ) la fera changer de valeur. Autrement dit, les deux états logiques 0 et 1 de  $Q$  sont stables (quand un jeu de niveaux d'entrée la met dans un état de sortie, elle y reste) et l'on peut dire que la bascule RS est un circuit bistable.

.....

# Fiche n° 18. Physique quantique

## Réponses

- 18.1 a) .....  $1,9 \times 10^{-34} \text{ m}$
- 18.1 b) .....  $7 \times 10^{-21} \text{ m}$
- 18.1 c) .....  $8 \times 10^{-6} \text{ m}$
- 18.1 d) .....  $2,5 \times 10^{-11} \text{ m}$
- 18.1 e) .....  $\textcircled{c}$  et  $\textcircled{d}$
- 18.2 a) .....  $\frac{1}{2}$
- 18.2 b) .....  $\frac{3}{4}$
- 18.2 c) .....  $\frac{5 - 2\sqrt{6}}{12}$
- 18.2 d) .....  $\frac{11 - 2\sqrt{6}}{12}$
- 18.3 a) .....  $A = \frac{1}{2a}$
- 18.3 b) .....  $A = \frac{1}{\sqrt{b}}$
- 18.3 c) .....  $A = \frac{1}{2} \sqrt{\frac{3}{a}}$
- 18.4 a) .....  $A = \sqrt{\frac{2}{a}}$
- 18.4 b) .....  $A = \frac{1}{2\sqrt{a}}$
- 18.4 c) .....  $A = \sqrt{\frac{3}{b}}$
- 18.5 .....  $\textcircled{a}$  et  $\textcircled{c}$
- 18.6 a) .....  $0$
- 18.6 b) .....  $\frac{\hbar^2 k^2}{2m}$
- 18.6 c) .....  $\textcircled{a}$
- 18.6 d) .....  $\textcircled{b}$
- 18.6 e) .....  $|\Psi(x, t)|^2 = A^2$
- 18.6 f) ..... oui
- 18.7 a) .....  $A = \sqrt{\frac{2\alpha}{\pi}}$
- 18.7 b) .....  $\frac{1}{4} + \frac{1}{2\pi}$
- 18.7 c) .....  $0$
- 18.8 a) .....  $\textcircled{b}$
- 18.8 b) .....  $A = 2\alpha^{3/2}$
- 18.8 c) .....  $1 - 5e^{-2}$
- 18.9 a) .....  $-\frac{2m}{\hbar^2} E \varphi_{\text{I}}(x)$
- 18.9 b) ..  $A_{\text{I}} \cos\left(\sqrt{\frac{2m}{\hbar^2}} Ex\right) + B_{\text{I}} \sin\left(\sqrt{\frac{2m}{\hbar^2}} Ex\right)$
- 18.9 c) .....  $-\frac{2m}{\hbar^2} (E - V_{\text{II}}) \varphi_{\text{II}}(x)$
- 18.9 d) .....  $A_{\text{II}} \cos\left(\sqrt{\frac{2m}{\hbar^2}} (E - V_{\text{II}}) x\right) + B_{\text{II}} \sin\left(\sqrt{\frac{2m}{\hbar^2}} (E - V_{\text{II}}) x\right)$
- 18.9 e) .....  $\frac{2m}{\hbar^2} (V_{\text{III}} - E) \varphi_{\text{III}}(x)$
- 18.9 f) .....  $A_{\text{III}} e^{\sqrt{\frac{2m}{\hbar^2}} (V_{\text{III}} - E) x} + B_{\text{III}} e^{-\sqrt{\frac{2m}{\hbar^2}} (V_{\text{III}} - E) x}$
- 18.9 g) .....  $B_{\text{III}} e^{-\sqrt{\frac{2m}{\hbar^2}} (V_{\text{III}} - E) x}$
- 18.10 a) .....  $\textcircled{b}$
- 18.10 b) .....  $A_{\text{I}} e^{-Qa} = A_{\text{II}} \cos(Ka)$

- 18.10 c) .....  $QA_{\text{I}}e^{-Qa} = KA_{\text{II}} \sin(Ka)$
- 18.10 d) .....  $A_{\text{III}}e^{-Qa} = A_{\text{II}} \cos(Ka)$
- 18.10 e) .....  $QA_{\text{III}}e^{-Qa} = KA_{\text{II}} \sin(Ka)$
- 18.10 f) .....  $A_{\text{I}} = A_{\text{III}}$
- 18.10 g) .....  $\frac{Q}{K} = \tan(Ka)$
- 18.11 a) ..... (c)
- 18.11 b) .....  $A_{\text{I}}e^{-Qa} = -A_{\text{II}} \sin(Ka)$
- 18.11 c) .....  $QA_{\text{I}}e^{-Qa} = KA_{\text{II}} \cos(Ka)$
- 18.11 d) .....  $A_{\text{III}}e^{-Qa} = A_{\text{II}} \sin(Ka)$
- 18.11 e) .....  $-QA_{\text{III}}e^{-Qa} = KA_{\text{II}} \cos(Ka)$
- 18.11 f) .....  $A_{\text{I}} = -A_{\text{III}}$
- 18.11 g) .....  $-\frac{K}{Q} = \tan(Ka)$
- 18.12 a) .....  $\frac{16E(V_0 - E)}{V_0^2}$
- 18.12 b) ..... (b)
- 18.12 c) ..... (b)
- 18.12 d) ..... (a)
- 18.13 a) .....  $1,4 \cdot 10^{-4}$
- 18.13 b) .....  $1,4 \mu\text{A}$
- 18.13 c) ..... (b)
- 18.13 d) .....  $1,7 \times 10^{-193} \text{ A}$

## Corrigés

18.1 b) Attention à la conversion de la masse  $m$  du grain de pollen : on a  $m = 5 \times 10^{-12} \text{ kg}$ .

18.1 c) On a  $\lambda = \frac{h}{p} = \frac{h}{m \times v} = \frac{6,6 \times 10^{-34} \text{ kg} \cdot \text{m}^2 \text{s}^{-1} \cdot 3600 \text{ s} \cdot \text{h}}{3 \times 10^{-21} \text{ kg} \cdot 0,1 \times 10^{-3} \text{ m} \cdot \text{h}} = 8 \times 10^{-6} \text{ m}$ .

18.1 d) On a  $\lambda = \frac{h}{p} = \frac{h \times \mathcal{N}_A}{M \times v} = \frac{6,6 \times 10^{-34} \text{ kg} \cdot \text{m}^2 \text{s}^{-1} \times 6,0 \times 10^{23} \text{ mol}^{-1} \times 3600 \text{ s} \cdot \text{h}}{32,0 \times 10^{-3} \text{ kg} \cdot \text{mol}^{-1} \times 1800 \times 10^3 \text{ m} \cdot \text{h}} = 2,5 \times 10^{-11} \text{ m}$ .

18.1 e) On a, pour (a) :  $10 \times 10^{-3} \text{ m} > 1,9 \times 10^{-32} \text{ m}$ ; pour (b) :  $5 \times 10^{-6} \text{ m} > 7 \times 10^{-19} \text{ m}$ ;  
pour (c)  $4,2 \times 10^{-8} \text{ m} < 8 \times 10^{-4} \text{ m}$ ; pour (d)  $2,9 \times 10^{-10} \text{ m} < 2,5 \times 10^{-9} \text{ m}$ .

Le virus de l'hépatite B ainsi que la molécule de  $\text{O}_2$  peuvent donc être qualifiés de quantiques.

18.2 a) On obtient  $|\varphi_1(M)|^2 = \frac{1}{2}$ .

18.2 b) Avec l'ouverture des fentes n° 1 et n° 2, on obtient

$$|\varphi_1 + \varphi_2|^2 = |\varphi_1|^2 + |\varphi_2|^2 + 2 \operatorname{Re}(\varphi_1 \varphi_2^*) = \frac{1}{2} + \frac{1}{4} + 2 \operatorname{Re}\left(\frac{1}{\sqrt{2}} \times \frac{-i}{2}\right) = \frac{3}{4}.$$

Il est également possible de raisonner à l'aide de la définition du module d'un nombre complexe :

$$|\varphi_1 + \varphi_2|^2 = \left| \frac{1}{\sqrt{2}} + \frac{i}{2} \right|^2 = \left( \sqrt{\left(\frac{1}{\sqrt{2}}\right)^2 + \left(\frac{1}{2}\right)^2} \right)^2 = \frac{1}{2} + \frac{1}{4} = \frac{3}{4}.$$

**18.2 c)** Avec l'ouverture des fentes n° 2 et n° 3, on obtient

$$|\varphi_2 + \varphi_3|^2 = |\varphi_2|^2 + |\varphi_3|^2 + 2 \operatorname{Re}(\varphi_2 \varphi_3^*) = \frac{1}{4} + \frac{1}{6} + 2 \operatorname{Re}\left(\frac{i}{2} \times \frac{e^{i\pi/2}}{\sqrt{6}}\right) = \frac{5}{12} + 2\left(-\frac{\sqrt{6}}{12}\right) = \frac{5 - 2\sqrt{6}}{12}.$$

En effet, on a  $i e^{i\pi/2} = -1$  et  $\frac{1}{\sqrt{6}} = \frac{\sqrt{6}}{6}$ .

**18.2 d)** Avec l'ouverture de toutes les fentes, on obtient

$$\begin{aligned} |\varphi_1 + \varphi_2 + \varphi_3|^2 &= |\varphi_1|^2 + |\varphi_2|^2 + |\varphi_3|^2 + 2 \operatorname{Re}(\varphi_1 \varphi_2^* + \varphi_1 \varphi_3^* + \varphi_2 \varphi_3^*) \\ &= \frac{1}{2} + \frac{1}{4} + \frac{1}{6} + 2 \operatorname{Re}\left(\frac{-i}{\sqrt{8}} + \frac{e^{i\pi/2}}{\sqrt{12}} + \frac{i e^{i\pi/2}}{\sqrt{24}}\right) = \frac{11}{12} + 2\left(\frac{-1}{\sqrt{24}}\right) = \frac{11 - 2\sqrt{6}}{12}. \end{aligned}$$

**18.3 a)** Calculons la probabilité de présence dans tout l'espace. On a

$$\int_{-\infty}^{+\infty} |\varphi(x)|^2 dx = A \int_{-\infty}^{+\infty} e^{-|x|/a} dx = 2A \int_0^{+\infty} e^{-x/a} dx = 2A [-ae^{-x/a}]_0^{+\infty} = 2Aa = 1.$$

Donc, on a  $A = \frac{1}{2a}$ .

**18.3 b)** De même, calculons la probabilité de présence dans tout l'espace. On a

$$\int_{-\infty}^{+\infty} |\varphi(x)|^2 dx = A^2 \int_{-\infty}^{+\infty} e^{-2|x|/b} dx = 2A^2 \int_0^{+\infty} e^{-2x/b} dx = 2A^2 \left[-\frac{b}{2} e^{-2x/b}\right]_0^{+\infty} = A^2 b = 1.$$

Donc, on a  $A = \frac{1}{\sqrt{b}}$ .

**18.3 c)** De même, calculons la probabilité de présence dans tout l'espace. On a

$$\int_{-\infty}^{+\infty} |\varphi(x)|^2 dx = A^2 \int_{-a}^a \left(1 - \frac{x^2}{a^2}\right) dx = A^2 \left[x - \frac{x^3}{3a^2}\right]_{-a}^a = \frac{4}{3} A^2 a = 1 \quad \text{donc} \quad A = \frac{1}{2} \sqrt{\frac{3}{a}}.$$

**18.4 a)** De même, calculons la probabilité de présence dans tout l'espace. On a

$$\int_{-\infty}^{+\infty} |\varphi(x)|^2 dx = A^2 \int_0^a \cos^2\left(\frac{\pi x}{a}\right) dx = \frac{A^2}{2} \int_0^a \left(1 + \cos\left(\frac{2\pi x}{a}\right)\right) dx = \frac{A^2}{2} \left[x + \frac{a}{2\pi} \sin\left(\frac{2\pi x}{a}\right)\right]_0^a = \frac{A^2 a}{2} = 1.$$

Donc, on a  $A = \sqrt{\frac{2}{a}}$ .

**18.4 b)** Tout d'abord, calculons la densité de probabilité de présence  $|\varphi(x)|^2$  : on a

$$|\varphi(x)|^2 = \varphi(x) \varphi^*(x) = A^2 (e^{i\pi x/a} + 1) (e^{-i\pi x/a} + 1) = 2A^2 \left(1 + \cos\left(\frac{\pi x}{a}\right)\right).$$

Passons à la probabilité de présence dans tout l'espace. On a

$$\int_{-\infty}^{\infty} |\varphi(x)|^2 dx = 2A^2 \int_{-a}^a \left(1 + \cos\left(\frac{\pi x}{a}\right)\right) dx = 2A^2 \left[x + \frac{a}{\pi} \sin\left(\frac{\pi x}{a}\right)\right]_{-a}^a = 4A^2 a = 1.$$

Ainsi, on a  $A = \frac{1}{2\sqrt{a}}$ .



**18.4 c)** Par décomposition, la probabilité de présence  $P$  dans tout l'espace s'écrit

$$P = A^2 \int_0^a \frac{x^2}{a^2} dx + A^2 \int_a^b \frac{(b-x)^2}{(b-a)^2} dx = A^2 \left[ \frac{x^3}{3a^2} \right]_0^a + \frac{A^2}{(b-a)^2} \left[ \frac{X^3}{3} \right]_0^{b-a} = \frac{A^2 a}{3} + \frac{A^2 (b-a)}{3},$$

où on utilise le changement de variable  $X = b - x$ . La normalisation de la probabilité donne  $A = \sqrt{\frac{3}{b}}$ .

**18.5** En mécanique quantique, un état stationnaire est représenté par une fonction d'onde dont la densité de probabilité de présence  $|\Psi(x, t)|^2$  est indépendante du temps.

- (a)  $|\Psi(x, t)|^2 = A^2 \neq f(t)$ . (d)  $|\Psi(x, t)|^2 = A^2 \cos^2(kx) \cos^2(\omega t) = f(x, t)$ .  
 (b)  $|\Psi(x, t)|^2 = A^2 \cos^2(kx - \omega t) = f(x, t)$ . (e)  $|\Psi(x, t)|^2 = 2A^2(1 + \cos((\omega_2 - \omega_1)t)) = f(t)$ .  
 (c)  $|\Psi(x, t)|^2 = A^2 \cos^2(kx) \neq f(t)$ .

Ainsi, les fonctions d'onde (a) et (c) représentent des états stationnaires.

**18.6 a)** La grandeur  $V(x, t)$  représente l'énergie potentielle. Pour une particule libre, elle est nulle.

**18.6 c)** Seule la forme  $\Psi(x, t) = Ae^{i(kx - \omega t)}$  permet de retrouver, avec les bons signes, l'énergie totale d'une particule quantique :  $\frac{\hbar^2 k^2}{2m} + V = \hbar\omega$ , où  $V = 0$  puisqu'il s'agit d'une particule libre.

**18.6 d)** La fonction d'onde s'exprime comme une fonction de la forme  $f(x - ct)$ , il s'agit d'une onde progressive suivant les  $x$  croissants.

**18.6 f)** La densité de probabilité de présence  $|\Psi(x, t)|^2$  ne dépend pas du temps alors l'état est stationnaire.

**18.7 a)** Calculons la probabilité de présence dans tout l'espace. On a

$$\int_{-\infty}^{+\infty} |\varphi(x)|^2 dx = A^2 \int_{-\frac{\pi}{2\alpha}}^{\frac{\pi}{2\alpha}} \cos^2(\alpha x) dx = A^2 \int_0^{\frac{\pi}{2\alpha}} (1 + \cos(2\alpha x)) dx = A^2 \left[ x + \frac{1}{2\alpha} \sin(2\alpha x) \right]_0^{\frac{\pi}{2\alpha}} = \frac{A^2 \pi}{2\alpha} = 1.$$

Donc, on a  $A = \sqrt{\frac{2\alpha}{\pi}}$ .

**18.7 b)** Pour calculer cette probabilité, reprenons le calcul précédent en changeant les bornes d'intégration :

$$P = \int_0^{\frac{\pi}{4\alpha}} |\varphi(x)|^2 dx = \frac{A^2}{2} \int_0^{\frac{\pi}{4\alpha}} (1 + \cos(2\alpha x)) dx = \frac{\alpha}{\pi} \left[ x + \frac{1}{2\alpha} \sin(2\alpha x) \right]_0^{\frac{\pi}{4\alpha}} = \frac{1}{4} + \frac{1}{2\pi}.$$

**18.7 c)** Le calcul de la position moyenne n'est pas nécessaire. Il suffit de remarquer que la densité de probabilité de présence est paire dans l'intervalle. Par conséquent, la position moyenne est nulle :  $\langle x \rangle = 0$ .

**18.8 a)** Le calcul de la probabilité de présence dans tout l'espace s'écrit

$$\int_{-\infty}^{+\infty} |\Psi(x, t)|^2 dx = A^2 \int_0^{+\infty} x^2 e^{-2\alpha x} dx.$$

Il s'agit donc de la réponse (b).

**18.8 b)** La normalisation de la fonction d'onde impose

$$P = \int_{-\infty}^{+\infty} |\Psi(x, t)|^2 dx = A^2 \int_0^{+\infty} x^2 e^{-2\alpha x} dx = 1.$$

Calculons l'intégrale, à l'aide d'une intégration par parties : on a

$$\begin{aligned} \int_0^{+\infty} x^2 e^{-2\alpha x} dx &= \left[ -\frac{x^2}{2\alpha} e^{-2\alpha x} \right]_0^{+\infty} + \int_0^{+\infty} \frac{x}{\alpha} e^{-2\alpha x} dx \\ &= 0 + \frac{1}{\alpha} \left( \left[ -\frac{x}{2\alpha} e^{-2\alpha x} \right]_0^{+\infty} + \int_0^{+\infty} \frac{1}{2\alpha} e^{-2\alpha x} dx \right) = 0 - \frac{1}{4\alpha^3} \left[ e^{-2\alpha x} \right]_0^{+\infty} = \frac{1}{4\alpha^3}. \end{aligned}$$

Il vient, par normalisation,  $A = 2\alpha^{3/2}$ .

**18.8 c)** La probabilité de trouver la particule dans l'intervalle  $[0, 1/\alpha]$  se détermine par

$$P = \int_0^{1/\alpha} |\Psi(x, t)|^2 dx = 4\alpha^3 \int_0^{1/\alpha} x^2 e^{-2\alpha x} dx.$$

Le calcul est similaire au cas précédent en remplaçant la borne supérieure. Ainsi,

$$\begin{aligned} \int_0^{1/\alpha} x^2 e^{-2\alpha x} dx &= \left[ -\frac{x^2}{2\alpha} e^{-2\alpha x} \right]_0^{1/\alpha} + \int_0^{1/\alpha} \frac{x}{\alpha} e^{-2\alpha x} dx \\ &= -\frac{e^{-2}}{2\alpha^3} + \frac{1}{\alpha} \left( \left[ -\frac{x}{2\alpha} e^{-2\alpha x} \right]_0^{1/\alpha} + \int_0^{1/\alpha} \frac{1}{2\alpha} e^{-2\alpha x} dx \right) \\ &= -\frac{e^{-2}}{2\alpha^3} - \frac{e^{-2}}{2\alpha^3} - \frac{1}{4\alpha^2} \left[ e^{-2\alpha x} \right]_0^{1/\alpha} = \frac{1}{4\alpha^3} (1 - 5e^{-2}). \end{aligned}$$

Finalement,  $P = 1 - 5e^{-2}$ .

**18.9 a)** Dans la zone I, le potentiel est nul. Donc, d'après l'équation de Schrödinger indépendante du temps,

$$-\frac{\hbar^2}{2m} \frac{d^2 \varphi_I(x)}{dx^2} = E \varphi_I(x) \quad \text{donc} \quad \frac{d^2 \varphi_I(x)}{dx^2} = -\frac{2m}{\hbar^2} E \varphi_I(x).$$

**18.9 b)** Comme le coefficient  $-\frac{2m}{\hbar^2} E < 0$ , il vient que  $\varphi_I(x) = A_I \cos\left(\sqrt{\frac{2m}{\hbar^2} E} x\right) + B_I \sin\left(\sqrt{\frac{2m}{\hbar^2} E} x\right)$ .

**18.9 c)** Dans la zone II, d'après l'équation de Schrödinger indépendante du temps, il vient que

$$-\frac{\hbar^2}{2m} \frac{d^2 \varphi_{II}(x)}{dx^2} + V_{II} \varphi_{II}(x) = E \varphi_{II}(x) \quad \text{donc} \quad \frac{d^2 \varphi_{II}(x)}{dx^2} = -\frac{2m}{\hbar^2} (E - V_{II}) \varphi_{II}(x).$$

**18.9 d)** Comme le coefficient  $-\frac{2m}{\hbar^2} (E - V_{II}) < 0$  il vient que

$$\varphi_{II}(x) = A_{II} \cos\left(\sqrt{\frac{2m}{\hbar^2} (E - V_{II})} x\right) + B_{II} \sin\left(\sqrt{\frac{2m}{\hbar^2} (E - V_{II})} x\right).$$

**18.9 e)** Dans la zone III, d'après l'équation de Schrödinger indépendante du temps, il vient que

$$-\frac{\hbar^2}{2m} \frac{d^2 \varphi_{\text{III}}(x)}{dx^2} + V_{\text{III}} \varphi_{\text{III}}(x) = E \varphi_{\text{III}}(x) \quad \text{soit} \quad \frac{d^2 \varphi_{\text{III}}(x)}{dx^2} = \frac{2m}{\hbar^2} (V_{\text{III}} - E) \varphi_{\text{III}}(x).$$

**18.9 f)** Comme on a  $\frac{2m}{\hbar^2} (V_{\text{III}} - E) > 0$ , il vient que

$$\varphi_{\text{III}}(x) = A_{\text{III}} e^{\sqrt{\frac{2m}{\hbar^2} (V_{\text{III}} - E)} x} + B_{\text{III}} e^{-\sqrt{\frac{2m}{\hbar^2} (V_{\text{III}} - E)} x}.$$

**18.9 g)** Lorsque  $x \rightarrow +\infty$  dans la zone III, le terme  $A_{\text{III}} e^{\sqrt{\frac{2m}{\hbar^2} (V_{\text{III}} - E)} x} \rightarrow +\infty$ , il faut donc le supprimer afin que la fonction d'onde soit de carré sommable. Ainsi, on a  $\varphi_{\text{III}}(x) = B_{\text{III}} e^{-\sqrt{\frac{2m}{\hbar^2} (V_{\text{III}} - E)} x}$ .

**18.10 a)** En dérivant par rapport à  $x$  les expressions données pour les fonctions  $\varphi_{\text{I}}$ ,  $\varphi_{\text{II}}$  et  $\varphi_{\text{III}}$ , on trouve directement  $\gamma = A_{\text{III}}$ ,  $\alpha = A_{\text{II}}$  et  $\beta = A_{\text{I}}$ .

**18.10 b)** On a  $A_{\text{I}} e^{-Qa} = A_{\text{II}} \cos(-Ka)$  donc  $A_{\text{I}} e^{-Qa} = A_{\text{II}} \cos(Ka)$ .

**18.10 c)** On a  $QA_{\text{I}} e^{-Qa} = -KA_{\text{II}} \sin(-Ka)$  donc  $QA_{\text{I}} e^{-Qa} = KA_{\text{II}} \sin(Ka)$ .

**18.10 e)** On a  $-QA_{\text{III}} e^{-Qa} = -KA_{\text{II}} \sin(Ka)$  donc  $QA_{\text{III}} e^{-Qa} = KA_{\text{II}} \sin(Ka)$ .

**18.10 f)** D'après les réponses aux questions b) et d), il vient que

$$A_{\text{I}} e^{-Qa} = A_{\text{II}} \cos(Ka) \quad \text{et} \quad A_{\text{III}} e^{-Qa} = A_{\text{II}} \cos(Ka) \quad \text{donc} \quad A_{\text{I}} e^{-Qa} = A_{\text{III}} e^{-Qa} \quad \text{soit} \quad A_{\text{I}} = A_{\text{III}}.$$

**18.10 g)** D'après les réponses des questions d) et e), il vient que

$$A_{\text{I}} e^{-Qa} = A_{\text{II}} \cos(Ka) \quad \text{et} \quad QA_{\text{I}} e^{-Qa} = KA_{\text{II}} \sin(Ka).$$

Donc, on a  $QA_{\text{II}} \cos(Ka) = KA_{\text{II}} \sin(Ka)$ ; et donc  $\frac{Q}{K} = \tan(Ka)$ .

**18.11 a)** En dérivant par rapport à  $x$  les expressions données pour les fonctions  $\varphi_{\text{I}}$ ,  $\varphi_{\text{II}}$  et  $\varphi_{\text{III}}$ , on trouve directement  $\alpha = A_{\text{III}}$ ,  $\beta = A_{\text{II}}$  et  $\delta = A_{\text{I}}$ .

**18.11 b)** On a  $A_{\text{I}} e^{-Qa} = A_{\text{II}} \sin(-Ka)$  donc  $A_{\text{I}} e^{-Qa} = -A_{\text{II}} \sin(Ka)$ .

**18.11 c)** On a  $QA_{\text{I}} e^{-Qa} = KA_{\text{II}} \cos(-Ka)$  donc  $QA_{\text{I}} e^{-Qa} = KA_{\text{II}} \cos(Ka)$ .

**18.11 f)** D'après les réponses des questions e) et g), il vient que

$$QA_{\text{I}} e^{-Qa} = KA_{\text{II}} \cos(Ka) \quad \text{et} \quad -QA_{\text{III}} e^{-Qa} = KA_{\text{II}} \cos(Ka).$$

Donc, on a  $QA_{\text{I}} e^{-Qa} = -QA_{\text{III}} e^{-Qa}$ ; et donc  $A_{\text{I}} = -A_{\text{III}}$ .

**18.11 g)** D'après les réponses des questions f) et g), il vient que

$$A_{III}e^{-Qa} = A_{II} \sin(Ka) \quad \text{et} \quad -QA_{III}e^{-Qa} = KA_{II} \cos(Ka).$$

Donc, on a  $-QA_{II} \sin(Ka) = KA_{II} \cos(Ka)$ ; et donc  $-\frac{K}{Q} = \tan(Ka)$ .

**18.12 a)** Grâce à l'approximation donnée dans l'énoncé, on peut écrire :

$$1 + \frac{V_0^2}{4E(V_0 - E)} \sinh^2(ka) \approx \frac{V_0^2}{4E(V_0 - E)} \left( \frac{e^{ka}}{2} \right)^2 = \frac{V_0^2 e^{2ka}}{16E(V_0 - E)}.$$

Le coefficient  $T$  s'écrit donc :

$$T = \frac{16E(V_0 - E)}{V_0^2} e^{-2ka} \quad \text{d'où} \quad T_0 = \frac{16E(V_0 - E)}{V_0^2}.$$

**18.12 b)** Le coefficient de transmission est proportionnel à  $e^{-2ka}$ . Ainsi, plus la barrière est épaisse (donc plus  $a$  est grand), plus la probabilité de transmission diminue.

**18.12 c)** En explicitant la valeur de  $k$ , on voit que le coefficient de transmission est proportionnel à  $e^{-\sqrt{m}}$  : plus  $m$  augmente, plus la probabilité de transmission diminue. Un proton a donc beaucoup moins de chances d'être transmis qu'un électron.

**18.12 d)** Si l'énergie  $E$  de la particule augmente,  $k$  diminue et ainsi, le coefficient de transmission  $T = e^{-2ka}$  augmente.

**18.13 a)** Dans le cas d'un électron, de masse  $m_e = 9,1 \times 10^{-31}$  kg, on trouve  $k = 5,2 \times 10^9$  m<sup>-1</sup>, ce qui conduit à  $T = 1,4 \cdot 10^{-4}$ .

**18.13 b)** L'intensité transmise  $I_t$  est donnée par  $I_t = T \times I = 1,4 \times 10^{-4} \times 10 \text{ mA} = 1,4 \times 10^{-6} \text{ A} = 1,4 \mu\text{A}$ .

**18.13 c)** Même justification que pour la question c) de l'exercice précédent.

**18.13 d)** En remplaçant par des protons, on obtient  $k = 4,2 \times 10^{11}$  m<sup>-1</sup> et  $T' = 1,7 \times 10^{-191}$  : la probabilité de transmission est extrêmement faible. Par conséquent,  $I'_t = T' \times I = 11,7 \times 10^{-193}$  A.

On peut considérer le courant transmis  $I'_t$  nul.

## Fiche n° 19. Courbes intensité-potentiel

### Réponses

- 19.1 a) .....  $10^{-3}$  mol/L      19.6 e) .....  $-0,36$  V
- 19.1 b) ..... 0 V      19.7 a) ..... (a)
- 19.2 a) ..... (a)      19.7 b) ..... (d)
- 19.2 b) ..... (b)      19.7 c) ..... (c)
- 19.2 c) ..... Cu      19.7 d) ..... (a) et (b)
- 19.2 d) .....  $\text{Cu}^{2+}$       19.7 e) ..... (a)
- 19.3 a) ..... Oxydation      19.8 a) ..... (c)
- 19.3 b) ..... (a)      19.8 b) .....  $-0,3$  mA
- 19.3 c) ..... Réduction      19.8 c) .....  $-0,03$  mA
- 19.3 d) ..... (b)      19.9 a) .....  $2 \text{Cl}^- \rightarrow \text{Cl}_2 + 2 \text{e}^-$
- 19.4 ..... (a)      19.9 b) .....  $2 \text{H}_2\text{O} \rightarrow \text{O}_2 + 4 \text{H}^+ + 4 \text{e}^-$
- 19.5 a) ..... 0,4 V      19.10 a) ...  $2 \text{IO}_3^- + 12 \text{H}^+ + 10 \text{e}^- = \text{I}_2 + 6 \text{H}_2\text{O}$
- 19.5 b) .....  $-0,3$  V      19.10 b) ..... (3)
- 19.5 c) ..... 0,2 V      19.10 c) ..... (6)
- 19.5 d) .....  $-0,1$  V      19.10 d) ..... (2) et (7)
- 19.6 a) ..... lent      19.10 e) ..... 0,15 V
- 19.6 b) ...  $\text{HSO}_4^- + 3 \text{H}^+ + 2 \text{e}^- = \text{SO}_2 + 2 \text{H}_2\text{O}$       19.10 f) .....  $-0,26$  V
- 19.6 c) .....  $-0,14$  V      19.10 g) ..... (a) et (c)
- 19.6 d) ..... 0,34 V

### Corrigés

19.1 a) La demi-équation électronique du couple rédox  $\text{Cu}^{2+}/\text{Cu}$  s'écrit  $\text{Cu}^{2+} + 2 \text{e}^- = \text{Cu}$ . Le potentiel de l'électrode de travail à courant nul s'identifie au potentiel de Nernst à savoir :

$$E_{\text{ab}} = E_{\text{Cu}^{2+}/\text{Cu}}^{\circ} + \frac{0,06}{2} \log \left( \frac{[\text{Cu}^{2+}]}{C^{\circ}} \right) = E_{\text{Cu}^{2+}/\text{Cu}}^{\circ} + \frac{0,06}{2} \log \left( \frac{C}{C^{\circ}} \right).$$

Sur le graphique, nous lisons  $E_{\text{ab}} = 0,25$  V. Nous obtenons donc :

$$C = C^{\circ} \times 10^{\frac{2(E_{\text{ab}} - E^{\circ})}{0,06}} = 1 \text{ mol/L} \times 10^{\frac{2(0,25 \text{ V} - 0,34 \text{ V})}{0,06 \text{ V}}} = 10^{-3} \text{ mol/L}.$$

19.1 b) La tension lue au voltmètre est  $U = E_{\text{Cu}^{2+}/\text{Cu}} - E_{\text{ECS}} = 0,25 \text{ V} - 0,25 \text{ V} = 0 \text{ V}$ .

19.2 a) Plus le potentiel est faible plus le milieu est réducteur. Le domaine ① est le domaine du réducteur.

19.2 b) Plus le potentiel est élevé, plus le milieu est oxydant. Le domaine ② est le domaine de l'oxydant.

19.2 c) Dans  $\text{Cu}^{2+}/\text{Cu}$ , Cu est le réducteur. L'espèce A appartient au domaine du réducteur : c'est Cu.

19.2 d) Dans  $\text{Cu}^{2+}/\text{Cu}$ ,  $\text{Cu}^{2+}$  est l'oxydant. L'espèce B appartient au domaine de l'oxydant : c'est  $\text{Cu}^{2+}$ .

19.3 a) Au niveau de l'anode se produit une oxydation. La réaction est alors :  $\text{Fe} \rightarrow \text{Fe}^{2+} + 2\text{e}^-$ .

19.3 c) Au niveau de la cathode se produit une réduction. La réaction est alors :  $\text{Fe}^{2+} + 2\text{e}^- \rightarrow \text{Fe}$ .

19.4 On considère la réaction  $\text{Fe}^{3+} + \text{e}^- \rightarrow \text{Fe}^{2+}$ .

Comme  $\text{Fe}^{2+}$  est le réducteur, il est à droite de la courbe ; comme  $\text{Fe}^{3+}$  est l'oxydant, il est à gauche de la courbe.

Au niveau de la partie anodique de la courbe ( $i > 0$ ), une oxydation est observée. La flèche va donc du réducteur vers l'oxydant. Au niveau de la partie cathodique de la courbe ( $i < 0$ ), une réduction est observée. La flèche va donc de l'oxydant vers le réducteur. Seule la figure @ convient.

19.5 a) On a  $E(20 \text{ mA}) = 0,6 \text{ V}$  et  $E_{\text{ab}} = 0,2 \text{ V}$ . Nous avons donc  $\eta_a = E(20 \text{ mA}) - E_{\text{ab}} = 0,4 \text{ V}$ .

19.5 b) On a  $E(-20 \text{ mA}) = -0,1 \text{ V}$  et  $E_{\text{ab}} = 0,2 \text{ V}$ . Nous avons donc  $\eta_c = E(-20 \text{ mA}) - E_{\text{ab}} = -0,3 \text{ V}$ .

19.5 c) On a  $\lim_{i_0 \rightarrow 0^+} E(i_0) = 0,4 \text{ V}$  et  $E_{\text{ab}} = 0,2 \text{ V}$ . Nous avons donc  $\eta_a = 0,2 \text{ V}$ .

19.5 d) On a  $\lim_{i'_0 \rightarrow 0^-} E(i'_0) = 0,1 \text{ V}$  et  $E_{\text{ab}} = 0,2 \text{ V}$ . Nous avons donc  $\eta_c = -0,1 \text{ V}$ .

19.6 a) On a  $V_{\text{ox}} \neq V_{\text{red}}$  ; le couple est donc lent.

19.6 c) On a  $E(\text{HSO}_4^-/\text{SO}_2) = E^\circ(\text{HSO}_4^-/\text{SO}_2) + \frac{0,06}{2} \log \left( \frac{[\text{HSO}_4^-][\text{H}^+]^3}{[\text{SO}_2] \cdot C^\circ{}^3} \right)$ . Ainsi,

$$E(\text{HSO}_4^-/\text{SO}_2) = 0,16 \text{ V} + 0,03 \text{ V} \cdot \log \left( \frac{10^{-1} \text{ mol/L} \cdot (10^{-4} \text{ mol/L})^3}{10^{-3} \text{ mol/L} \cdot (1 \text{ mol/L})^3} \right) = -0,14 \text{ V}.$$

19.6 d) Le surpotentiel anodique s'écrit  $\eta_a = V_{\text{ox}} - E(\text{HSO}_4^-/\text{SO}_2) = 0,2 \text{ V} - (-0,14 \text{ V}) = 0,34 \text{ V}$ .

19.6 e) Le surpotentiel cathodique s'écrit :  $\eta_c = V_{\text{red}} - E(\text{HSO}_4^-/\text{SO}_2) = -0,5 \text{ V} - (-0,14 \text{ V}) = -0,36 \text{ V}$ .

19.7 a) Le courant est non nul donc on a réaction. Il est négatif donc on a une réduction. La seule réduction proposée est  $\text{H}^+ \rightarrow \text{H}_2$ .

19.7 b) Le courant est nul donc absence de réaction. Pour un palier, la cinétique est limitée toutefois une réaction est observée. Le courant est donc non nul.

**19.7 c)** Le courant est non nul donc une réaction se déroule. Il est positif donc on a une oxydation. La seule réduction proposée est  $\text{H}_2\text{O} \rightarrow \text{O}_2$ .

**19.7 d)** On ne peut observer que les couples dont les potentiels que l'on suppose voisin du potentiel standard se trouve entre les « murs du solvant » donc entre  $-0,25\text{ V}$  et  $1,5\text{ V}$ .

**19.7 e)** D'après la question précédente, on ne peut pas observer les couples (c) et (d). Le couple est visiblement rapide et on n'observe pas de palier de diffusion en oxydation. C'est donc un métal qui s'oxyde. La seule réponse possible est donc (a).

**19.8 a)** Les seules espèces qui ne sont pas soumises au phénomène de diffusion sont le solvant ( $\text{H}_2\text{O}$  et  $\text{H}^+$ ) et le métal constituant l'électrode. Dans la liste seul  $\text{Cu}^{2+}$  peut être soumis au phénomène de diffusion.

**19.8 b)** Le courant de diffusion est lu au niveau du palier horizontal sur la courbe  $i-E$  :  $i_{\text{diff}} = -0,3\text{ mA}$ .

**19.8 c)** Si on dilue la solution d'un facteur 10 alors [réactif] est divisé par 10 donc  $i_{\text{diff}}$  également d'après la relation  $i_{\text{diff}} = nKS[\text{réactif}]$ .

**19.9 a)** Le courant est positif donc on a une oxydation. De plus, on a un palier de diffusion donc ce ne peut pas être l'oxydation du solvant. La réponse est  $2\text{Cl}^- \rightarrow \text{Cl}_2 + 2\text{e}^-$ .

**19.9 b)** L'autre oxydation possible est l'oxydation de l'eau qui est le solvant. De plus, on n'observe pas de palier de diffusion. La réponse est  $2\text{H}_2\text{O} \rightarrow \text{O}_2 + 4\text{H}^+ + 4\text{e}^-$ .

**19.10 b)** La flèche  $\text{IO}_3^- \rightarrow \text{I}_2$  correspond à la réaction de réduction de  $\text{IO}_3^-$  en  $\text{I}_2$ . Cette réaction s'observe sur la partie cathodique de la courbe. En partant du potentiel à l'abandon  $E_{\text{ab}} = E(\text{IO}_3^-/\text{I}_2) = 1,19\text{ V}$ , le courant cathodique devient non nul pour  $E < 0,93\text{ V}$ . La partie de la courbe correspondant à la réduction de  $\text{IO}_3^-$  en  $\text{I}_2$  est donc la partie (3).

**19.10 c)** La flèche  $\text{I}_2 \rightarrow \text{IO}_3^-$  correspond à la réaction d'oxydation de  $\text{I}_2$  en  $\text{IO}_3^-$ . Cette réaction s'observe sur la partie anodique de la courbe. En partant du potentiel à l'abandon  $E_{\text{ab}} = E(\text{IO}_3^-/\text{I}_2) = 1,19\text{ V}$ , le courant anodique devient non nul pour  $E > 1,34\text{ V}$ . La partie de la courbe correspondant à l'oxydation de  $\text{I}_2$  en  $\text{IO}_3^-$  est donc la partie (6).

**19.10 d)** Les paliers de diffusion s'observent sur les parties (2) et (7).

**19.10 e)** Sans information, on fait l'approximation  $E = E^\circ$  pour le couple  $\text{IO}_3^-/\text{I}_2$ . Le surpotentiel (ou surtension) anodique est égal à  $1,34\text{ V} - 1,19\text{ V} = 0,15\text{ V}$ .

**19.10 f)** Sans information, on fait l'approximation  $E = E^\circ$  pour le couple  $\text{IO}_3^-/\text{I}_2$ . Le surpotentiel (ou surtension) cathodique est égal à  $0,93\text{ V} - 1,19\text{ V} = -0,26\text{ V}$ .

**19.10 g)** Ce sont les murs du solvant ou fronts du solvant. Les deux expressions sont couramment utilisées. Le solvant est ici l'eau.

## Fiche n° 20. Phénomène de corrosion

### Réponses

- 20.1 a) .....  (b)
- 20.1 b) .....  (b)
- 20.1 c) .....  (a)
- 20.1 d) .....
- 20.1 e) .....
- 20.2 a) .....
- 20.2 b) .....  (a)
- 20.2 c) .....  (e)
- 20.2 d) .....
- 20.2 e) .....
- 20.3 a) .....  (c)
- 20.3 b) .....
- 20.3 c) .....  (d)
- 20.3 d) .....
- 20.4 a) .....  (b)
- 20.4 b) .....  (b)
- 20.4 c) .....  (c)
- 20.4 d) .....  (b), (d)
- 20.5 a) .....
- 20.5 b) .....
- 20.5 c) ....
- 20.5 d) .....  (a)
- 20.5 e) .....  (a)
- 20.6 a) .....
- 20.6 b) .....
- 20.6 c) .....
- 20.6 d) .....
- 20.6 e) .....  (a)
- 20.6 f) .....
- 20.7 a) .....
- 20.7 b) .....  (a)
- 20.7 c) .....  (b)
- 20.7 d) .....
- 20.7 e) .....  (d)
- 20.8 a) .....
- 20.8 b) .....
- 20.8 c) .....
- 20.8 d) .....
- 20.8 e) .....
- 20.9 a) .....
- 20.9 b) .....
- 20.9 c) .....  (d)
- 20.10 a) .....
- 20.10 b) .....  (b)
- 20.10 c) .....



## Corrigés

**20.1 a)** Le courant circule de l'électrode de cuivre vers l'électrode de zinc. Les électrons sont donc produits au niveau de l'électrode de zinc et migrent vers l'électrode de cuivre pour y être consommés.

**20.1 b)** La cathode est donc l'électrode de cuivre, lieu de la réduction : on a  $\text{Cu}^{2+} + 2 \text{e}^- = \text{Cu}$ .

**20.1 c)** Le sens du courant permet de comprendre que le zinc s'oxyde. Nous observerons la réaction suivante :  $\text{Zn} = \text{Zn}^{2+} + 2 \text{e}^-$ .

**20.1 d)** D'après la définition du courant, on a  $I = \frac{Q}{\tau}$  et donc  $Q = I \times \tau = 100 \times 10^{-6} \text{ A} \times 10 \times 60 \text{ s} = 60 \text{ mC}$ .

**20.1 e)** La seule réaction se produisant est  $\text{Zn} + \text{Cu}^{2+} = \text{Zn}^{2+} + \text{Cu}$ .

Au cours de cette réaction, lorsque deux moles d'électrons sont échangées entre les deux couples rédox, une mole de zinc est consommée.

Durant le temps  $\tau$ ,  $n = \frac{Q}{\mathcal{F}}$  moles d'électrons sont échangés. Donc la masse de zinc consommée est :  $m = M_{\text{Zn}} \frac{Q}{2\mathcal{F}}$ .

On trouve finalement :  $m = 65,4 \text{ g} \cdot \text{mol}^{-1} \times \frac{60 \times 10^{-3} \text{ C}}{2 \times 96\,500 \text{ C} \cdot \text{mol}^{-1}} = 0,20 \text{ } \mu\text{g}$ .

**20.2 a)** Il s'agit d'une courbe à courant positif, donc d'une oxydation. Le couple à considérer est donc celui dans lequel l'eau est le réducteur, c'est-à-dire  $\text{O}_2/\text{H}_2\text{O}$ .

**20.2 c)** La demi-équation du couple s'écrit :  $\text{O}_2 + \text{H}^+ + 4 \text{e}^- = 2 \text{H}_2\text{O}$ . On déduit

$$E_{\text{N}} = E^\circ + \frac{0,06}{4} \log \frac{(p_{\text{O}_2}/p^\circ) ([\text{H}^+]/c^\circ)^4}{1^2}.$$

**20.2 d)** Le calcul conduit à  $E_{\text{N}} = 0,99 \text{ V}$ .

**20.2 e)** On a  $\eta_a = 1,35 \text{ V} - E_{\text{N},\text{O}_2/\text{H}_2\text{O}} = 0,36 \text{ V}$ .

**20.3 b)** Dressons le tableau d'avancement pour la réaction d'oxydoréduction considérée :

	$2 \text{Fe} + \text{O}_2 + 4 \text{H}^+ = 2 \text{Fe}^{2+} + 2 \text{H}_2\text{O}$				
<b>État initial</b>	$n_1$	$n_2$	$n_3$	0	/
<b>après un temps <math>\tau</math></b>	$n_1 - 2\xi$	$n_2 - \xi$	$n_3 - 4\xi$	$2\xi$	/

où  $n_1$ ,  $n_2$  et  $n_3$  sont des quantités de matière à l'instant initial.

Au bout du temps  $\tau$ , la masse restante de Fe est  $m'_1 = \frac{45}{100} m_1$ .

À la lecture du tableau d'avancement, nous avons :  $n'_1 = n_1 - 2\xi$  ce qui peut s'écrire sous la forme :

$$m'_1 = M_{\text{Fe}} n'_1 = M_{\text{Fe}} (n_1 - 2\xi) = m_1 - 2M_{\text{Fe}} \xi.$$

Nous obtenons ainsi :  $2M_{\text{Fe}} \xi = \frac{100 - 45}{100} m_1$ . Finalement  $\xi = \frac{55}{200} \frac{m_1}{M_{\text{Fe}}} = \frac{55 \times 1 \times 10^{-3} \text{ g}}{200 \times 55,8 \text{ g} \cdot \text{mol}^{-1}} = 5 \times 10^{-6} \text{ mol}$ .

**20.3 c)** On a  $\text{Fe} = \text{Fe}^{2+} + 2 e^-$ . Au bout d'un temps  $\tau$ ,  $2\xi$  moles de fer sont consommées. Il y a donc  $4\xi$  moles d'électrons échangées.

**20.3 d)** D'après les questions précédentes,  $Q = 4\xi \mathcal{N}_A e = 4\xi \mathcal{F} = 4 \times 5 \times 10^{-6} \text{ mol} \times 96\,500 \text{ C} \cdot \text{mol}^{-1} = 1,9 \text{ C}$ .

**20.4 a)** Il n'existe aucun domaine commun entre Al et  $\text{H}_2\text{O}$ , donc Al n'est jamais stable dans l'eau.

**20.4 b)** La passivation se fait toujours sous forme d'oxyde solide, les ions ne sont pas des espèces passivantes car ils ne peuvent pas rester accrochés en surface du métal et le protéger de la corrosion.

**20.4 c)** En milieu acide, l'espèce stable est l'ion  $\text{Al}^{3+}$ . L'aluminium passe en solution, la plaque va donc se dissoudre progressivement.

**20.4 d)** En milieu neutre ou légèrement basique, l'espèce stable est le solide  $\text{Al}_2\text{O}_3$ , qui peut rester accroché en surface et protéger la plaque : c'est la passivation. Une partie de l'aluminium est néanmoins consommée pour former l'oxyde.

**20.5 a)** Le zinc s'oxyde sous l'action du dihydrogène. Il va donc se corroder.

**20.5 b)** Le dioxygène se réduit en  $\text{HO}^-$ .

**20.5 c)** La réaction de réduction du dioxygène s'écrit :  $\text{O}_2 + 2 \text{H}_2\text{O} + 4 e^- = 4 \text{HO}^-$ .

La réaction d'oxydation du zinc s'écrit :  $\text{Zn} = \text{Zn}^{2+} + 2 e^-$ .

La réaction d'oxydoréduction est donc :  $2 \text{Zn} + \text{O}_2 + 2 \text{H}_2\text{O} = 2 \text{Zn}^{2+} + 4 \text{HO}^-$ .

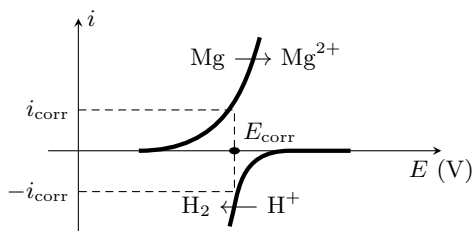
**20.5 d)** La production de  $\text{HO}^-$  assure une augmentation du pH.

**20.6 a)** Il y a deux électrons échangés, donc la loi de Nernst s'écrit  $E_{\text{Mg}^{2+}/\text{Mg}} = E_{\text{Mg}^{2+}/\text{Mg}}^\circ + \frac{0,06}{2} \log \left( \frac{[\text{Mg}^{2+}]}{c^\circ} \right)$ .

**20.6 c)** La loi de Nernst s'écrit

$$E_{\text{H}^+/\text{H}_2} = E_{\text{H}^+/\text{H}_2}^\circ + \frac{0,06}{2} \log \frac{[\text{H}^+]^2 / (c^\circ)^2}{p_{\text{H}_2} / p^\circ} = E_{\text{H}^+/\text{H}_2}^\circ - 0,06 \text{ pH} - 0,03 \log \frac{p_{\text{H}_2}}{p^\circ}.$$

**20.6 e)** Le couple  $\text{Mg}^{2+}/\text{Mg}$  est rapide alors que le couple  $\text{H}^+/\text{H}_2$  est lent, c'est donc sur la courbe de ce dernier que doit se retrouver le surpotentiel, ce qui élimine la proposition (b). L'intensité est toujours une fonction croissante du potentiel, ce qui élimine la proposition (c). Un courant d'oxydation (courant anodique) est toujours positif. Notons que dans notre cas, le magnésium est oxydé ( $E_{\text{H}^+/\text{H}_2} > E_{\text{Mg}^{2+}/\text{Mg}}$ ), ce qui élimine la proposition (d). Le bon diagramme est donc celui de la proposition (a).



20.6 f)

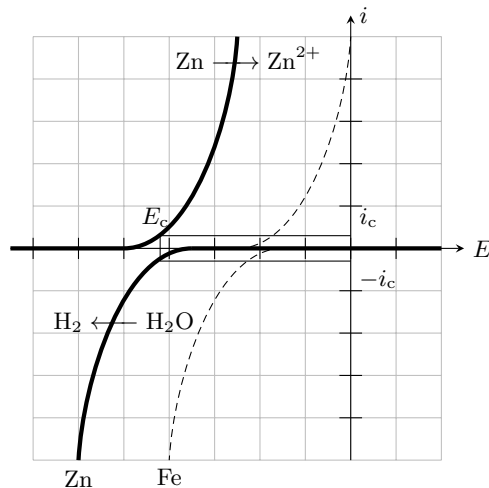
20.7 a) Le métal le plus facilement corrodable (c'est-à-dire susceptible d'être oxydé) d'un point de vue thermodynamique est le réducteur le plus fort, donc celui de potentiel standard le plus faible, soit ici le zinc.

Dans cette question, les courbes à considérer sont d'une part  $\text{Zn} \rightarrow \text{Zn}^{2+}$  et d'autre part  $\text{H}_2\text{O} \rightarrow \text{H}_2$  sur Zn, les seules représentées en trait plein sur la figure ci-contre.

20.7 b)

On lit graphiquement

$$E_c \approx -0,85 \text{ V} \quad \text{et} \quad i_c \approx 2 \text{ mA.}$$

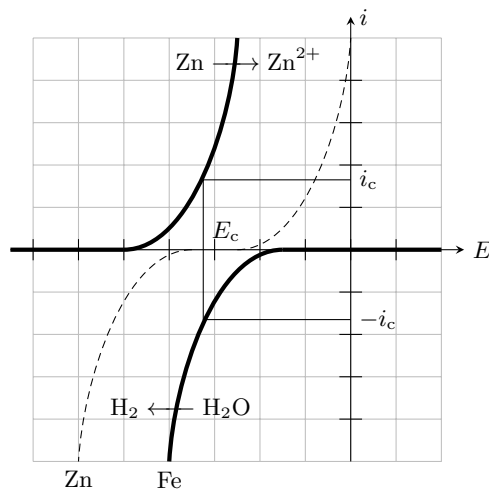


Les courbes à considérer sont cette fois d'une part  $\text{Zn} \rightarrow \text{Zn}^{2+}$  et d'autre part  $\text{H}_2\text{O} \rightarrow \text{H}_2$  sur Fe, comme indiqué sur la figure ci-contre.

20.7 c)

On lit graphiquement

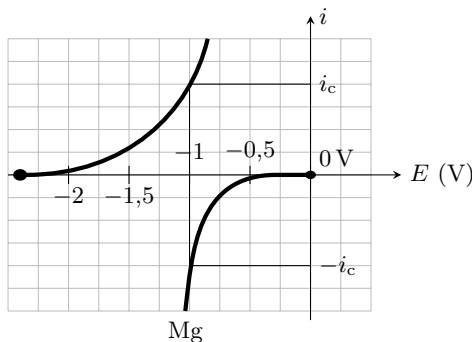
$$E_c \approx -0,65 \text{ V} \quad \text{et} \quad i_c \approx 18 \text{ mA.}$$



20.7 d) La réduction de l'eau est beaucoup plus rapide sur le fer, c'est donc là qu'elle a (majoritairement) lieu.

20.7 e) Les électrons sont libérés du côté zinc de la jonction, car c'est Zn qui est oxydé, et consommés du côté fer, car c'est là que  $\text{H}_2\text{O}$  est réduite. Ainsi, ils se déplacent globalement du zinc vers le fer.

20.8 b) Le potentiel pour lequel les courants sont égaux en valeur absolue est  $E_c = -1 \text{ V}$ .



20.8 c) La demi-équation électronique s'écrit  $2\text{H}^+ + 2\text{e}^- = \text{H}_2$ , il faut donc échanger 2 moles d'électrons pour former 1 moles de dihydrogène. Ainsi, pour la formation de  $n$  moles de  $\text{H}_2$  il faut  $2n$  moles d'électrons d'où une charge totale  $2n\mathcal{F}$ .

20.8 d) D'après l'équation d'état des gaz parfaits, la quantité de matière de dihydrogène formée est

$$n = \frac{PV}{RT} = \frac{1 \times 10^5 \text{ Pa} \times 1 \times 10^{-6} \text{ m}^3}{8,3 \text{ J} \cdot \text{mol}^{-1} \cdot \text{K}^{-1} \times 298 \text{ K}} = 4,0 \times 10^{-5} \text{ mol},$$

ce qui donne une charge échangée :  $Q = 2n\mathcal{F} = 2 \times 4,0 \times 10^{-5} \text{ mol} \times 9,65 \times 10^4 \text{ C} \cdot \text{mol}^{-1} = 7,8 \text{ C}$ .

20.8 e) Nous obtenons :  $i = \frac{Q}{\Delta t} = \frac{7,8 \text{ C}}{600 \text{ s}} = 13 \text{ mA}$ .

20.9 a) Le nombre d'oxydation du fer sous sa forme réduite Fe est nul. Celui du fer sous sa forme d'oxyde  $\text{Fe}(\text{OH})_2$  est +II. Nous en déduisons :  $\alpha = 2$ .

20.9 b) Dressons le tableau d'avancement pour la réaction d'oxydoréduction considérée :

	$\text{Fe} + \frac{1}{2}\text{O}_2 + \text{H}_2\text{O} = \text{Fe}(\text{OH})_2$		
<b>État initial</b>	$n_1$	$n_2$	0
<b>À l'instant <math>t</math></b>	$n_1 - \xi$	$n_2 - \frac{\xi}{2}$	$\xi$

où  $n_1$  et  $n_2$  sont les quantités de matière à l'instant initial.

On a  $n_1 = \frac{m_0}{M_{\text{Fe}}}$  et à l'instant  $t$  :  $n_1' = \frac{m(t)}{M_{\text{Fe}}} = n_1 - \xi$ . On a donc  $m(t) = M_{\text{Fe}}(n_1 - \xi) = m_0 - M_{\text{Fe}}\xi$ . Ainsi,

$$\frac{dm}{dt} = -M_{\text{Fe}} \frac{d\xi}{dt}.$$

20.10 a) À l'aide de la définition du courant de corrosion, on a  $\int_0^\tau dt = \int_0^{\xi_f} \frac{2\mathcal{F}}{i_{\text{corr}}} d\xi$ , ce qui conduit à :  $\tau = \frac{2\mathcal{F}}{i_{\text{corr}}} \xi_f$ .

Au bout du temps  $\tau$ , une masse  $m_0$  de cuivre est consommée. On a donc  $\xi_f = \frac{m_0}{M_{\text{Cu}}}$  et donc  $\tau = \frac{2\mathcal{F}m_0}{i_{\text{corr}}M_{\text{Cu}}}$ .

**20.10 b)** La masse de cuivre corrodé est  $m_0 = \rho_{\text{Cu}} S(e_1 - e_2)$ . Le temps  $\tau$  vérifie :

$$\begin{aligned}\tau &= \frac{2\mathcal{F}}{i_{\text{corr}} M_{\text{Cu}}} \rho_{\text{Cu}} S(e_2 - e_1) \\ &= \frac{2 \times 96\,500 \text{ C} \cdot \text{mol}^{-1}}{65 \times 10^{-6} \text{ A} \times 63,5 \text{ g} \cdot \text{mol}^{-1}} \times 8,96 \text{ g} \cdot \text{cm}^{-3} \times 2 \text{ cm}^2 \times (0,500 \text{ cm} - 0,498 \text{ cm}) \\ &= 16,75 \times 10^5 \text{ s}.\end{aligned}$$

Le temps  $\tau$  correspond donc à 19 jours et 10 heures.

.....

**20.10 c)** On a  $\tau = 1 \times 3\,600 \text{ s} + 45 \times 60 \text{ s} = 6\,300 \text{ s}$

$$\begin{aligned}\tau &= \frac{2\mathcal{F}}{i_{\text{corr}} M_{\text{Cu}}} m_0 \\ M_{\text{Cu}} &= \frac{2\mathcal{F}}{i_{\text{corr}} \tau} m_0 \\ M_{\text{Cu}} &= \frac{2 \times 96\,500 \text{ C} \cdot \text{mol}^{-1}}{55 \times 10^{-6} \text{ A} \times 6\,300 \text{ s}} \times 0,1 \times 10^{-3} \text{ g} \\ &= 55,8 \text{ g} \cdot \text{mol}^{-1} \neq 63,5 \text{ g} \cdot \text{mol}^{-1}\end{aligned}$$

L'électrode n'est donc pas en cuivre.

.....